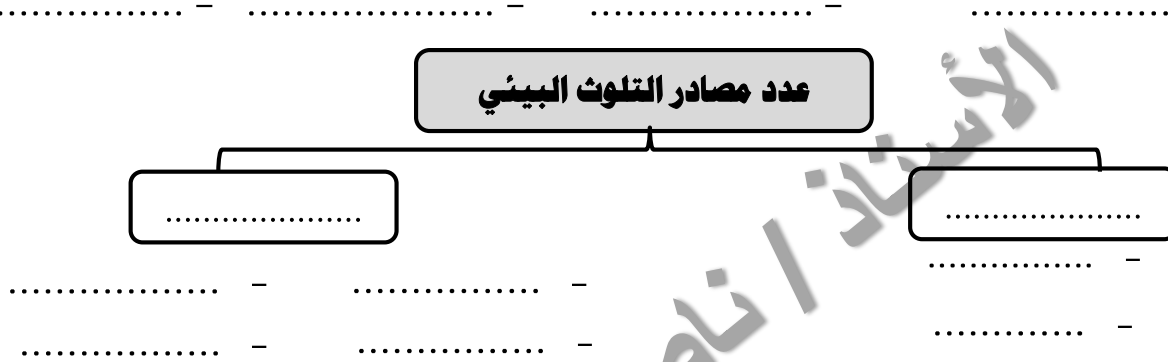


الوحدة الثالثة: العالم الإسلامي تحديات وحلول

التلوث البيئي

- عرف ((التلوث البيئي)):.....
- أذكر أنواع التلوث البيئي.



- ما النتائج المترتبة على : تعرض عناصر البيئة الطبيعية من (هواء وماء وتربة) للتلوث.

- فرق بين سلوكيات الأفراد والمجتمعات الإيجابية والسلبية تجاه البيئة الطبيعية. ((نشاط بالكتاب))

السلوكيات السلبية	السلوكيات الإيجابية
- الإسراف في استخدام المياه والكهرباء.	- ترشيد استخدام المياه والكهرباء.
- الإسراف في قطع الأشجار والنباتات البرية.	- الحفاظ على النباتات البرية.
- إزالة المناطق الخضراء والرعي الجائر.	- إقامة المساحات الخضراء.
- رمي النفايات على الأرض وبالأماكن العامة.	- تدوير النفايات.



- لاحظ الصورة المقابلة ثم أجب عما يليها من أسئلة : ((نشاط بالكتاب))

1. ما اسم الجهاز الرقابي الذي تعبر عنه الصورة المقابلة ((شرطة البيئة))
2. في أي عام تم تأسيس هذا الجهاز ((٢٠١٥)) م
3. أمير البلاد الذي أنشاء هذا الجهاز يسمى الشيخ ((صباح الاحمد الصباح))
4. ما هو دور هذا الجهاز: ((مراقبة وضبط الافعال والتصرفات التي تشكل انتهاكاً للبيئة وتحرير الحاضر بشأنها))
5. عدد أهم إنجازات هذا الجهاز: ((ضبط ١٥٥٠ مخالفة بيئية خلال عام - إقامة العديد من حملات التوعية))

أ: التلوث الهوائي

• برهن أو دلي أو أعط أمثله على تعرض بعض دول العالم الإسلامي للتلوث الهوائي.

- باكستان:

- ماليزيا:

• علل : للتلوث الهوائي أثر سلبي على البيئة وصحة الإنسان ؟

• أو عدد الآثار السلبية للتلوث الهوائي .

• ماذا يحدث لو ، أو ما النتائج المترتبة على : تعرض منطقة زراعية ما لحريق هائل .

((نشاط بالكتاب))

• ما هي مقترحاتك للحد من تفاقم مشكلة تلوث الهواء في دول العالم الإسلامي

- استخدام الطاقة البديلة .
- التوسع في زراعة الأشجار .
- تدوير النفايات
- استخدام الوقود قليل التلوث .
- وضع أجهزة لعوادم السيارات .
- تخطيط المواصلات .

• أكمل الجمل التالية بما يناسبها :

١. الغاز الجوي الذي يرمز له بالرمز O₂ يسمى ((.....))
٢. الغاز الجوي الذي يرمز له بالرمز CO₂ يسمى ((.....))
٣. الدولة الإسلامية الذي بلغ فيها نسبة التلوث الهوائي ٤٠% بسبب عوادم السيارات تسمى ((.....))
٤. الدولة الإسلامية التي يمثل التلوث الهوائي فيها خطراً على الشعب نظراً للتلوث الضبابي تسمى ((.....))

ب: التلوث المائي

• بم تفسر: التلوث المائي من أخطر أشكال التلوث البيئي ؟

• **برهن أو دلي أو أعط أمثله على تعرض بعض دول العالم الإسلامي للتلوث المائي.**

- الكويت:

- الكويت:

- موريتانيا:

• **علل : للتلوث المائي أثر سلبي على البيئة وصحة الإنسان ؟**

• **أو عدد الآثار السلبية للتلوث المائي .**

« نشاط بالكتاب »

• **ماذا يحدث لو : تسرب النفط من إحدى ناقلات النفط إلى المسطحات المائية .**

- يؤدي ذلك إلى تكون بقع زيتية تعمل على حجب أشعة الشمس والأكسجين مما يؤدي إلى نفوق الاسماك .
- وتلويث الشعاب المرجانية بمشتقات النفط .

ج: التلوث الضوضائي

• **فرق بين أسباب ونتائج التلوث الضوضائي.**

مخاطر التلوث الضوضائي	أسباب التلوث الضوضائي
..... - -
..... - -
..... - -

• **أعط مثالاً لأحدى مدن العالم الإسلامي التي تعاني من التلوث الضوضائي.**

- القاهرة:

• **أكمل الجمل التالية بما يناسبها:**

- الدولة التي ضخّت منها مياه المجاري للخليج العربي وتسببت في نفوق الاسماك عام ٢٠٠١ م تسمى ((.....))
- الدولة الإسلامية التي تعرضت للتلوث المائي نتيجة لتسرب كميات كبيرة من بقع الزيت من البواخر تسمى ((.....))
- المدينة الإسلامية التي تمثل نموذجاً للتلوث الضوضائي لوجود عدد كبير من السيارات بها تسمى ((.....))
- الإزعاج أو الضجيج يمثل أحد أنواع التلوث البيئي الذي يعرف باسم ((.....))

د : تلوث التربة

- عرف ((التصحّر)) :
- بم نفسر: نعتبر التربة عنصراً هاماً من عناصر البيئة الطبيعية ؟
..... -
- فرق بين أسباب ونتائج تلوث التربة.

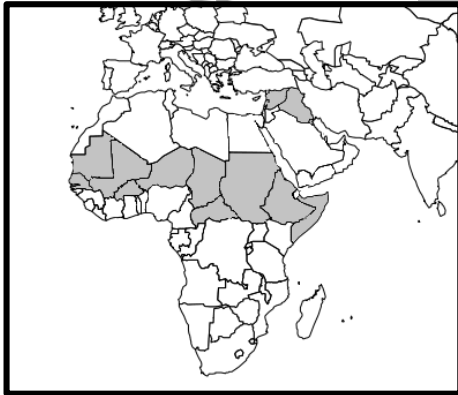
نتائج تلوث التربة	أسباب تلوث التربة
..... - -
..... - -
..... - -

- ما هي مقترحاتك (دورك) في الحفاظ على البيئة النباتية والتربة من التدهور والتوث. ((نشاط بالكتاب))

- منع استخدام المبيدات الحشرية
- عدم إلقاء ودفن المخلفات في التربة .
- استخدام الوسائل والتقنيات الحديثة في الزراعة.
- توعية المزارعين بأهمية الحفاظ على التربة.

- ظلل دول العالم الإسلامي التي يتراوح

فيها نسبة التصحر من ١٠٪ إلى ٥٠٪ ((نشاط))



• ظلل دول العالم الإسلامي التي يصل

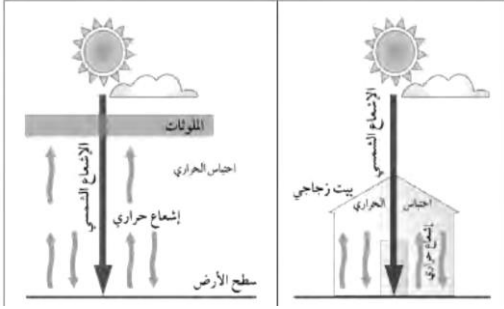
فيها نسبة التصحر ٩٠٪ ((نشاط))



- أكمل الجمل التالية بما يناسبها :

١. العام الذي عقد فيه مؤتمر الأمم المتحدة للتصحّر ((.....)) م
٢. نسبة التصحر في مصر وجيبوتي ودول الخليج العربي عدا سلطنة عمان تقدر بنحو ((.....)) %
٣. نسبة التصحر في كل من لبنان وسوريا والسودان والعراق تتراوح بين ((..... إلى)) %

تحديات بيئة أحرى ((أ: الاحتباس الحراري))



• ما اسم الظاهرة المناخية التي يمثلها الشكل المقابل ((.....))

• عرف الظاهرة التي يمثلها الشكل المقابل:

• فرق بين أسباب ونتائج هذه الظاهرة:

نتائج الظاهرة	أسباب الظاهرة
.....
.....
.....

• أكمل الجمل التالية بما يناسبها :

- الغاز الأول المسؤول عن الاحتباس الحراري يسمى ((.....))
- الإعصار الذي ضرب السواحل الشرقية لسلطنة عمان عام ٢٠٠٧ م يسمى ((.....))
- الدولة التي ضرب إعصار جونو سواحلها الشرقية عام ٢٠٠٧ م تسمى ((.....))
- العام الذي تعرضت فيه السواحل الشرقية لسلطنة عمان لإعصار جونو أو غونو ((.....)) م
- الظاهرة التي نتج عنها إعصار جونو أو غونو عام ٢٠٠٧ م تعرف باسم ((.....))

ب: النفايات

• عرف المفاهيم التالية :

• ((النفايات)) :

• ((تدوير النفايات)) :

• ماذا يمثل الشعار الذي أمامك ((.....)) ←

• علل : زيادة كمية المخلفات الصناعية والمنزلية في وقتنا الحالي؟

..... -

• ما النتائج المترتبة على : زيادة المخلفات بجميع حالتها الصلبة والسائلة والغازية.

..... -

العالم الإسلامي في مواجهة التحديات البيئية

- عرف ((التنمية المستدامة))
- دليل أو برهن أو أعط أمثله على سعي الدول الإسلامية لتحقيق التنمية المستدامة.
- أو عدد برامج التنمية المستدامة في دولة الكويت والسعودية ومصر.
- الكويت:
- الكويت:
- الكويت:
- السعودية:
- السعودية:
- مصر:



- لاحظ الصورة المقابلة ثم أجب عما يليها من أسئلة : ((نشاط بالكتاب))

١. ما نوع الطاقة المستخدمة في الصورة المقابلة ((الطاقة الشمسية))

٢. لماذا تستخدم دولة الكويت هذا النوع من الطاقة؟

- طاقة نظيفة لا ينتج عنها ملوثات.

- طاقة دائمة محلية.

- أكمل الجمل التالية بما يناسبها :

١. العام الذي قامت فيه الكويت بتشغيل أول محطة كهرباء تعمل بالطاقة الشمسية ((.....)) م

٢. المنطقة التي من المتوقع إن تنشأ فيها الكويت مشروع رائد لإنتاج ٧٠ ميغاوات من الكهرباء تسمى ((.....))

٣. نسبة الطاقة الكهربائية التي تخطط الكويت توليدها من الطاقة المتجددة من إجمالي احتياجها بحلول عام ٢٠٣٠م ((.....)) %

٤. الدولة العربية التي تخطط لتوليد الطاقة الكهربائية بالطاقة الشمسية لكافة مناطقها بحلول ٢٠٤٠م تسمى ((.....))

٥. الدولة العربية الإسلامية التي قامت بتشغيل مدرسة بالطاقة الشمسية تسمى ((.....))

التحديات الاقتصادية التي تواجه دول العالم الإسلامي

أ: الانفجار السكاني

- عرف ((الانفجار السكاني))
- عدد أهم التحديات الاقتصادية التي تواجه دول العالم الإسلامي.
..... -
- علل : ظهور المشكلة السكانية في بعض دول العالم الإسلامي.
..... -
- ما النتائج المترتبة على : زيادة عدد السكان في دولة الكويت عبر السنوات القادمة . ((نشاط بالكتاب))
- حدوث انفجار سكاني يتسبب في عدم التوازن بين السكان والموارد المتاحة.
- ما هي مقترحاتك تجاه مشكلة الانفجار السكاني . ((نشاط بالكتاب))
- تنظيم الأسرة - التنمية الاقتصادية - إنشاء مدن سكنية جديدة.

ب : الفقر

- عرف المفاهيم التالية :
((الفقر)) :
.....
((خط الفقر)) :
.....
- عدد أسباب مشكلة الفقر في بعض دول العالم الإسلامي
..... -
- ما هي مقترحاتك تجاه مشكلة الفقر في بعض دول العالم الإسلامي . ((نشاط بالكتاب))
- تأمين فرص عمل للشباب . - استغلال موارد الدولة . - تشجيع المشاريع الصغيرة - دعم الدولة للخدمات
- أكمل الجمل التالية بما يناسبها :
 - ١ . عدد سكان دولة الكويت يقدر بنحو (.....) نسمة
 - ٢ . نسبة السكان الذين يعيشون تحت مستوى خط الفقر في دول العالم الإسلامي يقدر بنحو ((.....)) %
 - ٣ . أعلى دولة في العالم الإسلامي في نسبة الفقر تسمى ((.....))
 - ٤ . نسبة الذين يعانون من الفقر في دولة بنجلاديش من إجمالي عدد السكان يقدر بنحو ((.....)) %
 - ٥ . نسبة الذين يعانون من الفقر في دولة باكستان من إجمالي عدد السكان يقدر بنحو ((.....))

ج : العولمة الاقتصادية

- **عرف ((العولمة))**
- **هل تؤيد أم تعارض العولمة الاقتصادية؟**
- أعارض العولمة الاقتصادية لما لها من مخاطر على اقتصاد الدول الإسلامية فسوف تتركز الأموال في يد القليل من الناس وسوف تساعد الدول الصناعية القوية على السيطرة على الاسواق المحلية وبالتالي ارتفاع أسعار السلع والخدمات.

((نشاط بالكتاب))**د : التكامل الاقتصادي**

- **عرف المفاهيم التالية :**

- **((التكامل الاقتصادي))**
- **((البلدان النامية))**
- **((الدخل القومي))**
- **((الميزان التجاري))**

- **ما النتائج المترتبة على : ضعف الإنتاج الاقتصادي في دول العالم الإسلامي .**

.....

- **عدد عوامل تحقيق التكامل الاقتصادي بين دول العالم الإسلامي.**

.....

.....

((نشاط بالكتاب))

- **عدد معوقات التكامل الاقتصادي بين دول العالم الإسلامي .**

- القيود الجمركية على السلع.
- اختلاف نظام العملة.
- تشابه الإنتاج الزراعي والصناعي والمعدني.
- منافسة الصناعات الاجنبية للصناعات العربية.

- **أكمل الجمل التالية بما يناسبها :**

1. الفرق بين قيمة الصادرات وقيمة الواردات بالدولة يعرف ب ((.....)).
2. الدول التي مازالت أقل تقدماً في ميادين الاقتصاد والعلم والتكنولوجيا تعرف ب ((.....)).
3. مجموع الدخل المكتسب في بلد ما خلال فترة زمنية معينة يعرف ب ((.....))
4. عملية اقتصادية واجتماعية يتم بموجبها إزالة جميع الحواجز بين الوحدات المختلفة يعرف ب ((.....))

التحديات السياسية التي تواجه دول العالم الإسلامي

أ: أزمة الحدود السياسية بين الكويت والعراق

• عرف ((الحدود السياسية)):

• عدد أنواع الحدود السياسية .

مؤتمر العقير	
أهداف المؤتمر	عام الإنعقاد
.....

• علل : انضمام دولة الكويت لإتفاقية الدفاع العربي المشتركة.

• اقرأ الفقرة التالية ثم أجب مما يليها من أسئلة:

((إن الكويت دولة عربية ذات سيادة ومن ورائها يقف شعب الكويت بدعم قيادتها))

– من القائل.....((.....))

– المناسبة.....((.....))

• علل : اعتداء القوات العراقية على مركز الصامته الحدودي عام ١٩٧٣م.

• علل : انسحاب القوات العراقية من مركز الصامته الحدودي.

• دلل أو برهن على استقلالية دولة الكويت أو عدم تبعية دولة الكويت للعراق .

• أكمل الجمل التالية بما يناسبها :

١. العام الذي انعقد فيه مؤتمر العقير بين الكويت والعراق والسعودية ((.....)) م
٢. حاكم العراق الذي عقد مؤتمراً صحفياً عام ١٩٦١م ادعى فيه أن الكويت تابعة للبحرين اسمه ((.....))
٣. العام الذي هاجمت فيه القوات العراقية مركز الصامته الحدودي ((.....))
٤. أمير الكويت الذي وقع في عهده الغزو العراقي لدولة الكويت هو الشيخ ((.....))
٥. اجتاحت القوات العراقية دولة الكويت بتاريخ ((.....))
٦. انسحبت القوات العراقية بالقوة من أراضي دولة الكويت بتاريخ ((.....))
٧. قرار مجلس الأمن الخاص بانسحاب القوات العراقية من الكويت عام ١٩٩١م رقمه ((.....))
٨. قرار مجلس الأمن الخاص بتقسيم الحدود بين الكويت والعراق عام ١٩٩٣م رقمه ((.....))
٩. العام الذي صدر فيه قرار مجلس الأمن رقم (٦٧٨) الخاص بانسحاب القوات العراقية من الكويت ((.....))م
١٠. العام الذي صدر فيه قرار مجلس الأمن رقم (٨٣٣) الخاص بتقسيم الحدود بين الكويت والعراق ((.....))م

ب: قضية فلسطين

• علل : ظهور القضية الفلسطينية عقب الحرب العالمية الأولى.

..... -

• اكتب مما درست عن أهم أحداث القضية الفلسطينية.

- عام ١٩٤٧م:

- عام ١٩٤٨م:

- عام ١٩٦٧م:

• علل : صدور قرار الجمعية للأمم المتحدة رقم (١٨١) تجاه القضية الفلسطينية.

..... -

• اذكر موقف الملك عبد الله بن عبد العزيز تجاه القضية الفلسطينية.

..... -

..... -

• أكمل الجمل التالية بما يناسبها :

١. قرار الجمعية العامة للأمم المتحدة تجاه القضية عام ١٩٤٧م رقمه ((.....))
٢. العام الذي صدر فيه قرار الجمعية العامة للأمم المتحدة تجاه قضية فلسطين ((.....)) م
٣. نسبة الأراضي الفلسطينية التي احتلها اليهود من إجمالي مساحة فلسطين بعد حرب ١٩٤٨م يقدر بحوالي ((.....))%.
٤. العام الذي احتل فيه المعتصب الاسرائيلي غزة والضفة الغربية وسيناء والجولان والقدس الشرقية ((.....)) م
٥. عدد النازحين والمهاجرين من الفلسطينيين في حرب ١٩٤٧م يقدر بنحو ((.....)) فلسطيني
٦. الملك الذي اقترح إنشاء صندوقين (انتفاضة القدس) و (الأقصى) اسمه ((.....))
٧. المدينة التي عقد فيها مؤتمر القمة العربية عام ٢٠٠٠م اسمها ((.....))
٨. الاسم الذي أطلق على القمة العربية في القاهرة عام ٢٠٠٠م هو ((.....))
٩. الدولة التي عقد فيها مؤتمر القمة العربية في يناير عام ٢٠٠٩م تسمى ((.....))
١٠. الاسم الذي أطلق على القمة العربية في الكويت عام ٢٠٠٩م هو قمة ((.....))

مشكلة الأقليات الإسلامية

إقليم أركان

إقليم شينجيانغ أورغور

• عرف المفاهيم التالية :

- ((الأقلية)) :
- ((الأقليات الإسلامية)) :

• اذكر أسباب تكون وظهور الأقليات الإسلامية في بعض دول العالم

..... - -

• اذكر أمثلة لبعض الأقليات الإسلامية في بعض دول العالم

..... -

• اكتب مما درست عن مشكلة الأقليات الإسلامية في إقليم (أركان) وإقليم (شينجيانغ أورغور)

- إقليم (أركان) :

.....

- إقليم (شينجيانغ أورغور) :

.....

• عدد التحديات التي تواجه الأقليات الإسلامية حول العالم.

..... -

..... -

..... -

• اذكر الحلول الإسلامية والدولية المقترحة للتحديات التي تواجه الأقليات الإسلامية.

..... -

• أكمل الجمل التالية بما يناسبها :

- ١ . الإقليم الذي شنت عليه سلطات ميانمار حملات قمعية ضد مسلميه وصلت لحد الإبادة الجماعية اسمه ((.....))
- ٢ . إقليم بغرب الصين عانى مسلميه من طمس لهويتهم الثقافية وحرمانهم من حقوقهم الدينية اسمه ((.....))
- ٣ . عدد المسلمين الذين هربوا من إقليم أركان إلى الدول المجاورة فرارا من الإبادة الجماعية نحو ((.....))

الكويت

الصومال

البوسنة والهرسك

مشكلة الحروب والدمار

• **اذكر أمثلة لبعض نماذج الدول الإسلامية التي تعرضت للحروب والدمار**

..... - -

• **اذكر النتائج المترتبة على الحرب الأهلية في الصومال عام 1991م**

..... -
..... -

• **اقرأ الفقرة التالية ثم أجب عما يليها من أسئلة:**

((الناس تموت هنا ، ويجب على العالم أن يتحرك الآن لوقف هذا))

- من القائل..... ((.....))
- المناسبة..... ((.....))

• **اذكر دور الجيش الكويتي أثناء الغزو العراقي للكويت .**

..... -
..... -

• **أكمل الجمل التالية بما يناسبها :**

١. المعسكر الذي كان مركزاً لاعتقال وتعذيب المدنيين البوسنيين والكروات على يد الصرب اسمه ((.....))
٢. عدد المسلمين الذين تم إبادةهم على يد القوات الصربية يقدر بنحو ((.....)) مسلم
٣. امتدت فترة الحرب البوسنة من عام ١٩٩٢ ميلادياً حتى عام ((.....)) م
٤. العام الذي اندلعت فيه الحرب الأهلية الصومالية ((.....)) م
٥. الجمعية الخيرية الكويتية التي قدمت مساعدات إنسانية للشعب الصومالي اسمها ((.....))
٦. عدد آبار النفط الكويتية المشتعلة على يد القوات العراقية البائدة بلغ نحو ((.....)) بئراً
٧. خبير مكافحة الحرائق الذي تنبأ بأن تمتد فترة إخماد الآبار الكويتية المشتعلة لخمس سنوات اسمه ((.....))
٨. عدد الأيام التي تم استغراقها فعلياً لإطفاء الآبار النفطية الكويتية المشتعلة حوالي ((.....)) يوماً
٩. تم البدء فعلياً في إطفاء الآبار النفطية الكويتية المشتعلة بتاريخ ((.....))
١٠. تم الإنتهاء فعلياً في إطفاء آخر بئر كويتي نفطي مشتعل بتاريخ ((.....))
١١. العملية العسكرية التي شنتها قوات التحالف لتحرير الكويت اسمها ((.....))

مشكلة الأمية

مشكلة إدمان المخدرات

التحديات الاجتماعية والثقافية

• عدد آثار المخدرات والإدمان على الإنسان

..... - -

• اذكر أشهر العقاقير المخدرة التي يتعاطها المدمنين ويصعب علاج متعاطيه.

..... -

• عدد أسباب اتجاه الشباب لتعاطي وإدمان المخدرات .

..... -

..... -

((نشاط بالكتاب))

• اذكر طرق علاج الإدمان .

- إيقاف المخدرات في الحال.
- الابتعاد عن ممارسات الحياة القديمة.
- العلاج في مراكز طبية متخصصة.
- ممارسة الأنشطة والهويات.

• فرق بين مفهوم الأمية في البلدان الإسلامية والنامية والبلدان المتقدمة .

الأمية في اليابان و البلدان المتقدمة	الأمية في البلدان الإسلامية و النامية
..... - -
..... - -

• أكمل الجمل التالية بما يناسبها :

١. أعلى الدول التابعة لمنظمة الإسكوا في معدل إلمام البالغين بالقراءة والكتابة تسمى ((.....)).
٢. نسبة إلمام البالغين بالقراءة والكتابة في دولة قطر عام ٢٠١٥م يقدر بنحو ((.....)) %
٣. نسبة التقدم التي حققتها دول العالم الإسلامي في مجال محو الأمية عام ٢٠١٣م بلغت نحو ((.....)) %
٤. أعلى الدول الإسلامية في نسب محو أمية الكبار تسمى ((.....)).
٥. الدولة الإسلامية الثانية من حيث نسب محو أمية الكبار تسمى ((.....)).

الوحدة الرابعة: منظمة التعاون الإسلامي

• عرف المفاهيم التالية :

- ((الدولة الإسلامية)) :
- ((منظمة التعاون الإسلامي)) :

• بم تفسر: إنشاء منظمة التعاون الإسلامي ؟

..... -

• عدد مبادئ منظمة التعاون الإسلامي

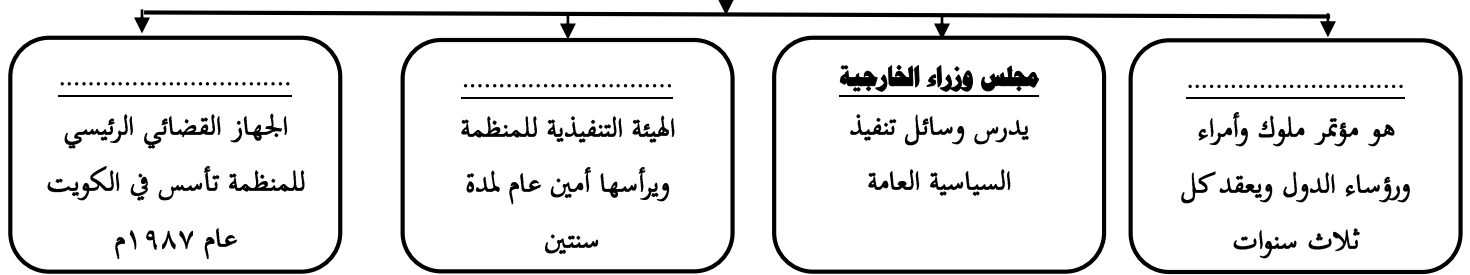
..... -

عدد أهداف منظمة التعاون الإسلامي		
الأهداف الثقافية والاجتماعية	الأهداف الاقتصادية	الأهداف السياسية
..... - - -
..... - - -
..... - - -

• أكمل الجمل التالية بما يناسبها :

١. العام الذي عقدت فيه القمة العربية الثالثة ((.....)) م
٢. العام الذي تم فيه إحراق المسجد الأقصى على يد المحتل الإسرائيلي ((.....)) م
٣. الدولة الإسلامية التي يوجد بها مقر منظمة التعاون الإسلامي تسمى ((.....))
٤. المدينة التي يوجد بها مقر منظمة التعاون الإسلامي تسمى ((.....))
٥. الدولة الإسلامية التي تأسست فيها منظمة التعاون الإسلامي تسمى ((.....))
٦. المدينة التي تأسست فيها منظمة التعاون الإسلامي تسمى ((.....))
٧. العام الذي تغير فيه مسمى (منظمة المؤتمر الإسلامي) إلى (منظمة التعاون الإسلامي) ((.....)) م
٨. الأمين العام الحالي لمنظمة التعاون الإسلامي يسمى الدكتور ((.....))
٩. الدولة التي ينتمي إليها الأمين الحالي لمنظمة التعاون الخليجي تسمى ((.....))
١٠. العام الذي تقلد فيه الأمين العام الحالي لمنظمة التعاون الخليجي منصبه ((.....)) م






أكمل مخطط الأجهزة التي تتكون منها منظمة التعاون الإسلامي



• قارن بين المؤتمر الإسلامي الأول والخامس والثالث عشر من حيث ما يلي بالجدول التالي

وجه المقارنة	المؤتمر الإسلامي الأول	المؤتمر الإسلامي الخامس	المؤتمر الإسلامي الثالث عشر
عام الإنعقاد	٢٠.....	٢٠.....	٢٠.....
مقر الإنعقاد
سبب الإنعقاد - - - التأكيد على مركزية قضية فلسطين والقدس الشريف.
أهم القرارات - - -
 - - -
 - - -
 - - -

• قارن بين المؤتمر الإسلامي الأول والخامس والثالث عشر من حيث ما يلي بالجدول التالي

وجه المقارنة	وكالة الأنباء الإسلامية (إينا)	البنك الإسلامي للتنمية	المنظمة الإسلامية للعلوم (إيسيسكو)	مجمع الفقه الإسلامي	اللجنة الإسلامية للحلال الدولي
الشعار					
عام التأسيس
مقر المنظمة
اهداف المنظمة - - - - -
 - - - - -
 - - - - -
 - - - - -

• **أكمل الجمل التالية بما يناسبها :**

١. هو مؤتمر ملوك وأمراء ورؤساء الدول ويعقد كل ثلاث سنوات يعرف باسم ((.....))
٢. الهيئة التنفيذية لمنظمة التعاون الإسلامي ويرأسها أمين عام لمدة سنتين تعرف باسم ((.....))
٣. العام الذي انعقد فيه المؤتمر الإسلامي الأول ((.....)) م
٤. المدينة التي انعقد فيها المؤتمر الإسلامي الأول اسمها ((.....))
٥. الدولة الإسلامية التي انعقد فيها المؤتمر الإسلامي الأول تسمى ((.....))
٦. العام الذي انعقد فيه المؤتمر الإسلامي الرابع ((.....)) م
٧. المدينة التي انعقد فيها المؤتمر الإسلامي الرابع اسمها ((.....))
٨. الأمير الراحل الذي دعى الدول الإسلامية لإنعقاد المؤتمر الإسلامي الخامس بالكويت اسمه ((.....))
٩. العام الذي انعقد فيه المؤتمر الإسلامي الثالث عشر ((.....)) م
١٠. المدينة التي انعقد فيها المؤتمر الإسلامي الثالث عشر اسمها ((.....))
١١. الدولة الإسلامية التي انعقد فيها المؤتمر الإسلامي الثالث عشر تسمى ((.....))
١٢. العام الذي تأسست فيه وكالة الأنباء الإسلامية الدولية (إينا) ((.....)) م
١٣. المدينة التي يوجد بها مقر وكالة الأنباء الإسلامية الدولية (إينا) اسمها ((.....))
١٤. العام الذي تأسس فيها البنك الإسلامي للتنمية ((.....)) م
١٥. المدينة التي يوجد بها مقر البنك الإسلامي للتنمية اسمها ((.....))
١٦. العام الذي تأسست فيه المنظمة الإسلامية للتربية والعلوم والثقافة (إيسيسكو) ((.....)) م
١٧. المدينة التي يوجد بها مقر المنظمة الإسلامية للتربية والعلوم والثقافة (إيسيسكو) اسمها ((.....))
١٨. العام الذي تأسس فيه مجمع الفقه الإسلامي ((.....)) م
١٩. المدينة التي يوجد بها مقر مجمع الفقه الإسلامي اسمها ((.....))
٢٠. العام الذي تأسست فيه اللجنة الإسلامية للهلال الأحمر ((.....)) م
٢١. المدينة التي يوجد بها مقر اللجنة الإسلامية للهلال الأحمر اسمها ((.....))

الوحدة الخامسة: دور الكويت في التعايش الإنساني

أولاً : التنوع اللغوي والتعايش

• بم تفسر : التنوع اللغوي بين دول العالم الإسلامي

.....

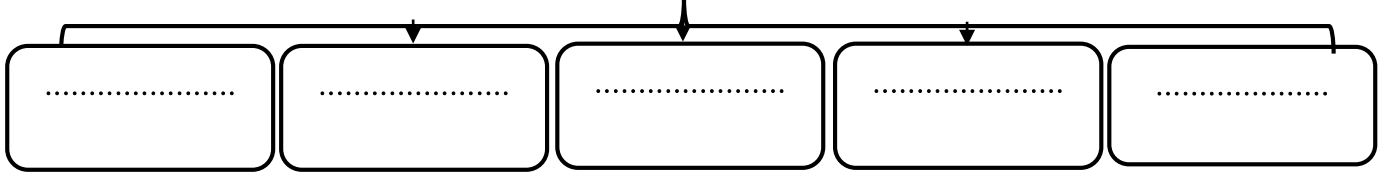
• أكمل الجمل التالية بما يناسبها :

١. عدد اللغات المنتشرة في العالم الإسلامي تزيد عن ((.....)) لغة أصلية
 ٢. نسبة المتحدثون باللغة العربية في دول العالم الإسلامي من إجمالي السكان يتراوح ما بين ((.....)) %
- دلل أو برهن على التعايش بين العالم الإسلامي والديانات والثقافات الأخرى.

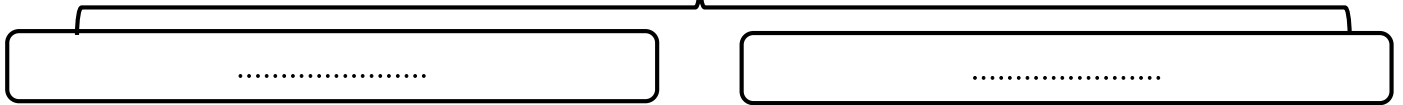
.....

ثانياً : دور الكويت في مساعدة دول العالم الإسلامي


عدد الجهات الحكومية الكويتية التي تشرف على المساعدات الخارجية



عدد الجهات الأهلية الكويتية التي تشرف على المساعدات الخارجية



الصندوق الكويتي للتنمية

الشعار	عام التأسيس	صاحب فكرة التأسيس	أهداف الصندوق
 الصندوق الكويتي للتنمية Kuwait Fund

قارن بين الجمعيات والهيئات الخيرية في دولة الكويت من حيث الجدول التالي			
وجه المقارنة	جمعية الهلال الأحمر	الهيئة الخيرية الإسلامية	بيت الزكاة الكويتي
الشعار			
تعريف المنظمة - - -
عام التأسيس	م.....	م.....	م.....

• عدد اهداف بيت الزكاة الكويتي.

..... -
.....

• أكتب مما درست عن مؤتمر المانحين الذي استضافته دولة الكويت .

..... -
.....

• أكمل الجمل التالية بما يناسبها :

١. عدد اللغات المنتشرة في العالم الإسلامي تزيد عن ((.....)) لغة أصلية
٢. نسبة المتحدثون باللغة العربية في دول العالم الإسلامي من إجمالي السكان يتراوح ما بين ((.....)) %
٣. صاحب فكرة تأسيس الصندوق الكويتي للتنمية يسمى ((.....))
٤. العام الذي تأسس فيه الصندوق الكويتي للتنمية ((.....)) م
٥. العام الذي تأسست فيه جمعية الهلال الأحمر الكويتي ((.....)) م
٦. العام الذي تأسست فيه الهيئة الخيرية الإسلامية العالمية ((.....)) م
٧. العام الذي تأسس فيه بيت الزكاة الكويتي ((.....)) م
٨. العام الذي عقدت فيها القمة الخليجية الثالثة والثلاثون ((.....)) م
٩. المدينة التي عقدت فيها القمة الخليجية الثالثة والثلاثون تسمى ((.....))
١٠. العام الذي استضافت فيه دولة الكويت المؤتمر الأول للمانحين ((.....))

تذكر تواريخ هامة

١

الحادث	العام
- تأسست الهيئة الخيرية الإسلامية العالمية. - انعقاد المؤتمر الإسلامي الرابع.	١٩٨٤م
- اجتياح القوات العراقية لدولة الكويت.	١٩٩٠م
- الحرب الأهلية الصومالية. - انسحاب القوات العراقية من دولة الكويت. - صدر قرار مجلس الأمن رقم (٦٧٨). - البدا في إطفاء الآبار النفطية الكويتية - الإنتهاء فعلياً من إطفاء آخر بئر كويتي	١٩٩١م
- صدر قرار مجلس الأمن رقم (٨٣٣)	١٩٩٣م
- تعرض سلطنة عمان لإعصار جونو أو غونو	٢٠٠٧م
- تغير مسمى (منظمة المؤتمر الإسلامي) إلى (منظمة التعاون الإسلامي)	٢٠١١م
- عقد القمة الخليجية الثالثة والثلاثون	٢٠١٢م
- استضافت الكويت للمؤتمر الأول للمانحين	٢٠١٣م
- تأسيس شرطة البيئة الكويتية	٢٠١٥م
- تعيين الأمين العام الحالي لمنظمة التعاون الخليجي . - انعقاد المؤتمر الإسلامي الثالث عشر	٢٠١٦م
- تشغيل أول محطة كهرباء تعمل بالطاقة الشمسية في الكويت	٢٠١٧م

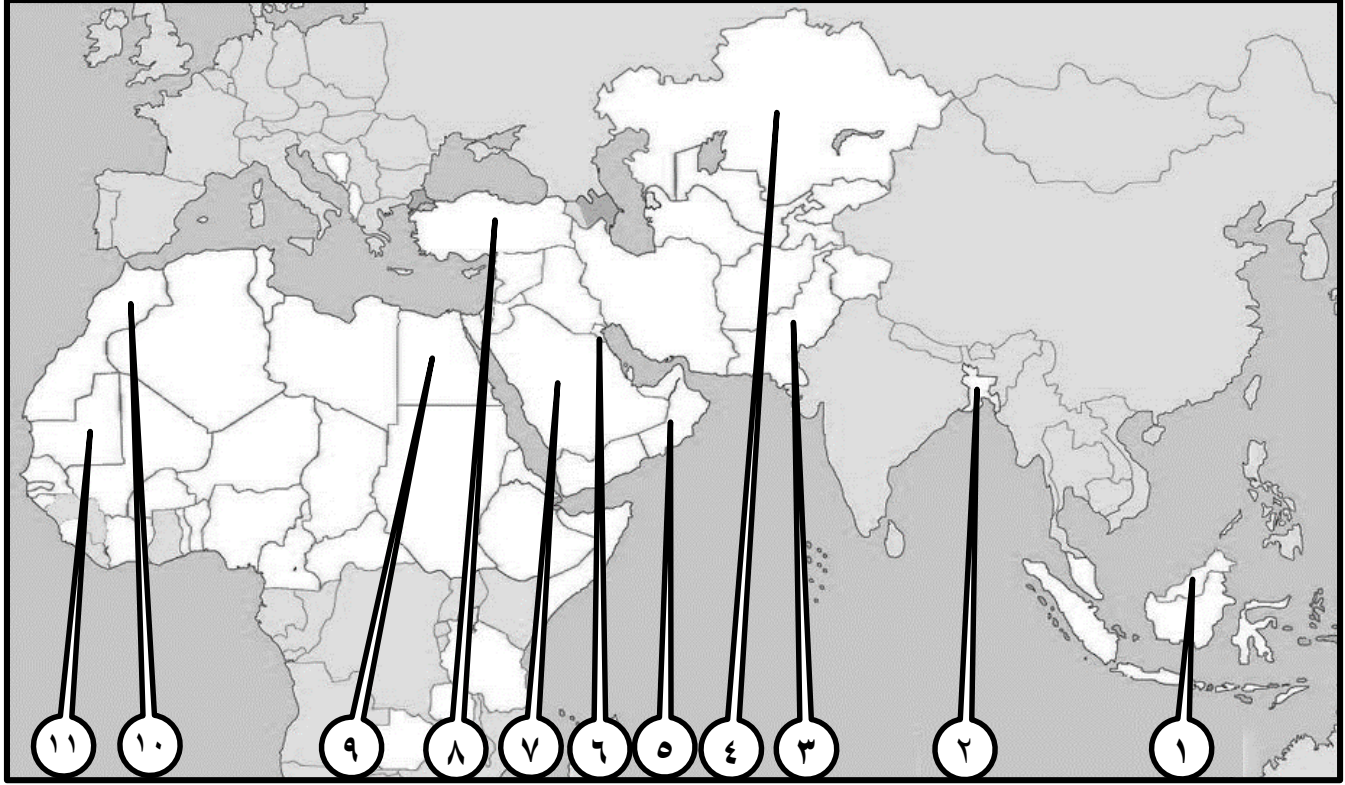
الحادث	العام
- الاتفاقية العثمانية الإنجليزية الخاصة بترسيم الحدود الكويتية - مؤتمر العقير	١٩١٣م
- صدر قرار الجمعية العامة للأمم المتحدة رقم (١٨١)	١٩٤٧م
- الكيان الإسرائيلي يحتل ٨٠% من الأراضي الفلسطينية	١٩٤٨م
- تأسيس الصندوق الكويتي للتنمية.	١٩٦١م
- انعقاد القمة العربية الثالثة.	١٩٦٥م
- تأسيس جمعية الهلال الأحمر الكويتي.	١٩٦٦م
- احتلال الكيان الصهيوني لغزة والضفة وسيناء والجلولان والقدس.	١٩٦٧م
- إحراق المسجد الأقصى على يد المحتل الإسرائيلي - انعقاد المؤتمر الإسلامي الأول.	١٩٦٩م
- تأسست وكالة الأنباء الإسلامية الدولية (إينا).	١٩٧٢م
- هجوم القوات العراقية على مركز الصامتة.	١٩٧٣م
- تأسيس البنك الإسلامي للتنمية.	١٩٧٥م
- انعقاد مؤتمر الأمم المتحدة للتصحر.	١٩٧٧م
- تأسست المنظمة الإسلامية للتربية (ايسيسكو) - تأسيس بيت الزكاة الكويتي.	١٩٨٢م
- تأسيس مجمع الفقه الإسلامي. - تأسست اللجنة الإسلامية للهلال الأحمر.	١٩٨٣م

الأستاذ / ناصر الجندي

تذكر سؤال الخريطة

٢

• لاحظ الخريطة التالية ثم أكتب الرقم الدال على العبارات التي تليها:



١. الدولة الإسلامية الذي بلغ فيها نسبة التلوث الهوائي ٤٠% بسبب عوادم تحمل الرقم ()
٢. الدولة الإسلامية التي يمثل التلوث الهوائي فيها خطراً على الشعب نظراً للتلوث الضبابي تحمل الرقم ()
٣. الدولة الإسلامية التي تعرضت للتلوث المائي لتسرب كميات كبيرة من بقع الزيت من البواخر تحمل الرقم ()
٤. الدولة الإسلامية العربية التي قامت بتشغيل مدرسة بالطاقة الشمسية تحمل على الخريطة الرقم ()
٥. الدولة الإسلامية الخليجية التي ضرب إعصار جونو سواحلها الشرقية عام ٢٠٠٧م تحمل الرقم ()
٦. أعلى دولة العالم الإسلامي في نسبة الفقر تحمل على الخريطة الرقم ()
٧. الدولة الإسلامية العربية التي عقد فيها مؤتمر القمة العربية في يناير عام ٢٠٠٩م تحمل الرقم ()
٨. الدولة الإسلامية الخليجية التي استضافت المؤتمر الأول للمناخيين عام ٢٠١٣م تحمل الرقم ()
٩. أعلى الدول الإسلامية في نسب محو أمية الكبار تحمل على الخريطة الرقم ()
١٠. الدولة الإسلامية التي يوجد بها مقر منظمة التعاون الإسلامي تحمل على الخريطة الرقم ()
١١. الدولة الإسلامية التي تأسست فيها منظمة التعاون الإسلامي تحمل على الخريطة الرقم ()
١٢. الدولة التي ينتمي إليها الأمين الحالي لمنظمة التعاون الخليجي تحمل على الخريطة الرقم ()
١٣. الدولة الإسلامية التي انعقد فيها المؤتمر الإسلامي الثالث عشر تحمل على الخريطة الرقم ()
١٤. الدولة الإسلامية التي انعقد فيها المؤتمر الإسلامي الأول تحمل على الخريطة الرقم ()