



وزارة التربية

الإدارة العامة لمنطقة العاصمة التعليمية

مفرد

الإحاطة



## إجابة امتحان نهاية الفترة الدراسية الأولى

العام الدراسي ٢٠١٩ / ٢٠٢٠ م  
الزمن : ساعة وخمس وأربعون دقيقة  
عدد الصفحات : ( ٥ )

### لمقر الكويت ودول الخليج العربية للف السادس المتوسط

وزارة التربية  
إدارة العامة لمنطقة العاصمة التعليمية  
توجيه الفني للاجتماعيات

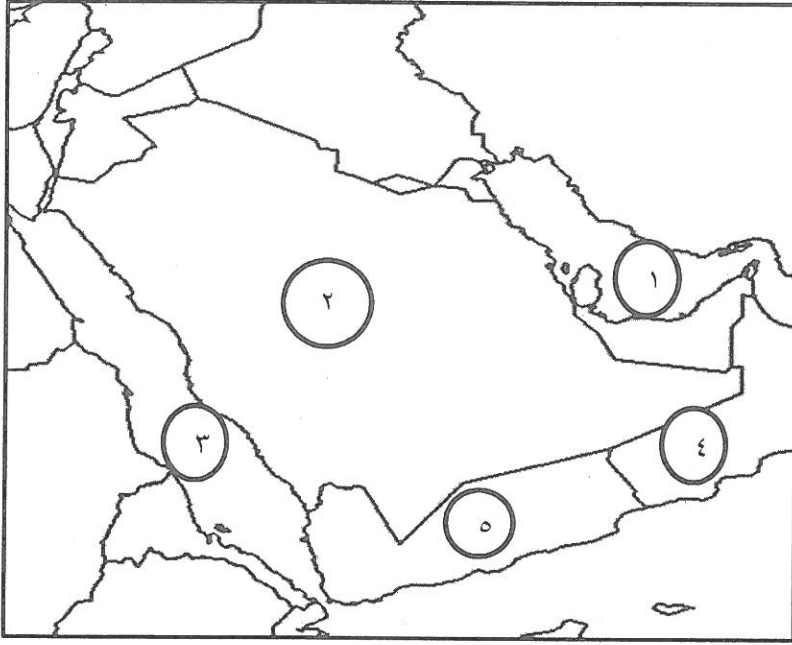
**السؤال الأول : (موضوعي ) ويتكون من ( أ - ب - ج - د - هـ - و ) :- ( درجة لكل إجابة = ٣٦ درجة )**  
**( أ ) ظلل الإجابة ( أ ) إذا كانت العبارة صحيحة وظلل الإجابة ( ب ) إذا كانت العبارة خاطئة لكل مما يلي :**

الرقم	العبارة	الإجابات
١-	يطلق على بداية موسم الغوص على اللؤلؤ اسم القفال . ص ٣٢	أ ب
٢-	تزرخ منطقة الخليج العربية بالعديد من المعالم الأثرية التي تروى قصة حضاراتها . ص ٤٥	أ ب
٣-	الدولة التي يوجد بها هضبة نجد هي البحرين . ص ٢٣	أ ب
٤-	اشتهرت حضارة مجان بصهر المعادن . ص ٤٨	أ ب
٥-	ظهر الإسلام في القرن السابع الميلادي . ص ٥٣	أ ب
٦-	يطلق على المنطقة التي تقع في الصحراء وتحتوي مياه عذبة صالحة للزراعة اسم الوادي . ص ٢٩	أ ب
٧-	الغيت معاهدة الحماية التي وقعتها الكويت مع بريطانيا في عهد الشيخ عبد الله السالم الصباح. ص ٦٣	أ ب

**( ب ) أكمل العبارات التالية بما يناسبها مما درست :**

- ١- انطلق السوق الخليجي المشترك عام ... ٢٠٠٨ م . ص ٧٧
- ٢-- الدولة التي هاجر إليها المعاضيد تسمى .... قطر . ص ٥٧
- ٣- يطلق على الأجزاء الفسيحة من سطح الأرض والتي تتميز باستوائها وقلة ارتفاعها اسم .. السهول . ص ٢٣
- ٤- المجلس الذي يتكون من وزراء خارجية دول مجلس التعاون الخليجي يسمى.. الوزاري . ص ٧٠
- ٥- تتميز الأمطار في دول الخليج العربية بأنها قليلة وغير منتظمة وتسقط في فصل .... الشتاء . ص ٢٥
- ٦- عُقدت القمة السابعة والعشرون لدول مجلس التعاون لدول الخليج العربية في مدينة تسمى ... الرياض . ص ٧٤
- ٧- عرف الخليج العربي قديماً باسم .. البحر الأدنى أو بحر شروق الشمس . ص ٤٧

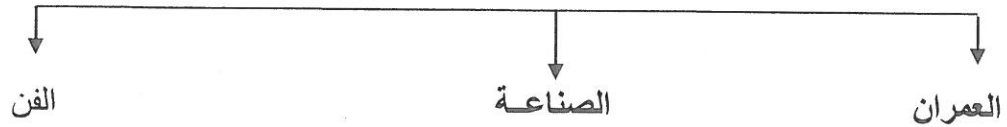
**( ج ) لاحظ خريطة دول الخليج العربية ، ثم استعن بالمدلولات التي عليها لإكمال العبارات التالية :**



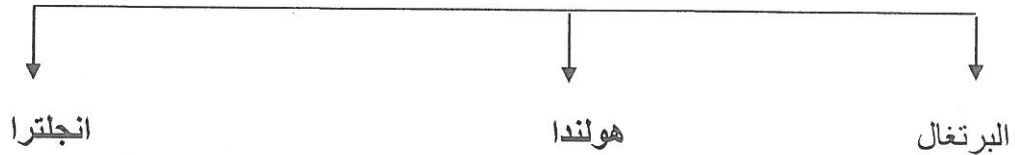
- الدولة العربية الخليجية التي لم تخضع للإستعمار تحمل على الخريطة الرقم ( ٢ ) ص ٦٥
- هاجر اليعاربة إلى دولة عربية خليجية تحمل على الخريطة الرقم ( ٤ ) ص ٥٧
- الخليج العربي يحمل على الخريطة الرقم ( ١ ) . ص ٢٣
- البحر الأحمر يحمل على الخريطة الرقم ( ٣ ) ص ٢٣

**( د ) اكمل المخططات السهمية التالية :**


١ - مظاهر الحضارة الإسلامية : ص ٥٥



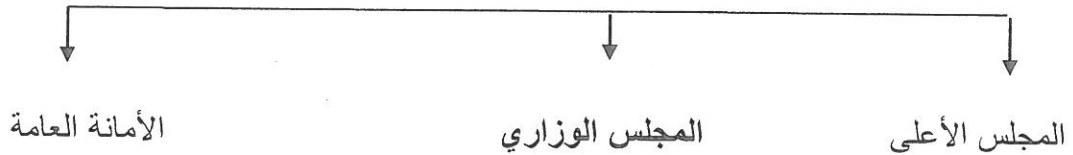
٢ - الدول الاستعمارية الأوروبية التي توالى على الخليج العربي : ص ٦٠



٣ - الأنشطة البرية التي مارسها سكان دول الخليج العربية قديما : ص ٢٨



٤ - الهيكل التنظيمي لمجلس التعاون لدول الخليج العربية : ص ٧٠



تابع إجابة السؤال الأول :

( ه ) اكتب المفاهيم أو المصطلحات الدالة على كل من العبارات التالية :

- ١ - ( المسطحات المائية ) جميع اشكال المياه على سطح الأرض مثل البحار والخلجان والمحيطات . ص ٣٤
- ٢ - ( الاستعمار ) سيطرة دولة قوية على دولة ضعيفة بهدف استغلال مواردها ( خيراتها ) . ص ٦١
- ٣ - ( القليب أو الجليب ) يطلق على البئر عند سكان منطقة الخليج العربية . ص ٥١
- ٤ - ( المناخ ) حالة الجو في مكان ما خلال فترات زمنية طويلة . ص ٢٥
- ٥ - ( المياه الجوفية ) المياه التي توجد في باطن الأرض . ص ٢٨
- ٦ - ( الاستقلال ) تحرر الدولة من المستعمر الأجنبي وقيامها بمسؤولية إدارة شؤونها الداخلية والخارجية . ص ٦٣

( و ) اختر البديل الصحيح من بين البدائل التي تلي كل عبارة مما يلي وضع خطا تحتها :

- ١ - تقع منطقة الخليج العربي بالنسبة لمسطح الخليج العربي بالجهة : ص ٢٢  
( الجنوبية - الشرقية - الغربية - الشمالية )
- ٢ - العام الذي حصلت فيه دولة الكويت على استقلالها من الاستعمار البريطاني : ص ٦٣  
( ١٩٦٠ - ١٩٦١ - ١٩٦٢ - ١٩٦٣ ) م
- ٣ - تنتمي حضارة دلمون إلى دولة عربية خليجية تسمى : ص ٤٩  
( البحرين - سلطنة عمان - قطر - الكويت )
- ٤ - يطلق على مطرب السفينة اسم : ص ٣٢  
( النوخذة - المجدمي - النهام - السيب ) .
- ٥ - عقدت دولة الكويت اتفاقية حماية مع بريطانيا عام : ص ٦٢  
( ١٨٩٦ - ١٨٩٧ - ١٨٩٨ - ١٨٩٩ ) م
- ٦ - الحرفة التي تعتبر مكملة وأساسية للأنشطة البحرية هي : ص ٣٣  
( صناعة السفن - الغوص على اللؤلؤ - صيد السمك - التجارة البحرية )

السؤال الثاني : ( مقال ) ويتكون من ( أ - ب - ج ) :

( أ ) عدد اثنين لكل مما يلي : ( درجة لكل نقطة = ٦ درجات )

١ - أنواع النباتات الحولية في دول الخليج العربية . ص ٢٦

• الخبيزة - الحويذان

• العنصيل

٢ - أهداف مجلس التعاون لدول الخليج العربية . ص ٧٦

• تحقيق التعاون بين الدول الأعضاء في جميع المجالات .

• تحقيق الترابط والصلات بين دول مجلس التعاون .

• العمل على تقدم دول مجلس التعاون في المجال العلمي .

٣ - وسائل صيد الأسماك قديماً في منطقة الخليج العربية . ص ٣١

• الميدار - الحظرة .

• القرقور .

( ب ) علل لما يلي ( اذكر السبب ) : ( درجة لكل نقطة = ٤ درجات )

١ - تعتبر سفينة البغلة من أفضل أنواع السفن المستعملة في رحلة السفر . ص ٣٤

- متانتها وقدرتها على نقل الحمولة الكبيرة .

- قلة تعرضها للأخطار البحرية .

٢ - نشأة الحضارات بمنطقة الخليج العربية . ص ٥١ + ٥٢

- ساعد موقع الخليج العربي المتميز على إنشاء علاقات تجارية واسعة مع المناطق المجاورة مما عاد عليه بمزايا اقتصادية عديدة ، كما أن سهولة اتصال سكانه مع المناطق أدى إلى انطلاق الهجرات وتأسيس اقدم الحضارات .

- توفر ابار مياه الشرب الناتجة عن سقوط الأمطار وحفر آبار قليلة العمق - تمتاز بعض مناطق الخليج بملائمة بيئتها الطبيعية للاستقرار وقيام الحضارات .

( ج ) فرق بين كل من : ( درجة لكل نقطة = ٢ درجتان )

الموقع النسبي ص ٢٠	الموقع الفلكي ص ٢٠
الموقع بالنسبة للماء واليابس	الموقع بالنسبة لخطوط الطول ودوائر العرض

السؤال الثالث : ( مقال ) يتكون من ( أ - ب - ج ) :

( أ ) أقرأ الفقرة التالية ثم أجب عما يليها من أسئلة : ( درجة لكل نقطة = ٥ درجات )

أعلن قيام مجلس التعاون لدول الخليج العربية في ٢٥ / مايو / ١٩٨١م في مدينة أبو ظبي وضم المجلس ست دول عربية خليجية ، وجاء إنشاؤه لما بين الدول الأعضاء من علاقات خاصة وصفات مشتركة وأنظمة متشابهة أساسها وحدة التراث والانتماء والدين والمصالح المشتركة . ص ٧٠

١ - عرف ما تحته خط .

مجلس التعاون : منظمة سياسية اقتصادية إقليمية تضم ست دول عربية خليجية .

٢ - استخرج من الفقرة سببين من اسباب إنشاء مجلس التعاون لدول الخليج العربية .

العلاقات الخاصة بين الدول الأعضاء - الصفات المشتركة والأنظمة المتشابهة التي اساسها وحدة التراث والانتماء والدين

٣ - اذكر دولتين من دول مجلس التعاون الخليجي .

السعودية - الإمارات - سلطنة عمان - البحرين - قطر - الكويت .

( ب ) اكتب فيما يلي : ( يكفي بذكر اثنين لكل ) ( درجة لكل نقطة = ٤ درجات )

- ١ - الحيوانات المستأنسة التي تعيش في منطقة الخليج العربية . ص ٢٦
- الإبل - الأغنام .
- الماعز .
- ٢ - أسباب جذب الهجرات من شبه الجزيرة العربية إلى منطقة الخليج العربية . ص ٥٧
- موقع الخليج العربي المتميز في قلب العالم القديم كطريق تجاري وممر مائي عالمي .
- قيام سكان الخليج العربي بممارسة أنشطة بحرية متنوعة .

( ج ) عرف لما يلي : ( درجة لكل نقطة = ٣ درجات )

- ١ - الخليج العربي : ذراع مائي لبحر العرب يمتد من خليج عمان جنوباً حتى شط العرب شمالاً . ص ١٩
- ٢ - الديمقراطية : تعني حكم الشعب لنفسه . ص ٦٤
- ٣ - النباتات الحولية : نباتات يرتبط وجودها بموسم سقوط المطر . ص ٢٦