


إعداد المعلمة / أزهار عبد الحميد
رئيسة القسم أ / خلود النجادة
مديرة المدرسة أ / سلوى القلاف
الموجهة الفنية أ / فاطمة حيدر

تدريبات للصف الرابع للوحدتين
الحادية عشر والثانية عشر

مدرسة عثمان عبد اللطيف العثمان
أ. ن

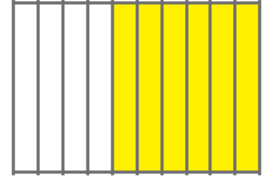
السؤال الأول: اكتب الكسر الإعتيادي والكسر العشري الدال على الأجزاء المظلة :-



_____ ، _____

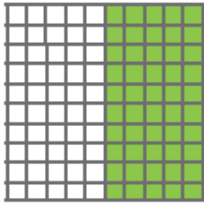


_____ ، _____




_____ ، _____


& اكتب كسرين عشريين متكافئين يعبران عن الجزء المظلل :-



_____ ، _____



_____ ، _____



_____ ، _____

السؤال الثاني: ضع رمز العلاقة المناسب (< أو > أو =)

٦ دناتير ٦ فلس
٩٠٠ سم ٩٠٠٠٠ مم
٤ م ٤ كم

٨ و ٣ ٨ و ٣٠
٠ و ٩ ٠ و ٨
٥ و ٧ ٥ و ٣

قرب لأقرب عدد كلي :-

_____ ≈ ١٥ و ٨٨

_____ ≈ ١ و ٦

السؤال الثالث : رتب ترتيباً تصاعدياً :-

٠,٤ ، ٠,٩ ، ٠,١ ، ٠,٦

--	--	--	--

& اكتب في صورة أجزاء من مئة :-

_____ ٠,٤

& اكتب في صورة أجزاء من عشرة :-

_____ ٤,٩٠

السؤال الرابع : أوجد الناتج :-

$$\begin{array}{r} ٨,٨٤ \\ + ٢,١٩ \\ \hline \end{array}$$

$$\begin{array}{r} ٠,٥ \\ + ٠,٨٣ \\ \hline \end{array}$$

$$\begin{array}{r} ٠,٢ \\ + ٠,٣ \\ \hline \end{array}$$

$$\begin{array}{r} ٠,٧٠ \\ - ٠,٦٥ \\ \hline \end{array}$$

$$\begin{array}{r} ٣,٤١ \\ + ١,٣٥ \\ \hline ٠,٩ \\ \hline \end{array}$$

$$\begin{array}{r} ٣,٧٢ \\ + \quad \quad \\ \hline ٥ \quad \quad \\ \hline \end{array}$$

$$\begin{array}{r} ٨ \\ - ٢,٥١ \\ \hline \end{array}$$

$$\begin{array}{r} ٢,٢٥ \\ - ١,٣٧ \\ \hline \end{array}$$

$$\text{_____} = ٠,٢ - ٠,٥$$

$$\text{_____} = ٠,٨٢ + ٠,٧$$

السؤال الخامس : أكمل:-

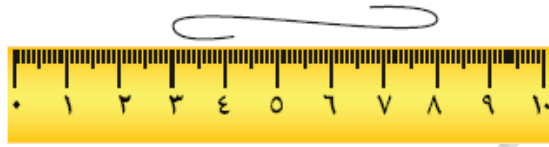
دنانير = ٣٠٠٠ فلس

سم = ٤٤ م

جم = ٣ كجم

لترات = ٧٠٠٠ مل

لوقمنا بسحب الخيط ليصبح مستقيماً ، فما هو الطول الأقرب إليه مما يلي :-



د) الكيلوجرام

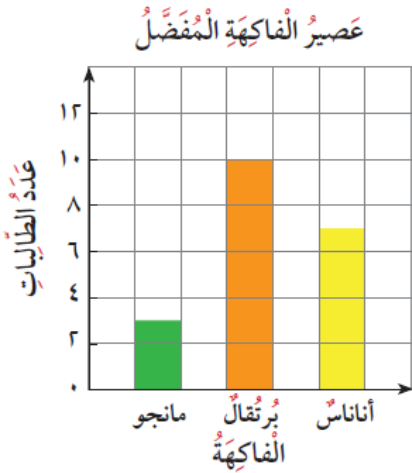
ج) المتر

ب) الجرام

أ) السنتمتر

سألت ليلي ٢٠ من زميلاتها في الفصل أي عصير يفضلونه بين عصير البرتقال والمانجو والأناس . وأظهرت ليلي المعطيات التي توصلت إليها في الرسم . كما وضعت ليلي رسماً دائرياً اعتماداً على المعطيات ذاتها .

أي مما يلي هو الرسم الدائري الذي يمثل تلك المعطيات :-



رئيسة القسم . أ / خلود النجادة

إعداد المعلمة / أزهار عبد الحميد

الموجهة الفنية . أ / فاطمة حيدر

مديرة المدرسة . أ / سلوى القلاف