

السنة : الأولى (أ- ب- ج)	امتحان الفصل الثاني في:	ابتدائية: أم لجين
السنة الدراسية: 2016/2017	الرياضيات	الاسم واللقب:

التمرين 1: أحسب العمليات التالية:

$9 - 0 = \dots$

$8 - 2 = \dots$

$6 + 4 = \dots$

$7 + 3 = \dots$

التمرين 2: أكمل ما يلي:

ضعف 8 هو :

نصف 10 هو:

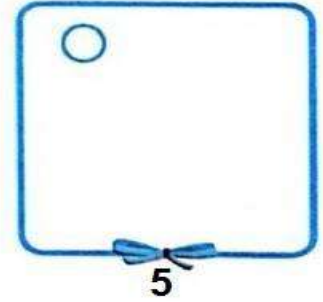
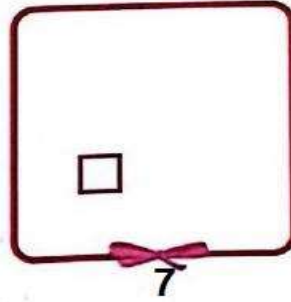
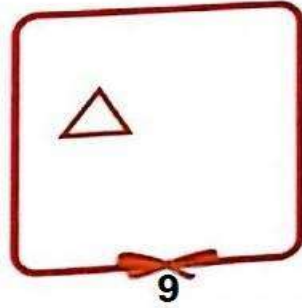

ضعف 7 هو :

نصف 6 هو :

التمرين 3: أكمل الشريط العددي:

26	..	28	32	35
----	----	----	----	----	----	----	----	----	----

التمرين 4: أكمل الرسم حسب العدد المطلوب:



التمرين 5: أحط كل عشرة أزهار في دائرة ثم املء الجدول الموالي:

ع	ا



التمرين 6: لون الشريط الطويل بالأزرق ، و الشريط القصير بالأحمر:

