

العام الدراسي ٢٠١٧/ ٢٠١٨ م  
الزمن : ساعة و نصف  
عدد الاوراق : ( ٦ )

اختبار نهاية الفصل الدراسي الثاني  
للفص السابع المتوسط  
لمقرر الكويت والوطن العربي

وزارة التربية  
الإدارة العامة للتعليم الخاص  
التوجيه الفني للاجتماعيات

السؤال الأول : يتكون من ( أ - ب - ج ) :

( أ ) صنف ما يلي كلاً حسب موقعه في الجدول التالي :  $٥ = ٥ \times ١$

( تجميع السيارات / مصادر الطاقة / الخشب / خامات المعادن / الورق )

| الصناعات التحويلية ص ١٤٢ | الصناعات التجميعية ص ١٤٣ | الصناعات الاستخراجية ص ١٤١        |
|--------------------------|--------------------------|-----------------------------------|
| - الخشب<br>- الورق       | - تجميع السيارات         | - خامات المعادن<br>- مصادر الطاقة |

( ب ) أكمل العبارات التالية بما يناسبها مما درست :  $٥ = ٥ \times ١$

- ١- زحف رمال الصحراء على المناطق الجافة وشبه الجافة مشكلة اسمها ..... التصحر..... ص ١٦٢
- ٢- استضافت دولة الكويت القمة العربية الاقتصادية التنموية والاجتماعية عام ...٢٠٠٩م... ص ١٨٦
- ٣- القطاع الذي يشكل نسبة ٥٠% من الاقتصاد العربي في الاقطار غير المنتجة للنفط يسمى..الزراعي.. ص ١١٠
- ٤- الطبقة التي تحمي الأرض من الاشعاعات فوق البنفسجية الضارة تسمى....الأوزون .... ص ١٦٩
- ٥- القارة التي يتوزع بها ٧٠% من سكان الوطن العربي تسمى ..... أفريقيا ..... ص ٩٩

( ج ) أختر للمجموعة ( ب ) ما يناسبها من المجموعة ( أ ) وذلك بوضع الرقم في المكان المناسب :

$٥ = ٥ \times ١$

| الرقم | المجموعة ( أ )                                  | المكان المناسب | المجموعة ( ب )         |
|-------|---|----------------|------------------------|
| ١     | القمح والشعير والارز تعتبر بالوطن العربي من     | ٣              | الغلات الصناعية ص ١١٤  |
| ٢     | الحديد والنحاس والمنجنيز تعتبر بالوطن العربي من | -              | الثروة الرعوية         |
| ٣     | القطن والبن وقصب السكر تعتبر بالوطن العربي من   | ٥              | الفواكة والأشجار ص ١١٤ |
| ٤     | الأسماك والمحار واللؤلؤ تعتبر بالوطن العربي من  | ٢              | الثروة المعدنية ص ١٣٢  |
| ٥     | العنب والتمر والموز تعتبر بالوطن العربي من      | ١              | الحبوب الغذائية ص ١١٤  |
|       |   | ٤              | الثروة المائية ص ١٢٢   |

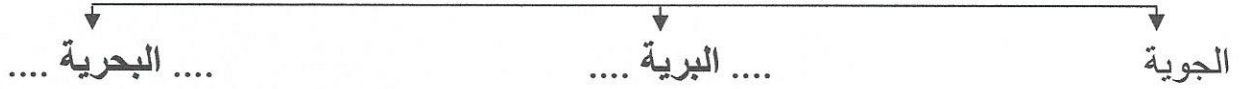
يتبع الصفحة التالية



السؤال الثاني : يتكون من ( أ - ب - ج )

( أ ) أكمل الفراغ في المخططات السهمية التالية بما يناسبها :  $٥ = ٥ \times ١$

١- طرق النقل في الوطن العربي . ص ١٤٧



٢- المقومات البشرية للصناعة بالوطن العربي . ص ١٣٩



( ب ) اختر الأكمال المناسب للعبارات التالية من بين الخيارات التي تلي كلا منها وضع تحتها خط :  $٥ = ٥ \times ١$


١- عقدت المؤتمرات الدولية الثلاثة للمانحين لدعم الوضع الإنساني في سوريا بدولة اسمها : ص ١٨٩

أ- الكويت      ب- السودان      ج- البحرين      د- العراق

٢- صندوق أوظيفي للتنمية تأسس في عام : ص ١٧٩  
أ- ١٩٧٠م      ب- ١٩٧١م      ج- ١٩٧٢م      د- ١٩٧٣م

٣- أشهر العلماء العرب في خارج الوطن العربي الدكتور : ص ١٧٦

أ - أحمد شوقي      ب- طه حسين      ج- أحمد زويل      د- حافظ إبراهيم

٤- الصورة التالية  تمثل إحدى حيوانات الثروة الرعوية في الوطن العربي يسمى : ص ١١٩

أ- الأغنام      ب- الأبقار      ج- الإبل      د- الماعز

٥- عقدت قمة الأرض بالبرازيل عن مشكلة التلوث البيئي عام : ص ١٦٧

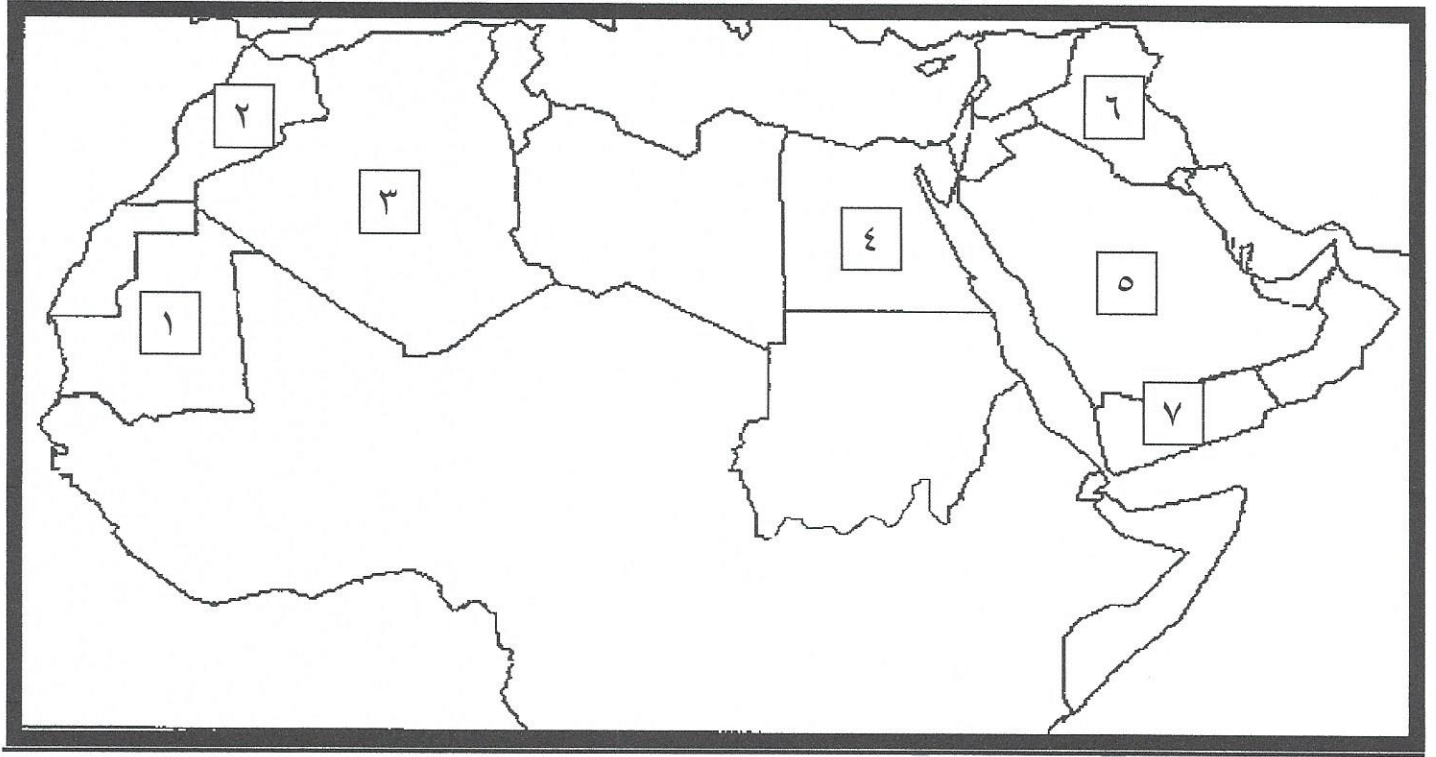
أ- ١٩٩١م      ب- ١٩٩٢م      ج- ١٩٩٣م      د- ١٩٩٤م

يتبع الصفحة التالية

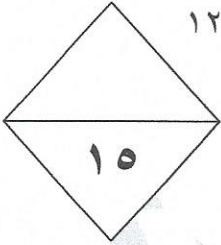




( ج ) لاحظ خريطة الوطن العربي الصماء ثم اكتب الرقم الدال على كلاً مما يلي : ٥=٥×١



- الدولة العربية التي يوجد بها نهر الفرات علي الخريطة يمثلها الرقم .....٦..... ص ١٤٩
- الدولة العربية التي تحتل المركز الاول في انتاج البن علي الخريطة يمثلها الرقم .....٧..... ص ١١٤
- الدولة العربية التي تحتل المركز الاول في انتاج معدن الفوسفات علي الخريطة يمثلها الرقم .....٢..... ص ١٣٢
- الدولة العربية التي تسهم بأكثر من ثلث الإنتاج العربي من الأسماك علي الخريطة يمثلها الرقم .....٤..... ص ١٢٣
- الدولة العربية التي تحتل المركز الاول في احتياطي النفط علي الخريطة يمثلها الرقم .....٥..... ص ١٢٩



السؤال الثالث : يتكون من ( أ - ب - ج ) :

( أ ) قارن بين كلاً مما يلي حسب المطلوب في الجدول التالي : ٥ = ٥×١

| أوجه المقارنة     | أوبك ص ١٣٤   | أوبك ص ١٣٥         |
|-------------------|--|--------------------|
| عدد الدول المؤسسه | - خمس دول عالمية .   | - ثلاث دول عربية . |
| المقر             | - مدينة فيينا .  | - دولة الكويت .    |
| التشابه بينهما    | - منظمين للدول المصدرة للنفط .<br>- عدد أعضائهما ١١ دولة .<br>- تشترك بهما كل من الدول التالية الكويت والسعودية وقطر والعراق والامارات والجزائر .<br>- في المنظمين يوجد بهما جهاز الامانة العامة . ( يكتفى بنقطة واحدة ) |                    |

يتبع الصفحة التالية



( ب ) بعد قراءة الفقرة التالية أجب عما يليها :  $٥ = ٥ \times ١$

(( يعد الصندوق الكويتي للتنمية الاقتصادية العربية أول مؤسسة للتنمية في الوطن العربي . تأسس في عهد الشيخ عبدالله السالم الصباح . بفكرة ودعم من صاحب السمو الراحل أمير القلوب رحمه الله حيث كان سموه وزيراً للمالية آنذاك . ويتبع الصندوق الكويتي للتنمية الاقتصادية العربية حالياً وزارة الخارجية بدولة الكويت . ))

١- ما أسم صاحب فكرة تأسيس الصندوق الكويتي للتنمية الاقتصادية العربية ؟

- ..... الشيخ جابر الأحمد الصباح ..... ص ١٨٤

٢- ماذا يقصد بالتنمية ؟

- ... تعني التطور والتطوير وهي عملية تتطلب التخطيط والمشاركة من الجميع ... ص ١٧٢

٣- أي وزارة بدولة الكويت يتبع الصندوق الكويتي للتنمية الاقتصادية العربية ؟

- .....وزارة الخارجية..... ص ١٨٤

٤- عدد أهداف الصندوق الكويتي للتنمية الاقتصادية العربية ؟

- .. تقديم المساعدات اللازمة في حالات الكوارث والنكبات.... ( يكتفى بنقطتين )

- .. يقوم بالمساهمة في تحقيق مشاريع التنمية الضرورية الخاصة بالمجالات الصحية الاجتماعية... ..

- .. دعم قضايا الأمة العربية الإسلامية.... ص ١٨٤

( ج ) أكتب فيما يلي مما درست :  $٥ = ٥ \times ١$

١- طرق الحفاظ على ثروة المياه في الوطن العربي . ص ١٦٥

- ..... ترشيد استخدام المياه والحد من التبذير في المنازل ..... ( يكتفى بثلاث نقاط )

- ..... تطوير استعمال مياه الصرف الصحي المعالجة في الزراعة ..... ..

- ..... إقامة البحيرات والسدود لتجميع مياه الأمطار والسيول للاستفادة منها في فصل الجفاف ..... ..

- ... الحد من هدر المياه في عمليات الري وذلك باستخدام الوسائل الحديثة كالرش بالتنقيط والمحوري ....

- ..... توقيع اتفاقيات مع الدول المشاركة ودول المنبع لتحقيق مصالح الدول العربية المعنية ..... ..

- ..... تنظيم عملية الاستفادة من المياه الجوفية ومنع تسرب الإملح الملوثة إليها واستثمارها

على الوجه الأمثل ..... ..

٢- أهداف الصناعات البتروكيمياوية في الوطن العربي . ص ١٤٥ ( يكتفى بنقطتين )

- .... تنوع مصادر الدخل للدولة المنتجة ..... ..


- .... توفير المواد الأولية للصناعات التحويلية لتأمين حاجات القطاعات الاستهلاكية

(خاصة مجال البناء) ....

- .... تطوير الصناعات البتروكيميائية إلى تقنيات متخصصة وعالية ..... ..



السؤال الرابع : يتكون من ( أ - ب - ج ) :



( أ ) شاهد الصورة التالية ثم اجب عن الاسئلة التي تليها :  $٥ = ٥ \times ١$

١- ما اسم مصدر الطاقة الذي تمثله الصورة المقابلة ؟

- .... النفط / oil ..... ص ١٢٥

٢- لماذا يتمتع هذا المصدر للطاقة بمكانة مهمة على المستوى العالمي ؟ ص ١٣١

- .... نظراً لأهميته للدول الصناعية المتقدمة في أوروبا واليابان والولايات المتحدة الأمريكية ....

٣- يعد هذا المصدر من أهم مصادر الطاقة بالوطن العربي . علل ؟ ص ١٢٥

- ..... تقوم عليه صناعات مهمة لا غنى عنها في حياتنا ..... ( يكتفى بنقطة )

- ..... مهم بالنسبة لاقتصاد الدول العربية ( الاموال ) .....

٤- أذكر أسم الدولة الاولى في انتاج هذه الطاقة بالوطن العربي ؟

- ..... المملكة العربية السعودية ..... ص ١٢٩

٥- اكتب رسالة تقدر بها أهمية هذا المصدر من الطاقة في حياتك اليومية ؟

- ..... أي اجابة مناسبة يراها المصحح من المتعلم .....

( ب ) عرف ما يلي :  $٥ = ٥ \times ١$

١- التضامن العربي : .... العمل على توثيق الصلات بين الدول والشعوب العربيه وحماية لمصالحها السياسية والاقتصادية والثقافية وغيرها .... ص ١٧٧

٢- الموارد الطبيعية : .... الثروات التي منحها الله لإقليم من دون أن يكون للإنسان أي دور في وجودها ..... ص ١٠٩

٣- التبادل التجاري: ..... عمليتا التصدير والاستيراد بين الدول ..... ص ١٥١

٤- مقومات الصناعة : .... العوامل التي تساعد على تحويل المواد الخام إلى سلع استهلاكية .... ص ١٣٩

٥- النمو السكاني : .... تزايد عدد السكان من عام لآخر نتيجة للزيادة الطبيعية للسكان والهجرة ... ص ١٠٦

( ج ) لاحظ الجدول التالي ثم أجب عن الأسئلة التي تليه:  $٥ = ٥ \times ١$

جدول احصائية لبعض الدول العربية تبين مساحة وتقديرات السكان في عام ٢٠١٤ م

| الرقم | اسم الدولة العربية | المساحة كم <sup>٢</sup> | تقديرات عدد السكان ( ألف نسمة ) |
|-------|--------------------|-------------------------|---------------------------------|
| ١     | المغرب             | ٧١٠,٨٥٠                 | ٣٣,٣٠٤,٠٠٠                      |
| ٢     | جيبوتي             | ٢٣,٢٠٠                  | ٩٣٩,٠٠٠                         |
| ٣     | السودان            | ١,٨٨٢,٠٠٠               | ٣٧,٤٠٢,٠٠٠                      |
| ٤     | الصومال            | ٦٣٧,٦٥٧                 | ١٢,٣١٧,٠٠٠                      |
| ٥     | الجزائر            | ٢,٣٨١,٧٤١               | ٣٩,٤٠٢,٠٠٠                      |
| ٦     | تونس               | ١٦٤,١٥٠                 | ١٠,٩٨٣,٠٠٠                      |

١- استخلص من الجدول الدول العربية التي عدد سكانها أقل من ١١ مليون نسمة من الجدول ؟ ص ١٠٠

- ..... جيبوتي / تونس .....

٢- استخلص من الجدول أكبر الدول العربية مساحة ؟ ص ١٠٠

- ..... الجزائر .....

٣- ما أسباب ارتفاع الكثافة السكانية في بعض مناطق دول الوطن العربي ؟ ص ١٠٥

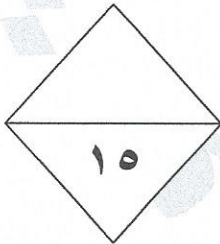
- ..... لتمتعها بمقومات طبيعية ومناخية ملائمة .....

- ..... وثروات طبيعية .....

- ..... وطرق مواصلات .....

٤- ماذا يستفاد من الإحصاء الحيوي في دول الوطن العربي ؟ ص ٩٩

- ..... تسجيل المواليد والوفيات وحالات الزواج والطلاق .....



انتهت الاسئلة



<http://loalooaedu.com>

موقع شامل لسهولة البحث عن الملفات والاختبارات

قناة <sup>↑</sup>مستر خالد <sup>↑</sup>TOP للغة الانجليزية

<https://t.me/mrkhalidalmhrezy>

قروب <sup>↑</sup>مستر خالد <sup>↑</sup>TOP للغة الانجليزية # [?] للرد علي اسئلتكم واستفسارتكم

<https://t.me/joinchat/AvkMcBCgd2aHQAYZheSA2w>

قناة <sup>↑</sup>مستر خالد <sup>↑</sup>TOP يوتيوب يسعدنا اشتراكم ليصلكم كل جديد

[https://www.youtube.com/channel/UC11WmsfMu2m6QOHBm14\\_0lQ](https://www.youtube.com/channel/UC11WmsfMu2m6QOHBm14_0lQ)

<http://loalooaedu.com>

موقع شامل لسهولة البحث عن الملفات والاختبارات التحضير

حياكم معنا في موقع اللؤلؤة لجميع المراحل للمعلمين والمعلمات والمتعلمين والمتعلمات وأولياء الأمور

<http://loalooaedu.com>

قنوات اللؤلؤة علي التليجرام قنوات المرحلة الابتدائية

<https://t.me/grad1all>

<https://t.me/grad2all>

<https://t.me/grad3all>

<https://t.me/MATHARBI>

<https://t.me/grad5all>

قروبات متوسط

<https://t.me/grad6all>

<https://t.me/grad7>

<https://t.me/easyfreestudy>

<https://t.me/grad8all>

قناة الثانوي جميع الملفات والاختبارات

<https://t.me/joinchat/AAAAAE-ZFs5r6HOWyDNzBA>

قناة المعلم بها جميع الملفات التي تخص المعلم

<https://t.me/elmoalam>

رابع

<https://t.me/joinchat/FERJJEe7eA1CgbmqM3O8iA>

ثالث

<https://t.me/joinchat/FERJJEGPUzFram6q-dwzQ>

ثاني واول

<https://t.me/joinchat/FERJJEawl5TZkYErLAUGDA>

قناة اللغة العربية الرائعة الاستاذة  ايمان علي  صفوف متوسط

<https://t.me/emanarabic>