



وزارة التربية



الإدارة العامة لمنطقة العاصمة التعليمية

معلومات

الاجابة



السؤال الأول : (موضوعي) ويتكون من (أ - ب - ج - د - هـ) :- (درجة لكل سؤال = ٢٤ درجة)

(أ) ظلل الإجابة (ص) إذا كانت العبارة صحيحة والإجابة (خ) إذا كانت العبارة خاطئة لكل مما يلي :

الرقم	العبارة	الإجابات
١-	المحيط هو مسطح كبير جدا من الماء المالح . ص ١٩	ص خ
٢-	قارة أمريكا الشمالية أكبر قارات العالم مساحة وأكثرها سكانا . ص ٢١	ص خ
٣-	تقع بلادي الكويت في وسط العالم الاسلامي . ص ٣٠	ص خ
٤-	العمل التطوعي هو استخدام الموارد المتاحة بالشكل الأمثل . ص ٦٤	ص خ
٥-	تقع بلادي الكويت في الجنوب الغربي لشبه الجزيرة العربية . ص ٢٣	ص خ
٦-	تتميز الحيوانات البرية في الكويت بقدرتها على التكيف مع الظروف البيئية القاسية . ص ٤٨	ص خ

(ب) اختر البديل الصحيح من بين البدائل التي تلي كل عبارة مما يلي :

١- الحاكم الذي تم تصدير أول شحنة من النفط الخفيف عالي الجودة في عهده عام ٢٠١٨م اسمه الشيخ : ص ٦٠
أ - احمد الجابر الصباح ب - عبدالله السالم الصباح ج - صباح السالم الصباح د - صباح الأحمد الصباح

٢- مسطح مائي أصغر من المحيط يفصل بين القارات يعرف بإسم : ص ١٩

أ - الخليج ب - البحر ج - البحيرة د - المضيق

٣- اكتشف النفط الخفيف العالي الجودة في حقل كويتي يسمى : ص ٦٠

أ - المقوع ب - برقان ج - الصابرية د - بحرة

٤ - عدد دول الوطن العربي يبلغ : ص ٢٦

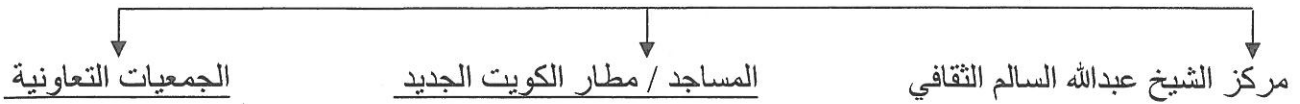
أ - ٢٢ دولة ب - ٣٢ دولة ج - ٤٢ دولة د - ٥٢ دولة

٥ - نوع من النباتات المعمرة (الدائمة) التي تنمو في بلادي الكويت اسمه : ص ٤٢

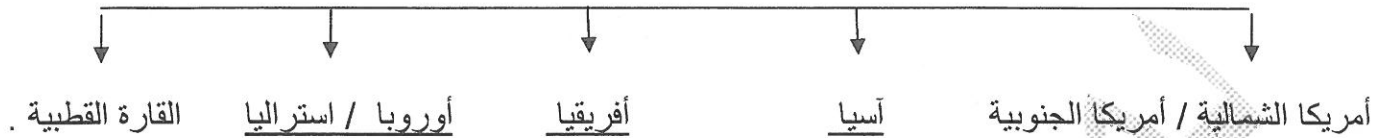
أ - العرفج ب - الخزامى ج - الربلة د - الكمأ

(ج) اكمل المخططات السهمية التالية :

١- المنشآت التي استخدمت فيها دولة الكويت الطاقة الشمسية لترشيد استهلاك الكهرباء. ص ٨٢



٢- قارات العالم . ص ٢١



٣- أهم مناطق تربية الحيوانات في بلادي الكويت . ص ٥١



(د) اقرأ كل عبارة مما يلي ثم اكتب " من أنا ؟ " في الفراغات التالية :

١- أنا أعتبر مصدر الطاقة الأساسي والأول في العالم .

النفط ص ٥٥

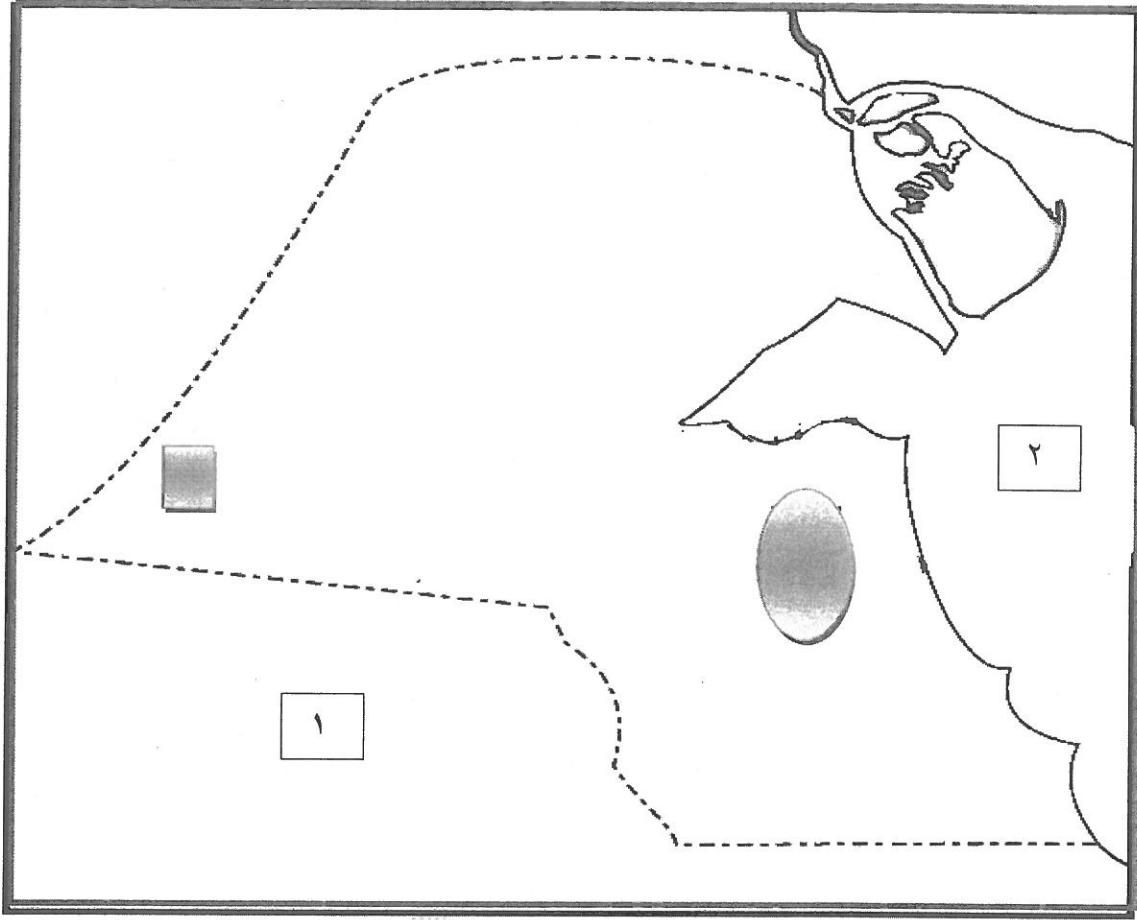
٢- أنا المكان الذي نعيش فيه ونمارس فيه نشاطاتنا المختلفة



البيئة ص ٦٣

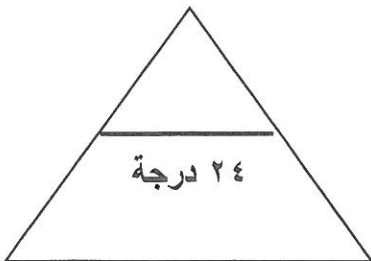
٣- أنا أقدم مصادر الطاقة التي عرفها الإنسان ويستخدموني حديثا في توليد الكهرباء .

الرياح ص ٧٦

(هـ) لاحظ خريطة دولة الكويت ، ثم استعن بالمدلولات التي عليها لإكمال العبارات التالية :



- الخليج العربي يمثله على الخريطة الرقم ٢ . ص ٥١
- حقل برقان يمثله على الخريطة الشكل  . ص ٦١
- منطقة الشقاييا أحد مناطق تربية الثروة الحيوانية في دولة الكويت يمثله الشكل  . ص ٥١



مجموع درجات السؤال الأول -----

السؤال الثاني : (مقال) يتكون من (أ - ب - ج) :

(أ) أجب على الاسئلة التالية : (نصف درجة لكل إجابة = ٣ درجات) (يكتفى بنقطتين)

- ١- ماهي استخدامات النفط . ص ٥٥
 - استخدم في الإضاءة والتدفئة . / مشتقاته مثل البنزين والكيروسين .
 - يستخدم في تشغيل المصانع وتحريك وسائل النقل المختلفة .
- ٢- أذكر الأدوات القديمة التي كان يستخدمها الكويتيون في صيد الأسماك . ص ٥٣ .
 - الحضرة / القرقور
 - الشباك
- ٣- ماهي الخصائص التي يتميز بها الغاز الطبيعي . ص ٧٨
 - آمن جدا وصديق للبيئة . / يعد من الغازات غير السامة .
 - أكثر أنواع الطاقة استخداما / ليس له رائحة ولا لون .

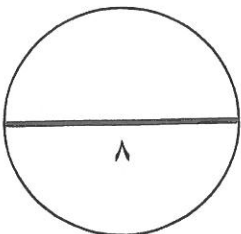
(ب) علل ما يلي (اذكر السبب) : (درجة لكل إجابة = ٣ درجات)

- ١- سميت دول الخليج العربية بهذا الاسم . ص ٢٣
 - لأنها تطل على مسطح مائي يسمى الخليج العربي .
- ٢- تنمو معظم النباتات في فصل الربيع وتقل في فصل الصيف . ص ٤٢
 - شدة الحرارة / قلة الأمطار
 - فقر التربة .

(ج) عرف ما يلي في الجدول التالي : (درجة لكل إجابة = درجتان)

الطاقة ص ٧٣	الموارد الطبيعية ص ٣٨
القدرة على القيام بعمل معين .	كل ما أوجده الله في الطبيعة دون أن يكون للإنسان دخل في وجودها .

مجموع درجات السؤال الثاني -----



السؤال الثالث : (مقال) يتكون من (أ - ب - ج) :

(أ) عدد (اثنين) لكل مما يلي : (نصف درجة لكل إجابة = ٣ درجات) (يكفي بنقطتين)

١- أنواع الأسماك التي تتميز مياه الخليج العربي بوفرتها . ص ٥٣

أ - الزبيدي / الهامور
ب - الميد / الشعم / الربيان

٢- أهمية النباتات الطبيعية . ص ٤٢

أ - رعي الحيوانات / الحصول على الاخشاب والوقود
ب - صناعة الادوية والصابون .


٣- جهود دولة الكويت في المحافظة على الثروة السمكية. ص ٥٤

أ - تحديد مواسم صيد الأسماك / سن القوانين .
ب - منع الدولة لبعض أنواع أدوات صيد الأسماك / الاهتمام باستزراع الأسماك .

(ب) قارن بين كل مما يلي حسب المطلوب في الجدول التالي : ص ٧٣ - (٣ درجات)

المقارنة	الطاقة المتجددة	الطاقة غير المتجددة
المفهوم	هي التي لا تنتهي ولا تنفذ وتسمى الطاقة النظيفة . درجة	هي التي تنتهي ولا يمكن تعويضها في زمن قصير . درجة
المصادر	-الرياح / المياه / الشمس (نصف درجة / يكفي بنقطة)	- الفحم / النفط / الغاز الطبيعي (نصف درجة / يكفي بنقطة)

(ج) استعن بالدائرة البيانية ثم نفذ المطلوب : ص ١٧ (درجة لكل إجابة = درجتين)



٧٠ %

١- تمثل نسبة مساحة الماء على الكرة الارضية.

٣٠ %

٢- تمثل نسبة مساحة اليابس على الكرة الارضية .

مجموع درجات السؤال الثالث -----

انتهت الاجابة ،،،،