



وزارة التربية  
MINISTRY OF EDUCATION



# دليل الاجتماعيات الإلكتروني

## للمرحلة المتوسطة

### إعداد

#### الصف السادس

أ. إيمان فهد العجمي  
أ. أسامة عبدالله بكري  
أ. أسرار محمد الشمري  
أ. أسارة مبارك المعصب  
أ. حصة ناصر المطيرات  
أ. مريم فهد المطيري  
أ. مها خالد البيدان  
أ. موضي سعد العتيبي  
أ. نورة عماد العنزي  
أ. وديان عبدالله المطيري

#### الصف السابع

أ. غدیر ناصر العازمي  
أ. فاطمة مخلف المويزي  
أ. مساعد ردن المطيري  
أ. أنوار الرشیدی  
أ. جلال عبد الحافظ  
أ. زينب علي الأشوك  
أ. شهد علي النومس  
أ. وضحة الروقي

تحت إشراف

الموجه الفني الأول للاجتماعيات

أ. دلال محمد الأنصاري

### إشراف ومراجعة

#### الصف السابع

الموجه الفني: أ. محمد إبراهيم البحوه  
الموجه الفني: أ. عبد الرحمن العنزي  
الموجه الفني: أ. نوير سعد الخالدي  
المعلمة: أ. غدیر ناصر العازمي

#### الصف السادس

الموجه الفني: أ. شريفة خلف عويد الطواله الشمري  
الموجه الفني: أ. عهود لافي المطيري  
الموجه الفني: أ. أميمة محمد عبدالعزيز  
المعلمة: أ. غدیر ناصر العازمي

طباعة وتنسيق

أ. زينب علي الأشوك



الاقتراحات والملاحظات

ssfarkuwait@gmail.com

جميع الحقوق محفوظة

Fr\_Social



# الوحدة الثالثة الثالثة



## السؤال الاول : أكملی العبارات التالية:

- ١- يبلغ عدد سكان الوطن العربي حوالي **٣٨٢ مليون نسمة** ص ٩٩
- ٢- تبلغ مساحة الوطن العربي حوالي **١٣،٥ مليون كم** ص ٩٩
- ٣- يبلغ عدد دول الوطن العربي من **٢٢ دولة** ص ٩٩
- ٤- يتوزع سكان الوطن العربي بين قارتي آسيا و **أفريقيا** ص ٩٩
- ٥- يتوزع سكان الوطن العربي بنسبة **٧٠%** في القارة الافريقية ونسبة **٣٠%** في **القارة الآسيوية** ص ٩٩
- ٦- تم اجراء أول تعداد سكاني في دولة الكويت عام **١٩٥٧** ص ٩٩
- ٧- أنشأت الإدارة المركزية للإحصاء في الكويت عام **١٩٦٣** ص ٩٩
- ٨- أكبر الدول العربية من حيث المساحة في الجناح الافريقي هي **الجزائر** ص ١٠٠
- ٩- أصغر الدول العربية مساحة في الجناح الافريقي هي **جزر القمر** ص ١٠٠
- ١٠- أكبر الدول العربية مساحة في الجناح الآسيوي هي **السعودية** ص ١٠٠
- ١١- أصغر الدول العربية مساحة في الجناح الآسيوي هي **البحرين** ص ١٠٠
- ١٢- أكثر الدول العربية من حيث عدد السكان في الجناح الافريقي هي **مصر** ص ١٠٠
- ١٣- أقل الدول العربية من حيث عدد السكان في الجناح الافريقي هي **جزر القمر** ص ١٠٠
- ١٤- أكثر الدول العربية من حيث عدد السكان في الجناح الآسيوي هي **العراق** ص ١٠٠
- ١٥- أقل الدول العربية من حيث عدد السكان في الجناح الآسيوي هي **البحرين** ص ١٠٠
- ١٦- يبلغ عدد السكان في الجناح الآسيوي حوالي **١٥٠،٩٢٥ مليون نسمة** ص ١٠٠
- ١٧- يبلغ عدد السكان في الجناح الافريقي حوالي **٢٣١٣٨٤ مليون نسمة** ص ١٠٠
- ١٨- الدولة التي تعاني من سوء توزيع السكان في الوطن العربي هي **مصر** ص ١٠٢
- ١٩- القطاع الذي يمثل المرتبة الأولى من اقتصاد الوطن العربي **القطاع الزراعي** ص ١١٠
- ٢٠- من أهم المزروعات في الوطن العربي **الحبوب الغذائية** ص ١١٣

٢١- تمتلك الصومال من ثروة الوطن العربي الرعوية {الابل} حوالي ٦,٦% ص ١١٨

٢٢- المزروعات التي تتطلب ظروف مناخية خاصة وتتركز معظمها في حوض البحر المتوسط الفواكه والثمار ص ١١٣

٢٣- الدولة العربية التي تحتل المركز الأول في إنتاج محصول الذرة هو مصر ص ١١٤

٢٤- الدولة العربية التي تحتل المركز الأول في إنتاج محصول الأرز هو مصر ص ١١٤

٢٥- الدولة العربية الأولى في إنتاج محصول قصب السكر هو مصر ص ١١٤

٢٦- الدولة العربية الأولى في إنتاج القطن والموايح هو مصر ص ١١٤

٢٧- تبلغ مساحة الأراضي المزروعة في الوطن العربي حوالي ٥٦% ص ١١٦

٢٨- أكثر أنواع الثروة الرعوية انتشارا في الوطن العربي هي الأغنام ص ١١٨

٢٩- الدولة العربية الأولى في إنتاج الأغنام والماعز والأبقار هي السودان ص ١١٨

٣٠- الدولة العربية الأولى في إنتاج الابل هي الصومال ص ١١٨

٣١- الدولة العربية الأولى في إنتاج الثروة السمكية هي مصر ص ١٢٣

٣٢- الدولة العربية الأولى في إنتاج النفط واحتياطه هي السعودية ص ١٢٩

٣٣- أولى الدول العربية في إنتاج واحتياط الغاز الطبيعي هي قطر ص ١٢٩

٣٤- الدولة التي تحتل المركز الثالث بإنتاج واحتياط النفط هي الكويت ص ١٢٩

٣٥- الدولة التي تحتل المركز الثاني في إنتاج واحتياط النفط هي العراق ص ١٢٩

٣٦- الدولة العربية التي تحتل المركز الأول في إنتاج المعادن {فوسفات- نحاس- رصاص- منجنيز} هي المغرب ص ١٣٢

٣٧- الدولة العربية التي تحتل المركز الأول في إنتاج معدن الحديد هي موريتانيا ص ١٣٣

٣٨- الأوبك هي منظمة عالمية مصدرة للنفط تأسست عام ١٩٦٠ ص ١٣٤

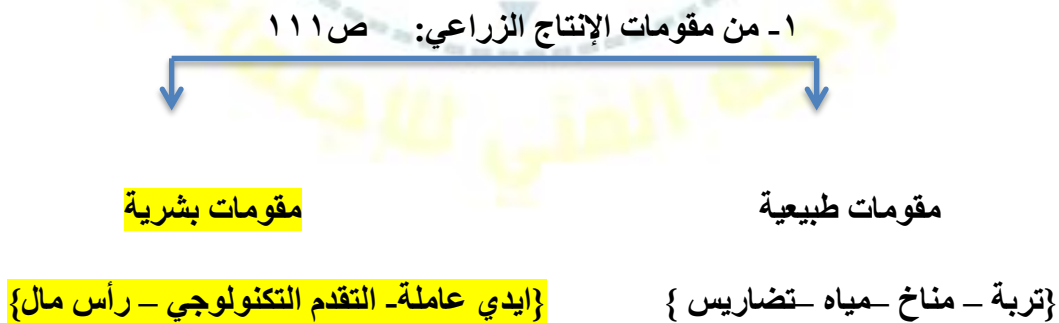
٣٩- الأوبك هي منظمة عربية مصدرة للنفط تأسست عام ١٩٦٨ ص ١٣٥

٤٠- صناعات تقتصر على استخراج مصادر الطاقة هي الصناعات الاستخراجية ص ١٤١

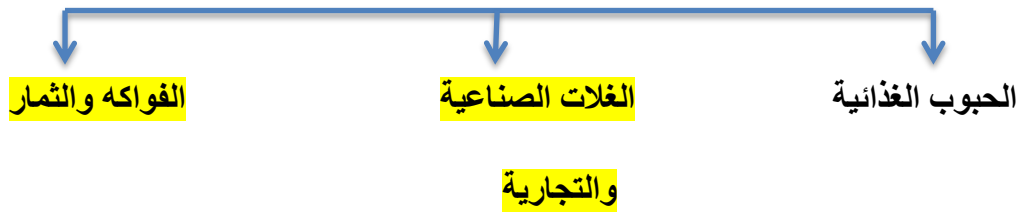
٤١- تعتبر من الصناعات الأولى في العالم هي الصناعات الحرفية ص ١٤٣

- ٤٢- نسبة الصادرات بين الدول العربية ٨% أما الواردات ٧,٤% ص ١٥١
- ٤٣- الأسواق التي تحتل المكانة الأولى بالنسبة للصادرات العربية هي الأسواق الأوروبية ص ١٥٢
- ٤٤- يتفوق الجناح الاسيوي على الجناح الافريقي بإنتاج النفط واحتياطيه والغاز الطبيعي ص ١٢٨
- ٤٥- أكبر تجمع لسكان يكون حول الانهار والبحار و مصادر المياه ص ١٠٥
- ٤٦- يقدر معدل النمو السكاني في الوطن العربي بحوالي ٢,٢٠ حسب إحصائيات ٢٠٠٦ عام ص ١٠٦
- ٤٥- يرجع النمو السكاني بالوطن العربي الى عاملين هما الزيادة الطبيعية والزيادة الغير طبيعية /الهجرة ص ١٠٦
- ٤٦- يشكل القطاع الزراعي حوالي ٥٠% من الاقتصاد العربي ص ١١٠
- ٤٧- المدينة التي يقع فيها مقر منظمة الدول المصدرة لنتف اوبك هي فيينا ص ١٣٤
- ٤٨- المدينة التي يقع فيها مقر منظمة اوبك هي الكويت ص ١٣٥
- ٤٩- تبلغ نسبة انتاج النفط في منطقة دول الخليج العربية وسهول دجلة والفرات ب ٨٠% ص ١٢٦
- ٥٠- تبلغ نسبة انتاج النفط في منطقة الصحراء الكبرى ب ١٨% ص ١٢٦
- ٥١- تبلغ نسبة انتاج النفط في منطقة خليج السويس ب ٤,٧% ص ١٢٦

**السؤال الثاني : أكمل المخطط السهمي التالي:**



٢- المحاصيل الزراعية في الوطن العربي ص ١١٣



٣- يمتلك الوطن العربي أنواع كثيرة من الثروة الرعوية ص ١١٧



٤- من مراحل الصناعة ص ١٣٧



٥- من مقومات الصناعة: ص ١٣٩



{رؤوس أموال - وسائل النقل

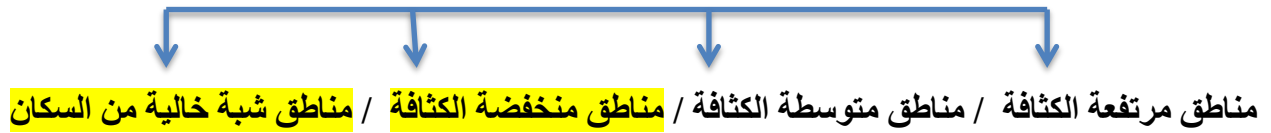
(مواد خام - الطاقة)

{السوق - أيدي عاملة - المهارة والخبرة}

٦- أنواع الصناعات في الوطن العربي ص ١٤١



٧- تقسم مناطق الوطن العربي من حيث الكثافة : ص ١٠٣



٨- العوامل المؤثرة في توزيع السكان : ص ١٠٤



٩- من أنواع الإنتاج الحيواني: ص ١١٧

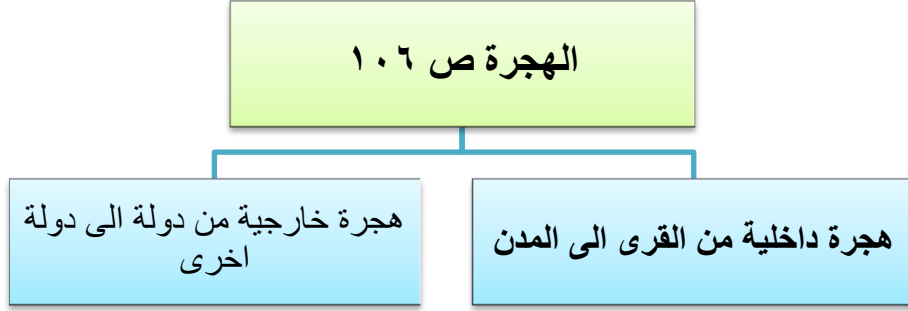


الزيادة السكانية ص ١٠٦



د- المشكلات التي تعاني منها الزراعة في الوطن العربي ص ١١٥





**- السؤال الثالث: ضع خطا تحت الخيار الصحيح بين الخيارات التي تلي كل عبارة :**

١- يأتي القطاع الزراعي في المرتبة الأولى من اقتصاد الوطن العربي بنسبه ص ١١٠

- ٢٠%      - ٣٠%      - ٤٠%      - **٥٠%**

٢- يقدر معدل النمو السنوي السكاني في الوطن العربي حوالي ص ١٠٦

- ٢,٢٠%      - ٢,٢١-      - ٢,٢٢-      - ٢,٢٣-

٢- يقدر معدل النمو السنوي العالمي للسكان حوالي ص ١٠٦

- ١,٦%      - **١,٧%**      - ١,٨%      - ١,٩%

٤- الدولة التي تحتل المركز الثالث بإنتاج واحتياط النفط ص ١٢٩

- السعودية      - **الكويت**      - العراق      - الامارات

٥- يحتل الجناح الاسيوي من انتاج النفط بنسبة ص ١٢٨

- **٨٨**      - ٨٩-      - ٩٠-      - ٩١-



**السؤال الرابع : قارن بين كلا من : ص ٩٩**

الإحصاء الحيوي	التعداد السكاني	أوجه المقارنة
تسجيل المواليد والوفيات وحالات الزواج والطلاق ونحصل على بياناتها من واقع السجلات الرسمية للدولة	حصول الدولة على معلومات واقفية عن اوضاع سكانها : عددهم – عدد كل جنس – اعمارهم وغير ذلك من معلومات	التعريف

ص ١٠٠

الجناح الأفريقي	الجناح الآسيوي	أوجه المقارنة
السودان	السعودية	الدولة الأكثر مساحة
جزر القمر	البحرين	الدولة الأقل مساحة
مصر	العراق	الدولة الأكثر عدد سكان
جزر القمر	البحرين	الدولة الأقل عدد سكان

ص ١٠٩

الموارد البشرية	الموارد الطبيعية	أوجه المقارنة
الموارد التي ترتبط بالسكان من حيث اعدادهم وتوزيعهم ومناسبة اعدادهم لمساحة الارض التي يستغلونها	الثروات التي منحها الله تعالى لإقليم ما دون تدخل الانسان {الثروات المعدنية - الموارد المائية الغابات – موقع الإقليم}	التعريف

-نسبة الجناح الآسيوي والجناح الأفريقي من إنتاج واحتياط النفط والغاز الطبيعي: ص ١٢٨

أوجه المقارنة	إنتاج النفط	احتياط النفط	إنتاج الغاز الطبيعي	احتياط الغاز الطبيعي
الجناح الآسيوي	%٨٨	%٩٠	%٦٦,٥	%٨٢
الجناح الأفريقي	%١٢	%١٠	%٣٣,٥	%١٨

-نسبة الوطن العربي بالنسبة للعالم من إنتاج واحتياط النفط والغاز الطبيعي: ص ١٢٧

احتياط النفط	احتياط الغاز الطبيعي	إنتاج النفط	إنتاج الغاز الطبيعي
%٥٥	%٢٧,٥	%٣٠	%١٦,٥

-نسبة الوطن العربي من المعادن بالنسبة للعالم : ص ١٣٢

الفوسفات	الحديد	الرصاص	النحاس	المنجنيز
%٢٥	%١,٢	%٦,٦	%٠,١٣	%٣,٣

منظمة الأوبك	منظمة الأوبك	أوجه المقارنة
منظمة الأقطار عربية مصدرة للنفط	منظمة الدول مصدرة للنفط	التعريف
١٩٦٨	١٩٦٠	سنة التأسيس
الكويت	فيينا	مقرها الحالي
١١ دولة الكويت - السعودية - ليبيا - قطر - الامارات - البحرين - العراق - سوريا - مصر - تونس - الجزائر	١١ دولة الكويت - السعودية - العراق - ايران - فنزويلا - قطر الامارات - الجزائر - نيجيريا - أنغولا - الأكوادور	الدول الاعضاء
المجلس الوزاري - المكتب التنفيذي الأمانة العامة	المؤتمر مجلس المحافظين - الأمانة العامة	الأجهزة
تعميق التعاون الاقتصادي في صناعة النفط - تطوير الصناعات البترولية - تأمين وصول - النفط للأسواق الاستهلاكية - بشروط واسعار عادلة	الحرص على استقرار اسعار النفط في الاسواق - العالمية	الأهداف

الزيادة الغير طبيعية	الزيادة الطبيعية	أوجه المقارنة ص ١٠٦
الزيادة الناتجة عن الهجرة	الفرق بين معدل المواليد ومعدل الوفيات	التعريف

الهجرة الخارجية	الهجرة الداخلية	أوجه المقارنة ص ١٠٦
هجرة خارجية من دولة الى دولة اخرى	هجرة داخلية من القرى الى المدن	التعريف

الواردات	الصادرات	أوجه المقارنة ص ١٥٢
هي السلع التي تشتريها الدولة من الخارج لسد حاجة السكان	هي السلع التي تبيعها الدولة للخارج	التعريف

**السؤال الخامس : صنف الكلمات التالية بما يناسبها في الجدول:**

ص ١٣٧ حديد-نحاس-خشب-الات ومعدات-مواد غذائية-اثاث-الاسواق - الحليب

مراحل الصناعة	مواد أولية	تحويل وتصنيع	توزيع
	حديد - نحاس - خشب - الحليب	الات ومعدات مواد غذائية اثاث	الاسواق

{ الشعير - القطن - البن - العنب - الموز - الأرز - التمور - القمح - قصب السكر - الذرة الشامية - الموالح } ص ١١٤

الحبوب الغذائية	الغلات النقدية	الفواكه والثمار
الارز - الذرة الشامية	قصب السكر	الموز
الشعير	القطن	التمور
القمح	البن	العنب - الموالح

من مقومات قيام الزراعة : { التربة - المناخ - التقدم العلمي - جهد الانسان - رأس المال - التضاريس - المياه }

ص ١١١

مقومات طبيعية	مقومات بشرية
التربة - المناخ - التضاريس - المياه	جهد الانسان - رأس المال - التقدم العلمي

{السعودية - اليمن - الصومال - المغرب - مصر - سوريا} ص ١١٤

التمور	البن	الموز	الشعير	القمح	العنب	الغلة الزراعية
السعودية	اليمن	الصومال	المغرب	مصر	سوريا	الدولة العربية

{تعليب الفواكه والخضروات - الأثاث - استخراج المعادن - زجاج - صهر حديد - قطع أخشاب} ص ١٤١

صناعات تحويلية	صناعات استخراجية
تعليب فواكه - أثاث - صهر حديد	استخراج معادن - زجاج - قطع أخشاب

{الأسمدة - البشوت - الفخار - السجاد - الاسمنت - السيارات - الأجهزة الكهربائية أنابيب بلاستيك} ص ١٤٦

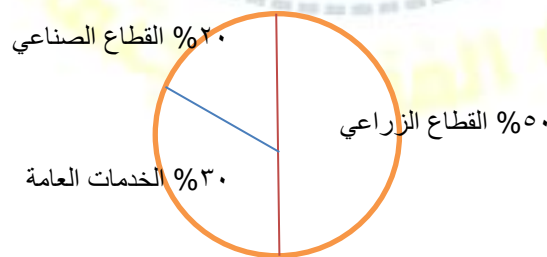
صناعات تجميعية	صناعات بتروكيماوية	صناعات حرفية
الأجهزة الكهربائية - السيارات - أنابيب بلاستيك	الاسمنت - الاسمدة	البشوت - الفخار - السجاد

**السؤال السادس : صل عبارات المجموعة { أ } بما يناسبها من المجموعة { ب } : ص ١٢٦**

الرقم	المجموعة { أ }	المجموعة { ب }
١	- نسبة انتاج دول الخليج العربي وسهول دجلة والفرات من النفط ص ١٢٦	٥
٢	- نسبة انتاج الصحراء الكبرى من النفط ص ١٢٦	٢
٣	- نسبة انتاج منطقة خليج السويس من النفط ص ١٢٦	٦
٤	- نسبة انتاج النفط في الجناح الافريقي ص ١٢٨	٣
٥	يبلغ نسبة انتاج الجناح الاسيوي من الغاز الطبيعي ص ١٢٨	٤
٦	يبلغ نسبة احتياط الجناح الاسيوي من النفط ص ١٢٨	١


**السؤال السابع : حدد على الدائرة البيانية القطاعات التي تشكل الاقتصاد في الوطن العربي: ص ١١٠**

{- القطاع الصناعي بنسبة ٢٠% - القطاع الزراعي بنسبة ٥٠% - الخدمات العامة ٣٠%}




حدد على الدائرة البيانية مساحة الأراضي المزروعة في الوطن العربي حوالي ٥٦% من المساحة القابلة للزراعة

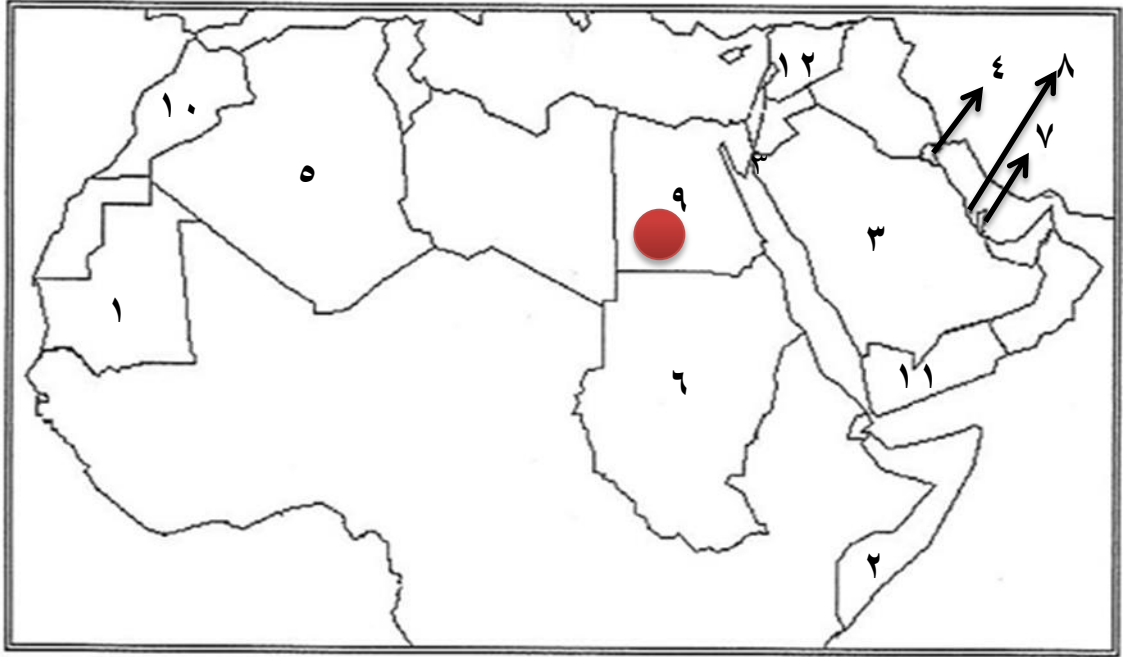
ص ١١٦



-حدد على الدائرة البيانية نسب المناطق الرئيسية الثلاث التي تتركز فيها معظم حقول النفط العربي {منطقة الصحراء الكبرى ١٨% - منطقة الخليج وسهول دجلة والفرات ٨٠%- خليج السويس ٤,٧%} ص ١٢٦



**-السؤال الثامن : حدد على خريطة الوطن العربي الصماء ما يلي :**



- الرقم (١) على الخريطة يمثل دولة عربية تحتل المرتبة الاولى في انتاج معدن الحديد تسمى **موريتانيا** ص ١٣٢
- الرقم (٩) على الخريطة يمثل دولة عربية تحتل المرتبة الاولى من حيث عدد السكان تسمى **مصر** ص ١٠٠
- الرقم (٦) على الخريطة يمثل الدولة العربية الاولى في انتاج الأغنام تسمى **السودان** ص ١١٨
- الرقم (٤) على الخريطة يمثل مقر منظمة الاوابك في دولة تسمى **الكويت** ص ١٣٥
- الدولة العربية الاولى في انتاج النفط واحتياطه يمثلها على الخريطة رقم (٣) ص ١٢٩
- الدولة العربية الاولى في انتاج محصول الموز يمثلها على الخريطة رقم (٢) ص ١١٤
- دولة عربية التي تحتل المرتبة الاولى من حيث المساحة يمثلها على الخريطة رقم (٥) ص ١٠٠
- الدولة العربية التي تحتل المرتبة الاولى في إنتاج الغاز الطبيعي واحتياطه يمثلها على الخريطة رقم (٧) ص ١٢٩
- دولة عربية بالجنح الاسيوي تحتل المرتبة الاخيرة من حيث المساحة يمثلها على الخريطة رقم (٨) ص ١٠٠
- الدولة العربية الاولى في انتاج الشعير يمثلها على الخريطة رقم (١٠) ص ١١٤
- الدولة العربية الاولى في انتاج البن يمثلها على الخريطة رقم (١١) ص ١١٤
- الدولة العربية الاولى في انتاج العنب يمثلها على الخريطة رقم (١٢) ص ١١٤



**السؤال التاسع : عرف المفاهيم التالية:**

١-التعداد السكاني: حصول الدولة على معلومات وافية عن اوضاع سكانها : عددهم – عدد كل جنس – اعمارهم وغير ذلك من معلومات . ص ٩٩

٢-الإحصاء الحيوي : تسجيل المواليد والوفيات وحالات الزواج والطلاق ونحصل على بياناتهم من واقع السجلات الرسمية للدولة . ص ٩٩

٣-الكثافة السكانية: عدد السكان الكلي ص ١٠٢  
المساحة الكلية

٤- النمو السكاني : تزايد عدد السكان من عام لآخر نتيجة الزيادة الطبيعية ( معدل المواليد – معدل الوفيات ) والهجرة ص ١٠٦

٥- الزيادة الطبيعية : الفرق بين معدل المواليد - معدل الوفيات . ص ١٠٦

٦- الزيادة الغير طبيعية : هي الزيادة الناتجة عن الهجرة . ص ١٠٦

٧- الهجرة الداخلية : هي الهجرة من القرى إلى المدن . ص ١٠٦

٨- الهجرة الخارجية : هي الهجرة من دولة إلى دولة أخرى . ص ١٠٦

٩- الغلات الصناعية والتجارية: تشمل الغلات التي تدخل في الصناعة وتزرع بغرض التجارة والحصول على نقد تسمى {الغلات النقدية} مثل البن –الشمندر –الزيتون –قصب السكر . ص ١١٣

١٠- الزراعة التقليدية : هي زراعة المحاصيل الزراعية بمعدات قديمة غير متطورة ص ١١٦

١١- الزراعة الحديثة : هي زراعة المحاصيل الزراعية باستخدام الآلات الحديثة والتكنولوجيا . ص ١١٥

١٢- النفط: بقايا عضوية على هيئة نباتات وحيوانات ترسبت في عصور قديمة وانطمرت تحت رواسب سميكة وتحولت بفعل الضغط والحرارة لصورتها الحالية . ص ١٢٥

١٣- الطاقة: قوى محركة للآلات وعنصر مهم للتقدم الاقتصادي في جميع المجالات . ص ١٢٥

١٤- الغاز الطبيعي : هو غاز مصاحب للنفط الخام أو يوجد منفردا تتم إسالته لاستخدامات عديدة . ص ١٢٥

- ١٥- منظمة الأوبك: منظمة عالمية مصدرة للنفط. ص ١٣٤
- ١٦- منظمة الأوبك: منظمة عربية مصدرة للنفط. ص ١٣٥
- ١٧- الصناعة: تحويل المواد الأولية إلى سلع ومنتجات تباع بالسوق. ص ١٣٨
- ١٨- مقومات الصناعة: العوامل التي تساعد على تحويل المادة الخام إلى سلع استهلاكية. ص ١٣٨
- ١٩- الصناعات التحويلية: هي تحويل المواد الأولية من معدنية نباتية وحيوانية لسلع استهلاكية صالحة للاستعمال. ص ١٤٢
- ٢٠- الصناعات التجميعية: هي تركيب وجمع المواد المصنعة للحصول على سلع متنوعة. ص ١٤٣
- ٢١- الصناعات التعدينية: هي الصناعات الهادفة لتنقية الخامات المعدنية وتحويلها إلى صفائح أو سبائك لتنفيذ صناعات معدنية مختلفة. ص ١٤١
- ٢٢- التبادل التجاري: عملية التصدير والاستيراد بين الدول. ص ١٥١
- ٢٣- الغلات النقدية: الغلات الزراعية التي تدخل في الصناعة وتزرع بغرض التجارة والحصول على النقد. ص ١١٣
- ٢٤- الموارد الطبيعية: هي الثروات التي منحها الله لإقليم من دون أن يكون للإنسان أي دور في وجودها. ص ١٠٩
- ٢٥- الموارد البشرية: هي التي ترتبط بالسكان من حيث أعدادهم وتوزيعهم ومناسبة أعدادهم لمساحة الأرض التي يستغلونها. ص ١٠٩
- ٢٦- الصناعات الاستخراجية: هي استخراج مصادر الطاقة كالنفط والغاز و الفحم وخامات المعادن والاملاح وغيرها من باطن الارض واعادها لتصبح جاهزة للتصنيع. ص ١٤١
- ٢٧- الصناعات الحرفية: تعد هذه الصناعات الاولى في العالم وتستخدم مواد اولية محلية وتعتمد على المجهود البشري. ص ١٤٣

### السؤال العاشر: أجب عن الأسئلة التالية:

١- ما المناطق المناخية التي يقل فيها السكان؟ ص ١٠٤

-المناخ الصحراوي -المناخ البارد -المناخ الاستوائي

٢- ما المناطق التي يجذب السكان للعيش فيها؟ ص ١٠٤

-المناطق السهلية لتمتعها بمقومات طبيعية ومناخية وسهولة القيام بالانشطة الاقتصادية

٣- كيف تغلب الانسان على صعوبة العيش والزراعة في الجبال؟ ص ١٠٥

-عن طريق التطور العلمي وتحويل الجبال لمدرجات وزرعها وشق الطرق

٤- اذكر أسباب النمو السكاني في الوطن العربي؟ ص ١٠٦

-الزيادة الطبيعية - الزيادة الغير طبيعية {الهجرة}

٥- ما أسباب هجرة الايدي العاملة من دول آسيا الى بعض دول الوطن العربي؟ ص ١٠٧

توفر فرص العمل - ارتفاع الأجور - توفر الخدمات الصحية

٦- لماذا تختلف أنواع المنتجات من دولة عربية الى أخرى؟ ص ١١٠

-اختلاف المناخ - اختلاف التربة -مدى توفر المياه

٧- اذكر أهم المنتجات التي يصدرها الوطن العربي للخارج؟ ص ١١٠

قطن - زيتون - صمغ - الحمضيات

٨- عدد مقومات قيام الانتاج الزراعي؟ ص ١١١

-مقومات طبيعية - مقومات بشرية

٩- عدد المشكلات التي تعاني منها الزراعة في الوطن العربي؟ ص ١١٥

-نقص موارد المياه - الاعتماد على مياه الامطار - ارتفاع نسبة الملوحة -

-قلة الايدي العاملة - الاعتماد على الآلات القديمة التقليدية

١٠- عدد أنواع الثروة الرعوية في الوطن العربي؟ ص ١١٨

-أغنام - ماعز - الابل - الابقار

١١- أمثلة للصناعات الحرفية في الوطن العربي؟ ص ١٤٣-١٤٤

-البشوت - الفخار - السجاد - الخزف

١٢ - عدد أنواع الثروة المائية في الوطن العربي ؟ ص ١٢٢

مرجان - اسفنج - لؤلؤ - قواقع

١٣ - ما الأسباب التي جعلت الأغنام تحتل المكانة الهامة ضمن الثروة الرعوية؟ صفحته ١١٨

- الأكثر انتشارا في المراعي العربية - أكثر الحيوانات المستأنسة والملائمة للمراعي العربية وتحمل الجفاف - أهمية منتجاتها - مصدر للثروة القومية

١٤ - ما العوامل التي ساعدت على انتشار مزارع الدواجن في الوطن العربي ؟ صفحته ١٢٠

-توفير المياه -توفر المنتجات الزراعية {القمح -الشعير}

-توفير اللقاح والدواء والتطعيم اللازم-ملائمة المناخ -قلة التكلفة.

١٥ - ما أهمية النفط والغاز الطبيعي بالنسبة لاقتصاد الدول العربية؟ ص ١٢٥

-قوى محركة للآلات والمصانع - مصدر لرؤوس الأموال - مادة خام للعديد من الصناعات - أساس لمشاريع التنمية والعمران

١٦ - ما أهمية الثروة المعدنية في الوطن العربي؟ ص ١٢٤

-انتاج الخامات المعدنية - مصادر الطاقة الأساسية لقيام الصناعة

١٧ - اذكر مناطق تركيز الحقول النفطية في الوطن العربي ؟ ص ١٢٦

-دول الخليج العربية وسهول دجلة والفرات - منطقة الصحراء الكبرى - منطقة خليج السويس

١٨ - اذكر أسباب تصدير الدول العربية معظم انتاجها من النفط والغاز الطبيعي لخارج الوطن العربي ؟

ص ١٢٩

-قلة المصانع العربية - ضخامة الإنتاج وتزايد - انخفاض تكلفة الإنتاج

١٩ - عدد الصناعات التحويلية في دول الوطن العربي ؟ ص ١٤٢

-صناعات غذائية - صناعة المنسوجات - صناعة الخشب - صناعة مشتقات النفط

٢٠ - ما أهداف الصناعات البتروكيميائية ؟ ص ١٤٥

-تنويع مصادر دخل الدولة المنتجة -توفير مواد أولية لصناعات تحويلية - لتأمين حاجة القطاعات الاستهلاكية {البناء} - تطوير الصناعات البتروكيميائية لتقنيات متخصصة

٢١- ما أهمية طرق النقل و المواصلات لدول الوطن العربي ؟ ص ١٤٧

-من المقومات الأساسية لاستغلال وتنمية موارد الاقتصاد وربطها بمناطق الإنتاج والأسواق

٢٢- ما أنواع طرق النقل في الوطن العربي ؟ ص ١٤٧

-الطرق البرية - الطرق المائية - الطرق الجوية

٢٣- ما أهمية نقل البضائع بوسائل حديثة ومتطورة ؟ ص ١٤٨

-سرعة الوصول - ضمان سلامة البضائع - أكثر أمانا

٢٤- ما مميزات طرق النقل الجوي ؟ ص ١٥٠

-سرعة الوصول - ضمان سلامة البضائع - أكثر أمانا

٢٥- لماذا يفضل السكان العيش في المناطق السهلية ذات المناخ المعتدل ؟ ص ١٠٣

- سهولة التنقل والحركة

- لسهولة قيام الأنشطة الاقتصادية

- توفر مقومات الحياة

٢٦- لماذا يصعب العيش في المناطق الجبلية . ص ١٠٣

- لأنها تمتاز بالانخفاض بدرجات الحرارة وارتفاع بالضغط الجوي

- صعوبة المواصلات والتنقل

- لصعوبة قيام بالأنشطة الاقتصادية وعدم توفر مقومات الحياة

٢٧- لماذا يتجمع السكان حول مصادر المياه ؟ ص ١٠٣

- لأهميتها في حياة الانسان والزراعة

- لسهولة القيام بالأنشطة الاقتصادية

٢٨- اسباب هجرة الايدي العاملة من بعض الدول العربية الى منطقة الخليج العربية ؟ ص ١٠٧

- حاجة الدولة لبعض التخصصات النادرة

- ارتفاع دخل

- توفر فرص العمل

- تقدير الكفاءات

٢٩- فوائد اساسية لنشاط الزراعي في الوطن العربي ؟ ص ١١٠

- توفر الغذاء

- توفر فرص العمل

- مادة اولية لكثير من الصناعات الغذائية

- مصدر دخل

٣٠- ماهي مصادر المياه الرئيسية في الوطن العربي ؟ ص ١١١

- الانهار - البحيرات - البحار - الانهار - المياه الجوفية

٣١- ما هي اسباب عدم استغلال الاراضي الصالحة لزراعة ؟ ص ١١٦

- نقص موارد المياه

- اعتماد بعض الاراضي على مياه الامطار فتصبح مناطق شبه جافة

- ارتفاع نسبة الملوحة في تربة الواحات والسهول

- اتباع بعض الدول الاساليب التقليدية في الزراعة

- قلة الايدي العاملة في الزراعة نظرا للهجرة من الريف الى المدن

٣٢- لماذا يمتلك الصومال ٦,٦% من ثروة الوطن العربي من الابل ؟ ص ١١٩

- تحمل الابل للمناخ الصحراوي القاسي وقدرته على تحمل الجفاف \ بسبب طبيعة البيئة

- وجود حشائش الاستبس كمصدر غذاء للابل

٣٣- لماذا تساهم مصر بأكثر من ثلث الانتاج العربي من الاسماك ؟ ص ١٢٣

- بسبب امتداد سواحلها وتنوع المصائد البحرية فيها

٣٤- اقترح بعض المقترحات التي تساعد في تنمية الثروة السمكية ؟ ص ١٢٣

- استخدام التقنية الحديثة

- تحسين مستوى العاملين بمهنة الصيد

- وضع اماكن خاصة للزراعة وتنمية الاسماك

٣٥- الاسباب التي اعطت النفط العربي اهمية عالمية ؟ ص ١٣١

- قوة محركه للألات و المصانع

- مصدر لرؤوس الاموال

- مادة خام للعديد من الصناعات المهمة

- اساس المشاريع التنموية والعمران

٣٦- لماذا يطلق على الغاز الطبيعي باسم الطاقة النظيفة ؟ ص ١٣١

- لأنه لا ينتج عن احتراقه ظهور ملوثات التي تنتج عن احتراق المنتجات النفطية لذلك يدخل في استخدامات عديدة

٣٧- ماهي استخدامات الغاز الطبيعي ؟ ص ١٣١

- الاستعمال المنزلي

- تحلية المياه

- توليد الكهرباء

٣٨- ماهي مقومات الصناعة ؟ ص ١٣٩

- مقومات طبيعة ( المواد الخام - الطاقة )

- مقومات بشرية ( رؤوس أموال - الأيدي العاملة - المهارة والخبرة - السوق - وسائل النقل )



# الوحدة الرابعة



القُصْدُوفُ الكُوَيْتِيُّ لِلتَّعْمِيرِ الاقتصاديَّةِ العربيَّةِ  
KUWAIT FUND FOR ARAB ECONOMIC DEVELOPMENT



السؤال الأول : املئ العبارات التالية :

- ١- الجهة المسؤولة في دولة الكويت بالقطاع الزراعي تسمى الهيئة العامة لزراعة والثروة السمكية . ص ١٦٢
- ٢- موقع الوطن العربي في المناطق الجافة وشبه جافة يعرضه لمشكلة التصحّر ص ١٦٢
- ٣- من أكثر الدول العربية تهديداً بالتصحّر السودان وموريتانيا و الصومال . ص ١٦٢
- ٤- الموارد المائية في العالم العربي التي تأتي من خارج حدوده تبلغ ٥٠% ص ١٦٤
- ٥- يصيب التلوّث عناصر البيئة من عدة مصادر للملوثات صناعية وزراعية و منزلية . ص ١٦٦
- ٦- من أكثر الملوثات انتشاراً في الوطن العربي التلوّث الكيميائي . ص ١٦٦
- ٧- عقد أكبر مؤتمر للأمم المتحدة لمواجهة تلوّث البيئة في مدينة ريودي جانيرو في البرازيل ص ١٦٧
- ٨- عقد أكبر مؤتمر للأمم المتحدة لمواجهة تلوّث البيئة عام ١٩٩٢ . ص ١٦٧
- ٩- عقد أكبر مؤتمر للأمم المتحدة في البرازيل و عرف باسم قمة الأرض وحضره أكثر من ١٠٠ رئيس دولة . ص ١٦٧
- ١٠- المواد الغازية الموجودة في وسائل التبريد وتكرير المياه تؤدي الى ثقب في طبقة الاوزون . ص ١٦٩
- ١١- بقاء عناصر الطبيعة في حالة من التوازن يسمى التوازن البيئي ص ١٧٠
- ١٢- تعد الرياح والشمس من مصادر الطاقة المتجددة . ص ١٧١
- ١٣- الدول العربية لديها القدرة على تحقيق التنمية والتقدم ويكون لها وزن عالمي اقتصادي و سياسي . ص ١٧٢
- ١٤- العام الذي تأسس فيه الصندوق السعودي لتنمية في عام ١٩٧٤ . ص ١٧٩
- ١٥- العام الذي تأسس فيه صندوق أبوظبي لتنمية في عام ١٩٧١ . ص ١٧٩
- ١٦- العام الذي تأسس فيه الصندوق الكويتي لتنمية الاقتصادية العربي في عام ١٩٦١ . ص ١٧٩
- ١٧- أعلن قيام مجلس التعاون الخليجي في عام ١٩٨١ . ص ١٨١
- ١٨- يضم مجلس التعاون الخليجي ٦ دول . ص ١٨١
- ١٩- عقد أكبر و أهم مؤتمر قمة عربية منذ تاريخ نشأة جامعة الدول العربية في دولة الكويت . ص ١٨٦
- ٢٠- عقد أكبر و أهم مؤتمر قمة عربية منذ تاريخ نشأة جامعة الدول العربية في يومي ١٩ و ٢٠ يناير . ص ١٨٦

٢١- أول مؤسسة لتنمية في الوطن العربي تسمى الصندوق الكويتي لتنمية الاقتصادية . ص ١٨٦

٢٢- أكد صاحب السمو أمير البلاد الشيخ صباح الأحمد الصباح بأن مؤتمر القمة العربية الاقتصادية والتنمية والاجتماعية

ستكون بوابة خير . ١٨٦

### السؤال الثاني : اكتب المصطلحات والمفاهيم الدالة على العبارات التالية:

- زحف رمال الصحراء على المناطق الجافة وشبه جافة يسمى التصحر . ص ١٦٢
- الضرر الذي يلحق بالتربة والهواء والماء ويصيب عناصر البيئة يسمى التلوث . ص ١٦٦
- بقاء عناصر الطبيعية في حالة من التوازن لتؤدي وظائفها على أكمل وجه يسمى التوازن البيئي . ص ١٧٠
- التطور والتطوير وهي عملية تتطلب التخطيط والمشاركة من الجميع تسمى التنمية . ص ١٧٢
- برامج تحسين نوعية الحياة ولا تتحقق إلا بمشاركة جميع المواطنين تسمى التنمية المستدامة . ص ١٧٥
- العمل على توثيق الصلات بين الدول والشعوب العربية وحماية مصالحها السياسية والاقتصادية والثقافية يسمى التضامن العربي . ص ١٧٧
- المنظمة العربية لتربية والثقافة والعلوم ( ألكسو ) مقرها تونس ص ١٧٧

### السؤال الثالث : ضع خطأ تحت الخيار الصحيح من بين الخيارات التي تلي كل عبارة :

- التلوث بأكسيد الكربون الناتج عن عوادم السيارات يؤدي إلى : ص ١٦٩  
( ارتفاع في درجة حرارة الأرض - اعتدال المناخ - ثقب طبقة الأوزون )
- أكثر الملوثات انتشارا في الوطن العربي التلوث : ص ١٦٦  
( الكيميائي - الفيزيائي - ضوضائي - المائي )
- المنظمة العربية لتربية والثقافة والعلوم (ألكسو) مقرها في : ص ١٨٣  
( ليبيا - الجزائر - مصر - تونس )

**السؤال الرابع : املئ المخطط السهمي :**




## السؤال الخامس : صححي ماتحته خط في العبارات التالية :

- عقد أكبر مؤتمر للأمم المتحدة في مدينة ريو دي جانيرو بالبرازيل عام ١٩٩٠ (١٩٩٢) ص ١٦٧
- منظمة إقليمية لدول العربية تم تشكيلها في مدينة الدوحة (القاهرة) ص ١٧٨
- انضمت اليمن لجامعة الدول العربية ف ٤ ابريل ١٩٤٦ (٥ مايو ١٩٤٥) ص ١٧٨
- تضم جامعة الدول العربية ٢٤ عضواً . (٢٢ عضواً) ص ١٧٨
- أعلن قيام مجلس التعاون الخليجي في ٢٥ مايو ١٩٨٢ (٢٥ مايو ١٩٨١) ص ١٨١
- أنشأت المنظمة العربية لتنمية الزراعة في عام ١٩٨٠ . (١٩٧٠) ص ١٨٢
- تأسس الصندوق الكويتي لتنمية الاقتصادية العربية في عهد الشيخ جابر الأحمد (عبدالله السالم) ص ١٨٤
- يتبع الصندوق الكويتي لتنمية الاقتصادية العربية حالياً وزارة الداخلية (وزارة الخارجية) ص ١٨٤
- تأسس الصندوق الكويتي لتنمية الاقتصادية العربية بفكرة ودعم من صاحب السمو عبدالله السالم (جابر الأحمد الصباح) ص ١٨٤
- صاحب مبادرة عقد القمة العربية الاقتصادية والتنمية الاجتماعية عام ٢٠٠٥ الشيخ جابر الأحمد الصباح (صباح الأحمد الجابر الصباح) . ص ١٨٧
- عقد أول مؤتمر للمانحين لدعم الوضع الإنساني في سوريا في السعودية . (الكويت) ص ١٨٨
- عقد المؤتمر الأول الدولي للمانحين لدعم الوضع الإنساني في سوريا عام ٢٠١٢ . (٢٠١٣) ص ١٨٩
- عقد المؤتمر الثاني الدولي للمانحين لدعم الوضع الإنساني في سوريا عام ٢٠١٥ . (٢٠١٤) ص ١٨٩
- عقد المؤتمر الأول والثاني والثالث الدولي للمانحين لدعم الوضع الإنساني في سوريا في دولة قطر . (الكويت) ص ١٨٩
- تتم صناعة الزيوت النباتية في المملكة السعودية . (المغربية) ص ١٧٣

**السؤال السادس : لاحظ الصور التالية ثم اكتب تعليقا مناسبيا :**

**أنواع التلوث ص ١٦٧**



تلوث الماء



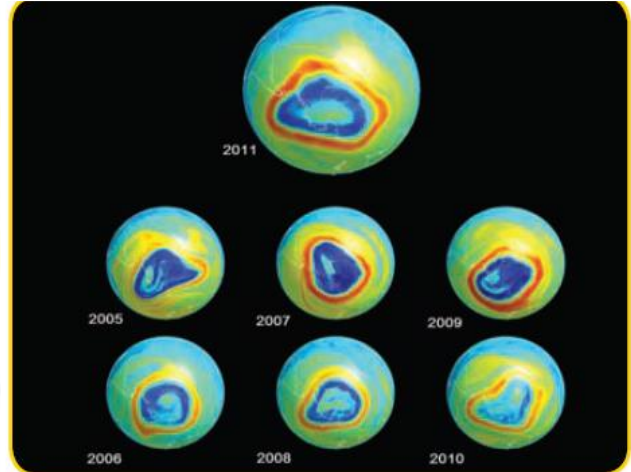
تلوث الهواء



تلوث التربة



حرق آبار النفط في دولة الكويت عام ١٩٩١ م  
نتيجة : تلوث هوائي ومائي وارضى ص ١٦٨



ثقب في طبقة الأوزون  
نتيجة : وسائل التبريد وتكرير المياه ص ١٦٨



مصنع لفرز النفايات ومعالجتها  
نتيجة: علاج مشكلة النفايات ص ١٦٨




شاطئ ملوث بالنفايات  
نتيجة: تلوث مائي ص ١٦٨



الرياح احد مصادر الطاقة المتجددة ص ١٧١



الشمس احد مصادر الطاقة المتجددة ص ١٧١



استخدام التكنولوجيا في صناعة الأقمار الصناعية  
ص ١٧٣



التعاون العربي ص ١٧٢



اجتماع وزراء الخارجية العرب لتحقيق التقدم  
والتنمية ص ١٧٧



صناعة الزيوت النباتية في المملكة المغربية  
ص ١٧٣



من خلال الصور التي امامك ، أملئ الفقرة التالية بما يناسبها :

تأسس الصندوق الكويتي لتنمية الاقتصادية العربية في عهد الشيخ عبدالله في تاريخ ٣١- ديسمبر ١٩٦١  
بفكرة و دعم من صاحب السمو جابر الاحمد الصباح حيث كان وزيرا للمالية آنذاك . ص ١٨٤



١- من صاحب المبادرة لعقد القمة العربية الاقتصادية والتنمية والاجتماعية ؟

الشيخ صباح الاحمد الجابر الصباح ص ١٨٦

٢- متى عقدت القمة العربية الاقتصادية والتنمية والاجتماعية ؟

في تاريخ ١٩- ٢٠ يناير ٢٠٠٩ م





١- أين عقد مؤتمر للمانحين لدعم لوضع الإنساني في سوريا ؟ ص ١٨٨

الكويت

٢- صورة اليد في الشعار تمثل

يد بيد لمساعدة الشعب السوري



جامعة الدول العربية

منظمة إقليمية للدول العربية ، وقدمت تشكيلها

في مدينة

في ٢٢ مارس ١٩٤٥ م ،

وضمّت ٦ أعضاء مؤسسين هم : مصر ،

الأردن ،

السعودية ،

إليها اليمن في ٥ مايو ١٩٤٥ م ، كما انضمت

إليها الكويت في عام

والآن تضم جامعة الدول العربية

عضواً .

ص ١٧٨



صندوق أبوظبي للتنمية ١٩٧١م



الصندوق الكويتي للتنمية الاقتصادية العربية  
KUWAIT FUND FOR ARAB ECONOMIC DEVELOPMENT

صندوق السعودية للتنمية ١٩٧٤م



صندوق أبوظبي للتنمية  
ABU DHABI FUND FOR DEVELOPMENT

صندوق الكويتي للتنمية الاقتصادية

العربية والذي تم إنشاؤه في ١٩٦١



الصندوق السعودي للتنمية



لاحظ الصور التالية تم اكمال المطلوب منك ص ١٨١:

أعلن قيام مجلس التعاون الخليجي  
في ٢٥ مايو من عام ١٩٨١ م في  
مدينة ..... أبو ظبي ..... ويضم المجلس  
٦ دول عربية مطلة على الخليج العربي  
وهي :

..... الكويت / ..... السعودية .....  
..... البحرين / ..... قطر .....  
..... الامارات / ..... عمان .....



١- ما اسم المنظمة ؟ ص ١٨٢

المنظمة العربية لتنمية الزراعة

٢- متى تم أنشاؤها ؟

في عام ١٩٧٠

٣- اين يقع مقرها ؟

الخرطوم

٤- ما هي أهدافها ؟

- تطوير الأنشطة المرتبطة بالزراعة

- رفع الكفاءة الانتاجية الزراعية والحيوانية





## المنظمة العربية للتنمية الصناعية والتعدين

١- ما اسم المنظمة؟ ص ١٨٢

المنظمة العربية لتنمية الصناعة والتعدين

٢- متى تم أنشائها؟

في عام ١٩٨٨

٣- اين يقع مقرها؟

الرباط

٤- ما هي أهدافها؟

- تطوير وتنمية الصناعة في الوطن العربي.

- وضع مواصفات لجودة الصناعة

١- ما اسم المنظمة؟ ص ١٨٣

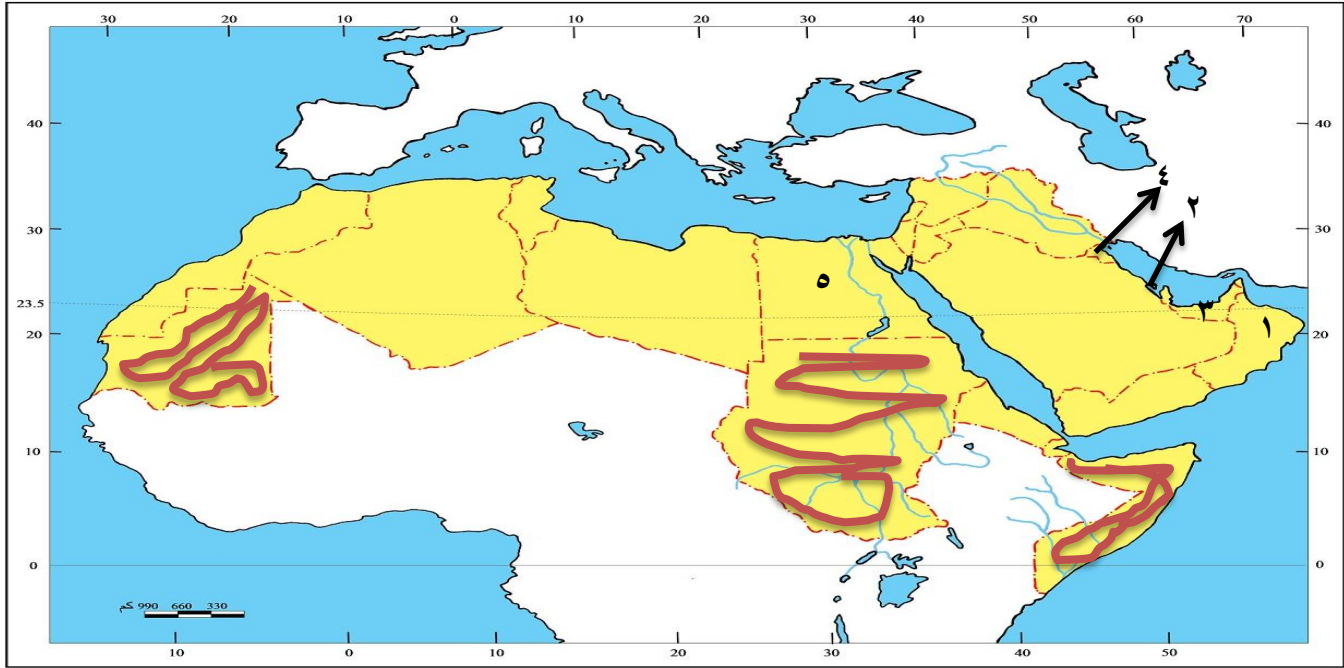
ألكسو ( المنظمة العربية لتربية والثقافة والعلوم

٢- اين يقع مقرها؟

تونس



**السؤال السابع : لاحظ خريطة الوطن العربي التي امامك ثم نفذ المطلوب :**



- ظلل باللون الاحمر أكثر الدول العربية المهتدة بالتصحر ص ١٦٢.
- محمية العرين توجد في دولة عربية يمثلها الرقم (٢) ص ١٧٠
- محمية المها توجد في دولة عربية يمثلها الرقم (١) ص ١٧٠
- محمية رأس الخيمة توجد في دولة عربية يمثلها الرقم (٣) ص ١٧٠
- مقر جامعة الدول العربية في دولة عربية يمثلها الرقم (٥) ص ١٧٨
- الدولة التي عقد فيها المؤتمر الدولي للمانحين لدعم الوضع الانساني في سوريا (٤) ص ٨٢

السؤال الأول : عرف مايلي :

- ١- التصحر : زحف رمال الصحراء على المناطق الجافة وشبه الجافة . ص ١٦٢
- ٢- التلوث : هو الضرر الذي يلحق بالتربة والهواء والماء ويصيب التلوث عناصر البيئة من عدة مصادر للملوثات . ص ١٦٦
- ٣- التنمية : تعني التطور والتطوير وهي عملية تتطلب التخطيط والمشاركة من الجميع . ص ١٧٢
- ٤- التنمية المستدامة : عبارة عن برامج تحسن نوعية الحياة ولا تتحقق إلا بمشاركة جميع المواطنين . ص ١٧٥
- ٥- التضامن العربي : هو العمل على توثيق الصلات بين دول و الشعوب العربية وحماية مصالحها السياسية والاقتصادية والثقافية . ص ١٧٧

السؤال الثاني : أجب عن مايلي :

- ١- ما هي العقبات التي تواجه الإنتاج الزراعي في الوطن العربي ؟ ص ١٦١
  - أ- عدم استغلال الاراضي القابلة للزراعة لندرة مياه الري أو تذبذب الأمطار أو قلة الأيدي العاملة
  - ب- اتباع طرق الزراعة التقليدية في معظم أجزاء الوطن العربي .
  - ج- زحف الرمال (التصحر) وانجراف التربة
  - د- تلوث التربة نتيجة للإسراف في استخدام المبيدات الحشرية وارتفاع نسبة الملوحة بالتربية .
  - و- الرعي الجائر
- ٢- اقترح حلول لبعض مشاكل الزراعة في الوطن العربي ؟ ص ١٦١
  - أ- استصلاح التربة
  - ب- الزراعة في البيوت البلاستيكية
  - ج- استخدام اساليب حديثة في الري كالري بالتنقيط
  - د- البحث عن مصادر مياه عذبة

٣- الأثار الناجمة عن الرعي الجائر ؟ ص ١٦٢

أ- تحول المناطق الزراعية والمراعي الى اراضى صحراوية

٤- ما النتائج المترتبة على معالجة الدول العربية للمشكلات المرتبطة بالزراعة ؟ ص ١٦٣

أ- زيادة الانتاج عن طريق الأساليب العلمية

ب- زيادة المساحات المزروعة

ج- إقامة مشروعات الري

٥- ما اسباب تدني وفرة المياه في الوطن العربي : ص ١٦٤

أ- النمو السريع للسكان الذي يشكل ضغطا متزايدا على المياه المتوفرة لكل فرد

ب- ٥٠% من الموارد المائية في العالم العربي تأتي من خارج حدوده ، وتتحكم فيها دول المنبع في غياب تشريعات دولية تضمن حقوقنا .

ج- الطرق التقليدية في استغلال المياه في معظم مناطق العالم مسؤولة عن تدني نسبة المياه

د- الشبكات المؤهلة لنقل المياه شبكات قديمة

و- افتقار الدول العربية إلى برامج لإدارة المياه ، كما أنها لا تستخدم الأدوات الاقتصادية اللازمة لترشيد الاستخدام المتزايد من المياه

٦- ما أهم مظاهر التلوث ؟ ص ١٦٦

أ- الاحتباس الحراري

ب- ثقب في طبقة الأوزون

ج- انتشار الأمراض وموت الكائنات الحية

٧- ما هي الخطوات نحو سياسة بيئية فاعلة ؟ ص ١٧١

أ- حماية الموارد الطبيعية

ب- توليد طاقة نظيفة

ج- تنمية الوعي البيئي

٨- ما هي طرق لحماية الموارد الطبيعية ؟ ص ١٧١

أ- استخدام السليم للموارد بعيدا عن الاستغلال السيئ للثروات الطبيعية وتلويثها بالنفايات .

ب- المحافظة على نظافة هذه الموارد بحيث تصبح قادرة على تجديد مواردها والتخلص من مخاطر التصحر وتلاشي تلوث الشواطئ

٩- ما هي الطرق المتبعة لتوليد طاقة نظيفة؟ ص ١٧١

أ- إعادة تجديد محطات الطاقة القديمة .

ب- الاعتماد على مصادر الطاقة البديلة كالشمس والرياح والمياه للتخفيف من تلوث البيئة .

١٠- كيف تنمي الوعي البيئي؟ ص ١٧١

أ- الاستعمال الأمثل للموارد من ماء وكهرباء

ب- فرز النفايات المنزلية و الابتعاد عن الأوعية البلاستيكية

ج- الحرص على نظافة الأماكن العامة والشواطئ

د- فحص محركات السيارات وصيانتها

و- التوقف عن تدمير أو قطع النباتات

١١- ارتكزت عملية التنمية في الوطن العربي على ثلاثة محاور رئيسية؟ ص ١٧٣

أ- التنمية الاقتصادية

ب- التنمية المستدامة

ج- التنمية البشرية

١٢- ما أهداف التنمية الاقتصادية؟ ص ١٧٤

أ- استخدام العلم في زيادة الإنتاج.

ب- تحقيق التكامل بين الدول العربية في الامكانيات والحاجات

١٣- ما أهداف التنمية البشرية؟ ص ١٧٤

أ- كيف يتم توظيف قدرات الانسان العربي لبناء مجتمع المعرفة .

ب- الاهتمام بالطفل العربي ورعايته في مرحلة الطفولة المبكرة .

ج- توفير فرص العمل والرعاية الصحية والقضاء على الفقر

د- رفع كفاءة الثروة البشرية علميا وفكريا وروحيا

و- تعميق المشاركة في الرأي والحوار في ظل الديمقراطية

١٤- ما المشكلات التي تواجه التنمية البشرية؟ ص ١٧٥

أ- ضعف الاستفادة من القدرات البشرية في المنطقة العربية

ب- مشكلة الأمية

ج- نقص و محدودية مشاركة المرأة في المنظمات السياسية



د- الاختلاف الكبير في مستويات المعيشة بين دولة وأخرى وفي داخل الدولة الواحدة .

١٥- ما أهداف التنمية المستدامة . ص ١٧٥

أ- القضاء على الفقر

ب- القضاء التام على الجوع

ج- الصحة الجيدة والرفاة

د- التعليم الجيد

هـ- المساواة بين الجنسين

و- المياه النظيفة والنظافة الصحية

ز- طاقة نظيفة وبأسعار معقولة

١٦- عددي جوهر التنمية المستدامة ؟ ص ١٧٦

أ- الحرية

ب- المعرفة

ج- العمل الجماعي

ح- الابداع

د- الكفاءة لا المحسوبية

هـ- حقوق المرأة

و- حقوق الطفل

١٧- أنشأت الجامعة العربية عددا من المؤسسات الاقتصادية والاجتماعية وعقدت المؤتمرات المختلفة لتحقيق التعاون العربي والتكامل الاقتصادي بين الدول العربية ومن ابرز هذه المؤسسات ؟ ص ١٧٧

أ- مجلس الوحدة الاقتصادية العربية

ب- المنظمة العربية للتنمية الزراعية

١٨- ما أهم الصناديق الوطنية على مستوى الدول التابعة للجامعة العربية ؟ ص ١٧٩

أ- الصندوق الكويتي للتنمية الاقتصادية العربية والذي تم إنشاؤه عام ١٩٦١ .

ب- صندوق أبوظبي للتنمية ١٩٧١م

ج- الصندوق السعودي للتنمية ١٩٧٤ م .

١٩- كان نجاح سياسة الكويت في المجال العربي عاملا مهما باتخاذها مقرا لعدة منظمات عربية منها؟ ص ١٨٢

أ- المنظمة العربية للتنمية الزراعية .

ب- المنظمة العربية للتنمية الصناعية والتعدين

ج- المنظمة العربية لتربية والثقافة والعلوم ( ألكسو )

٢٠- ما أهم أهداف القمة الاقتصادية التنموية العربي؟ ص ١٨٦

أ- إنشاء بنك عربي لتمويل شتى المشاريع التنموية للتقليل من معدلات الفقر .

ب- القضاء على البطالة والفقر بتوفير فرص العمل

ج- الاستثمار الاقتصادي بين الدول العربية وتقوية التبادل التجاري

د- الاعتناء بالعنصر البشري والتنمية المستدامة

٢١- ما سبب عقد مؤتمر القمة العربية الاقتصادية والتنموية والاجتماعية عام ٢٠٠٩ م؟ ص ١٨٧

أ- إعادة تعمير قطاع غزة بعد تعرضها للغزو الاسرائيلي الغاشم في بداية يناير ٢٠٠٩ م

ب- الذي أسفر عن قتل الآلاف من الابرياء وتدمير البنية التحتية لقطاع غزة بالكامل

٢٢- من صاحب مبادرة عقد القمة العربية الاقتصادية والتنموية والاجتماعية عام ٢٠٠٩؟ ص ١٨٧

أ- صاحب السمو أمير البلاد الشيخ صباح الأحمد الجابر الصباح

٢٣- لماذا تعتبر السودان والصومال وموريتانيا أكثر الدول العربية تهديدا بالتصحر؟ ص ١٦٢

أ- لانها تقع في مناطق جافه وشبه جافة

٢٤- كيف تتحول الأراضي الزراعية إلى أراضي صحراوية غير منتجة؟ ص ١٦٢

أ- فقدان التربة لخصوبتها

ب- تناقص كميات المطر

ج- الضغط السكاني

٢٥- ما علاج مشكلة التصحر في الوطن العربي؟ ص ١٦٣

أ- يتطلب تشجير بعض المناطق

ب- مصدات للرياح لحماية المزروعات من زحف الرمال .

ج- تثبيت الكثبان الرملية

د- إقامة المحميات الطبيعية

٢٦- ما هي مصادر الملوثات التي تصيب عناصر البيئة بالتلوث؟ ص ١٦٦

أ- صناعية ب- زراعية ج- منزلية

٢٧- ما أكثر الملوثات انتشارا؟ ص ١٦٦

أ- هو التلوث الكيميائي مثل الغازات السامة الصادرة من محطات التحلية ودخان المصانع وعوادم السيارات

٢٨- ما اسباب التلوث البيئي؟ ص ١٦٦

أ- انتشار الدخان من عوادم السيارات والمصانع

ب- القاء المخلفات الصناعية والبشرية في المياه

ج- استخدام المبيدات الحشرية والاسمدة الكيميائية

٢٩- ما أثر التلوث على الإنسان والنبات والحيوان؟ ص ١٦٦

أ- انتشار الامراض بين البشر والحيوانات

ب- القضاء على الغطاء النباتي الطبيعي

٣٠- ما الاسباب التي تدعو الشباب والعلماء للهجرة إلى الخارج؟ ص ١٧٥

أ- انعدام العدالة في توزيع فرص العمل

ب- الريادة العلمية والتكنولوجية للبلدان الجاذبة ومناخ الاستقرار والتقدم الذي تتمتع به هذه البلدان

ج- توافر الثروات المادية الضخمة التي تمكنها من توفير فرص عمل هامة ومجزية ماديا .

د- إتاحة الفرص لأصحاب الخبرات في مجال البحث العلمي والتجارب التي تثبت كفاءتهم وتطورها من جهة

أخرى .

٣١- ساهمت صناديق التنمية العربية بشكل ايجابي في مشاريع التنمية العربية عن طرق؟ ص ١٧٩

أ- تقديم القروض والتمويل المشترك

ب- تقديم المنح للتمويل

ج- تقديم المساعدات الاقتصادية للدول تدعيما لنموها الاقتصادي .

٣٢- ما هي اهداف مجلس التعاون الخليجي؟ ص ١٨١

أ- تحقيق التعاون بين الدول الاعضاء في جميع المجالات

ب- تحقيق الترابط والصلات بين دول مجلس التعاون الخليجي

ج- العمل على تقدم دول مجلس التعاون الخليجي في المجال العلمي

٣٣- ما اهم انجازات الصندوق الكويتي لتنمية الاقتصادية العربية ؟ ص ١٨٥

أ- مشروع ضخ لمياه نبع السن في سوريا

ب- صيانة وتدعيم ري الرهد في السودان

ج-مصنع للأسمدة الفوسفاتية في الاردن

٣٤- ما اهداف الصندوق الكويتي للتنمية الاقتصادية العربية ؟ ص ١٨٥

أ- تقديم القروض المسيرة للدول المحتاجة .

ب- تقديم كافة المساعدات المادية لقضايا العالم العربي والاسلامي

ج- المساهمة في تطوير التنمية في الوطن العربي والعالم الاسلامي

٣٥- ما اهم القرارات والتوصيات التي صدرت في مؤتمر المانحين الثاني والثالث ؟ ص ١٨٩

أ- التخفيف من المعاناة الانسانية والوضع المأساوي للشعب السوري

ب- توفير أكبر قدر من المساعدات والموارد المالية لمواجهة هذه الكارثة الانسانية التي يمر بها الشعب السوري

ج- تكاتف الجهود المجتمع الدولي وتوحيد صفوفه لإيجاد حل لتجاوز هذا الوضع المأساوي لسوريا .

٣٦- كيف نحافظ على ثروة المياه ؟ ص ١٦٥

أ- ترشيد استخدام المياه والحد من التبذير في المنازل

ب- الحد من هدر المياه في عمليات الري ، وذلك باستخدام الوسائل الحديثة كالرش بالتنقيط والمحوري .

ت- تطوير استعمال مياه الصرف الصحي المعالجة في الزراعة .

ج- تنظيم عملية الاستفادة من المياه الجوفية ومنع تسرب الاملاح الملوثة اليها واستثمارها على الوجه الامثل

ح- اقامة البحيرات والسدود لتجميع مياه الامطار والسيول للاستفادة منها في فصل الصيف

د- توقيع اتفاقيات مع الدول المشاركة ودول المنبع لتحقيق مصالح الدول العربية المعنية

مع تُمْنِيَاتِنَا لَكُمْ بِالنَّجَاحِ وَالتَّوْفِيقِ

# الفهرس

رقم الصفحة	عنوان الوحدة	اسم المعلم/ه
٤٢ الى ٢١	الوحدة الاولى (الوطن العربي مقومات وملامح جغرافية)	شهد النومس
٦٣ الى ٤٤	الوحدة الاولى (الوطن العربي مقومات وملامح جغرافية)	زينب الأشوك
٧٨ الى ٧١	الوحدة الثانية (الوطن العربي مهد الحضارات والديانات السماوية)	غدير العازمي
٩٢ الى ٧٩	الوحدة الثانية (الوطن العربي مهد الحضارات والديانات السماوية)	جلال عبد الحافظ
١٥٢ الى ٩٩	الوحدة الثالثة (الوطن العربي ملامح بشريه واقصاديه)	فاطمه المويصري
١٧٦ الى ١٦١	الوحدة الرابعة (الوطن العربي قضايا وتحديات وحلول نحو مستقبل افضل)	وضحه الروقي + زينب الأشوك + غدير العازمي
١٨٦ الى ١٧٧	الوحدة الرابعة (الوطن العربي قضايا وتحديات وحلول نحو مستقبل افضل)	انوار الرشيدى + زينب الأشوك + غدير العازمي

تنسيق المعلمة : زينب الاشوك