



وزارة التربية

الإدارة العامة لمنطقة مبارك الكبير التعليمية

اختبار نهاية الفصل الدراسي الاول
٢٠١٩ / ٢٠١٨

«الثامن»	الصف
«الاجتماعيات»	المادة

نموذج إجابة



الإدارة العامة لمنطقة مبارك الكبير التعليمية
التوجيه الفني العام للاجتماعيات
اختبار نهاية الفترة الدراسية الاولى
للفصل الثامن لمادة الاجتماعيات
العام الدراسي: ٢٠١٨ - ٢٠١٩
عدد الأوراق: (٦)
الزمن: ساعة و ٤٥ دقيقة



السؤال الأول: موضوعي و يتكون من (أ - ب) : (١ × ٦ = ٦ درجة)

أ/ اختر البديل المناسب من بين البدائل التي تلي كل عبارة بوضع خط تحتها :

١- أولى دول العالم الإسلامي في إنتاج معدن اليورانيوم تسمى : ص ٧٠

النيجر	كازخستان	باكستان	السعودية
--------	----------	---------	----------

٢- يعتبر قصر الحمراء نموذجاً مميزاً للعمارة الإسلامية ويقع في مدينة : ص ٣٥

الفسطاط	دومة الجندل	غرناطة	الرباط
---------	-------------	--------	--------

٣- المسجد الكبير من أهم المظاهر العمرانية في دولة الكويت والذي افتتح عام : ص ٣١

١٩٨٦م	١٩٨٧م	١٩٨٨م	١٩٨٩م
-------	-------	-------	-------

٤- تقع دولة الكويت ضمن إقليم مناخي: ص ٦٣

المداري	الاستوائي	الصحراوي	المعتدل
---------	-----------	----------	---------

٥- يبلغ إنتاج العالم الإسلامي من النفط الخام : ص ٦٧

٤٠.٥ %	٤١.٥ %	٤٢.٥ %	٤٣.٥ %
--------	--------	--------	--------

٦- لقب الشيخ صباح الأحمد الجابر الصباح من قبل الأمم المتحدة بقائد العمل الإنساني في عام : ص ٢٤

٢٠١١م	٢٠١٢م	٢٠١٣م	٢٠١٤م
-------	-------	-------	-------


ب / أكمل العبارات التالية بما يناسبها فيما درست : (١ × ٦ = ٦ درجة)

- القرن الذي امتدت به الحضارة الإسلامية عبر قارات العالم القديم هو القرن الثامن الميلادي ص ١٧
- المنصب الإداري الذي استحدثه الخليفة عمر بن الخطاب منصب المحتسب ص ٢٥
- الخليفة العباسي الذي شجع على العلم وحركة الترجمة هو المأمون ص ٣٧
- مؤلف كتاب نزهة المشتاق في اختراق الآفاق هو العالم الشريف الإدريسي ص ٤٢
- استفاد الأوروبيون من طريقة المسلمين في نقل الرسائل جواً عن طريق الحمام الزاجل ص ٤٣
- محاصيل تزرع من أجل التصدير تسمى الغلات النقدية ص ٧٣

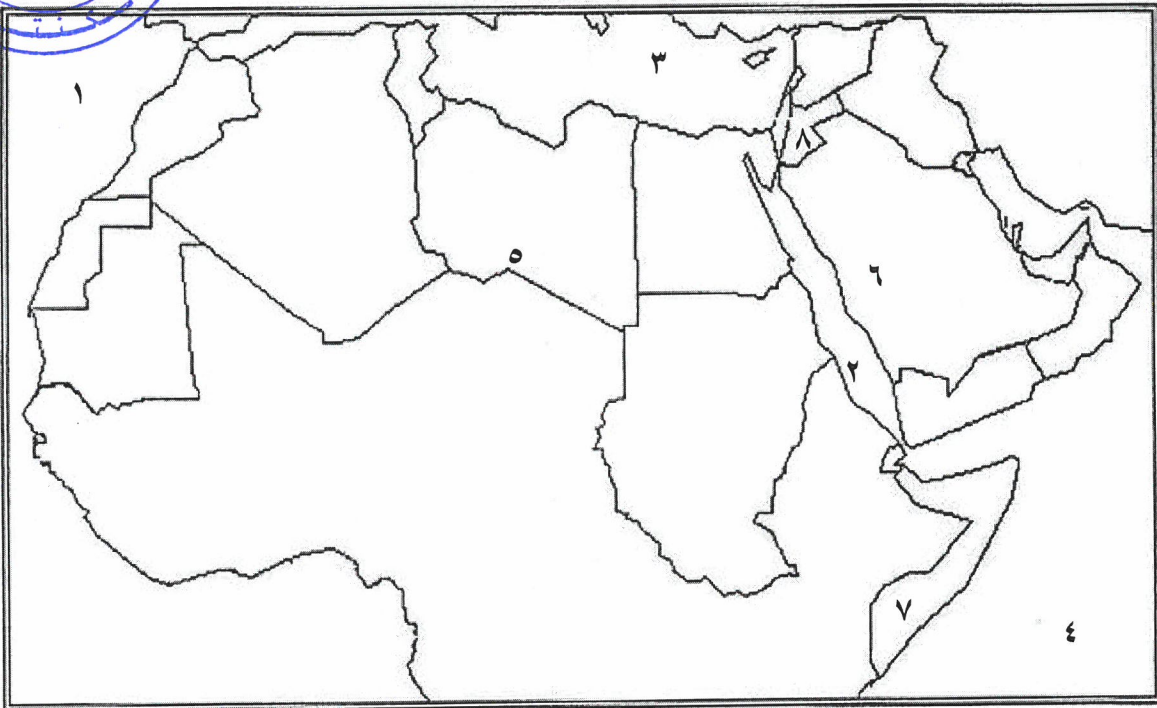
تابع / اختبار مادة الاجتماعيات للصف الثامن المتوسط - نهاية الفترة الدراسية الاولى العام الدراسي ٢٠١٨ - ٢٠١٩
السؤال الثاني : موضوعي و يتكون من (أ - ب) : (١ × ٦ = ٦ درجة)

أ / اختر من المجموعة (أ) ما يناسبها من المجموعة (ب) بكتابة الرقم المناسب : ص ٣٣

م	المجموعة (أ)	الرقم	المجموعة (ب)
١	المسجد النبوي	٣	إسطنبول
٢	المسجد الأقصى	٥	القاهرة
٣	مسجد السلطان احمد	٤	تونس
٤	جامع الزيتونة	١	المدينة المنورة
٥	جامع الأزهر	٦	دمشق
٦	المسجد الأموي	----	الكويت
		٢	القدس



ب) أمامك خريطة الوطن العربي أجب عما هو مطلوب منك : (١ × ٦ = ٦ درجة)



- ١) تقع جبال الحجاز في دولة عربية تحمل على الخريطة الرقم (٦) ص ٥٤
- ٢) الدولة العربية التي يمر عليها خط الاستواء تحمل على الخريطة الرقم (٧) ص ٦٣
- ٣) يحد بلاد المغرب من جهة الغرب مسطح مائي يحمل الرقم (١) ص ٥٦
- ٤) البحر المتوسط على الخريطة يحمل الرقم (٣) ص ٥٦
- ٥) هضبة الصحراء الكبرى على الخريطة يحمل الرقم (٥) ص ٥٦
- ٦) تعتبر بلاد الشام مركز إشعاع الحضارة الإسلامية إلى أوروبا وتحمل على الخريطة الرقم (٨) ص ٤١



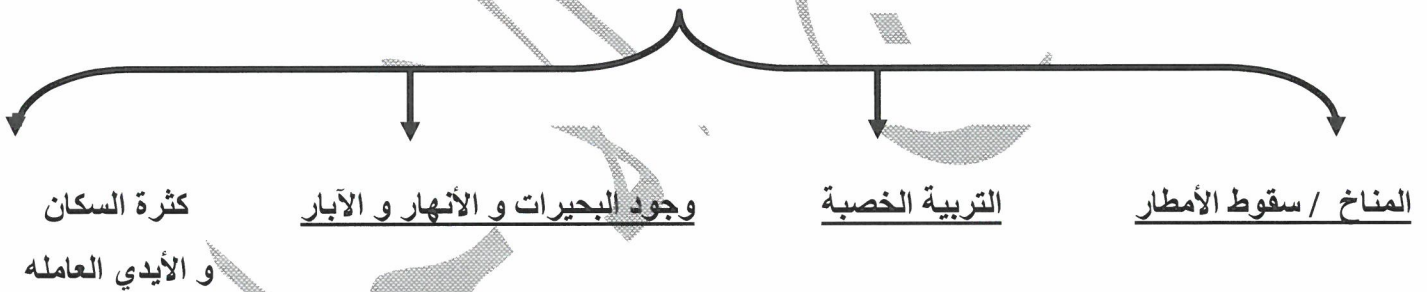
تابع / اختبار مادة الاجتماعيات للصف الثامن المتوسط - نهاية الفترة الدراسية الاولى العام الدراسي ٢٠١٨ - ٢٠١٩
السؤال الثالث : موضوعي و يتكون من (أ - ب) : (١ × ٦ = ٦ درجة)

أ . اكتب المفهوم العلمي الدال على العبارات التالية :

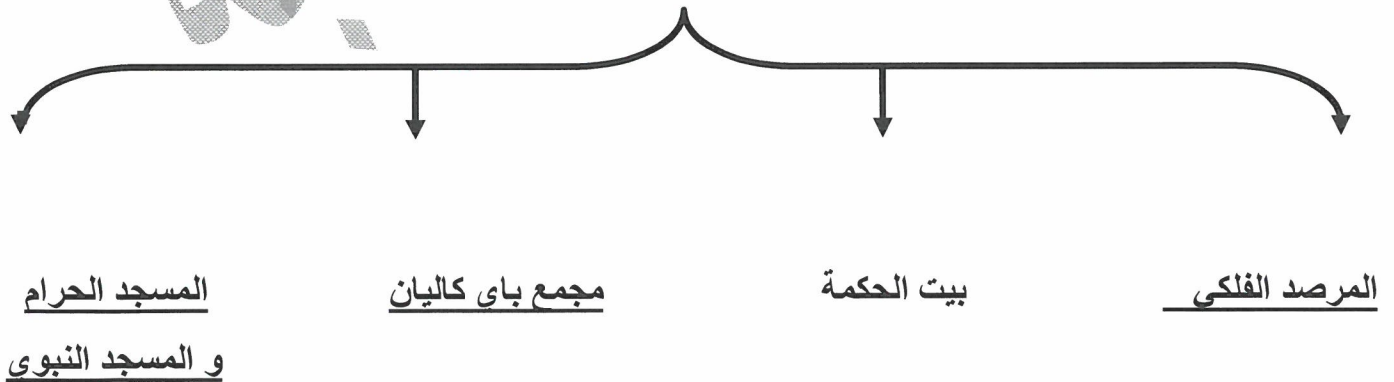
- ١- (جوت) نبات ينمو في المناطق الاستوائية والموسمية. ص ٧٣
- ٢- (احتياطي النفط) كمية النفط المخزونة في باطن الأرض ولم تستخرج بعد . ص ٦٨
- ٣- (الحضارة) كل ما يطرأ على المجتمع من تقدم ورقي في الجانب المادي و الجانب الروحي . ص ١٨
- ٤- (هضبة) أرض مرتفعة سطحها مستو و تمتد في مساحة واسعة . ص ٥٦
- ٥- (القصور) مقر الحاكم والمكان الذي يضم المؤسسات الإدارية كالوزارة والدواوين . ص ٣٤
- ٦- (أهل الذمه) هم النصارى واليهود الذين ظلوا على دينهم مع دفع الجزية . ص ٣٦

ب (أكمل المخططات السهمية التالية : (١ × ٦ = ٦ درجة)

١- عوامل ساعدت على زيادة الإنتاج الزراعي في دول العالم الإسلامي ص ٧٢



٢- أهم المراكز العلمية في الحضارة الإسلامية ص ٣٨





تابع / اختبار مادة الاجتماعيات للصف الثامن المتوسط - نهاية الفترة الدراسية الاولى العام الدراسي ٢٠١٩-٢٠٢٠

السؤال الرابع: مقالتي و يتكون من (أ - ب) : (١ × ٢ = ٢ درجة) يكتفى بنقطتين

(أ) علل لما يلي :

١. تنوع المناخ في دول العالم الاسلامي . ص ٦٣
- * امتداد العالم الاسلامي على مساحة واسعة .
- * الموقع بالنسبة لدوائر العرض.
- * الاطلاله على عدة مسطحات مائية.
- * التنوع في التضاريس.
٢. أهمية السهول للدول . ص ٥٨
- * استخدامها كموانئ طبيعيه.
- * تشييد المدن.
- * تركيز السكان فيها للسهولة التنقل.
٣. لقيت التجارة تشجيعاً كبيراً في الحضارة الإسلامية. ص ٢٨ (١ × ١ = ١ درجة)
- * موقع العالم الاسلامي الاستراتيجي.
- * أسهمت في نشر الإسلام .
- (ب) قارن بين كل من طبقاً للجدول التالي : (١ × ٤ = ٤ درجة) لكل نقطة درجة

ص ٦٤

المعيار	المناخ الموسمي	المناخ القاري
المفهوم	هو المناخ حاراً ممطر صيفاً	هو المناخ الصحراوي الحار
الدول التي يوجد بها الإقليم	بنغلاديش - باكستان - عمان اليمن	دول شبه الجزيرة العربية مصر - ليبيا - الجزائر السودان - تشاد - النيجر - موريتانيا - مالي - الصومال



تابع / اختبار مادة الاجتماعيات للصف الثامن المتوسط - نهاية الفترة الدراسية الأولى العام الدراسي ٢٠١٨ - ٢٠١٩

السؤال الخامس: مقالاً و يتكون من (أ - ب) :

أ) فرق بين كل مما يلي :- (١ × ٤ = ٤ درجة) لكل مفهوم درجة

الطقس ص ٦٤	المناخ ص ٦٤
هو حالة الجو في مكان لمدة قصيرة تتراوح بين يوم او عدة أيام من حيث درجة الحرارة والرطوبة والأمطار والضغط الجوي	هو حالة الجو خلال فترة زمنية طويلة من حيث درجة الحرارة والرطوبة والأمطار والضغط الجوي
الخراج ص ٢٨	الزكاة ص ٢٨
ضريبة الأرض الزراعية التي تخرج مبلغاً مالياً معيناً من ناتج المحصول الزراعي	ركن من أركان الإسلام يخرجها المسلمون الأغنياء للمستحقين من الفقراء

ب) فند العبارة التالية: -

١- لم يكن للحضارة الإسلامية دور في نهضة الحضارة الأوروبية. ص ٤٢ (١ × ١ = ١ درجة)

* تدين أوروبا بالفضل الكبير للحضارة الإسلامية حيث كانت سبباً في النهضة الصناعية والعلمية الأوروبية مثل تأثر العالم الإنجليزي روجر بيكون بمؤلفات الفيلسوف الكندي في الهندسة.

٢- لم تكن هنالك عوامل تساعد على ازدهار العلم وظهور العلماء المسلمين . ص ٣٧

(١ × ٣ = ٣ درجات)

*تشجيع العلماء ورعاية وتمويل القيادات السياسية لهم من خلفاء وملوك وأمرء.

* حركة التعريب (الترجمة) للكتب القديمة اليونانية و الهندية و الفارسية وغيرها .

*التنافس العلمي بين الدول الإسلامية * الرخاء الاقتصادي



السؤال السادس: مقال و يتكون من (أ - ب):

أ. أقرأ الفقرة التالية ثم أجب عما يليها من أسئلة: ص ٥١ - ٥٥

((يشغل العالم الإسلامي موقعا جغرافيا مهما على خريطة العالم وتتواجد دول العالم الإسلامي ضمن أربع قارات هي آسيا وإفريقيا وأوروبا بالإضافة إلى أمريكا الجنوبية وتبلغ مساحة العالم الإسلامي حوالي ٣٢ مليون كم^٢ أي حوالي ٢٢,٢% من مساحة العالم))

أجب على الأسئلة التالية :

١. ضع عنوان للفقرة السابقة . (١ × ١ = درجة)

يترك للمتعم

١- كم تبلغ مساحة العالم الإسلامي. ص ٥٣ (١ × ١ = درجة)

٣٢ مليون كم^٢

٢- برهن على قلة السكان في المناطق الجبلية في دول العالم الإسلامي. ص ٥٥ (٢ × ١ = درجة)
* شدة انحدارها. * صعوبة التنقل. * ندرة المياه. * قلة وجود الأكسجين

ب / دلل على صحة العبارات التالية :

١- أهمية الوقف الإسلامي في حياة المسلمين . (١ × ١ = درجة)

* سد حاجات الفقراء والمساكين والمرضى ونشر العلم النافع وبناء المدارس ودور الأيتام ص ٢٩

٢- تركز زراعة الأرز في ماليزيا وباكستان واندونيسيا وبنغلادش . (٢ × ١ = درجة)

* بسبب المناخ الملائم . * توفر المياه * التربة الخصبة ص ٧٣

٣- اهتمام الدولة الإسلامية بقطاع الصناعة . (١ × ١ = درجة)

من أجل استثمار الموارد الطبيعية المتوفرة في الدولة الإسلامية ص ٢٧