

اكمل العبارات التالية بما يناسبها:

- ١- ظهر الخطر البيئي في العالم الاسلامي مع بداية قيام.....
- ٢- العام الذي تم فيه إنشاء شرطة البيئة في دولة الكويت.....م
- ٣- تعرضت دولة الكويت للعدوان العراقي عام.....
- ٤- العام الذي تحررت فيه دولة الكويت من العدوان العراقي.....م
- ٥- تعرضت مياه الجون لضخ المجاري لأول مرة عام.....
- ٦- العام الذي عانت فيه موريتانيا من التلوث المائي.....
- ٧- الإعصار الذي ضرب سواحل سلطنة عمان الشرقية عام ٢٠٠٧م عرف باسم.....
- ٨- العام الذي عقد فيه مؤتمر الأمم المتحدة للتصحر عام.....
- ٩- العام الذي جاء فيه اول ترسيم الحدود بين الكويت والعراق.....م
- ١٠- اطلق على حرب تحرير دولة الكويت اسم.....
- ١١- اطلق على مؤتمر القمة العربية الذي عقد بالقاهرة عام ٢٠٠٠م اسم قمة.....
- ١٢- بلغ عدد الآبار النفط الكويتية المشتعلة.....بئراً
- ١٣- اعلى الدول الاسلامية في معدل محو الأمية تسمى.....
- ١٤- بلغ عدد سكان دولة الكويت.....
- ١٥- العام الذي الذي احتلت فيه ٨٠٪ من أراضي فلسطين.....م
- ١٦- وقعت فلسطين بعد الحرب العالمية الاولى تحت الانتداب ال.....
- ١٨- العام الذي عقد فيه قمة التضامن مع الشعب الفلسطيني في غزة.....م
- ١٩- المعسكر الذي تحيي جمهورية البوسنة والهرسك من كل عام اغلاقه يسمى.....
- ٢٠- العام الذي تم فيه تغيير مسمى منظمة التعاون الاسلامي.....م
- ٢١- صاحب فكرة إنشاء الصندوق الكويتي للتنمية الاقتصادية هو الشيخ.....
- ٢٢- تمت السيطرة كل الآبار المحترقة خلال.....يوم
- ٢٣- العام الذي دعا فيه الملك فيصل بن عبدالعزيز لإنشاء تجمع يضم الدول الاسلامية.....م
- ٢٤- تأسست جمعية الهلال الأحمر عام.....م
- ٢٥- تأسست الهيئة الخيرية الاسلامية العالمية.....م
- ٢٦- العام الذي أنشئ فيه بيت الزكاة.....م
- ٢٧- اعلنت دولة الكويت عن خطط لتوليد ١٥٪ من احتياجاتها من الطاقة بحلول عام.....م
- ٢٨- آخر بئر نفطي تم اطفائه بعد العدوان العراقي على دولة الكويت بتاريخ.....م

٢٩- اقل الدول الاسلامية في محو الأمية بين الدول الاعضاء حسب احصائية ٢٠١٥م
تسمى.....

صحح ماتحته خط في العبارات التالية:

التصحيح	العبرة
	١-الغاز المسبب الاول عن الاحتباس الحراري هو <u>الاكسجين</u>
	٢-تم تشغيل اول محطة كهرباء في الكويت تعمل بالطاقة الشمسية عام <u>٢٠١٨م</u>
	٣-الدولة التي قامت بتشغيل مدرسة بالطاقة الشمسية هي <u>تونس</u>
	٤-تبلغ نسبة السكان الذي يعيشون تحت خط الفقر في العالم الاسلامي <u>٣٨٪</u>
	٥-الدولة الاسلامية الأعلى في نسبة الفقر <u>باكستان</u>
	٦-هاجمت القوات العراقية مركز الصامته عام <u>١٩٧٥م</u>
	٧-المؤتمر الذي تم فيه ترسيم الحدود مابين الكويت والعراق والسعودية عام <u>١٩٢٢م</u> يسمى <u>جدة</u>
	٨-اندلعت الحرب الأهلية في الصومال عام <u>١٩٩٠م</u>
	٩-تم اطفاء آبار النفط المشتعلة في دولة الكويت في عهد الشيخ <u>صباح الاحمد</u>
	١٠-أصدرت الجمعية العامة للأمم المتحدة قرار <u>١٨٠</u> لتقسيم فلسطين الى قسمين عربي ويهودي.
	١١-العام الذي عقدت فيه الحماية البريطانية الكويتية عام <u>١٨٩٨م</u>
	١٢-العام الذي عقد فيه مؤتمر عقير بين الكويت والعراق والسعودية عام <u>١٩٢١م</u>
	١٣-عقد مؤتمر القمة العربية الثالثة في عام <u>١٩٥٦م</u>
	١٤-تعرض المسجد الاقصى للاحتراق في عام <u>١٩٧٩م</u>

	١٥-تقع كازاخستان في قارة أفريقيا
	١٦-تقع البانيا في قارة اسيا
	١٧-يبلغ عدد الدول الاسلامية المنضمة لمنظمة التعاون الاسلامي ٧٠دولة
	١٨-المدينة التي عقد فيها المؤتمر القمة الاسلامي الرابع عام ١٩٨٤ هي الرياض
	١٩-تأسس الصندوق الكويتي للتنمية الاقتصادية عام ١٩٢٨
	٢٠-يقع مقر اللجنة الاسلامية للهلل الدولي في مدينة طرابلس
	٢١-يطلق على وكالة الأنباء الاسلامية الدولية اسم ايسيسكو

ضع خطأً تحت العبارات الصحيحة التالية بمايناسبها:

١-بلغت نسبة التلوث الهوائي في باكستان من عوادم السيارات:

(٤٠٪ - ٥٠٪ - ٦٠٪ - ٧٠٪)

٢- المدينة التي تعتبر نموذجاً للتلوث الضوضائي في العالم الاسلامي:

(دمشق -القاهرة- الرياض- بغداد)

٣-عقدت اتفاقية الحماية البريطانية الكويتية عام:

(١٨٨٨م - ١٨٩٩م - ١٨٨٧م - ١٨٨٦م)

٥-تخطط الكويت لإنتاج الطاقة من المصادر المتجددة حتى عام ٢٠٣٠م بنسبة:

(١٥٪ - ٢٠٪ - ٢٥٪ - ٣٠٪)

٦-قرار مجلس الامن الخاص بترسيم الحدود بين الكويت والعراق عام ١٩٩٣م يحمل الرقم:

(٨١١ - ٨٢٢ - ٨٣٣ - ٨٤٤)

٧-تشرّد ٧٥٠,٠٠٠ من الفلسطينيين ما بين نازح ومهاجر في حرب:

(١٩٤٦م - ١٩٤٧م - ١٩٤٨م - ١٩٤٩م)

٨- العام الذي احتلت فيه غزة والضفة الغربية وسيناء وهضبة جولان:
(١٩٦٧م - ١٩٦٨م - ١٩٦٩م - ١٩٧٠م)

٩- تأسس بيت الزكاة عام:
(١٩٨٢م - ١٩٨١م - ١٩٨٣م - ١٩٨٤م)

١٠- انشأت منظمة التعاون الاسلامي في مدينة:
(الرياض - الرباط - القدس - الكويت)

١١- تبلغ نسبة دعم البنك الاسلامي للطاقة في الدول الاسلامية:
(٢١٪ - ٢٢٪ - ٢٣٪ - ٢٤,٦٪)

١٢- عقد اول مؤتمر للدول المانحة عام:
(٢٠١١م - ٢٠١٢م - ٢٠١٣م - ٢٠١٤م)

١٣- يقع مقر منظمة التعاون الاسلامي في مدينة
(الرباط - دمشق - جدة - القاهرة)

١٤- يعقد مؤتمر ملوك وأمراء ورؤساء الدول والحكومات في منظمة التعاون الاسلامي مرة كل:
(سنة واحدة - سنتين - ثلاث سنوات - اربع سنوات)

١٥- يعين الأمين العام لمنظمة التعاون الاسلامي لمدة
(سنة واحدة - سنتين - ثلاث سنوات - اربع سنوات)

١٦- دولة خليجية سجلت اعلى معدل في الامام البالغين بالقراءة والكتابة حيث بلغ ٩٧٪ من
اجمالي السكان:
(قطر - عمان - بحرين - المملكة العربية السعودية)

اكمل المخطط السهمي التالي:

انواع التلوث البيئي



مصادر التلوث البيئي



تنقسم الحدود السياسية




جوانب اهداف منظمة التعاون الاسلامي



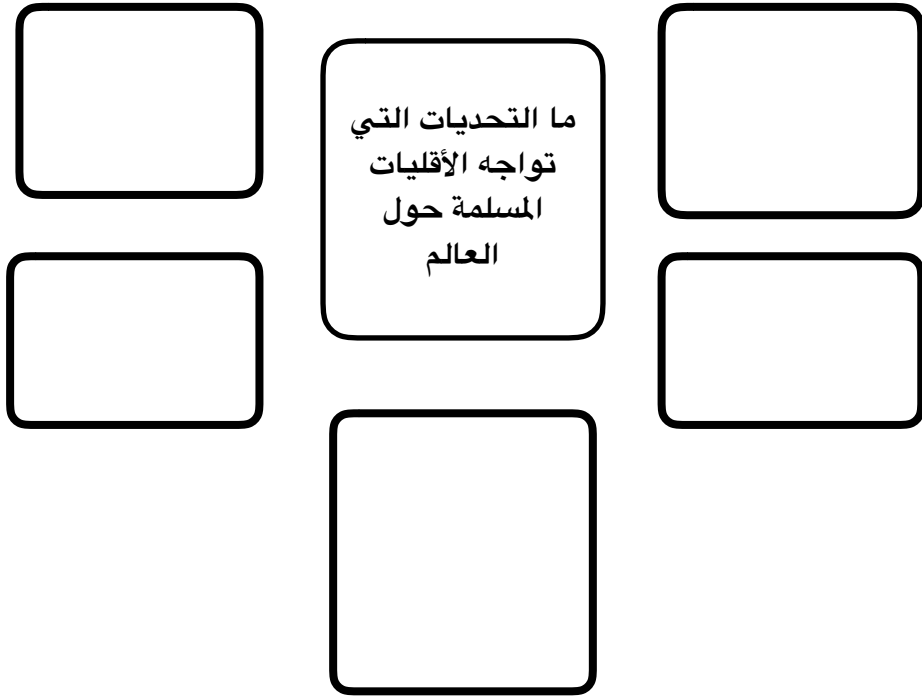
اسباب الزيادة السكانية



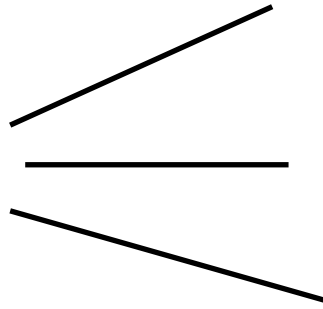
صمم خريطة ذهنية لاجهزة منظمة التعاون الاسلامي



-اكمل الشكل التالي:



اكمل الخريطة الذهنية التالية عن الصندوق الكويتي للتنمية:



سنة الإنشاء
.....

صاحب الفكرة والمبادرة
.....

الأهداف
.....
.....

يمثل الشعارات التي أمامك لجمعيات وهيئات الخيرية في دولة الكويت
اكتب سنة التأسيس أسفل كل شعار:



الهيئة الخيرية الإسلامية العالمية
International Islamic Charity Organization



هيئة حكومية مسجلة
دولة الكويت

م.....

م.....

م.....

قارن بين المشكلات البيئية التي أمامك من حيث الجدول التالي:

التلوث الضوضائي	تلوث التربة	النفايات	المقارنة
			الأسباب
			النتائج

المؤتمر الاسلامي	الاول	الخامس	الثالث عشر
العام			
مقر الانعقاد			
سبب الانعقاد			
اهم القرارات			

المنظمات والمؤسسات الاسلامية	وكالة إينا	البنك الاسلامي للتنمية	منظمة ايسيسكو	مجمع الفقه الاسلامي	اللجنة الاسلامية للشلال الدولي
العام					
المقر					
الاهداف					

صنف المؤسسات التالية حسب الجدول :-

وزارة المالية- بيت الزكاة- غرفة تجارة وصناعة الكويت- جمعية الهلال
الأحمر- الصندوق الكويتي- الجمعيات واللجان الخيرية -
الهيئة الخيرية الإسلامية العالمية

القطاع الأهلي	القطاع الحكومي

صنف الأحداث التاريخية التالية في مكانها المناسب من الجدول الذي يليه
وذلك بوضع الرقم فقط:

- ١- قائد العمل الإنساني
- ٢- تأسس في عهده الصندوق الكويتي للتنمية الاقتصادية والعربية
- ٣- صاحب اقتراح إنشاء صندوق انتفاضة القدس وصندوق الأقصى
- ٤- اول من دعى لإنشاء تجمع يضم الدول الإسلامية
- ٥- رئيس المؤتمر الإسلامي الخامس



()

()

()

()

()

من قائل هذه العبارة. (.....):
((الناس تموت هنا، ويجب على العالم ان يتحرك الآن لوقف هذا))

ما المناسبة:

.....

صل من القائمة. (أ) ما يناسبها من القائمة. (ب) بوضع الرقم المناسب:

م	المجموعة. (أ)	الرقم	المجموعة(ب)
١	ادعاءات عبدالكريم قاسم		١٧/يناير /١٩٩١م
٢	عاصفة الصحراء		٢٥/يونيو/١٩٦١م
٣	الحرب البرية لتحرير الكويت		٢٠/مارس ١٩٧٣م
٤	الهجوم على مركز الصامتة		٢٦/فبراير/١٩٩١م

علل لما يلي:

١-يعتبر تلوث الهواء من اخطر انواع التلوث البيئي.

.....

٢-ظهور المشكلة السكانية في دول العالم الاسلامي.

.....

٣- عقد مؤتمر عقير عام ١٩٢٢م.

.....

٥- اسباب ادمان المخدرات.

.....

.....

.....

.....

٦- تزيد اللغات الواسعة الانتشار العالم الاسلامي عن ٢٠ لغة اصلية.

اكتب ماتعرفه عن

١- الآثار السلبية المترتبة على التلوث الهوائي.

٢- الآثار السلبية للتلوث المائي.

٥- ما اسباب الاحتباس الحراري.

٦- مانتايج الاحتباس الحراري.

٧- اسباب الفقر في العالم الاسلامي.

٨- ما اسباب الاعتداء على مركز الصامته.

٩- ما اسباب المشاكل الاقتصادية في الدول الاسلامية.

١٠ - ماموقف الملك عبدالله بن عبدالعزيز تجاه قضية فلسطين.

١١ - كيف تكونت الأقليات المسلمة.

١٢ - أين تتواجد الأقليات المسلمة.

١٤ - ما الحلول الإسلامية والدولية المقترحة للتحديات التي تواجه الأقليات الإسلامية.

١٥ - عدد نماذج لبعض الدول الإسلامية التي تعرضت للحروب.

١٦ - ما التحديات الاجتماعية والثقافية التي تواجه دول العالم الإسلامي.

١٧ - ما الآثار الناتجة عن ادمان المخدرات.

١٨ - كيف تساهم في بناء مجتمع ايجابي.

١٩ - ما اهداف منظمة التعاون الإسلامي السياسية.

٢٠ - ما اهداف منظمة التعاون الإسلامي الاقتصادية.

٢١ - ما اهداف منظمة التعاون الإسلامية الاجتماعية.

٢٢- ماهي مبادئ منظمة التعاون الاسلامي.

٢٣- اذكر الجهات الحكومية التي تشرف على تقديم المساعدات الخارجية والإنسانية.

٢٤- ما التحديات السياسية التي تواجه العالم الاسلامي.

عرف مايلي:

١-التصحّر

٢-التلوّث البيئي

٣-الاحتباس الحراري

٤-النفائات

٥-التنمية المستدامة

٦-الانفجار السكاني

٧-الفقر

٨-العولمة

٩-التكامل الاقتصادي

١٠-الحدود السياسية

- ١١-التدوير
- ١٢-الامية
- ١٣-بلدان نامية
- ١٤-الدخل القومي
- ١٥-الميزان التجاري
- ١٦-اقليات
- ١٧-اقليات مسلمة
- ١٨-دولة اسلامية
- ١٩-منظمة التعاون الاسلامية
- ٢٠-الصندوق الكويتي للتنمية
- ٢١- أينا
- ٢٢-ايسيسكو

أمامك خريطة العالم الصماء اجب عما هو مطلوب منك:



الرقم (١) على الخريطة يمثل دولة اسلامية تبلغ فيها نسبة التصحر ٩٠٪.

الرقم (٢) على الخريطة يمثل دولة اسلامية الاعلى في نسبة الفقر.

الرقم (٣) مدينة انعقد فيها المؤتمر الاسلامي الثالث عشر

-حددي بالرمز O الدول التي تلقت المساعدات من دولة الكويت

-ظلي القارات التي توجد بها دول اسلامية


من خلال قرائتك الفقرة التالية اجب عن التالي:


(دعا سمو امير دولة الكويت الراحل الشيخ جابر الاحمد الصباح من مدينة
الدار البيضاء في نهاية الجلسة الختامية لمؤتمر القمة الاسلامي الرابع عام
١٩٨٤م لعقد القمة المقبلة في الكويت في عام ١٩٨٧م).

١- اذكر اسم المدينة التي سيعقد فيها المؤتمر الاسلامي الخامس.....

٢- ما سبب انعقاد المؤتمر الاسلامي الخامس.....

-صممي دائرة بيانية بنسبة التلوث الهوائي في باكستان والتي تبلغ ٤٠٪.



بالتوفيق أحبائي 
اعداد: انوار الحربي