



=

وزارة التربية

الإدارة العامة لمنطقة العاصمة التعليمية



مؤلف

الإحسان



نموذج الإجابة

السؤال الأول : ويتكون من (أ- ب - ج - د - هـ - و) (٣٠ درجة / لكل إجابة درجة)

أ- أكمل العبارات التالية بما يناسبها مما درست :

- ١- الدولة الإسلامية الأولى في إنتاج الذهب تسمى أوزباكستان ص ٧٠
- ٢- الخليفة الراشد الذي استحدث في عهده منصب المحتسب اسمه عمر بن الخطاب ص ٢٥
- ٣- القصر الذي بناه الخليفة الأموي معاوية بن أبي سفيان ويقع في دمشق يسمى قصر الخضراء ص ٣٤
- ٤- افتتح المسجد الكبير في دولة الكويت عام ١٩٨٦م في عهد الشيخ جابر الأحمد الصباح ص ٣١
- ٥- تبلغ مساحة العالم الإسلامي حوالي ٣٢ مليون كم٢ ص ٥١
- ٦- العالم المسلم الذي ألف كتاب الصيدلة في الطب اسمه البيروني ص ١٩

ب - اختر الإجابة الصحيحة من بين البدائل التي تلي العبارات التالية:

١- تضم قارة أوروبا دولتين اسلاميتين هما ألبانيا و : ص ٥١

صربيا	اليونان	البوسنة والهرسك	رومانيا
-------	---------	-----------------	---------

٢- العام الذي أصدرت فيه الجمعية العامة قرارا بإدخال اللغة العربية ضمن اللغات الرسمية: ص ٢١

١٩٧٥م	١٩٧٤م	١٩٧٣م	١٩٧٢م
-------	-------	-------	-------

٣- نبات ينمو في المناطق الاستوائية والموسمية ويصنع منه الحبال والأحذية والحقائب : ص ٧٣

الجوت	القطن	المطاط الطبيعي	الكتان
-------	-------	----------------	--------

٤- أكبر الهضاب في العالم وتمتد من ساحل المحيط الأطلسي غرباً إلى مرتفعات البحر الأحمر شرقاً : ص ٥٧

الهضبة الإيرانية	هضبة نجد	هضبة الأناضول	هضبة الصحراء الكبرى
------------------	----------	---------------	---------------------

٥- تقع دولة الكويت ضمن الإقليم المناخي : ص ٦٣

الاستوائي	المداري	الصحراوي	الموسمي الحار
-----------	---------	----------	---------------

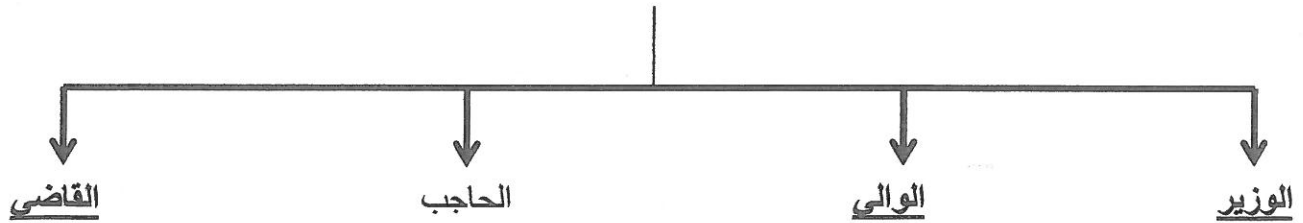
٦- تبلغ نسبة إنتاج العالم الإسلامي من النفط الخام حوالي : ص ٦٧

٣١,٥%	٤١,٥%	٥١,٥%	٦١,٥%
-------	-------	-------	-------

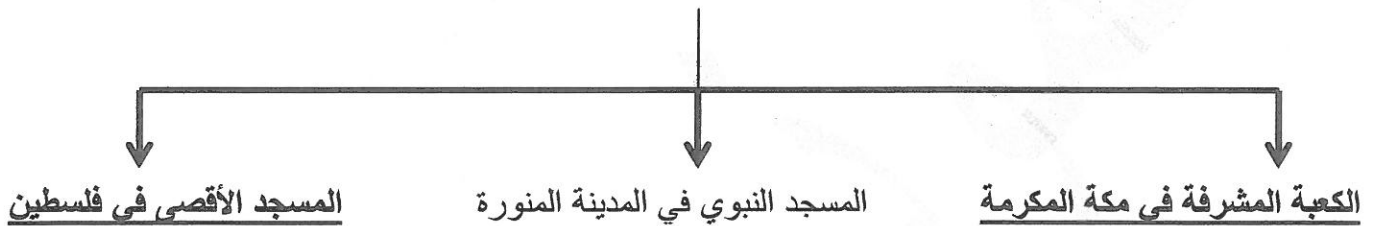
تابع السؤال الأول :

ج - أكمل المخططات السهمية التالية:

المناصب الإدارية في الدولة الإسلامية . ص ٢٥



أهم ثلاث مساجد رئيسية في العالم الإسلامي . ص ٣٢ - ٣٣



د - اختر للمجموعة (أ) ما يرتبط بها من المجموعة (ب) بوضع الرقم المناسب في مكانه الصحيح :

م	(أ)	الرقم المناسب	(ب)
١	يقع بيت الحكمة في مدينة تسمى	٢	سورينام ص ٥١
٢	الدولة الإسلامية الوحيدة في أمريكا الجنوبية	٤	اندونيسيا ص ٧٤
٣	أكبر دولة في العالم الإسلامي من حيث المساحة	١	بغداد ص ٣٨
٤	الدولة الإسلامية التي تحتل المركز الثاني على مستوى العالم في الإنتاج البحري لعام ٢٠١٤م	-	تونس
٥	يقع قصر الرصافة في دولة تسمى	٣	كازاخستان ص ٥٢
		٥	سوريا ص ٣٥

هـ - من أنا :



١- أشهر علماء الطب وألفت كتاب (الحاوي في الطب) اسمي ابو بكر الرازي ص ٤٠



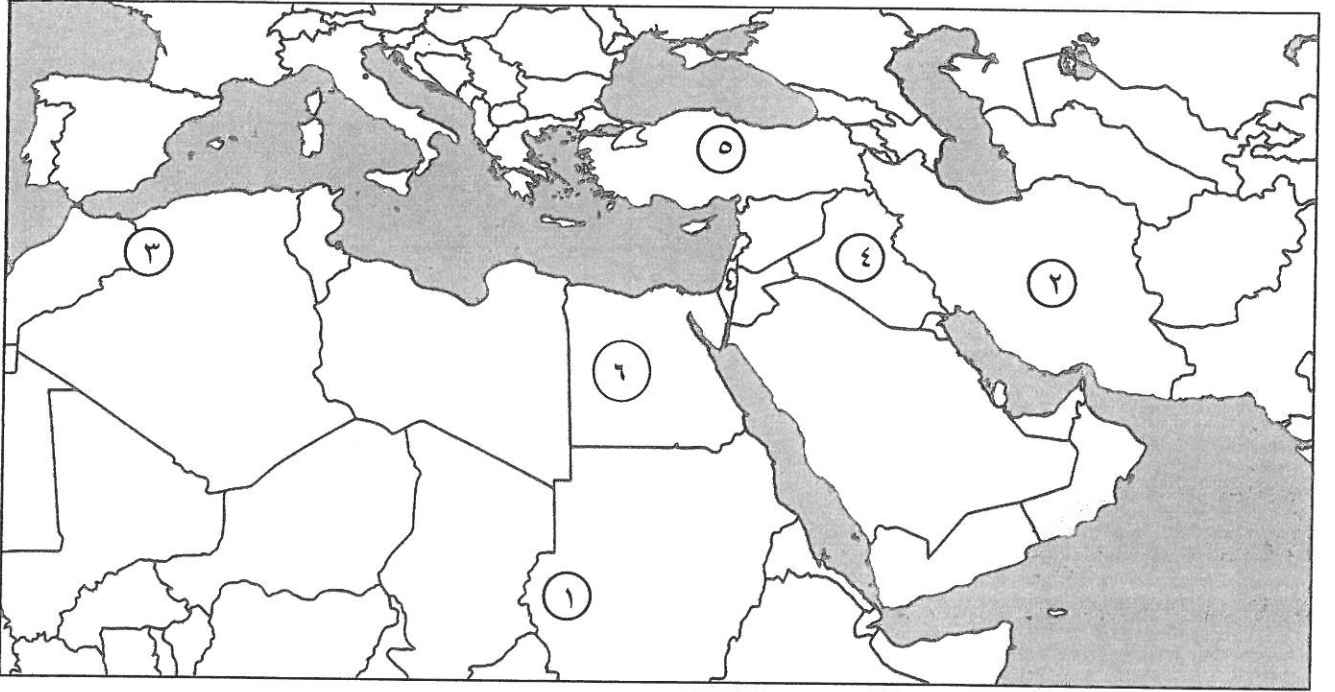
٢- عالم مسلم ألفت ٣٥٠ كتاباً من أشهرها (كتاب الحيوان) اسمي الجاحظ ص ٤٠



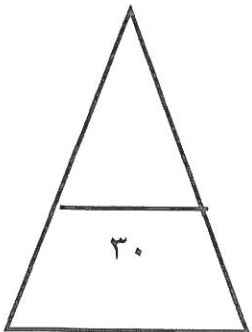
٣- أشهر علماء الجبر ألفت كتاب (الجبر والمقابلة) اسمي الخوارزمي ص ٣٩

تابع السؤال الأول:

و- لاحظ خريطة العالم الإسلامي الصماء ثم اكتب الأرقام الدالة على كل مما يلي :



- ١- هضبة ايران يمثلها على الخريطة الرقم (٢) ص ٥٦
- ٢- جبل مره يمثلته على الخريطة الرقم (١) ص ٥٤
- ٣- هضبة الأناضول يمثلها على الخريطة الرقم (٥) ص ٥٦
- ٤- سهول دجلة والفرات يمثلها على الخريطة الرقم (٤) ص ٥٩
- ٥- جبال أطلس يمثلها على الخريطة الرقم (٣) ص ٥٤



السؤال الثاني ويتكون من (أ - ب) :-

أ- علل لما يلي : (٥ درجات)

١- اهتمام الدولة الإسلامية بالصناعة اهتماماً كبيراً . ص ٢٧ (درجة)

- من أجل استثمار الموارد الطبيعية المتوفرة بها .

٢- لقيت التجارة تشجيعاً كبيراً في الحضارة الإسلامية . (يكتفي بنقطتين - درجتان) ص ٢٨

- لدورها الكبير في التبادل التجاري مع المناطق المجاورة . - يمتلك موقع العالم الإسلامي الاستراتيجي العديد من الخطوط التجارية البرية والبحرية مما انعكس على ازدهار صادراته و وارداته.

٣- تنوع المناخ في دول العالم الإسلامي . (يكتفي بنقطتين - درجتان) ص ٦٣

- امتداد دول العالم الإسلامي على مساحة شاسعة . - الموقع بالنسبة لدوائر العرض

- الإطلالة على عدة مسطحات مائية في معظم أجزائه . - التنوع في التضاريس من جبال وهضاب وسهول ووديان

ب - عرف ما يلي : (٥ × ١ = ٥ درجات)

١- الغلات النقدية : هي المحاصيل التي تزرع من أجل التصدير مثل : القطن - الجوت - المطاط الطبيعي . ص ٧٣

٢- الحضارة : هي كل ما يطرأ على المجتمع من تقدم وتطور ورقي سواء في الجانب المادي (مساجد، قصور مستشفيات ،

مكتبات والأدوات ، والاختراعات) أو الجانب الروحي (العلوم والفكر والأدب والأخلاق والسياسة والثقافة) . ص ١٨

٣- أهل الذمة : هم اليهود والنصارى الذين ظلوا على دينهم مع دفع الجزية . ص ٣٦

٤- السهول : أجزاء فسيحة من سطح الأرض تتميز باستوائها وقلّة ارتفاعها . ص ٥٣

٥- التضاريس : هي أشكال سطح الأرض . ص ٥٣

السؤال الثالث : ويتكون من (أ - ب) :

أ - اقرأ الفقرة التالية ثم أجب على الأسئلة التي تليها : (٥ درجات) ص ٢٤

انعكس أثر خصائص الحضارة الإسلامية على دولة الكويت ، حيث أن الشعب الكويتي نشأ على الحب والتراحم والعدل والمساواة ، ومد يد العون سواء للمسلمين أو غير المسلمين والعمل على فعل الخير من خلال المؤسسات والهيئات والجمعيات الخيرية ، وبرز فيها العديد من الشخصيات في مجال العمل الخيري والإنساني .

١- ضع عنواناً مناسباً للفقرة السابقة .

- ما يراه المصحح مناسباً . (درجة)

٢- عدد أهم المؤسسات الخيرية في دولة الكويت . (درجتان)

- بيت الزكاة الكويتي . - الهيئة الخيرية الإسلامية العالمية .

٣- اذكر أهم الشخصيات الكويتية الرائدة في مجال العمل الخيري الإنساني . (درجتان)

أ - الشيخ صباح الأحمد الصباح . - الداعية الدكتور عبد الرحمن السميطة (رحمه الله)

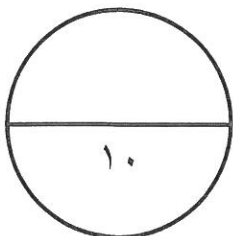
ب - أجب عن الأسئلة التالية : (٥ درجات)

١- عدد أهم العوامل التي ساعدت على زيادة الإنتاج الزراعي في دول العالم الإسلامي. (يكتفي بثلاث نقاط - ٣ درجات) ص ٧٢

- التربة الخصبة - المناخ - وجود البحيرات والأنهار والآبار - سقوط الأمطار - كثرة السكان والأيدي العاملة .

٢- اذكر أهم المصادر الطبيعية لإنتاج الأسماك في دول العالم الإسلامي . ص ٧٤ (درجتان)

- المحيطات والبحار - المياه العذبة .



السؤال الرابع ويتكون من (أ - ب) :-

أ- فرق بين كل من : (١١ × ٤ = ٤ درجات)

الجزية ص ٢٩	الخراج ص ٢٨
مبلغ مالي يدفعه الرجال غير المسلمين من (أهل الذمة) ممن هم قادرون على حمل السلاح نظير حماية الدولة لهم .	ضريبة الأرض الزراعية التي تخرج مبلغا ماليا معينا من ناتج المحصول الزراعي .
التل ص ٥٣	الجبيل ص ٥٣
يشبه الجبل ولكن ارتفاعه أقل من ١٠٠٠٠ متر .	هو كل قمة لا يقل ارتفاعها عن ١٠٠٠٠ متر تقريبا .

ب - اكتب فيما يلي مما درست : (٦ درجات)

- ١- جهود المسلمين في الزراعة . ص ٢٦ (يكتفي بنقطتين - درجتان)
 - تنظيم وسائل الري .
 - إقامة السدود .
 - شق القنوات المائية والترع .
- ٢- العوامل التي أدت إلى ازدهار العلم وظهور العلماء في الحضارة الإسلامية . ص ٣٧ (يكتفي بنقطتين - درجتان)
 - تشجيع العلماء ورعاية وتمويل القيادات السياسية لهم من خلفاء وملوك وسلاطين وأمراء
 - التنافس العلمي بين الدول الإسلامية .
 - الرخاء الاقتصادي .
 - حركة التعريب (الترجمة) للكتب القديمة اليونانية والهندية والفارسية وغيرها .
- ٣- أهمية السهول . ص ٥٨ (يكتفي بنقطتين - درجتان)
 - استخدامها كموانئ طبيعية
 - تشييد المدن
 - تركز السكان فيها لسهولة التنقل .

انتهت الأسئلة

