

مراجعة الاجتماعيات – الصف السادس المتوسط (الفصل الثاني)

السؤال الأول: أكمل الفراغات التالية بما يناسبها :-

- ١ - بدأ التنقيب عن النفط في الكويت عام ١٩٣٤م
- ٢ - أول الحقول التي تم اكتشافها في الكويت حقل نفطي يسمى بحرة
- ٣ - بدأ تصدير النفط للخارج عام ١٩٤٦م
- ٤ - أهم الدول المستوردة للنفط الكويتي هي الولايات المتحدة الأمريكية و هولندا و اليابان
- ٥ - أكبر دول الخليج العربية إنتاجاً للنفط هي المملكة العربية السعودية
- ٦ - كميات النفط المخزونة في باطن الأرض تعرف باسم احتياط النفط
- ٧ - كميات النفط التي يتم استخراجها للاستفادة منها تعرف باسم إنتاج النفط
- ٨ - الدولة الخليجية التي لها تجربة رائدة في إنتاج القمح هي المملكة العربية السعودية
- ٩ - الزراعة التي تتم في بيئة مائية أو رملية أو حصى أو نشارة خشب تعرف باسم الزراعة بدون تربة
- ١٠ - يزرع فيها الخضروات في غير مواسمها (أوقاتها) وتقوم بحماية المحاصيل تسمى البيوت البلاستيكية
- ١١ - تحويل المواد الخام إلي مواد مصنعة يمكن الاستفادة منها تسمى الصناعة
- ١٢ - مجموع الدخول التي تحصل عليها الدولة خلال عام تسمى الدخل القومي
- ١٣ - السلع والمنتجات التي تبيعها دولنا في الخارج تسمى الصادرات
- ١٤ - إعادة تصدير البضائع المستوردة يعرف باسم الترانزيت
- ١٥ - البضائع والسلع التي تشتريها دولنا من الخارج تسمى الواردات
- ١٦ - ترجع أصول السلالة السكانية في منطقة الخليج العربي إلي جنس البحر المتوسط و شرق أفريقيا
- ١٧ - توجد حضارة هيلي في دولة تسمى الإمارات
- ١٨ - الحضارة التي توجد في البحرين تسمى دلمون
- ١٩ - يوجد حقل الغوار النفطي في دولة تسمى المملكة العربية السعودية
- ٢٠ - ميناء الأحدي النفطي يوجد في دولة تسمى الكويت
- ٢١ - قدوم السكان من آسيا وأوروبا وأفريقيا يسمى هجرات خارجية
- ٢٢ - خروج السكان من قلب الجزيرة العربية إلي سواحل الخليج العربي تسمى هجرات داخلية

- ٢٣ - أكبر دولة في عدد السكان في العالم هي الصين
- ٢٤ - أقل الدول سكاناً في العالم هي الفاتيكان
- ٢٥ - عدد المواليد - عدد الوفيات تعرف باسم الزيادة الطبيعية
- ٢٦ - الزيادة عن طريق الهجرة تعرف باسم الزيادة الغير طبيعية
- ٢٧ - أعلي دولة خليجية في نسبة المواطنين هي المملكة العربية السعودية
- ٢٨ - أصبحت منطقة الخليج منطقة جذب للسكان بعد اكتشاف النفط
- ٢٩ - عدد السكان في الكيلو متر المربع الواحد تعرف باسم الكثافة السكانية

السؤال الثاني : (أ) صنف المناطق الزراعية التالية حسب الدول التي تقع فيها :-
(العبدلي - الإحساء - العين - سهل الباطنة - الوفرة - سهل تهامة - ليوا - صلالة)

عمان	الإمارات	السعودية	الكويت
سهل الباطنة	العين	الإحساء	العبدلي
صلالة	ليوا	سهل تهامة	الوفرة

(ب) صنف الموانئ التالية حسب مكانها
(جبل الظنة - سترة - رأس تنورة - الفحل - امسيعيد - الأحمدى)

قطر	البحرين	الكويت	الإمارات	السعودية	عمان
امسيعيد	سترة	الأحمدى	جبل الظنة	رأس تنورة	الفحل

(ج) صنف حقول النفط التالية حسب مكانها :-

(بوحصا - دخان - الروضتين - عوالى - الغوار - ناطح - مريان - خريص - فهود - برقان)

الكويت	السعودية	البحرين	الإمارات	عمان	قطر
الروضتين	الغوار	عوالى	بوحصا	ناطح	دخان
برقان	خريص		مريان	فهود	

السؤال الثالث : عرف المفاهيم التالية :-

- ١-الثقافة: هي مجموعة من العادات والتقاليد والأخلاقيات في مجتمع من المجتمعات
- ٢ - الترانزيت : اعادة تصدير البضائع المستوردة
- ٣ - الصادرات : السلع والمنتجات التي تبيعها دولنا في الخارج
- ٤ - الواردات : البضائع والسلع التي تشتريها دولنا من الخارج
- ٥ - الكثافة السكانية : عدد السكان في الكيلو متر المربع وتقاس بقسمة عدد السكان على مساحة الدولة
- ٧ - السلالة:مجموعة من الناس تشترك فيما بينها في الصفات الجسمانيةالرئيسية كلون الجلد وشكل الانف وشكل الشعروطول القامة وما اليها وتختلف عن غيرها من السلالات في هذه الصفات
- ٨ - إنتاج النفط :كميات النفط التي يتم استخراجها للاستفادة منها
- ٩ - احتياطي النفط : كميات النفط المخزونة في باطن الأرض
- ١٠- الصناعة : تحويل المواد الخام الى مواد مصنعة يمكن الاستفادة منها
- ١١ - الدخل القومي : مجموع الدخول التي تحصل عليها الدولة خلال عام
- ١٢ - الزراعة بدون تربة : هي الزراعة التي تتم في بيئة مائية أو رملية او حصى أو نشارة خشب
- ١٣ - بيوت بلاستيكية : يزرع فيها الخضروات في غير مواسمها وتقوم بحماية المحاصيل من تقلبات الطقس

السؤال الرابع : علل لما يأتي (اذكر السبب)

١ - أهمية البيوت البلاستيكية؟

تقوم بحماية المحاصيل من تقلبات الطقس

٣ - ازدهار الصناعة في دول الخليج العربية؟

بسبب اكتشاف النفط

٥ - تشابه الآثار الحضارية في منطقة الخليج العربية ؟

بسبب وجود اتصال وتقارب بين سكان منطقة الخليج العربي.

٧ - استقبل حوض الخليج العربي موجات سكانية من كل المراتق المجاورة ؟

بسبب موقعه الجغرافي المهم بين قارات العالم القديم

٨ - عدد السكان في الكويت ودول الخليج العربي في تزايد مستمر ؟

أ - بسبب الزيادة الطبيعية ب - الزيادة الغير طبيعية

٩ - ازدياد أعداد الوافدين لدول الخليج العربية ؟

أ - توفر فرص العمل ب - ارتفاع الأجور

١٠ - الكثافة السكانية تبدو منخفضة في منطقة الخليج العربية قديما ؟

بسبب الفقر الشديد

١١ - التشابه الثقافي بين سكان دول الخليج العربي ؟

أ - وحدة الأصل ب - العادات والتقاليد

ج - الدين واللغة د - التاريخ المشترك


١٢ - وزع الحضارات التالية في مكانها :-

((دلمون - تاروت - هيلي - أم النار - ودبا))

الإمارات	عمان	السعودية	البحرين	قطر
هيلي	ودبا	تاروت	دلمون	أم النار

السؤال الخامس : أجب عن الأسئلة التالية :-

١ - عدّد أهم المحاصيل الزراعية في دول الخليج العربي ؟



٢ - اكتب أنواع الصناعات القائمة علي النفط في دول الخليج العربي؟



٣ - اكتب أهم الصادرات والواردات لدول الخليج العربي :-

الواردات	الصادرات
الملابس	النفط
الأجهزة الالكترونية	الغاز
المواد الغذائية	

السؤال السادس : أمامك خريطة صماء لدول الخليج العربي ، اكتب مدلولات الأرقام التي عليها

:-

١ - حضارة تسمى تاروت

٢ - دولة تسمى الكويت

٣ - دولة خليجية تسمى الامارات

٤ - منطقة زراعية في

عمان سهل الباطنة

٥ - مسطح مائي يسمى

البحر الأحمر

٦ - سهل يسمى تهامة

٧ - مسطح مائي يسمى الخليج

العربي

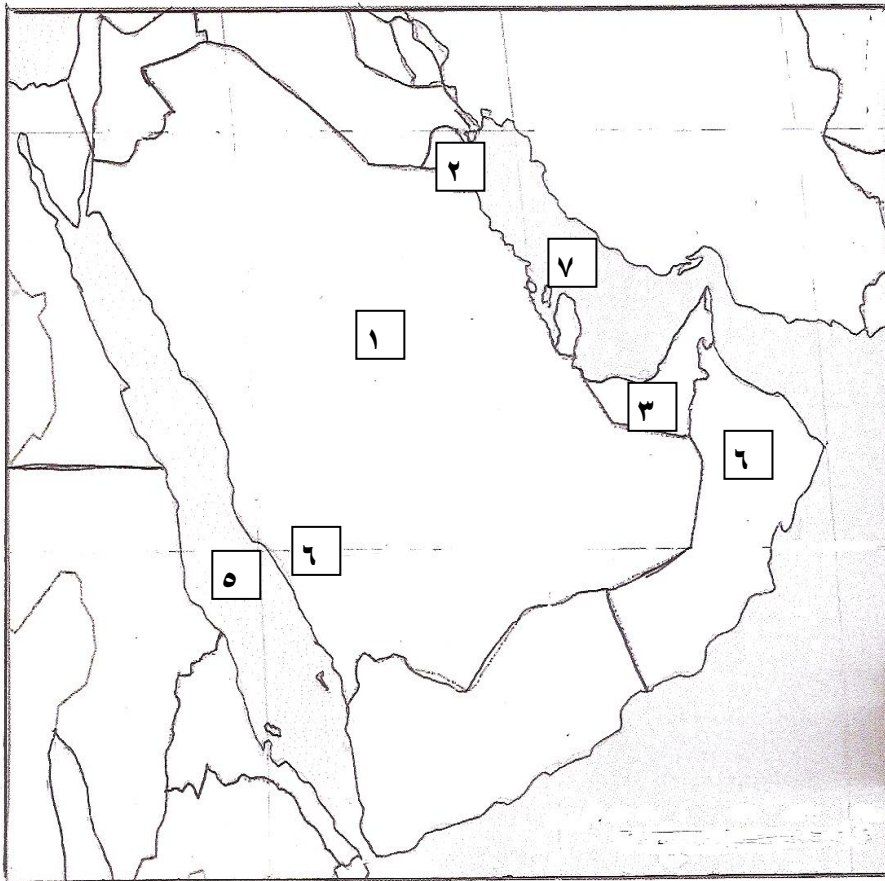
السؤال الأول: أكمل

العبارات التالية بما

يناسبها من كلمات:

(١) تم إعلان قيام

السوق الخليجية



المشتركة عام ٢٠٠٨ م

(٢) تأسست قوات درع الجزيرة عام ١٩٨٤ م

(٣) قبول أبناء دول مجلس التعاون في الكليات العسكرية من صور التعاون العسكري بين الدول الخليجية

(٤) الغاز الذي أدى إلى تلوث منطقة الشعبية عام ١٩٧٦ م هو ثاني أكسيد الكبريت

(٥) يبلغ عدد الآبار النفطية التي حرقها العدوان العراقي حوالي ٧٣٧ بئر نفطي

(٦) تربية الطفل الخاطئة والإحباط يؤدي إلى العنف

السؤال الثاني: اختر الإجابة الصحيحة من بين البدائل التالية:-

(١) صدر إعلان الدوحة لقيام السوق المشتركة عام (٢٠٠٦ - ٢٠٠٧ - ٢٠٠٨ -

٢٠٠٩) م

(٢) يقع مقر مكتب التربية العربي في مدينة الدوحة - الرياض - مكة المكرمة - أبو ظبي (

٣) تقدر كمية أول أكسيد الكربون المنبعثة من عوادم السيارات بالكويت حوالي:

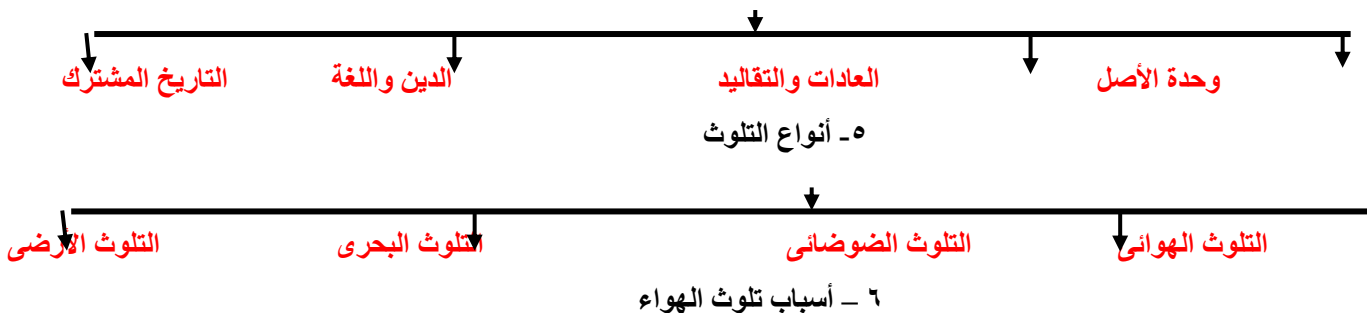
(١٦٥ - ٢٦٥ - ٣٦٥ - ٤٦٥) ألف طن سنويا

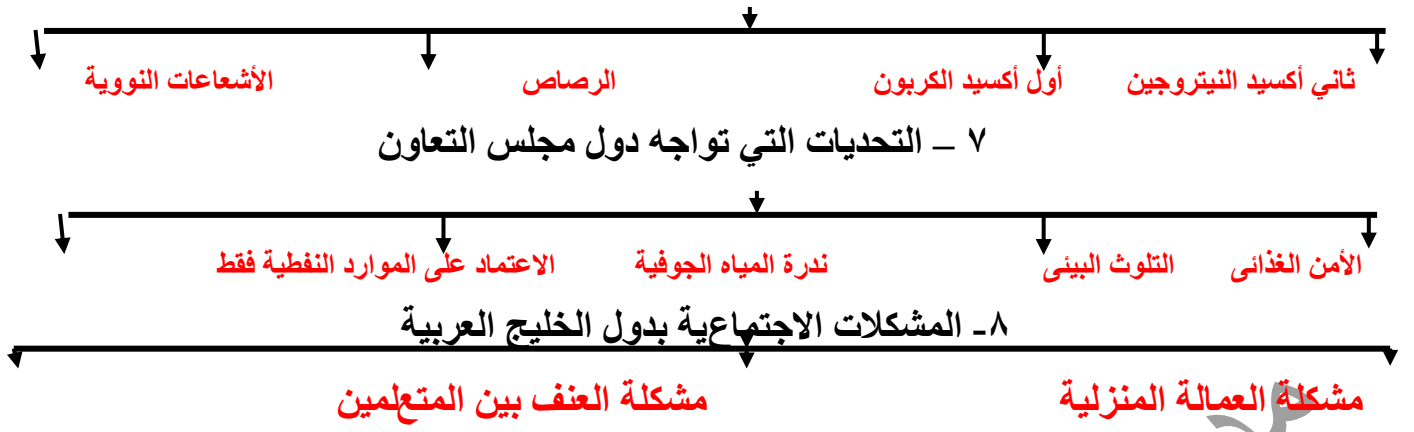
(٤) وقع الغزو العراقي على دولة الكويت عام (١٩٩٠ م - ١٩٩١ م - ١٩٩٢ م - ١٩٩٣ م)

(٥) اعلي نسبة طلاق توجد في دولة (الكويت - السعودية - الإمارات - قطر)

السؤال الثالث: أكمل المخططات السهمية التالية

١ - التشابه الثقافي بين دول الخليج العربية





السؤال الرابع: ١- اختر من القائمة (أ) ما يناسبها من القائمة (ب) بوضع الرقم في المكان المناسب

القائمة (أ) الدولة	الرقم	القائمة (ب) حقول النفط
١ - التلوث البحري	٣	أول أكسيد الكربون
٢ - التلوث الضوضائي	١	النفط ومشتقاته
٣ - التلوث الهوائي	٢	أجهزة التسجيل

السؤال الخامس :- صنف مظاهر التعاون الخليجي التالية حسب الجدول المرفق :
الموقف الموحد للمشكلات السياسية

– درع الجزيرة - ردع الاحتلال العراقي – مناصرة فلسطين – التبادل التجاري – توحيد المناهج التعليمية – زيادة العلاقات الاقتصادية – إنشاء مكتب التربية العربية – السياسات التربوية الموحدة – قبول أبناء دول مجلس التعاون في الكليات العسكرية

التعاون السياسي	التعاون الاقتصادي	التعاون العسكري	التعاون الثقافي
– مناصرة فلسطين – المواقف الموحدة للمشكلات السياسية	– التبادل التجاري – زيادة العلاقات الاقتصادية	– درع الجزيرة – ردع الاحتلال العراقي – قبول أبناء دول مجلس التعاون في الكليات العسكرية	– توحيد المناهج التعليمية – إنشاء مكتب التربية العربية

السؤال السادس: علل ما يأتي:

- ١) يجمع دول الخليج العربية التاريخ المشترك.
لأن معظم دول الخليج العربية تعرضت في تاريخها للاستعمار الأجنبي
- ٢) تأسيس قوات درع الجزيرة عام ١٩٨٤ م
لحماية أى دولة خليجية تتعرض للعدوان
- ٣) للسيارات أثار ضارة في تلوث الهواء بدولة الكويت
لأنه ينبعث منها غاز أول أكسيد الكربون كما يحتوى العادم على البنزين والرصاص وذلك يسبب مخاطر صحية كبيرة
- ٤) عانى سكان الشعبية الصناعية من الآم الزور والتنفس عام ١٩٧٦ م
بسبب زيادة غاز ثانى أكسيد الكبريت فى الهواء
- ٥) ارتفاع نسبة الطلاق في دول الخليج العربية
(أ) بسبب قلة الوعى بأهمية الحياة الأسرية
(ب) ارتفاع تكاليف الزواج
(ج) ازدياد حالات الزواج فى سن مبكر
(د) عدم القدرة على احتواء المشاكل الأسرية
- ٦) تعرض مياه الخليج العربي للتلوث
لأن العراقى العدوان الغاشم قام بضخ النفط متعمدا فى مياه البحر
- ٨) تزايد حالات العنف لدى المتعلمين فى السنوات الأخيرة
(أ) تربية الطفل الخاطئة
(ب) الأحياب

السؤال السابع: اجب على الأسئلة التالية:

- س ٣ :- اذكر الروابط المشتركة بين دول الخليج العربية ؟
- أ- وحدة الأصل
 - ب- العادات والتقاليد
 - ج- الدين واللغة
 - د - التاريخ المشترك
- س ٤ :- اذكر الفوائد المرجوة من التعاون بين دول الخليج العربية
- أ- تحقيق الأمن
 - ب- تحقيق الازدهار الاقتصادى
 - ج - زيادة التبادل التجارى
- س ٥ :- ما النتائج المترتبة علي تلوث التربة ؟

- أ - ضعف قدرة التربة على الانتاج الزراعي
ب- اذا كانت التربة ملوثة يكون الانتاج الزراعي ملوثا أيضا وهذا يؤثر على حياة الانسان
س٦ :- اذكر المصادر الطبيعية وغير الطبيعية لتلوث الهواء ؟
أ- مصادر طبيعية (البراكين- العواصف الترابية)
ب- مصادر غير طبيعية (السيارات والطائرات- الصناعة - حرق النفايات - المبيدات الحشرية)
س٧ :- أسباب التلوث البحري ؟

- أ- مخلفات المصانع
ب - النفط ومشتقاته
ج - النفايات الخطرة
د- مياه الصرف الزراعي
هـ- مياه الصرف الصحي غير المعالجة
و- الأمطار الحمضية

- س٨ :- عدد مظاهر التلوث الناجمة عن الغزو العراقي ؟
أ- تلوث الماء بسبب ضخ العدوان العراقي الغاشم النفط في مياه الخليج العربي
ب- تلوث التربة بسبب حدوث بحيرات نفطية ووتساقط الرذاذ النفطي على التربة
ج - تلوث الهواء بسبب اشعال الآبار النفطية وتصاعد الدخان في الهواء

س٩ :- اذكر أهم وظائف العمالة المنزلية ؟

- أ- الطباخ
ب - السائق
ج - الخادم
د - الراعي
هـ- المربية
و - الراعي

س١٠ :- الأسباب التي تؤدي للعنف

- أ- أسباب أسرية
ب - أسباب نفسية
ج - أسباب بيئية عامة

السؤال الثامن :- عرف المفاهيم التالية :

(١) الثقافة : هي مجموعة من العادات والتقاليد والأخلاقيات في مجتمع من

المجتمعات

- ٢) التلوث: هو الضرر الذى يصيب عناصر البيئة الأساسية (هواء-ماء- تربة)فتتحول من عناصر مفيدة الى عناصر ضارة
- ٣) الضوضاء: تفسد طبيعة الهواء من هواء هادىء مفيد الى هواء مزعج ضار وللضوضاء أخطار نفسية وجسمانية تصيب الانسان
- ٤) تلوث التربة : دخول مواد غريبة فى التربة مما يلحق الضرر فى خواصها ومكوناتها

٥) طبقة الأوزون هى درع واقى للأحياء ضد خطر الأشعة فوق البنفسجية الضارة

- ٦) التلوث المائى: هو احداث افساد لنوعية المياه من خلال ادخال مواد ضارة للمياه من قبل الانسان
- ٧) العمالة المنزلية:مجموعة من الافراد الذين يشاركون الاسرة فى دور أو أكثر داخل المنزل أو خارجه من المربيات والطباخين والسائقين والخدم
- ٨) العنف: هو ذلك السلوك العدوانى التدميرى الموجه ضد الغير والذى يتسم بالتخريب والتدمير سواء كان ذلك أقوالا أو أفعالا

السؤال العاشر : أكمل الجدول التالى

حلول مشكلة العنف	حلول مشكلة العمالة المنزلية
١- الاهتمام الجاد بالقرآن الكريم و السنة النبوية الشريفة	١- الاهتمام الجاد بالقرآن الكريم و السنة النبوية الشريفة
٢- الاهتمام بالقراءة والمطالعة بدلا من أصدقاء السوء	٢- يتحمل كل فرد فى الأسرة مسؤوليته والقيام بدوره خير قيام
٣- القدوة الحسنة من كل المحيطين بالشباب(المتعلمين) واتباع أساليب الحوار والتفاهم فى علاج المشكلات والخلافات	٣- جعل مهمة الخادم مقتصرة على ممارسة دوره الأساسى فى تحمل أعباء المنزل لا غير