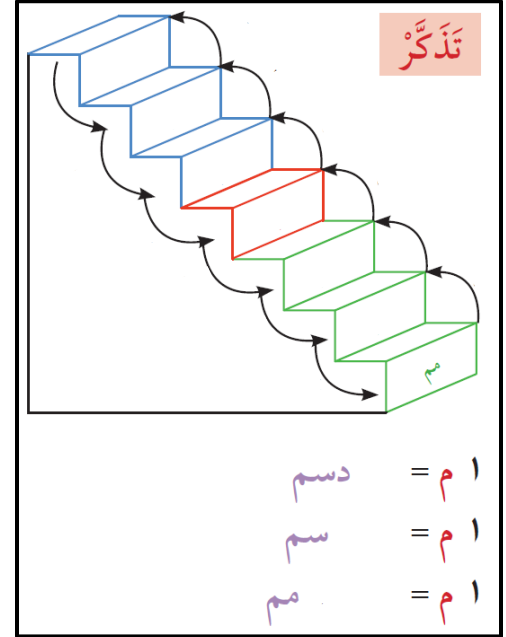




- أكمل الجدول :

١ كم	=	١٠٠ م	١ كم	=	١٠٠٠ م
١٠٠ م	=	١٠٠ م	١٠٠ م	=	١٠٠ م
١٠٠ م	=	١٠٠ م	١٠٠ م	=	١٠٠ م
١٠٠ م	=	١٠٠ م	١٠٠ م	=	١٠٠ م
١٠٠ م	=	١٠٠ م	١٠٠ م	=	١٠٠ م



١ اختر وحدة القياس المترية الأنسب لقياس الأبعاد الحقيقية لكل مما يلي:



ج

ديسيمتر أو متر



ب

ستيمتر أو كيلومتر



أ

متر أو كيلومتر



و

ستيمتر أو متر



هـ

متر أو كيلومتر



د

كيلومتر أو متر



ب لو قمنا بسحب الخيط ليصبح مستقيماً، فما هو الطول الأقرب إليه مما يلي؟

٩ سم



٨ سم



٧ سم



٥ سم



- للتحويل من الوحدات الأكبر إلى الوحدات الأصغر نستخدم عملية

- للتحويل من الوحدات الأصغر إلى الوحدات الأكبر نستخدم عملية

- ضع رمز العلاقة المناسب (< أو > أو =)

٩٠ سم ○ ٩٠.٠٠٠ مم	٣٠ م ○ ٥٠.٠٠٠ دسم	٦ كم ○ ٦٠٠٠ م
٧٠٠٠ سم ○ ٤٠٠ م	١٢ دسم ○ ١٥٠ سم	١٩٠٠٠ مم ○ ٧ م

- يبعد منزل طارق عن منزل علي ٧٥٠٠ م ، بينما يبعد منزل سلطان عن منزل علي ٨ كم ، أيهما أقرب إلى منزل علي ؟ وضح ذلك

- اشترى سالم قلما طوله ١٥ سم و اشترى محمد قلما طوله ١٥٠ دسم ، فهل لهما نفس الطول ؟ وضح ذلك

- قال ناصر : " اشتريت قطعة خشبية طولها ٢٥ سم ، وأحتاج إلى ٤ قطع خشبية أخرى لها الطول نفسه لصناعة مسطرة خشبية طولها مترا واحدا " هل توافقه الرأي ، وضح ذلك

- وزن مشبك الورق ٢ جرام ، كم عدد المشابك في ١ كيلوجرام من المشابك ؟

- أكمل الجدول :

كجم	=	١٠٠٠ جم	جم	=	١ كجم
كجم	=	١٥٠.٠٠٠ جم	جم	=	٢٥ كجم
كجم	=	٣٠.٠٠٠ جم	جم	=	٩٠ كجم
كجم	=	٢٥٠.٠٠٠ جم	جم	=	٣٠٠ كجم
كجم	=	٥٠٠٠ جم	جم	=	٧٢٥ كجم

- وزن قطعة النقود تساوي ٥ جرامات ، فما وزن ٤٠.٠٠٠ قطعة من النقود بالكيلوجرام؟



- وزن قطعة النقود تساوي ١٥ جراما ، ما عدد قطع النقود التي وزنها ١٥ كيلوجراما؟



- أراد أحمد معرفة وزن قطته ، فقام أحمد بوزن نفسه و رأى الميزان يشير إلى ٧٥ كجم ، ثم وقف مرة أخرى على الميزان وهو يحمل قطته فأصبح الميزان يشير إلى ٩١ كجم . ماهو وزن القطة بالكيلوجرام؟

- الوحدة الأنسب لقياس وزن بيضة الدجاجة هي :

السنتيمتر الجرام المتر الكيلوجرام

- يمكن أن يكون قياس الشخص البالغ :

١ كجم ٦ كجم ٦٠ كجم ٦٠٠ كجم

- أكمل الجدول :

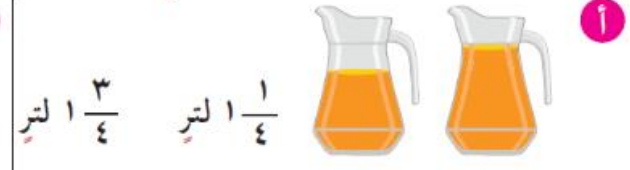
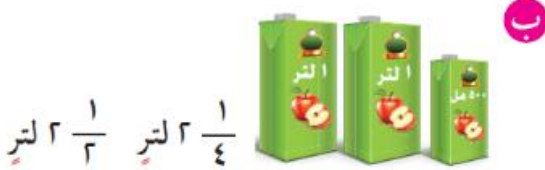
١ لتر =	٩ لتر =	١ لتر =	٩ لتر =
$\frac{١}{٢}$ لتر =	$\frac{١}{٤}$ لتر =	١ لتر =	$\frac{٣}{٤}$ لتر =
٧٥٠٠٠ مل =	٨٠٠٠ مل =	١ لتر =	٩ لتر =
$\frac{١}{٢}$ لتر =	$\frac{٣}{٤}$ لتر =	١ لتر =	٩ لتر =

- تستهلك ساره ٣ برتقالات لعمل ربع لتر من عصير البرتقال ، كم برتقالة تحتاج ساره لعمل ٢ لتر من عصير البرتقال ؟

١ تَمَرِّنْ اُكْتُبْ وَحَدَّةَ قِيَاسِ السَّعَةِ الْأَنْسَبِ (لِتْرًا أَوْ مِلًّا).



٢ حَوِّطِ التَّقْدِيرَ الْأَنْسَبَ لِكَمِّيَّةِ السَّائِلِ.



٣ لَوْنِ لِتَبْيِّنِ الكَمِّيَّاتِ الْمُوضَّحَةَ.



- أكمل الجدول :

فلس	=	٥ دنانير	فلس	=	١ دينار
فلس	=	$\frac{1}{4}$ دينار	فلس	=	$\frac{1}{2}$ دينار
دينار	=	١٥٠٠٠ فلس	دينار	=	٧٥٠٠٠ فلس
فلس	=	$9\frac{3}{4}$ دينار	فلس	=	$5\frac{1}{2}$ دينار

الصنف	السعر
كبيك	٧٥٠ فلس
حليب	٢٥٠ فلس
برتقالة	٥٠ فلس
فطيرة	١٥٠ فلس

- ما الأصناف المختلفة التي يمكنك شراؤها بدينار؟

- كم برتقالة وفطيرة تستطيع شراؤها بدينار؟

- كم برتقالة تستطيع شراؤها بدينارين؟

- كم برتقالة تستطيع شراؤها بربع دينار؟

- مع يوسف ٢٥ قطعة نقدية من فئة ١٠٠ فلس و ٢٠ قطعة نقدية من فئة ٥٠ فلس و ٢٥ قطعة نقدية من فئة ٢٠ فلس ، كم دينارا مع يوسف؟

- ضع رمز العلاقة المناسب (= أو > أو <)

٥٠ دينار ○ ٥٠٠٠ فلس	٨٠٠٠ فلس ○ ٨ دنانير	١ دینار ○ ٣٠٠ فلس
---------------------	---------------------	-------------------

- استخدم العملات النقدية لتبين طرقا اخرى لتكوين دينار واحد .

				
-	١	٢	٩	٥

- استخدم العملات النقدية لتبين طرقا اخرى لتكوين دينار ونصف .

				
-	-	٢٥	١٠	٥