



بنك المعلومات

لمقرر بلادي الكويت
الصف الخامس الابتدائي

إعداد المعلمة

أ. فاطمة فؤاد الفرهود

رئيس الشعبة

أ. ناهد الظفيري





الأسئلة الموضوعية

- أكمل العبارات التالية بما يناسبها من كلمات فيما يلي :

- يتكون سطح الكرة الأرضية من الماء و
- أكبر القارات مساحة أكثرها سكاناً هي قارة
- تقع دولة الكويت بالنسبة للعالم الإسلامي في
- أهم أنواع الأسماك في دولة الكويت الزبيدي و
- اكتشف النفط في دولة الكويت في عهد الشيخ
- الغاز الذي يوجد في بئر منفصل عن النفط هو



- اختر الإجابة الصحيحة من بين الأقواس فيما يلي :

- تطل دولة الكويت على مسطح مائي يسمى :
(خليج عمان - بحر العرب - الخليج العربي - البحر المتوسط)
- يبلغ عدد المحيطات في العالم :
(٥ محيطات - ٦ محيطات - ٧ محيطات - ٨ محيطات)
- معظم الدول الإسلامية تقع في قارة :
(أفريقيا - آسيا - أوروبا - استراليا)
- الإقليم المناخي الذي تقع ضمنه دولة الكويت هو الإقليم :
(القطبي - الإستوائي - المعتدل - الصحراوي)
- نسبة النفط ومنتجاته من قيمة الصادرات الكويتية يعادل :
(٩٣ % - ٩٤ % - ٩٥ % - ٩٦ %)
- أهم المناطق التي وفرتها دولة الكويت لتربية حيوانات الرعي والدواجن :
(الوفرة - الجهراء - السرة - العديلية)





- ظل (أ) إذا كانت العبارة صحيحة وظلل (ب) إذا كانت العبارة خاطئة فيما يلي :

الرقم	العبارة	أ	ب
١	مساحة الماء على سطح الكرة الأرضية أكبر من مساحة اليابسة		
٢	يبلغ عدد القارات في العالم خمسة قارات		
٣	يقع العالم الإسلامي بالنسبة للعالم في جهة الشمال		
٤	استخدم الكويتيون قديماً طرق وأدوات لصيد الأسماك كالحظرة والشباك والقرقرور		
٥	نسبة إحتياطي النفط في دولة الكويت بالنسبة للإحتياطي العالمي ٣٠ ٪		
٦	تتركز عملية إستزراع الأسماك في منطقتي الوفرة والعبدي		

- صحح ما تحته خط فيما يلي :

- تبلغ مساحة اليابسة على سطح الكرة الأرضية ٧٠ ٪

.....

- يمتد الوطن العربي بين قارتي آسيا و أوروبا

.....

- تقع دولة الكويت بالنسبة للجزيرة العربية في جهة الجنوب الغربي

.....

- اعتمد الكويتيون قديماً كغذاء رئيسي على النباتات

.....

- يتميز مناخ الإقليم الصحراوي بارتفاع درجة الحرارة والجفاف في فصل الشتاء

.....

- أكتشف الغاز الحر في دولة الكويت عام ٢٠١٦

.....





- اختر من القائمة (أ) ما يناسبها من القائمة (ب) وذلك بوضع الرقم المناسب :

الرقم	(أ) الأحداث	الرقم	(ب) التاريخ
١	حفر بئر بحره	١٩٣٨ م
٢	اكتشاف حقل برقان	٢٠٠٥ م
٣	تصدير أول شحنة نفط	١٩٩١ م
٤	حرق آبار النفط الكويتية على يد القوات العراقية	١٩٥١ م
٥	اكتشاف حقل الصابرية	١٩٤٦ م
		١٩٣٦ م

- فرق بين أنواع النباتات الطبيعية كما هو مطلوب منك فيما يلي :

نباتات معمرة / دائمة	نباتات حولية / موسمية	
.....	التعريف
.....	
.....	
.....	
.....	مثال

- عدد مميزات الإقليم الصحراوي في فصل الشتاء والصيف :

فصل الصيف	فصل الشتاء
.....
.....



- تابع / السؤال الخامس :

- صنف الموارد الطبيعية كما هو مطلوب منك بالجدول التالي :

شمس - حيوانات - رياح - غاز طبيعي - نباتات - ماء - أسماك - نפט

موارد طبيعية غيرحية	موارد طبيعية حية
..... - -
..... - -

- فرق بين استخدامات الرياح قديماً وحديثاً في دولة الكويت :

استخدامات الرياح قديماً	استخدامات الرياح حديثاً
.....
.....

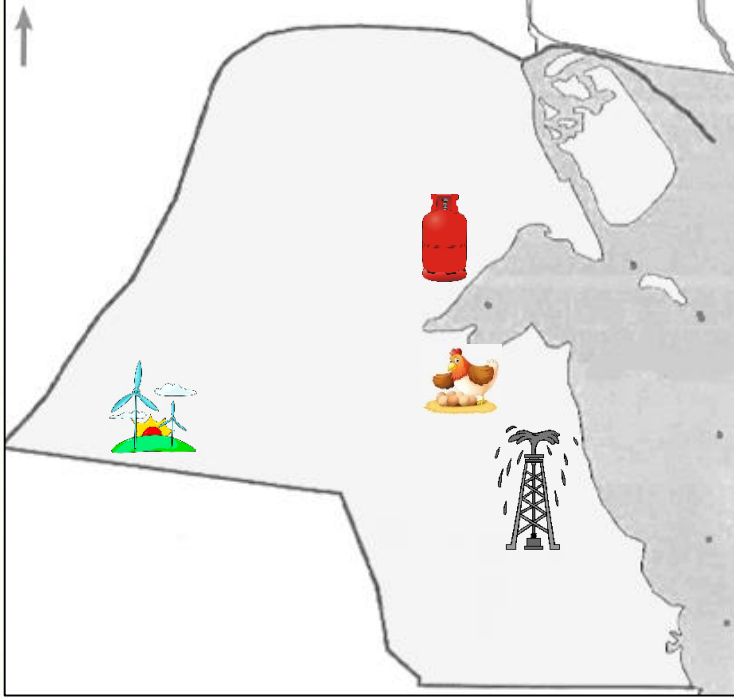
- أكمل الجدول التالي بما تراه مناسب فيما يلي :

أنواع الطاقة	طاقة	طاقة
مفهومها	هي	هي
مصادرها	الشمس -	النفط -
مميزاتها	-	-
	-	-
	-	-
	-	-



**- لاحظ الخريطة ثم أكمل ما هو مطلوب منك
مستعيناً بالرمز المبين على الخريطة فيما يلي :**

السؤال السادس



أكبر حقل نفطي في الكويت هو حقل



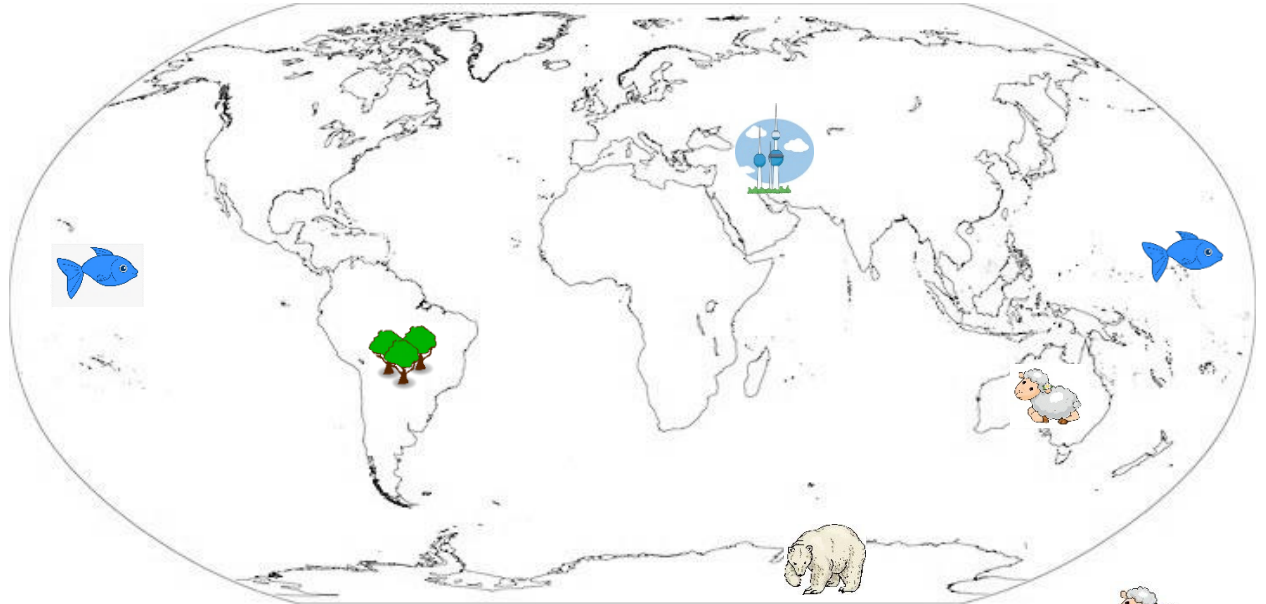
منطقة لتربية الثروة الحيوانية هي



حقل الغاز الحر هو حقل



مشروع أستغلال طاقة الشمس والرياح
في محطة



أصغر قارات العالم مساحة هي قارة



تقع دولة الكويت في قارة



أكبر المحيطات مساحة هو المحيط



قارة غير مأهولة بالسكان هي قارة



أقل قارة تضم الدول الإسلامية هي قارة





- أجب عما هو مطلوب منك فيما يلي :

الأسئلة المقالية

- علل (اذكر السبب) :

- سميت دول الخليج العربي بهذا الإسم .

.....

- يسود النبات الصحراوي في دولة الكويت .

- ١-
- ٢-
- ٣-

- الإعتماد على السمك كغذاء رئيسي في دولة الكويت قديماً .

- ١-
- ٢-

- أصبحت حيوانات الحياة الفطرية مهددة بالإنقراض .

- ١-
- ٢-
- ٣-

- كيف شجعت دولة الكويت على الإهتمام بكل من :

الثروة السمكية	حيوانات الرعي والدواجن
١-	١-
٢-	٢-
٣-	٣-
٤-	٤-

- تسمية الطاقة المتجددة بالطاقة النظيفة .

.....



- تابع / السؤال الأول :

- ما هي أهمية موقع الوطن العربي ؟

- ١-
- ٢-
- ٣-

- ما هي مميزات العالم الإسلامي ؟

- ١-
- ٢-
- ٣-
- ٤-

- ما هي أهمية النباتات الطبيعية ؟

- ١-
- ٢-
- ٣-

- ما هي جهود الدولة في المحافظة على كل من :

الحياة الفطرية	النبات الطبيعي
١-	١-
٢-	٢-
	٣-

- ما هي المشكلات التي يواجهها النبات الطبيعي ؟

- ١-
- ٢-
- ٣-
- ٤-



- تابع / السؤال الأول :

- كيف تتكيف حيوانات الحياة الفطرية مع الظروف القاسية ؟

..... ١-

..... ٢-

..... ٣-

- عدد أشهر أنواع الأسماك في الخليج العربي :

..... - -

- ما هي النتائج المترتبة على الممارسات السلبية للإنسان ضد البيئة ؟

.....

.....

- عدد بعض الطرق للمحافظة على البيئة ...

..... ١-

..... ٢-

..... ٣-

- ما هي مميزات كل من :

طاقة الرياح	طاقة الغاز الطبيعي
..... - -
..... - -
..... - -
..... - -

- عدد مميزات منطقة الشقاييا :

..... ١-

..... ٢-

..... ٣-

..... ٤-



السؤال الثاني



- إقرأ الفقرة ثم أجب عما هو مطلوب منك :

النفط أو كما يسمى الذهب الأسود هو مورد طبيعي ظهر في ثلاثينيات القرن العشرين ويعتبر كنزاً وقد صنفت المنطقة العربية وخاصة منطقة الخليج العربي من أكثر مناطق العالم إنتاجاً وتصديراً للنفط .

- ما هو النفط ؟

.....

- لماذا سمي النفط بالذهب الأسود ؟

.....

- ما هي أهمية النفط ؟

.....

- ما هي مراحل تكوين النفط ؟

أولاً :

ثانياً :

ثالثاً :

- ما هي استخدامات النفط ؟

.....

.....

.....

- اذكر أسماء بعض المنتجات التي يدخل في صناعتها النفط :



.....



.....



.....



.....

- ما هي جهود دولة الكويت في المحافظة على الثروة النفطية ؟

.....



- عرف المفاهيم التالية :

- المحيط :

- القارة :

- الخليج :

- البحر :

- المضيق :

- القناة :

- العالم الإسلامي :

- الموارد الطبيعية :

- المحمية الطبيعية :

- النبات الطبيعي :

- استزراع الأسماك :

- البيئة :

- ترشيد الإستهلاك :





- تابع / السؤال الثالث :

..... : إنتاج النفط

.....

..... : تصدير النفط

.....

..... : احتياطي النفط

.....

..... : الطاقة

..... : دوارة الرياح








السؤال الرابع

- لاحظ الصور ثم أجب عما يلي :

- عدد بعض السمات المشتركة بين دول الوطن العربي :



- اذكر المنتجات التي يمكننا الحصول عليها من تربيئنا لهذه الحيوانات :




- كيف يمكننا المحافظة على الموارد الطبيعية ؟






- تابع / السؤال الرابع :


- اذكر مصادر الطاقة المتجددة :



.....




.....

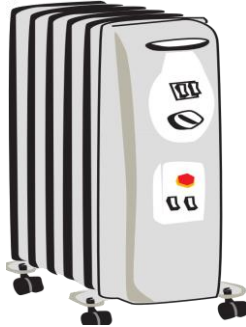


.....

- عدد استخدامات الغاز الطبيعي :



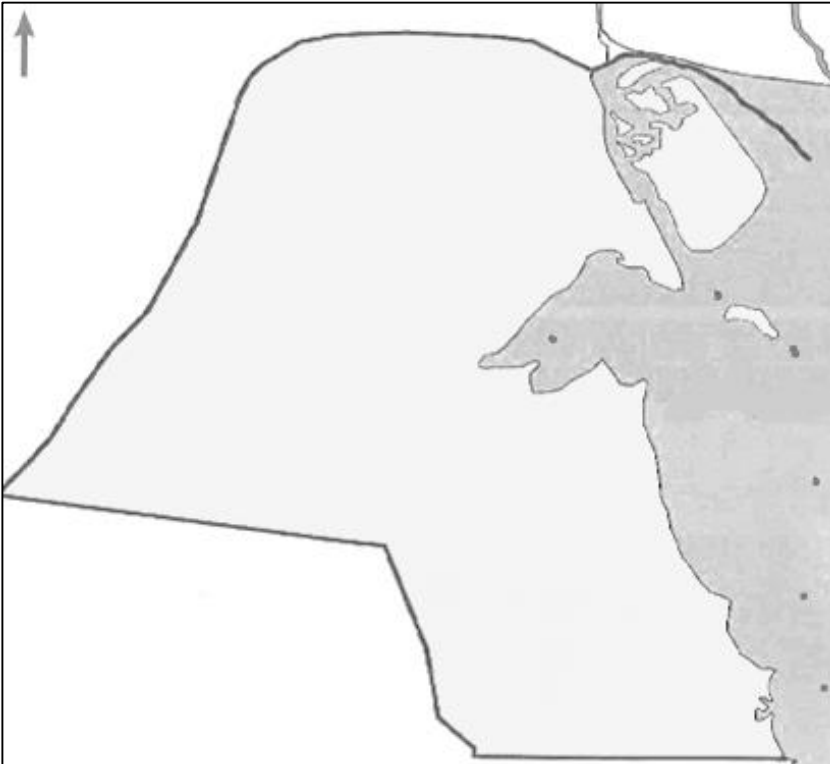
.....



.....



.....



- ضع الرمز المناسب على خريطة دولة الكويت الصماء فيما يلي :

● حقل أم نقا للغاز الحر

▲ منطقة الوفرة لتربية الحيوانات

■ ميناء الأحمدى (تم تصدير أول شحنة نفط)

ملاحظة:

بذك المعلومات لا يغني عن الكتاب المدرسي وإنما هو نماذج لبعض الأسئلة التي قد تأتي في الإمتحان

