



وزارة

التربية

إجابة امتحان نهاية الفترة الدراسية الأولى

المجال الدراسي : (اجتماعيات)

الإدارة العامة لمنطقة الأحمدية التعليمية

الصف السابع المتوسط (الكويت والوطن العربي)

عدد الأوراق : (٤ صفحات)

التوجيه الفني للاجتماعيات

الزمن : ساعة وخمس وأربعون



السؤال الأول : (الموضوعي) يتكون من (١) اجابته

(أ) أكمل العبارات التالية بما يناسبها مما درست في الوحدة (٦ درجات)

- ١- شرائع قانونية قديمة ظهرت في بلاد الرافدين من أهمها شريعةحمورابي.... ص ٨٤
- ٢- وزن الهواء فوق أي مكان يطلق عليهالضغط الجوي..... ص ٤٤
- ٣- حضارة سميت بلاد ما بين النهرين قديما ويطلق عليها حاليا اسم.....العراق.. ص ٧٩
- ٤- النبات الذي ينمو تلقائيا عقب سقوط المطر ودون تدخل من الانسان يسمىالنبات الطبيعي..... ص ٥١
- ٥- أكثر الأشكال التضاريسية انتشارا في الوطن العربي تسمىالهضاب..... ص ٤٠
- ٦- مساحة كبيرة من سطح الأرض تتميز باستوائها وقلة ارتفاعها تسمىسهول..... ص ٤٢

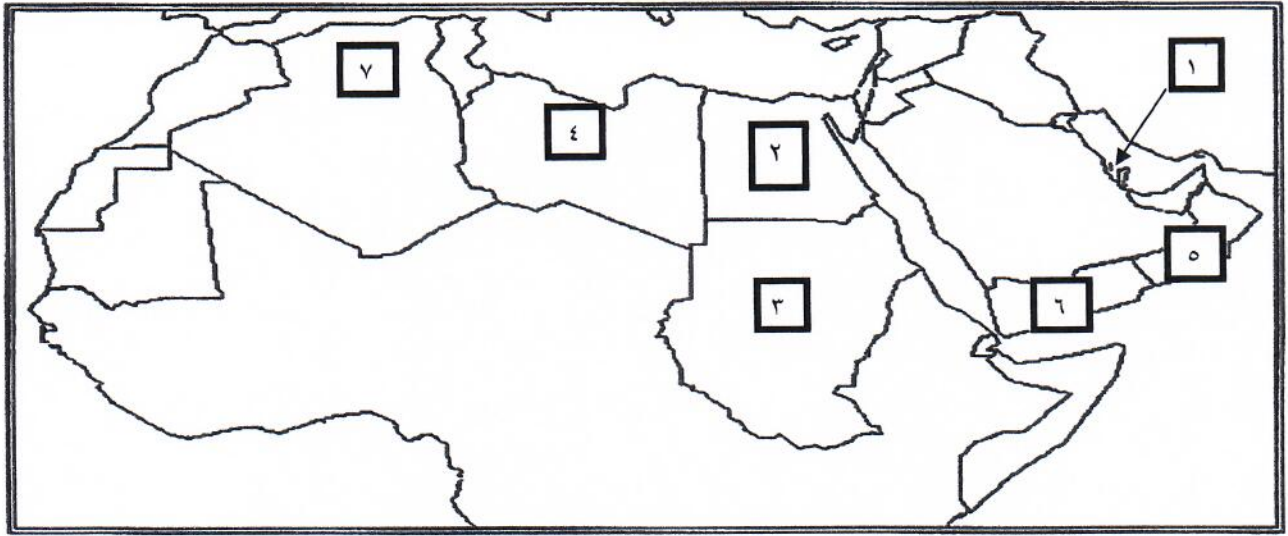
(ب) ضع خطا تحت الخيار الصحيح من بين الخيارات التي تلي كل عبارة : (١ x ٦ = ٦ درجات)

- ١- تبلغ مساحة الوطن العربي بالنسبة لمساحة العالم حوالي ص ٢٣
(١٠% - ٢٠% - ٣٠% - ٤٠%)
- ٢- أكثر الدول العربية إنتاجا للمياه المحلاة هي ص ٦٢
(قطر - الكويت - البحرين - ليبيا)
- ٣- أهم أشجار الغابات المدارية الحارة ص ٥٢
(البلوط - العرعر - السنديان - الساج)
- ٤- مضيق يصل بين الخليج العربي وخليج عمان يسمى ص ٢٩
(باب المندب - هرمز - جبل طارق - قناة السويس)
- ٥- جبل مرة يقع في دولة عربية هي ص ٣٨
(السودان - الجزائر - مصر - السعودية)
- ٦- أشهر ممالك اليمن القديمة وورد ذكرها في القرآن الكريم هي ص ٨٦
(حمير - سبأ - معين - مأرب)

(ج) صوب ما تحته خط في العبارات التالية : (١ x ٦ = ٦ درجات)

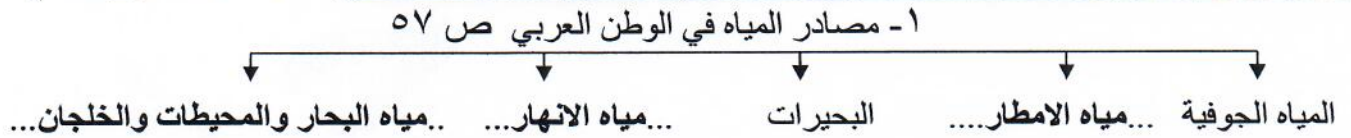
- ١- كل ما يطرأ على المجتمع من تقدم وتطور ورقي في جميع نواحي الحياة يطلق على الثقافة (...الحضارة...) ص ٧١
- ٢- حالة الجو خلال فترة زمنية طويلة من حيث درجة الحرارة والرطوبة والأمطار والرياح يطلق على الطقس (..المناخ..) ص ٤٤
- ٣- الرياح المحلية التي تهب على مصر تسمى الطوز (...الخماسين..) ص ٤٨
- ٤- المضيق الذي يفصل بين البحر المتوسط والمحيط الأطلسي يسمى باب لماندب (...جبل طارق...) ص ٢٩
- ٥- البحر الذي يفصل الجناح الآسيوي عن الجناح الأفريقي هو البحر الأبيض (...البحر الأحمر...) ص ٢٤
- ٦- الأراضي المنخفضة التي تكونت من التربة التي حملتها مياه الأنهار تسمى سهول ساحلية (...سهول فيضيه أو نهريه...) ص ٤٢

السؤال الثاني : (الموضوعي) يتكون من (أ - ب - ج)
(أ) لاحظ خريطة الوطن العربي ثم نفذ المطلوب منك : (١ x ٦ = ٦ درجات)

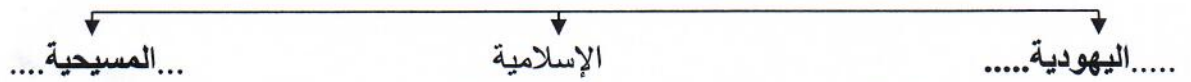


- ١- الجبل الأخضر الذي يقع في الجناح الآسيوي يمثل على الخريطة الرقم (٥) ص ٣٨
- ٢- الدولة التي تعتبر أصغر دولة عربية في الجناح الآسيوي يمثلها على الخريطة الرقم (...١...) ص ٢٣
- ٣- تعتبر الاهرامات مظهرا من مظاهر حضارة قديمة في الوطن العربي يمثلها على الخريطة الرقم (...٢...) ص ٧٢
- ٤- رياح الهبوب تهب على دولة في الجناح الافريقي يمثلها على الخريطة الرقم (...٣...) ص ٤٨
- ٥- الحضارة التي قامت في جنوب شبه الجزيرة العربية يمثلها على الخريطة الرقم (...٦...) ص ٧١
- ٦- نهر شليف يوجد في دولة عربية في الجناح الافريقي يمثل على الخريطة الرقم (...٧...) ص ٥٨

(ب) أكمل الفراغ في المخططات السهمية التالية بما يناسبها مما درست : (١ x ٥ = ٥ درجات)



٢-الديانات السماوية في الوطن العربي ص ٩٠



(ج) انسب الكلمات التالية إلى مكانها المناسب في الجدول التالي : (١ x ٧ = ٧ درجات)

أطلس - سبو - الشطوط - عسير - بادية الشام - نجد - ليبيا

سهول ص ٤٢	هضاب ص ٤٠	جبال ص ٣٨
سبو ليبيا	الشطوط بادية الشام - نجد	أطلس عسير

السؤال الثالث: (المقالي) يتكون من (أ - ب - ج)
(أ) فرق بين كل مما يلي : (١ x ٢ = ٢ درجات)

حشائش المعتدلة	حشائش الحارة ص ٥٢
حشائش قصيرة تنمو في الشتاء خلال سقوط الامطار	حشائش طويلة يختلف نوعها حسب كمية الامطار

(ب) اكتب نقطتين فيما يلي : (١ x ٦ = ٦ درجات)
١- صفات المطر في الوطن العربي . ص ٥٩

- ...تذبذب كميتها بين عام وآخر....
- .. قليلة بصفة عامة

٢- أهم الحيوانات السائدة في الوطن العربي . ص ٥٥

- ...الابل ، الماعز ، الضب ، الارانب البرية * .. الحشرات كالجراد والعقارب والخنفس ...
 - .. الطيور كالصقور واليوم والحبارى * ...الزواحف كالأفاعي والحيوانات القارضة كالقتران والجربوع ...
- ٣- صادرات بلاد الرافدين مع بلدان الأقاليم المجاورة . ص ٨١
- ...المنتجات الزراعية.....
 -المنسوجات وخاصة الصوفية منها.....

(ج) علل لما يلي : (١ x ٤ = ٤ درجات)

- ١- تؤثر التضاريس في المناخ بصورة مباشرة . ص ٤٦
-درجة الحرارة
 -توزيع كمية الامطار

٢- أهمية الوطن العربي الاقتصادية . ص ٣٥ (يكتفى بنقطتين)

- ...منطقة عبور لحركة الملاحة والتجارة العالمية.....
- ...الجسر الذي يربط بين قارات العالم الثلاث (افريقيا ، اسيا ، أوروبا)
- ...سكان الوطن العربي يشكلون ٥% من سكان العالم
- .. ظهور النفط بكميات كبيرة في منطقة الخليج العربي وشبه الجزيرة العربية وبعض مناطق شمال أفريقيا .

السؤال الرابع : (المقال) يتكون من (أ - ب - ج)

(أ) اكتب فيما يلي مما درست : (١ x ٥ = ٥ درجات)

- ١- المقومات الأساسية للحضارة . ص ٧٣ (يكتفى بنقطتين)
 -الموقع الاستراتيجي..... *توافر مصادر المياه العذبة..... *اعتدال المناخ.....
 - ..توافر الثروات الطبيعية .. * ..توافر العنصر البشري ..
- ٢- كيفية المحافظة على الثروة المائية . ص ٦٣ (يكتفى بثلاث نقاط)
 - ..ترشيد استخدام المياه والحد من التبذير في المنازل ...
 -الحد من هدر المياه في عمليات الري ...
 - ..تنظيم عملية الاستفادة من المياه الجوفية ومنع تسرب الاملاح الملوثة اليها
 - ..تطوير استعمال مياه الصرف الصحي المعالجة في الزراعة ..
 - ..اقامة البحيرات والسدود لتجميع مياه الامطار والسيول للاستفادة منها في فصل الجفاف ..
 - ..توقيع اتفاقيات مع الدول المشاركة ودول المنبع ..

(ب) علل لما يلي : (١ x ٥ = ٥ درجات)

- ١- قامت دلمون وسط حضارات الشرق القديم . ص ٨٨
 -لموقعها وسط الخليج العربي.....
 -كانت مركزا مهما للمواصلات والتجارة البحرية بين البلدان المطلة على الخليج العربي والحضارات المجاورة لها ...
- ٢- انتقال الحضارة العربية الإسلامية الى أوروبا . ص ٩٢
 -لانتشار مراكز الاشعاع مثل بلاد الاندلس وصقلية والاحتلال الصليبي لبلاد الشام ..
- ٣- منطقة جنوب غرب شبه الجزيرة العربية ملائمة لقيام الحضارة . ص ٨٥ (يكتفى بنقطتين)
 -توافر المياه العذبة.....
 - المناخ المناسب لقيام الزراعة
 - .. الموقع الذي يسمح لقيام النشاط التجاري ..

(ج) عرف المفاهيم التالية : (١ x ٢ = ٢ درجات)

- ١- مياه جوفية : ... هي المياه التي توجد في جوف الأرض (باطن الأرض) ص ٦٠
- ٢- وطن عربي : ..مجموعة من الدول العربية التي يجمعها عدد من السمات المشتركة الدين واللغة ويمتد ضمن قارتين من أكبر قارات العالم مساحة ... ص ٢٢