



وزارة التربية

الإدارة العامة لمنطقة الأحمدية التعليمية

التوجيه الفني للاجتماعيات

نموذج الإجابة

امتحان نهاية الفترة الدراسية الأولى

للفصل الثامن المتوسط (دولة الكويت والعالم الإسلامي)

للعام الدراسي ٢٠١٩ / ٢٠٢٠ م

المجال الدراسي: (اجتماعيات)

عدد الأوراق : ٥ أوراق

الزمن: ساعة وخمس وأربعون دقيقة

الإجابة النموذجية

كتبرو
الاجتماعيات

الامتحان يتكون من أربعة أسئلة

السؤال الأول (موضوعي) يتكون من (أ - ب - ج) (١٥ نقطة X درجة واحدة = ١٥ درجة)

(أ) أكمل العبارات التالية بما يناسب كل منها مما درست:

١. نبات ينمو في المناطق الاستوائية والموسمية ويصنع منه الحبال والأحذية والحقائب يسمى...الجوت... ص ٧٣
٢. تقع دولة الكويت ضمن إقليم مناخي يسمى...الصحراوي... ص ٦٣
٣. العالم المسلم الذي ألف كتاب "الصيدلة في الطب" يسمى...البيروني... ص ١٩
٤. الدولة الإسلامية الأولى في إنتاج الذهب تسمى...أوزباكستان.. ص ٧٠
٥. المحاصيل التي تزرع من أجل التصدير تسمى...غلات نقدية... ص ٧٣

(ب) صوب ما تحته خط في العبارات التالية بكتابة التصويب فيما بين القوسين:

١. تضم قارة آسيا ٢٦ دولة إسلامية . (٢٧) ص ٥١
٢. المدينة التي تم إنشاء ديوان الماء فيها دمشق. (مرو) ص ٢٧
٣. توفي الرسول-صلى الله عليه وسلم- في ١٢ ربيع الأول عام ١٠هـ. (١١ هـ) ص ٢٥
٤. العالم الذي اشتهر في مجال الجغرافيا وألف كتاب " نزهة المشتاق في اختراق الآفاق" هو الكندي. (الإدريسي) ص ٤٢
٥. مظهر تضاريسي يشبه الجبل ولكن ارتفاعه أقل من ١٠٠٠ متر يسمى الهضبة. (التل) ص ٥٣

(ج) صنف الكلمات التالية في الجدول حسب ما هو مطلوب منك مما درست:

المملكة العربية السعودية - الجبل الأخضر - الجزائر - دولة الكويت - سهول نهر جوبا - جبال زاغروس

اسم الدولة	ليبيا	دولة الكويت ص ٥٨	الجزائر ص ٥٤	المملكة العربية السعودية ص ٥٦	الصومال
المظهر التضاريسي	الجبل الأخضر ص ٥٤	سهل الروضتين	جبال الأحجار	هضبة نجد	سهول نهر جوبا ص ٥٩

السؤال الثاني (موضوعي) يتكون من (أ - ب - ج) (١٥ نقطة X درجة واحدة = ١٥ درجة)

(أ) اختر البديل المناسب من بين البدائل التي تلي كل عبارة وضع تحته خط:

١. العام الذي أصدرت فيه الجمعية العامة للأمم المتحدة قراراً بإدخال اللغة العربية ضمن اللغات الرسمية: ص ٢١

(١٩٧٢ م - ١٩٧٣ م - ١٩٧٤ م - ١٩٧٥ م)

٢. الخليفة الراشدي الذي استحدث في عهده منصب المحتسب: ص ٢٥

(أبو بكر الصديق - علي بن أبي طالب - عثمان بن عفان - عمر بن الخطاب)

٣. نسبة إنتاج العالم الإسلامي من الغاز الطبيعي من إجمالي الإنتاج العالمي: ص ٦٧

(٣٦% - ٣٧% - ٣٨% - ٣٩%)

٤. مظهر عمراني في دولة الكويت صمم وفق الطراز الأندلسي الإسلامي: ص ٣١

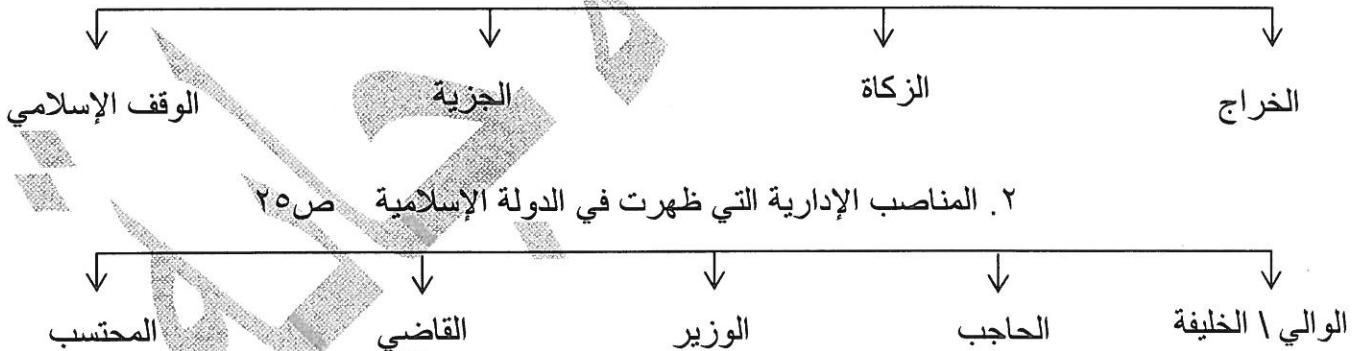
(المتحف الإسلامي - المركز العلمي - المسجد الكبير - بيت العثمان)

٥. عدد القارات التي تمتد فيها دول العالم الإسلامي: ص ٥١

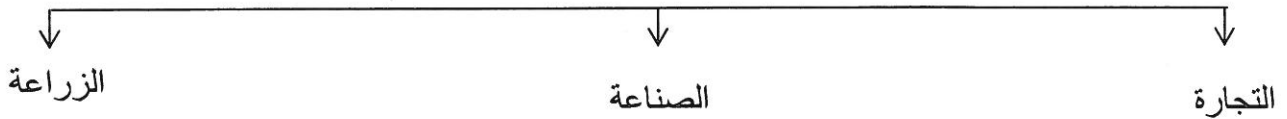
(قارتين - ثلاث قارات - أربع قارات - خمس قارات)

(ب) أكمل المخططات السهمية التالية بما يناسبها مما درست:

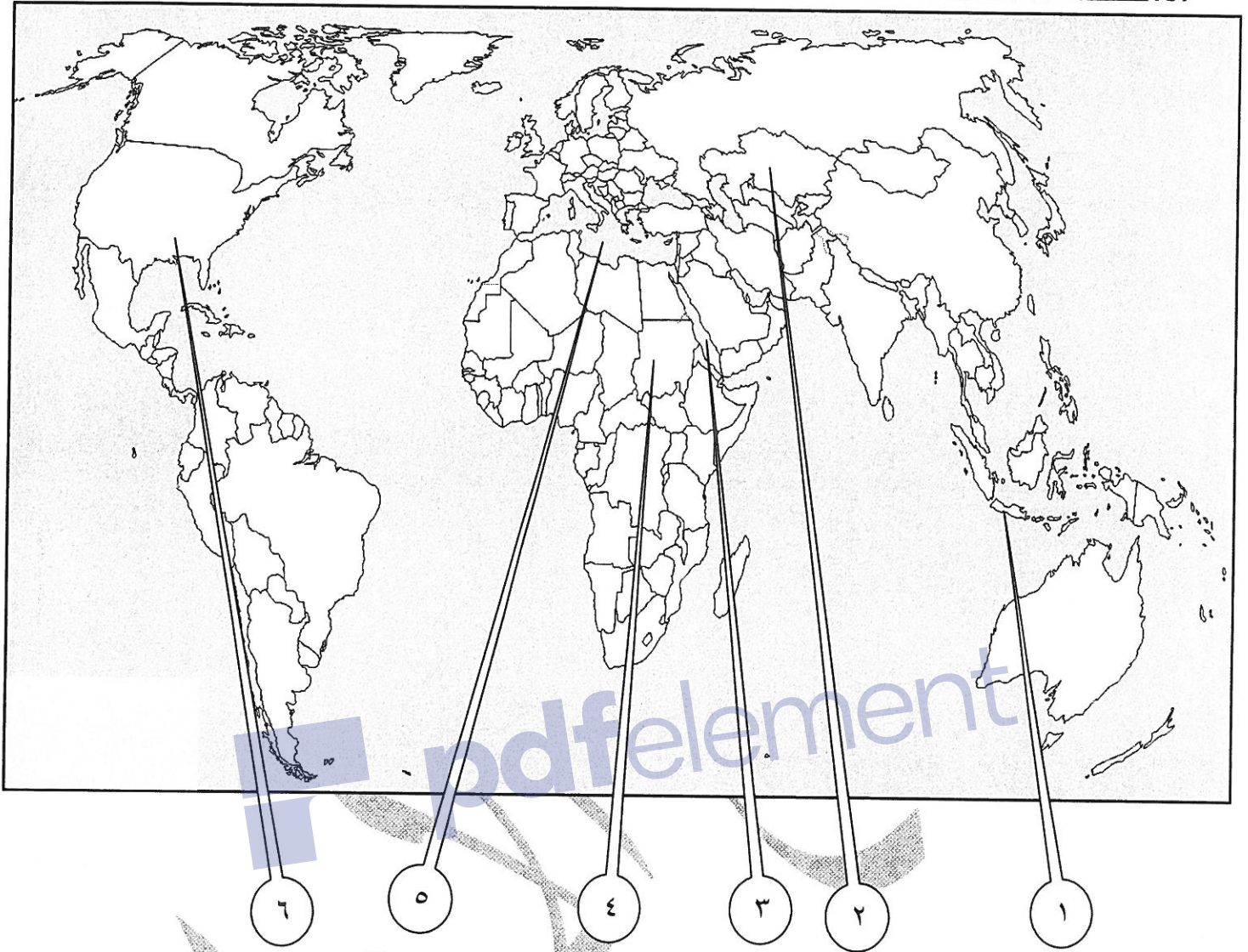
١. موارد بيت مال المسلمين ص ٢٨



٣. المظاهر الاقتصادية في الحضارة الإسلامية ص ٢٦-٢٧-٢٨



(ج) لاحظ خريطة العالم الإسلامي ثم بين مدلول الأرقام التالية:



- أكبر دول العالم الإسلامي من حيث المساحة يمثلها على الخريطة الرقم (٢) ص ٥٢
- دولة إسلامية احتلت المركز الثاني على مستوى العالم في الإنتاج البحري لعام ٢٠١٤م يمثلها على الخريطة الرقم (١) ص ٧٤
- جبل مره يمثلها على الخريطة الرقم (٤) ص ٥٤
- بحر القلزم يمثلها على الخريطة الرقم (٣) ص ١٧

السؤال الثالث (مقالي) يتكون من (أ - ب - ج)

(١٥ نقطة X درجة واحدة = ١٥ درجة)

(أ) عرف المفاهيم التالية:

١. وادي : حوض أو منخفض طبيعي على سطح الأرض. ص ٥٣
٢. حضارة : كل ما يطرأ على المجتمع من تقدم وتطور ورقي سواء في الجانب المادي (مساجد ، قصور ، مستشفيات مكتبات والأدوات، و الاختراعات) أو الجانب الروحي (العلوم والفكر والأدب والأخلاق والسياسة والثقافة) ص ١٨
٣. إقليم مناخي : مساحة من الأرض تتصف بعناصر مناخية متشابهة. ص ٦٥
٤. تضاريس : أشكال سطح الأرض. ص ٥٣
٥. زكاة : ركن من أركان الإسلام يخرجها المسلمون الأغنياء للمستحقين من الفقراء وسميت الزكاة لما فيها من تزكية للنفس وتطهيرها . ص ٢٨

(ب) علل لما يلي:

١. اهتمام الدولة الإسلامية بالصناعة اهتماماً كبيراً. ص ٢٧
من أجل استثمار الموارد الطبيعية المتوفرة بها .
٢. قلة عدد السكان في المناطق الجبلية في دول العالم الإسلامي. ص ٥٥ (يكتفى بثلاث نقاط)
- انخفاض الضغط الجوي
- شدة انحدارها.
- قلة وجود الأكسجين.
٣. لقيت التجارة تشجيعاً كبيراً في الحضارة الإسلامية. ص ٢٨
- لدورها الكبير في التبادل التجاري مع المناطق المجاورة ولقد ساهمت في نشر الدين الإسلامي.
- يمتلك موقع العالم الإسلامي الاستراتيجي العديد من الخطوط التجارية البرية والبحرية .

(ج) فرق بين كل من:

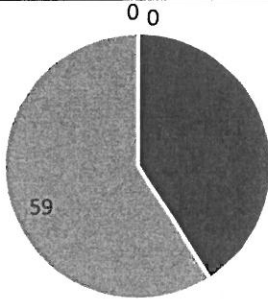
الطقس ص ٦٤	١. المناخ
حالة الجو في مكان لمدة قصيرة تتراوح بين يوم أو عدة أيام، من حيث درجة الحرارة والرطوبة والأمطار والضغط الجوي.	حالة الجو خلال فترة زمنية طويلة من حيث (عناصره) وهي درجة الحرارة ، الرطوبة ، الأمطار ، الضغط الجوي.
المصادر غير الطبيعية لإنتاج الأسماك ص ٧٤	٢. المصادر الطبيعية لإنتاج الأسماك
الاستزراع السمكي	- المحيطات والبحار - المياه العذبة (يكتفى بنقطة واحدة)

السؤال الرابع (مقالي) يتكون من (أ - ب - ج)

(١٥ نقطة X درجة واحدة = ١٥ درجة)

(أ) لاحظ الجدول الذي أمامك ثم أجب عن ما يلي: ص ٧٠

الدولة	نسبة إنتاج اليورانيوم في دول العالم الإسلامي لعام ٢٠١٤ م
كازاخستان	٤١%
اوزباكستان	٤,٣%
النيجر	٧,٢%
باكستان	٠,١%



١. استخراج حقيقة من الجدول. (ما يراه المصحح مناسباً)

٢. ما اسم أقل دولة منتجة لليورانيوم حسب الجدول؟ باكستان .

٣. حول نسبة إنتاج (كازاخستان ٤١%) إلى دائرة بيانية .

(ب) قارن بين كل من:

اسم العالم	أبو بكر الرازي ص ٤٠	الخوارزمي ص ٣٩
المجال	- الطب	- الجبر
أهم مؤلفاته	- الحاوي في الطب	- الجبر والمقابلة

(ج) دلل على صحة العبارات التالية:

ص ٥٨ (يكتفى بنقطتين)

١. للسهول أهمية كبيرة في دول العالم الإسلامي .
- استخدامها كموانئ طبيعية
- تركز السكان فيها لسهولة التنقل .

ص ٣٧ (يكتفى بنقطتين)

٢. ازدهار العلم وظهور العلماء في العالم الإسلامي .
- تشجيع العلماء ورعاية وتمويل القيادات السياسية لهم من خلفاء وملوك وسلطين وأمراء .
- التنافس العلمي بين الدول الإسلامية | الرخاء الاقتصادي .
- حركة التعريب (الترجمة) للكتب القديمة اليونانية و الهندية والفارسية وغيرها .

٣. الحضارة الإسلامية حضارة عالمية . ص ٢٣

جاءت الحضارة الإسلامية للبشر كافة فأخي بين الشعوب المختلفة .

٤. للحضارة الإسلامية أسس قوية ثابتة انطلقت من خلالها . ص ٢٠

- الدين الإسلامي .
- اللغة العربية .
- الحضارات الأخرى .