

منطقة حولي التعليمية

اختبار نهاية الفترة الدراسية الأولى

العام الدراسي 2019/2018م

الصف السابع

نموذج إجابة اختبار مادة

الاجتماعيات

# الإجابة النموذجية لامتحان نهاية الفترة الأولى لمقرر الكويت والوطن العربي للصف السابع ٢٠١٨/٢٠١٩

السؤال الأول : يتكون من ( أ ، ب ، ج - د - هـ )

( ٨ درجات كل نقطة درجة )

( أ ) : أكمل العبارات التالية فيما درست :

- ١- أرض مرتفعه سطحها مستو وتمتد على مساحة كبيرة أسمها ( الهضبة ) ص ٤٠
- ٢- أهم الشرائع القانونية القديمة التي ظهرت في بلاد الرافدين شريعة أسمها ( حمورابي ) ص ٨٤
- ٣- المياه التي توجد في جوف الأرض أسمها ( المياه الجوفية ) ص ٦٠
- ٤- أصبحت مساحه الوطن العربي حالياً ١٣.٥٠٠ مليون كم بعد انفصال دوله جنوب السودان عن جمهوريه أسمها ( السودان ) ص ٢٣
- ٥- عرفت الكتابة المصرية القديمة بأسم ( الهيروغليفية ) ص ٧٧
- ٦- الديانة السماوية التي نزلت على سيدنا موسى عليه السلام وكتابها التوراة أسمها ( اليهودية ) ص ٩٠
- ٧- الدولة التي انضمت لجامعة الدول العربية في عام ١٩٩٣م أسمها ( جمهورية جزر القمر ) ص ٢٣
- ٨- يطلق على البحرين قديماً أسم ( أوال ) ص ٨٩

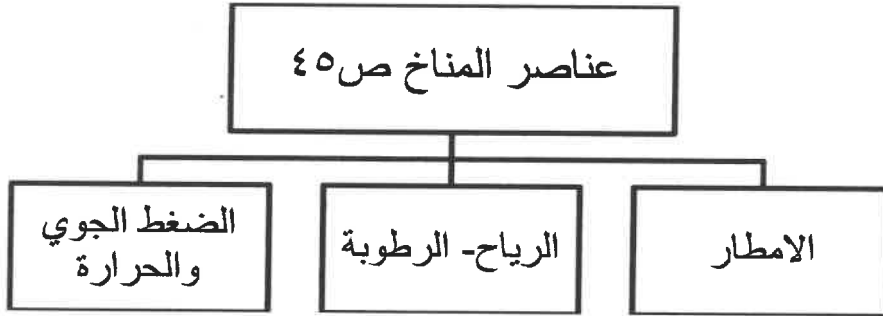
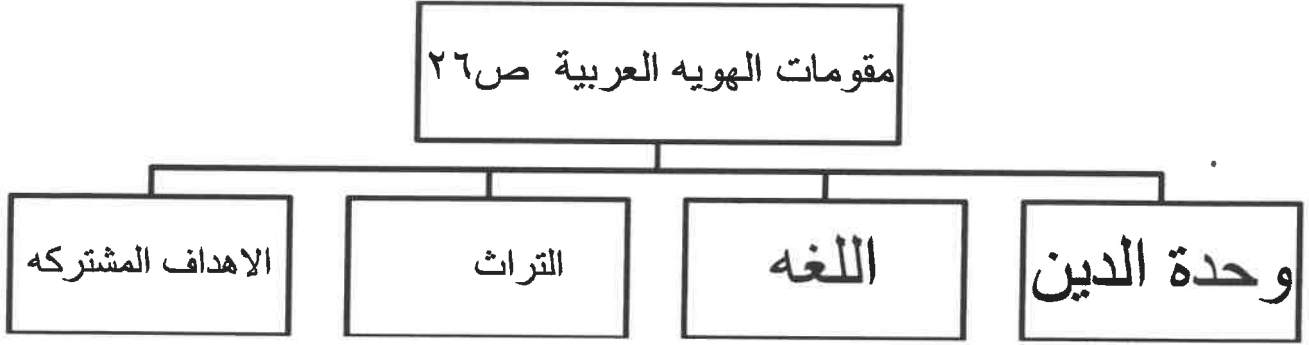
( ب ) : ضع خطاً تحت الخيار الصحيح من بين الخيارات التي تلي كل عبارة: ( ٨ درجات كل نقطة درجة )

- ١- الدولة العربية التي يمر بها خط الاستواء :  
( الجزائر / مصر / الصومال / المغرب ) ص ٣٢
- ٢- الحيوانات السائدة بالمناطق الصحراوية في الوطن العربي:  
( الأبقار / الخيول / الإبل / الجاموس ) ص ٥٥
- ٣- أشهر ممالك اليمن القديمة وحكمتها الملكة بلقيس :  
( حمير / سبأ / معين / ريدان ) ص ٨٦
- ٤- نزل القرآن الكريم على سيدنا محمد عليه الصلاة والسلام عام ٦١٠م في مدينه :  
( جدة / المدينة المنورة / مكة المكرمة / الطائف ) ص ٩٠
- ٥- تهب الرياح المحلية الخماسين على دولة عربية :  
( السودان / الجزائر / موريتانيا / مصر ) ص ٤٨
- ٦- المضيق الذي يصل بين الخليج العربي وخليج عمان :  
( باب المندب / هرمز / جبل طارق / قناة السويس ) ص ٢٩
- ٧- كل ما ارتفع من الأرض وله قمة لا يقل ارتفاعها عن ١٠٠٠م :  
( الجبل / الهضبة / التلال / الوادي ) ص ٣٨
- ٨- تكون الشمس عمودية على المنطقة الواقعة بين خط الاستواء ومدار السرطان في فصل:  
( الربيع / الشتاء / الخريف / الصيف ) ص ٤٩

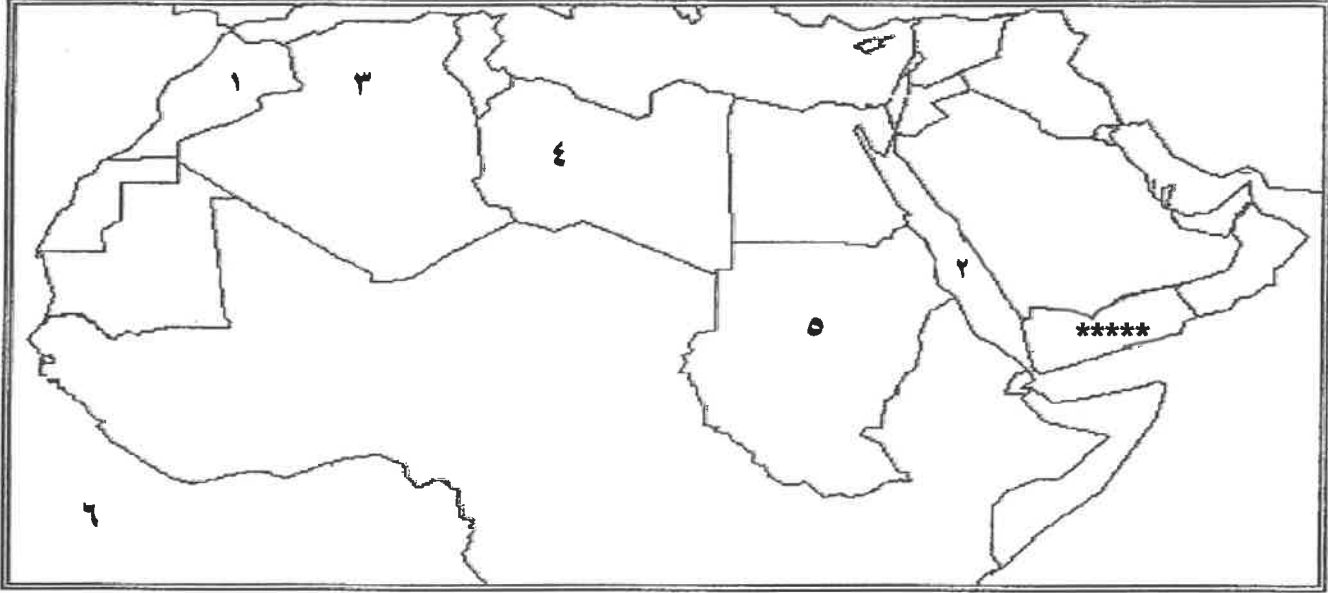
(ج) : اكتب المفاهيم أو المصطلحات الدالة على العبارات التالية: ( ٤ درجات )

١-الموقع الفلكي	نقطه من الكرة الأرضية يتحدد موقعها بخطوط الطول ودوائر العرض. ص ٣١
٢-النبات الطبيعي	النبات الذي ينمو تلقائيا عقب سقوط المطر دون تدخل من الإنسان . ص ٥١
٣-الحضارة	كل ما يطرأ على المجتمع من تقدم وتطور ورفي في جميع نواحي الحياة . ص ٧١
٤-المضيق	ممر مائي ضيق يصل بين بحرين أو محيطين أو أي مساحتين كبيرتين نسبيا من الماء . ص ٢٨

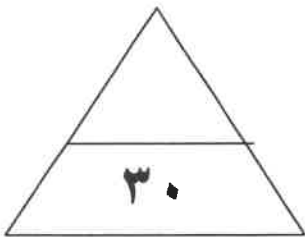
(د) : أكمل المخطط السهمي التالي: ( ٦ درجات )



( هـ ) : لاحظ خريطة الوطن العربي الصماء ثم اجب عما يليها من أسأله: ( ٤ درجات )



- ١- المسطح المائي الذي يفصل الجناح الآسيوي عن الجناح الأفريقي يمثل رقم ( ٢ ) ص ٢٨
- ٢- هضبة الشطوط يمثلها على الخريطة الرقم ( ٣ ) ص ٤٠
- ٣- يمثل الرمز (\*\*\*\*\*) حضارة شهيرة قامت في الوطن العربي تسمى ( بلاد اليمن ) ص ٨٥
- ٤- دولة التي ينتشر بها حشائش الحلفا تمثل رقم ( ١ ) ص ٥٢



السؤال الثاني : يتكون من ( أ ، ب ، ج ، د )

( ٤ درجات )

أ- عرف المفاهيم التالية :

المفهوم	التعريف
١- السافانا	حشائش طويلة يختلف نوعها حسب كمية المطر ص ٥٢
٢- الافلاج	الماء الجاري ( هو مجرى صغير مائي في الأرض ) ص ٦٠
٣- القناة	مجرى مائي صناعي ضيق يشق لإغراض الري أو النقل ص ٢٨
٤- النهر	مجرى مائي عذب ينحدر على الدوام لينتهي إلى بحر ا و إلى نهر آخر ص ٥٨

( درجتان )

ب- علل / اذكر السبب:

١- حرص الحضارة المصرية على تحنيط جثث موتاهم . ص ٧٦

\* لأنهم يعتقدوا في البعث والخلود

٢- تعد حضارة دلمون مركز مهما للمواصلات البحرية. ص ٨٨

\* بحكم موقعها وسط الخليج العربي

( ٤ درجات )

ج- قارن بين كلا من :

وجه المقارنة	الغابات المدارية الحارة	الغابات المعتدلة ص ٥٢
المميزات	ضخامة أشجارها وجذوعها وتشابك أغصانها وأوراقها العريضة وارتفاعها الكبير	عدم كثافتها وبعضها دائم الخضرة وتتساقط أوراقها في الشتاء
أهم الأشجار	الساج - الماهوجني - التاك - الابنوس - السدر - الاثل - السنط	الارز - العرعر - الصنوبر - الحلبي - البلوط - السنديان - الزيتون - التفاح - الحمضيات

( ٥ درجات )

د- أجب عن الأسئلة التالية:

١- العوامل الرئيسية المؤثرة في تنوع النبات الطبيعي في الوطن العربي . ص ٥١

\* نوع التربة

\* المناخ

٢- المقومات الأساسية لقيام الحضارة . ص ٧٣

\* الموقع الاستراتيجي \* توافر مصادر المياه العذبة / اعتدال المناخ \* توافر الثروات الطبيعية

\* توافر العنصر البشري.

السؤال الثالث : يتكون من ( أ ، ب ، ج )

أ- فرق بين كلاهما يلي : ( ٤ درجات )

السهول الساحلية	السهول الفيضية ( النهرية) ص ٢٤
هي الأراضي المنبسطة التي تجاور سواحل البحار والمحيطات	الأراضي المنخفضة التي تكونت من التربة التي حملتها مياه الأنهار
المناخ	الطقس ص ٤٤
حالة الجو خلال فترة زمنية طويلة من حيث درجه الحرارة والرطوبة والأمطار	حالة الجو في مكان لمدة قصيرة تتراوح من يوم أو عدة أيام من حيث درجة الحرارة والرطوبة والأمطار والضغط الجوي

ب- أقرأ الفقرة التالية ثم اجب عما يليها من أسئلة : ( ٣ درجات )

" تعد الكتابة التي اخترعها السومريون من أقدم أنواع الكتابة في العالم حيث كانت تكتب على ألواح من الطين الطري بواسطة أقلام تشبه المسامير "

- ١- ما اسم الحضارة ؟ ( بلاد الرافدين ) ص ٨١
- ٢- ما اسم الكتابة التي اخترعها السومريون ؟ ( المسمارية ) ص ٨٣
- ٣- عدد حروف الكتابة التي اخترعها السومريون ؟ ( ٦٠٠ حرف ) ص ٨٣

ج- اكتب مما درست : ( ٨ درجات )

- ١- العوامل التي تؤثر في مناخ الوطن العربي . ص ٤٦
  - \*الموقع بالنسبة لدوائر العرض \*القرب أو البعد عن المسطحات المائية
  - \*التضاريس \* الرياح
- ٢- الصفات التي يتصف بها المطر في الوطن العربي. ص ٥٩
  - \*تذبذب كمي المطر بين عام وآخر.
  - \*تقتصر على الأطراف الشمالية والجنوبية منها
  - \*قليله بصفه عامه
- ٣- طرق ترشيد استخدام المياه. ص ٦٣
  - \* ترشيد استخدام المياه والحد من التبذير في المنازل
  - \*الحد من الهدر في عمليات الري \* تنظيم عمليه الاستفادة من المياه الجوفية.
  - \* تطوير استعمال مياه الصرف الصحي المعالجة في الزراعة.
  - \* أقامه بحيرات والسدود لتجميع مياه الأمطار والسيول
  - \* توقيع اتفاقيات مع الدول المشاركة ودول المنبع لتحقيق مصالح الدول العربية المعنية.

