

منطقة حولي التعليمية

اختبار نهاية الفترة الدراسية الأولى

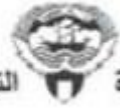
العام الدراسي 2020/2019م

الصف الثامن

نموذج إجابة اختبار مادة

الاجتماعيات

نموذج إجابة



وزارة التربية

الإدارة العامة لمنطقة حولي التعليمية

التوجيه الفني للاجتماعيات

امتحان نهاية الفترة الدراسية الأولى

مقرر/ دولة الكويت والعالم الإسلامي

للسف الثامن المتوسط

العام الدراسي : ٢٠١٩/٢٠٢٠م

الزمن: ساعة و ٤٥ دقيقة

عدد الصفحات : (٥)

السؤال الأول الموضوعي يتكون من (أ - ب - ج - د - هـ - و) : (٣٦ درجة لكل نقطة درجة واحدة)



(أ) ظلل الخيار الصحيح من بين الخيارات التي تلي كل عبارة :

١- الاسم الذي أطلق على الصناعة التي تشير لها الصورة المقابلة : ص ٢٧

المعادن	المنسوجات	الأرابيسك	الخزف
---------	-----------	-----------	-------

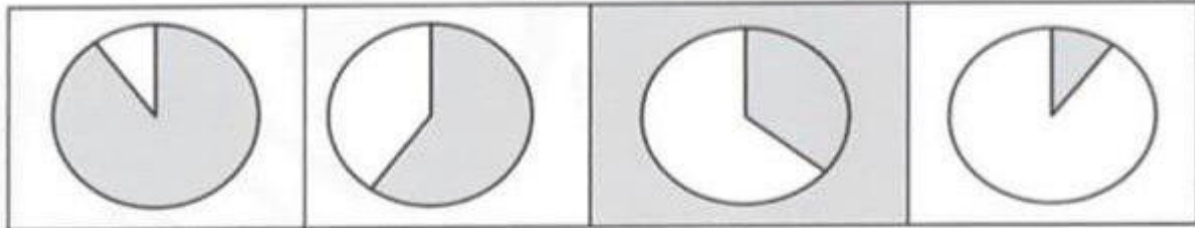
٢- العام الذي توفي فيه الرسول ﷺ : ص ٢٥

١٤ هـ	١٣ هـ	١٢ هـ	١١ هـ
-------	-------	-------	-------

٣- المدينة التي يقع فيها قصر الخضراء : ص ٣٤

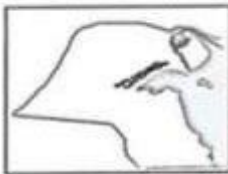
غرناطة	دمشق	قرطبة	القاهرة
--------	------	-------	---------

٤- نسبة ما ينتجه العالم الإسلامي من النفط الخام يمثلها الجزء المظلل من الدائرة البيانية : ص ٦٧



٥- الخليفة الذي ضم حجيرات الرسول ﷺ إلى المسجد النبوي : ص ٣٣

يزيد بن الوليد	هشام بن عبدالمك	الوليد بن عبدالمك	عبدالمك بن مروان
----------------	-----------------	-------------------	------------------



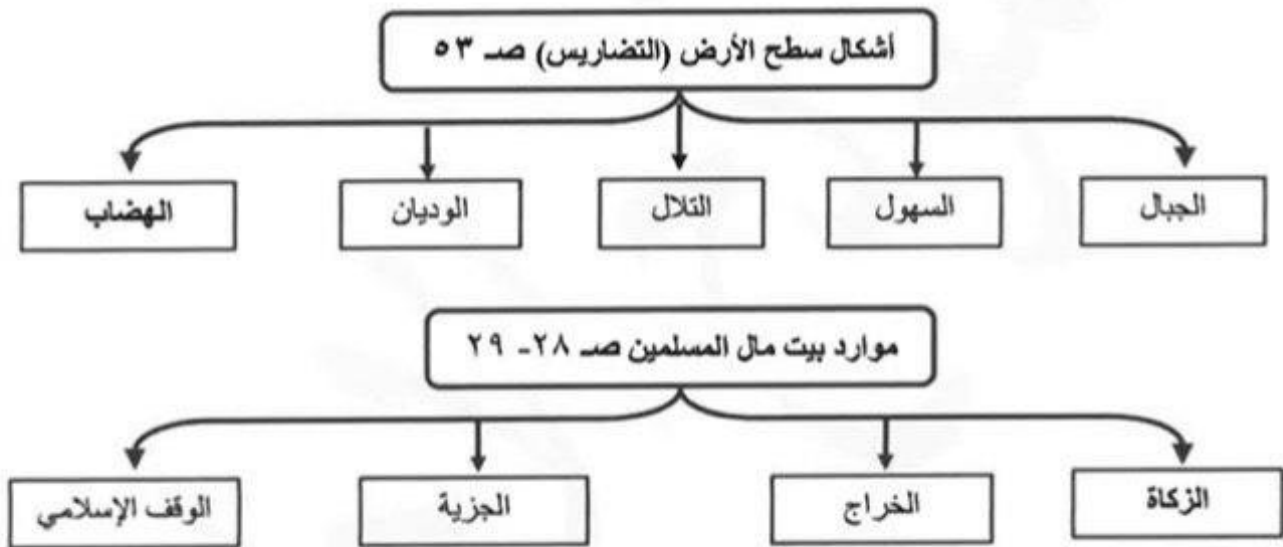
٦- التلال المحددة على خريطة دولة الكويت التي أمامك : ص ٦١

جال الزور	كراع المرو	اللياح	وارة
-----------	------------	--------	------

(ب) اكمل العبارات التالية بما يناسبها فيما درست :

- ١- المدينة التي قامت بها الدولة الإسلامية على يد سيدنا محمد ﷺ اسمها المدينة المنورة ص ١٧
- ٢- أول الخلفاء الراشدين اسمه أبو بكر الصديق رضي الله عنه ص ٢٥
- ٣- المرتفعات التي تحجز سهل تهامة في الغرب عن هضبة نجد في الشرق اسمها الحجاز ص ٥٥
- ٤- أمير دولة الكويت الذي افتتح في عهده المسجد الكبير عام ١٩٨٦م اسمه جابر الأحمد الصباح ص ٣١
- ٥- كمية النفط المخزونة في باطن الأرض ولم تستخرج بعد تسمى احتياطي النفط ص ٦٨
- ٦- الدولة الإسلامية الأكبر إنتاجاً لمعدن اليورانيوم اسمها كازاخستان ص ٧٠

(ج) أكمل المخططات السهمية التالية :



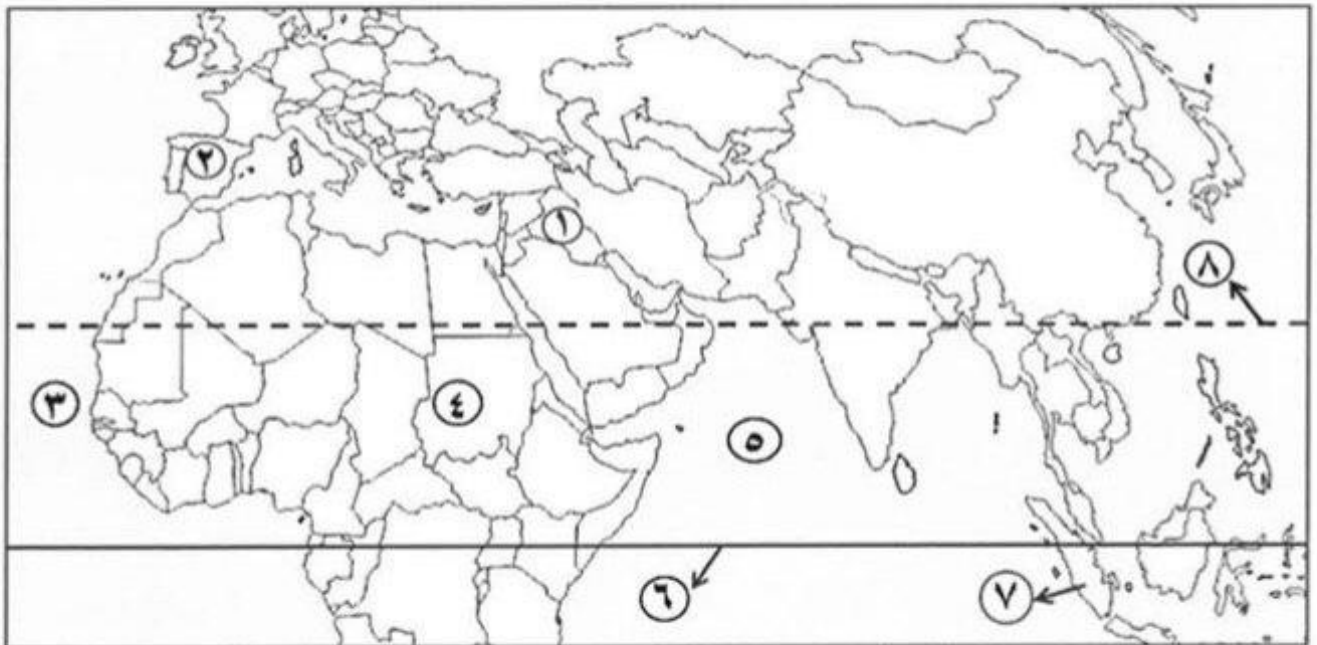
(د) اختر للمجموعة (أ) ما يرتبط بها من المجموعة (ب) بوضع الرقم في المكان المناسب :

م	المجموعة (أ)	الرقم المناسب	المجموعة (ب)
١	استحدث منصب المحتسب .	٦	عبدالرحمن السميظ ص ٢٤
٢	بني قصر عمرة في الأردن .	٥	سيدنا إبراهيم عليه السلام ص ٣٢
٣	ألف كتاب " نزهة المشتاق في اختراق الأفاق "	١	عمر بن الخطاب رضي الله عنه ص ٢٥
٤	اكتشف معادلة نصف قطر الأرض وسميت باسمه.		الخوارزمي
٥	رفع قواعد الكعبة المشرفة في مكة .	٤	البيروني ص ١٩
٦	داعية كويتي برز في مجال العمل الخيري.	٣	الشريف الإدريسي ص ٤٢
		٢	يزيد بن الوليد ص ٣٤

(هـ) اكتب المفاهيم أو المصطلحات الدالة على العبارات التالية :

م	المفهوم أو المصطلح	العبرة
١	أهل الذمة	النصارى واليهود الذين ظلوا على دينهم مع دفع الجزية. ص ٣٦
٢	. السهول	أجزاء فسيحة من سطح الأرض تتميز باستوائها وقلّة ارتفاعها . ص ٥٨
٣	المساجد	تقام فيها الصلوات وخطبة الجمعة والتعليم الديني . ص ٣٢
٤	المناخ	حالة الجو خلال فترة زمنية طويلة . ص ٦٤
٥	الإقليم المناخي	مساحة من الأرض تتصف بعناصر مناخية متشابهة . ص ٦٥
٦	القصور	مقر الحاكم والمكان الذي يضم المؤسسات الإدارية كالوزارة والدواوين . ص ٣٤

(و) أمامك خريطة صماء - اكتب الرقم الدال على العبارات التي تليها :



- جبل مرة يمثل على الخريطة الرقم (٤) ص ٥٤
- بلاد الأندلس يمثلها على الخريطة الرقم (٢) ص ٤١
- الدولة التي يقع بها بيت الحكمة يمثلها على الخريطة الرقم (١) ص ٣٨
- دولة إندونيسيا يمثلها على الخريطة الرقم (٧) ص ٧٤
- المحيط الهندي يمثل على الخريطة الرقم (٥) ص ٥٩
- خط الاستواء يمثل على الخريطة الرقم (٦) ص ٦٣

السؤال الثاني مقالي ويتكون من (أ - ب - ج) :

(أ) علل ما يلي : (أربع درجات لكل نقطة درجة)

- ١- ازدهار العلم وظهور العلماء . ص ٣٧ (يكتفى بنقطتين)
 - تشجيع العلماء ورعاية وتمويل القيادات السياسية لهم من خلفاء وملوك وسلاطين وأمراء .
 - التنافس العلمي بين الدول الإسلامية .
 - حركة التعريب (الترجمة) للكتب القديمة اليونانية والهندية والفارسية وغيرها .
 - الرخاء الاقتصادي .

٢- تنوع المناخ في دول العالم الإسلامي . ص ٦٣ (يكتفى بنقطتين)

- امتداد دول العالم الإسلامي على مساحة شاسعة .
- الموقع بالنسبة لدوائر العرض .
- الإطلالة على عدة مسطحات مائية في معظم أجزائه .
- التنوع في التضاريس من جبال وهضاب وسهول ووديان .

(ب) عرف المفاهيم أو المصطلحات التالية : (أربع درجات لكل نقطة درجة)

الطقس : حالة الجو في مكان لمدة قصيرة تتراوح بين يوم أو عدة أيام من حيث درجة الحرارة والرطوبة والأمطار والضغط الجوي . ص ٦٤

الهضبة : أرض مرتفعة سطحها مستو وتمتد في مساحة واسعة . ص ٥٦

الغلات النقدية : المحاصيل التي تزرع من أجل التصدير مثل القطن والجوت والمطاط الطبيعي . ص ٧٣

الحضارة : هي كل ما يطرأ على المجتمع من تقدم وتطور ورفق سواء في الجانب المادي والروحي . ص ١٨

(ج) عدد ما يلي : (أربع درجات لكل نقطة درجة)

- ١- جهود المسلمين في الزراعة . ص ٢٦ (يكتفى بنقطتين)
 - شق القنوات المائية والترع . / - إقامة السدود / - تنظيم وسائل الري .

٢- المصادر الطبيعية لإنتاج الأسماك . ص ٧٤

- المحيطات والبحار .
- المياه العذبة .

السؤال الثالث مقالي ويتكون من (أ - ب - ج) :

(أ) اقرأ الفقرة التالية ثم أجب عما يليها من أسئلة : (أربع درجات لكل نقطة درجة)

انعكس أثر خصائص الحضارة الإسلامية على دولة الكويت وعلى الشعب الكويتي المحب للعمل الخيري من خلال تأسيس العديد من المؤسسات والهيئات الخيرية ومن أبرزها بيت الزكاة الكويتي والهيئة الخيرية الإسلامية العالمية ويعتبر سمو أمير البلاد الشيخ " صباح الأحمد الصباح " على قمة العمل الإنساني ولقب بقائد العمل الإنساني .

- ١- اقترح عنوانا مناسباً للفقرة السابقة : - العمل الخيري بالكويت . (ما يراه المصحح مناسباً) ص ٢٤
- ٢- استخرج من الفقرة السابقة المؤسسات والهيئات الخيرية في دولة الكويت .
- بيت الزكاة الكويتي .
- الهيئة الخيرية الإسلامية العالمية .
- ٣- بماذا لقب صاحب السمو أمير البلاد الشيخ صباح الأحمد الصباح .
- قائد العمل الإنساني .

(ب) فرّق بين كل مما يلي : (أربع درجات لكل نقطة درجة)

أهم واردات الدول الإسلامية ص ٢٨	أهم صادرات الدول الإسلامية ص ٢٨
- الأخشاب - التوابل - الذهب (يكتفى بنقطتين)	- التمور - الفواكه - اللبان - الخيول العربية (يكتفى بنقطتين)

(ج) اكتب فيما يلي : (أربع درجات لكل نقطة درجة)

- ١- العوامل التي تساعد على الإنتاج الزراعي في دول العالم الإسلامي . ص ٧٢ (يكتفى بنقطتين)
- التربة الخصبة . / - وجود البحيرات والآبار والأنهار . / - المناخ . / - كثرة السكان والأيدي العاملة . / - سقوط الأمطار .
- ٢- خصائص الحضارة الإسلامية . ص ٢٢ و ٢٣ (يكتفى بنقطتين)
- حضارة تسامح . / - حضارة إنسانية . / - حضارة إيمان وعمل . / - حضارة عالمية . / - حضارة شمولية .