



الامتحان يتكون من أربعة أسئلة جماعية إجرائية

السؤال الأول: (موضوعي) يتكون من (أ- ب - ج) (٤٠ نقطة × درجة واحدة = ١٥ درجة)

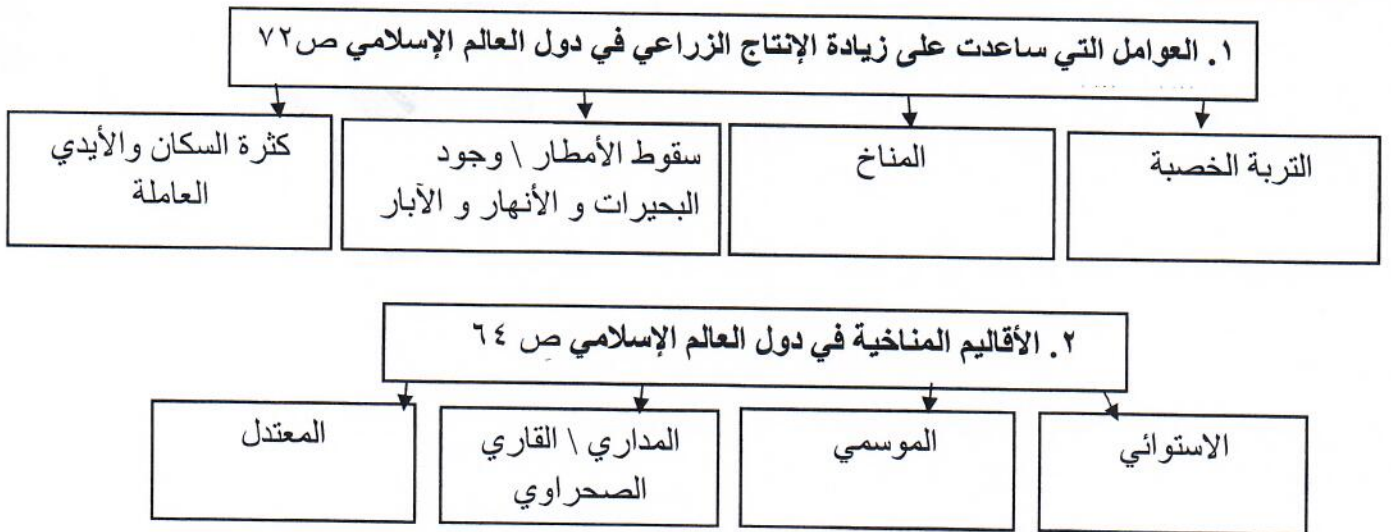
أ) أكمل العبارات التالية بما يناسب كل منها مما في مربع الإجابة:

١. الخليفة الراشد الذي استحدث منصب المحتسب في عهده اسمه --- عمر بن الخطاب --- ص ٢٥
٢. يقع العالم الإسلامي بين دائرتي عرض ٣٠° جنوب خط الاستواء و --- ٥٥ --- شمال خط الاستواء. ص ٥٢
٣. العالم المسلم الذي آمن بكروية الأرض ورسم خريطة تمثلها اسمه --- الشريف الإدريسي --- ص ٤٢
٤. القصر الذي بناه الخليفة الأموي معاوية بن أبي سفيان في دمشق يسمى --- قصر الخضراء --- ص ٣٤
٥. أصغر دول العالم الإسلامي مساحةً جمهورية --- المالديف --- ص ٥٢
٦. المكان الذي اجتمع فيه المسلمون بعد وفاة الرسول صلى الله عليه وسلم لاختيار خليفة لهم يسمى --- سقيفة بني ساعدة --- ص ٢٥

ب) صوب ما تحته خط في العبارات التالية بكتابة التصويب فيما بين القوسين:

١. مساحة من الأرض تتصف بعناصر مناخية متشابهة هو الإقليم النباتي (المناخي) ص ٦٥
٢. يعتبر مجمع باي كاليان أحد المراكز العلمية للحضارة الإسلامية في مدينة بغداد (بخارى) ص ٣٨
٣. العالم المسلم الذي ألف ١٨٠ مؤلف شملت الرياضيات و الفلك و التاريخ هو الحسن البصري (البيروني) ص ١٩
٤. النبات الذي ينمو في المناطق الاستوائية والموسمية ويصنع منه الحبال والحقائب والأحذية هو الموز (الجوت) ص ٧٣
٥. الداعية الكويتي الذي برز في مجال العمل الخيري الإنساني هو الدكتور صالح العجيري (عبد الرحمن السميطة) ص ٢٤

ج) أكمل المخططات السهمية التالية بما يناسبها:



السؤال الثاني: (موضوعي) يتكون من (أ - ب - ج) (١٥ نقطة × درجة واحدة = ١٥ درجة)
أ) اختر البديل المناسب من بين البدائل التي تلي كل عبارة وضع تحته خط :

١. انطلقت الحضارة الإسلامية من شبه الجزيرة العربية إلى بقاع الأرض في القرن الميلادي: ص ١٧
(السابع - الثامن - التاسع - العاشر)

٢. تبلغ نسبة إنتاج العالم الإسلامي للحبوب من إجمالي الإنتاج العالمي حوالي : ص ٧٢
(١٤% - ١٥% - ١٦% - ١٧%)

٣. الضريبة التي تخرج مبلغاً مالياً من ناتج المحصول الزراعي : ص ٢٨
(الخراج - الوقف الإسلامي - الجزية - الزكاة)

٤. الجهة المسنولة عن الوقف في دولة الكويت : ص ٢٩
(وزارة الطاقة - وزارة العدل - وزارة الأوقاف - وزارة التخطيط)

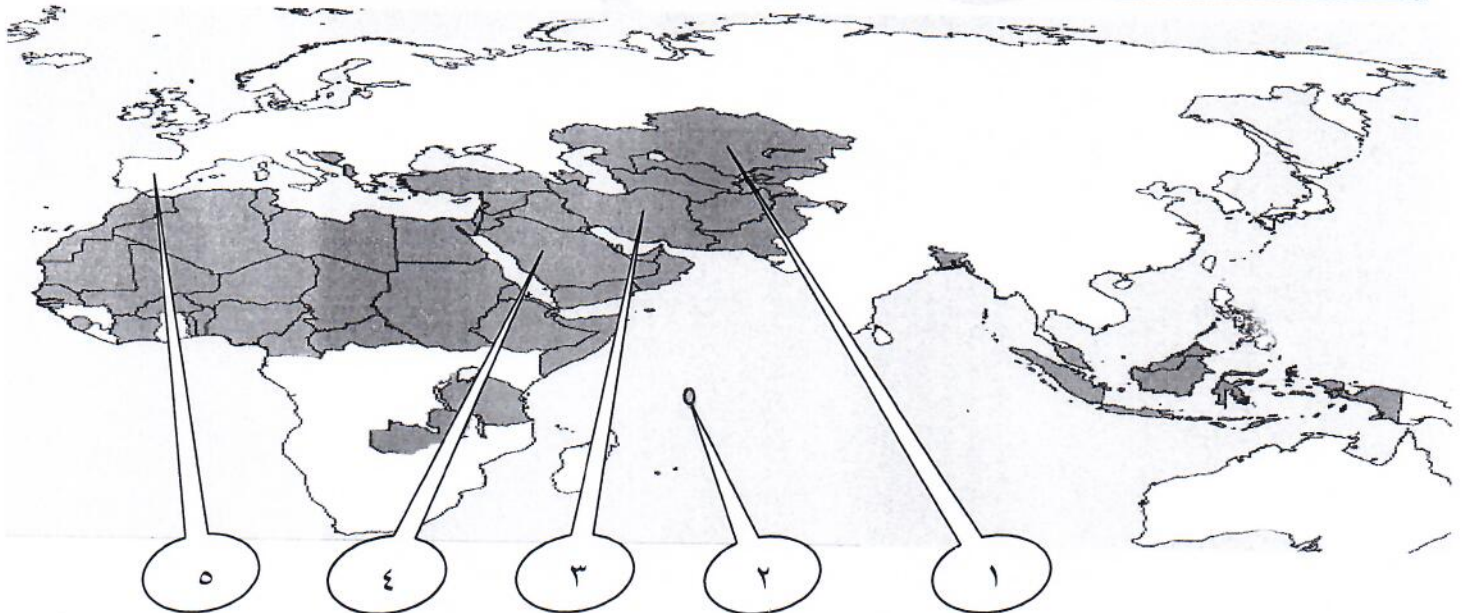
٥. تبلغ مساحة العالم الإسلامي حوالي: ص ٥١
(٣٢ مليون كم^٢ - ٣٣ مليون كم^٢ - ٣٤ مليون كم^٢ - ٣٥ مليون كم^٢)

ب) صنف العلوم التالية حسب الجدول الذي يليها:

(الرياضيات - تفسير - الفلسفة - فقه - تاريخ - الفلك) ص ١٧

علوم عقلية	علوم نقلية
الرياضيات \ الفلسفة \ الفلك	تفسير \ تاريخ \ فقه

ج) اكمل العبارات التي تلي خريطة العالم الإسلامي مستعيناً بالأرقام الموضحة عليها:



- مركز إشعاع الحضارة الإسلامية إلى أوروبا يمثلها على الخريطة الرقم (٥) ص ٤١
- أولى دول العالم الإسلامي في إنتاج اليورانيوم يمثلها على الخريطة الرقم (١) ص ٧٠
- الهضبة الإيرانية يمثلها على الخريطة الرقم (٣) ص ٥٦
- الكعبة المشرفة توجد في دولة تحمل على الخريطة الرقم (٤) ص ٣٣

السؤال الثالث: (مقالي) يتكون من (أ - ب - ج)

(٥ نقاط × درجة واحدة = ٥ درجات)

أ) علل لكل مما يلي:

١. تنوع المناخ في دول العالم الإسلامي . ص ٦٣ (يكتفي بنقطتين)
 - امتداد دول العالم الإسلامي على مساحة شاسعة \ الموقع بالنسبة لدوائر العرض
 - الإطلالة على عدة مسطحات مائية في معظم أجزائه \ التنوع في التضاريس من جبال و هضاب و سهول و وديان
٢. قلة عدد السكان في المناطق الجبلية في دول العالم الإسلامي. ص ٥٥ (يكتفي بنقطتين)
 - شدة انحدارها \ صعوبة التنقل
 - قلة وجود الأوكسجين \ انخفاض الضغط الجوي .
٣. تسمية الزكاة بهذا الاسم . ص ٢٨
 - سميت الزكاة بهذا الاسم لما فيها من تزكية للنفس وتطهيرها .

(٤ نقاط × درجة واحدة = ٤ درجات)

ب) قارن بين كل مما يلي حسب الجدول:

وجه المقارنة	سهول فيضية (نهريّة)	سهول ساحلية ص ٥٩
المفهوم	أراضي منبسطة تجاور الأنهار منخفضة من التربة التي حملتها مياه الأنهار	أراضي منبسطة تجاور سواحل البحار و المحيطات
الأمثلة	سهول أنهار: أم الربيع \ السوس \ أبو رقرقا \ سبوا \ الشليف \ المجردة \ النيل \ شبلي \ جوبا \ دجلة و الفرات \ الأردن \ العاصي	سهول سواحل: الشرقية للخليج العربي \ المحيط الهندي \ البحر الأحمر \ العلويين \ عكار \ لبنان \ الفلسطيني \ ليبيا \ المغرب العربي \ المحيط الأطلسي
	مطلوب مثال واحد فقط	مطلوب مثال واحد فقط

(٦ نقاط × درجة واحدة = ٦ درجات)

ج) أكتب مما درست حول:

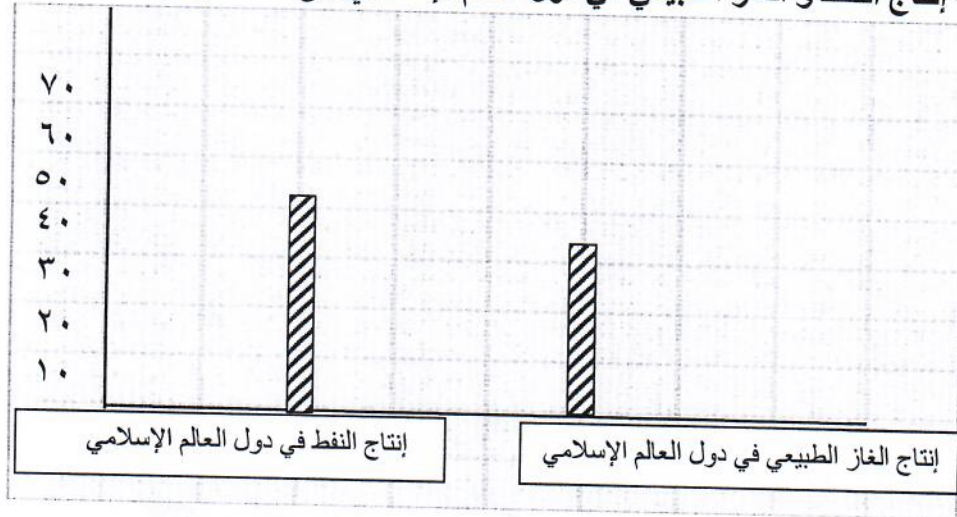
١. أسس الحضارة الإسلامية. ص ٢٠
 - اللغة العربية.
 - الدين الإسلامي
 - الحضارات الأخرى.
٢. مميزات المظاهر العمرانية في الحضارة الإسلامية . ص ٣٠ (يكتفي بنقطتين)
 - الأسوار \ القباب .
 - المآذن \ المنابر \ الزخارف .
٣. سبب اهتمام الدولة الإسلامية بالصناعة اهتماماً كبيراً. ص ٢٧
 - اهتمت الدولة الإسلامية بالصناعة اهتماماً كبيراً من أجل استثمار الموارد الطبيعية المتوفرة بها .

السؤال الرابع: (مقالي) يتكون من (أ - ب - ج)

(أ) اقرأ الفقرة التالية ، ثم أجب عما يليها: ص ٦٨-٦٧ (٤ نقاط × درجة واحدة = ٤ درجات)

(النفط و الغاز الطبيعي من أهم مصادر الطاقة في العالم حيث ينتج العالم الإسلامي من النفط الخام ٤١,٥% و الغاز الطبيعي ٣٦% من إجمالي الإنتاج العالمي ، و يبلغ إجمالي احتياطي النفط الخام في دول العالم الإسلامي ٥٨,٥% من إجمالي الاحتياطي العالمي حسب إحصاء ٢٠١٥ م) .

١. عرف ما تحته خط .
- احتياطي النفط : كمية النفط المخزونة في باطن الأرض ولم تستخرج بعد .
٢. كم تبلغ نسبة احتياطي النفط الخام في دول العالم الإسلامي؟ ٥٨,٥%
٣. حول نسبة إنتاج النفط و الغاز الطبيعي في دول العالم الإسلامي إلى أعمدة بيانية .



(٦ نقاط × درجة واحدة = ٦ درجات)

(ب) فرق بين كل مما يلي:

الطقس ص ٦٤	المناخ
حالة الجو في مكان لمدة قصيرة تتراوح بين يوم أو عدة أيام من حيث درجة الحرارة- الرطوبة- الأمطار- الضغط الجوي	حالة الجو لفترة زمنية طويلة من حيث عناصره (الحرارة - الرطوبة - الأمطار - الضغط الجوي)
الجبل ص ٥٣	التل
كل قمة لا يقل ارتفاعها عن ١٠٠٠ متر	يشبه الجبل ولكن ارتفاعه أقل من ١٠٠٠ متر
مصادر غير طبيعية لإنتاج الأسماك ص ٧٤	مصادر طبيعية لإنتاج الأسماك
الاستزراع السمكي	المحيطات \ البحار \ المياه العذبة . مطلوب نقطة واحدة

(٥ نقاط × درجة واحدة = ٥ درجات)

(ج) عرف المفاهيم والمصطلحات التالية:

١. هضبة: أرض مرتفعة سطحها مستو وتمتد في مساحة واسعة ص ٥٦
٢. حضارة : كل ما يطرأ على المجتمع من تقدم و تطور و رقي سواء في الجانب المادي أو الجانب الروحي. ص ١٨
٣. آرابيسك : صناعة خشبية سميت بهذا الاسم نسبة إلى العرب. ص ٢٧
٤. قصور: مقر الحاكم و المكان الذي يضم المؤسسات الإدارية كالوزارة والدواوين وأحيانا تكون القصور صحراوية لتنزه الخلفاء ص ٣٤
٥. تضاريس: أشكال سطح الأرض. ص ٥٣