

تدريبات على اسئلة الاختبار الصف السادس

**س : أكمل الجمل التالية بما يناسبها من كلمات:**

- 1- الدولة الخليجية الأولى من حيث الكثافة السكانية دولة تسمى .....
- 2- أولى حقول النفط الكويتية اكتشافا حقل يسمى.....
- 3- بداية التنقيب عن النفط في دوله الكويت كانت عام.....م
- 4- تتركز صناعة النحاس بسلطنة عمان في منطقة تسمى .....
- 5- أكثر دول العالم من حيث عدد السكان دولة تسمى .....

**س : اختر الإجابة الصحيحة من بين البدائل التالية بوضع خط تحتها:**

- 1- اقل دولة في العالم من حيث عدد السكان هي : .....
- أ.(الهند)      ب.(منغوليا)      ج.(الفاتيكان)      د.(موناكو)
- 2- أول شحنة نفط تم تصديرها في دولة الكويت عام : .....
- أ.(1944)      ب.(1946)      ج.(1942)      د.(1940)
- 3- نجحت المملكة العربية السعودية في إنتاج محصول : .....
- أ.(الأرز)      ب.(الذرة)      ج.(القطن)      د.(القمح)
- 4- هاجر اليعاربة إلى دولة خليجية تسمى : .....
- أ.(قطر)      ب.(الكويت)      ج.(عمان)      د.(البحرين)

5- أكثر دوله خليجيه من حيث عدد السكان : .....

ا.(الإمارات) ب.(السعودية) ج.(البحرين) د.(قطر)

**س : صحح الكلمة الخاطئة التي تحتها خط واكتب الإجابة الصحيحة بين القوسين:**

1. السلع والمنتجات التي تبيعها الدولة للخارج هي الواردات . ( )
2. أكثر دولة خليجية من حيث نسبة الوافدين هي دولة الكويت . ( )
3. مجموع إيرادات الدولة خلال عام من مختلف المصادر تسمى التجارة . ( )
4. توجد الآثار التاريخية لحضارة هيلي في دولة قطر . ( )
5. اقل دول الخليج العربي من حيث الكثافة السكانية هي البحرين . ( )
6. بداية التنقيب عن النفط في دولة الكويت كانت عام 1932م . ( )

**س : عرف المفاهيم التالية :**

1- الصناعة : .....

2- السلالة : .....

3- الزراعة بدون تربة : .....

4- البيوت البلاستيكية .....

5- الترانزيت:.....

6- الصناعة:.....

7- الثقافة.....

س : علل لما يلي ( اذكر السبب ) :

1. زيادة أعداد السكان في منطقة الخليج العربية.

\*

2. ظهور الحاجة إلي إقامة العديد من الموانئ النفطية في دول الخليج العربية.

\*

3. تسميه سكان دول الخليج العربية باسم خليجيين بدلا من لفظ اسم الدولة .

\*

4. انتعاش الموانئ التجارية بدول الخليج العربية .

\*

5. خروج الهجرات من قلب شبه الجزيرة العربية إلي ساحل الخليج العربي .

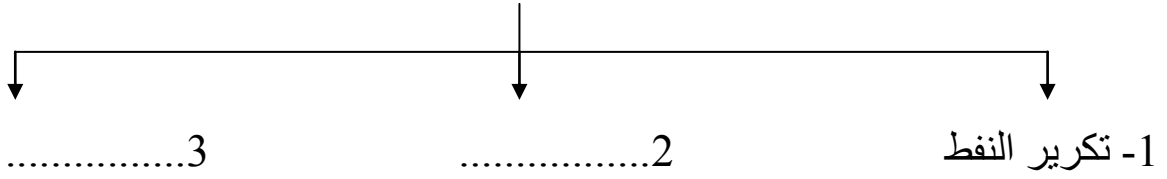
\*

6. ازدياد الهجرة إلي دول الخليج العربية في السنوات الأخيرة .

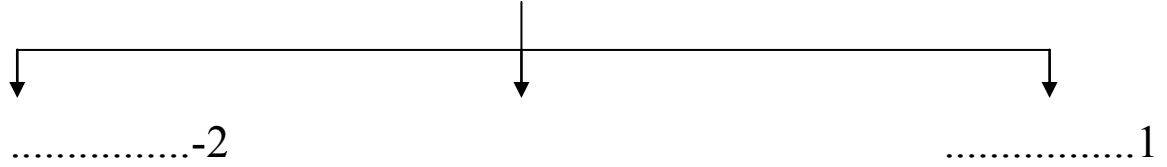
\*

س : أكمل المخططات السهمية التالية :

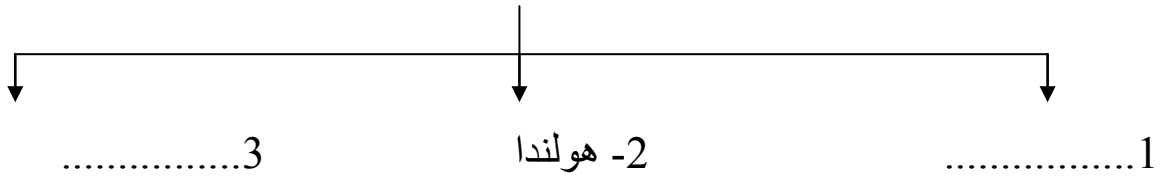
(1) صناعات قائمة على النفط بدول الخليج العربية



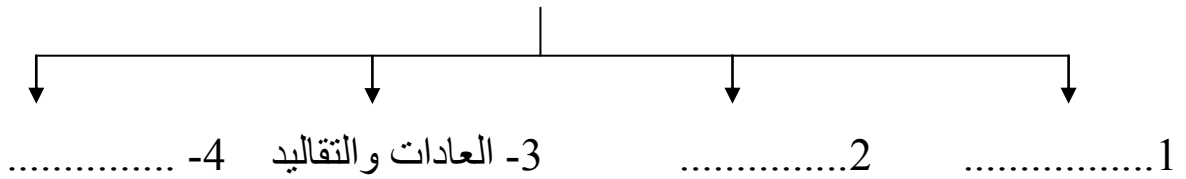
(2) أنواع الهجرات في منطقه الخليج العربي



(3) الدول المستوردة للنفط الكويتي



(4) التشابه الثقافي بين سكان دول الخليج العربية



س : فرق بين كل من :

(1)

الزيادة الطبيعية	الزيادة غير الطبيعية
.....	.....
.....	.....

(2)

احتياط النفط	إنتاج النفط
.....	.....
.....	.....

س : صنف الكلمات التالية وفق الجدول الذي يليها في كل مما يلي :

( 1 ) ( دخان - الغوار - برقان - ناطح )

.....	.....	.....	.....	الحقل
قطر	الكويت	عمان	السعودية	الدولة

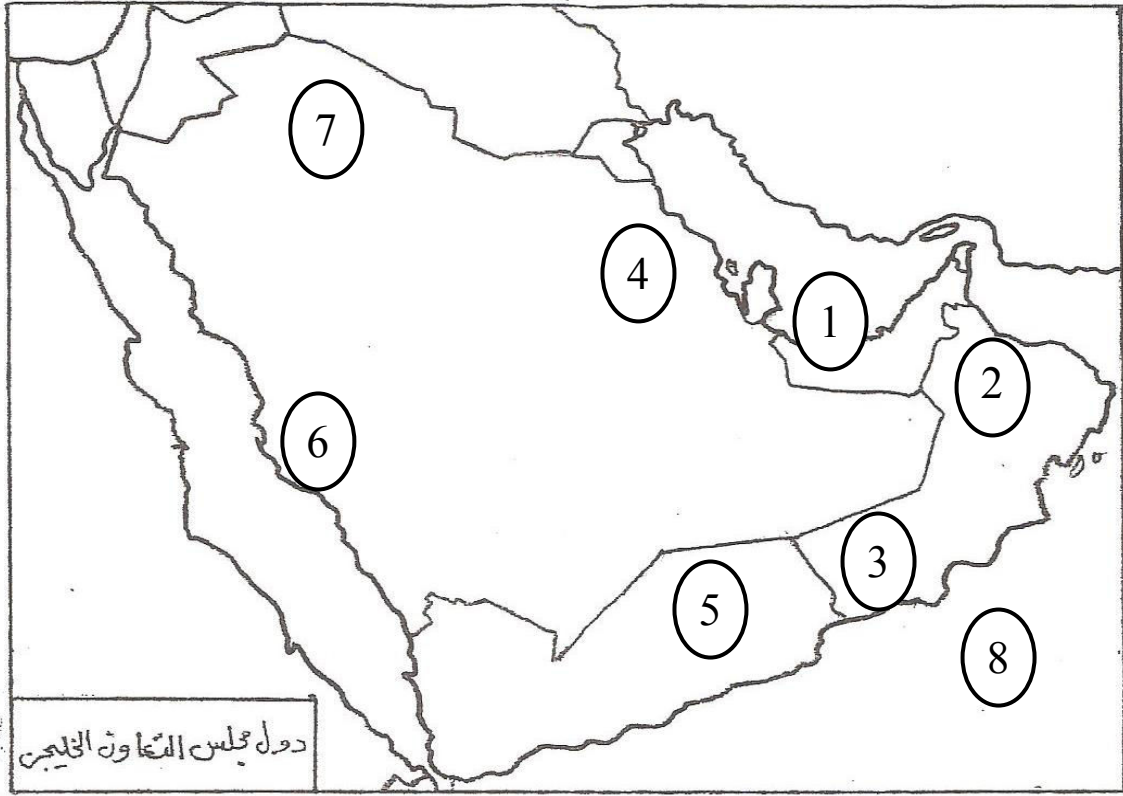
( 2 ) ( الوفرة - حائل - العين - صلاله )




.....	.....	.....	.....	المنطقة
الإمارات	الكويت	عمان	السعودية	الدولة

( 3 ) ( الشعيبية - الغوار - الفحل - برقان - صلاله - الأحمدى - الجبيل - الوفرة )

مناطق زراعية	مناطق صناعية	حقول نفطية	موانئ نفطية
.....	.....	.....	.....
.....	.....	.....	.....

س : أمامك خريطة دول مجلس التعاون الخليجي الصماء ، نفذ عليها ما يطلب منك منك :



- بحر العرب يحمل علي الخريطة الرقم .....
- سهل تهامة يحمل علي الخريطة الرقم .....
- ميناء جبل الظنة النفطي يحمل علي الخريطة الرقم .....
- حقل الغوار النفطي يحمل علي الخريطة الرقم .....
- منطقة سهل الباطنة الزراعية تحمل علي الخريطة الرقم .....
- حدد موقع دولة الكويت وظللها بالرمز 
- حدد موقع البحر الأحمر وضع عليه الرمز 
- حدد موقع الخليج العربي وضع عليه الرمز 
- حدد موقع أقل دول الخليج العربية من حيث عدد السكان وضع عليها الرمز 