

## الموضوع الخامس



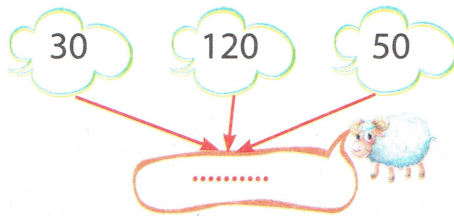
### 1 التمرين

الجزء العمليّات التّاليّة :

|         |         |         |         |
|---------|---------|---------|---------|
| 136     | 321     | 204     | 612     |
| + 209   | + 252   | + 307   | + 107   |
| + 161   | + 39    | + 93    | + 11    |
| = ..... | = ..... | = ..... | = ..... |

### 2 التمرين


اشترى فلاح عددًا من الأغنام على مراحل





• ما هو العدد الكلي للأغنام التي اشتراها الفلاح؟

..... + ..... + ..... = .....


## الفصل الثاني




أَرْبِطْ بِسَهْمٍ كُلِّ عَدَدٍ بِمَجْمُوعَةِ الْأَعْدَادِ الَّتِي تُكَوِّنُهُ:



200




199



154



أَكْمِلِ الْجَدُولَ التَّالِيَّ:



| العَدَدُ الَّذِي يَلِيهِ مُبَاشَرَةً | العَدَدُ | العَدَدُ الَّذِي يَسْبِقُهُ مُبَاشَرَةً |
|--------------------------------------|----------|---|
| .....                                | 199      | .....                                   |
| .....                                | 140      | .....                                   |
| .....                                | 108      | .....                                   |
| .....                                | 179      | .....                                   |
| .....                                | 137      | .....                                   |



بِمُنَاسَبَةِ مُبَارَاةٍ فِي كُرَةِ الْقَدَمِ بَيْنَ مُنْتَخِبِ الْجَزَائِرِ وَمُنْتَخِبِ فِلَسْطِينِ  
وَلِإِضَافَةِ الْبَهْجَةِ وَالسُّرُورِ فِي الْمَلْعَبِ وُزِّعَتْ عَلَى الْجُمْهُورِ الْجَزَائِرِيِّ  
244 عِلْمًا جَزَائِرِيًّا وَ155 عِلْمًا فِلَسْطِينِيًّا.

• مَا هُوَ عَدَدُ الْأَعْلَامِ الْمَوْزَعُ فِي الْمَلْعَبِ؟

أَثْنَاءَ الْمُقَابَلَةِ أَخَذَتِ الرِّيَّاحُ 99 عِلْمًا مِنَ الْمَلْعَبِ وَطَارَتْ فِي السَّمَاءِ

• مَا هُوَ عَدَدُ الْأَعْلَامِ الْمُتَبَقِيَّةِ مَعَ الْمُتَفَرِّجِينَ؟

