

منطقة حولي التعليمية

اختبار نهاية الفترة الدراسية الأولى

العام الدراسي 2019/2018م

الصف السادس

نموذج إجابة اختبار مادة

الاجتماعيات

الإدارة العامة لمنطقة حولي التعليمية نموذج إجابة اختبار نهاية الفترة الدراسية الأولى للصف السادس عدد الأوراق : 5
التوجيه الفني للإجتماعيات في مادة الإجتماعيات من العام الدراسي 2018-2019م

السؤال الأول : ويتكون من (أ) و (ب) و (ج) :

(أ) أكمل العبارات التالية بما يناسبها مما درست : درجة لكل نقطة (7x1)

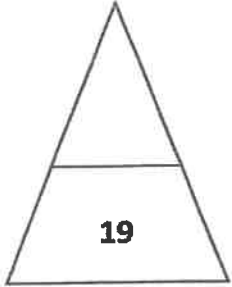
- 1- إستقلت دولة الكويت عام 1961 في عهد المغفور له الشيخ .. عبدالله السالم ص 63
- 2- عثر على العديد من أفران صهر المعادن في حضارة تسمى مجان
- 3- ذراع مائي لبحر العرب يمتد من خليج عمان جنوبا إلى شط العرب شمالا يسمى ...الخليج العربي ص 19
- 4- من مظاهر الحضارة الإسلامية الفن والصناعة و.....العمران ص 55
- 5- تقع منطقة الخليج العربية في الجهة الجنوبية الغربية من قارة إسمها آسيا ص 19
- 6 - عقدت إتفاقية الحماية بين الكويت وبريطانيا عام1899.. ص 62
- 7 - أولى الدول الإستعمارية وصولا لمنطقة الخليج العربية دولة إسمهاالبرتغال .. ص 60

(ب) صوب ما تحته خط بكتابة الإجابة الصحيحة داخل المربع المقابل لكل عبارة : درجة لكل نقطة (7x1)

التصويب	العبارة
القلاف	1- يطلق على صانع السفينة إسم <u>النوخذة</u> . ص 33
الغوص على اللؤلؤ	2- أشهر حرفة مارسها سكان منطقة الخليج العربية قديما هي <u>الزراعة</u> . ص 31
البحر الأدنى / بحر شروق الشمس	3- أطلق على الخليج العربي قديما أسم <u>بحر العرب</u> .
عمان	4- إستقرت قبيلة البوسعيد واليعاربة في منطقة خليجية تسمى حاليا <u>دولة قطر</u> . ص 57
صحراوي قاري	5- يتصف المناخ في منطقة الخليج العربية بأنه مناخ <u>إستوائي</u> . ص 25
البحرين	6 - ظهرت حضارة دلمون في دولة يطلق عليها حاليا إسم <u>عمان</u> . ص 49
المناخ	7- حالة الجو خلال فترة زمنية طويلة تسمى <u>الطقس</u> . ص 25

ج) صنف النباتات بما يناسبها بالجدول التالي : درجة لكل نقطة (5×1)

الخبيزة	العنصيل	الصبار	الحويذان	العرفج
---------	---------	--------	----------	--------




نباتات حولية ص 26	نباتات معمرة ص 26-
- الحويذان -العنصيل	- الخبيزة - الصبار -العرفج

السؤال الثاني: يتكون من (أ) و (ب) و (ج) و (د)

أ) ظلل الإجابة الصحيحة المناسبة لكل عبارة من العبارات التالية : درجة لكل نقطة (7×1)

الرقم	العبارة	أ	ب
1	حيوانات مستأنسة في منطقة الخليج العربية ص 26	الذئب	الماعز
2	من البضائع التي كانت تنقل من منطقة الخليج العربي إلى الخارج قديما ص 34	التمور	الشاي
3	الحضارة الهيلنستية ظهرت في جزيرة إسماها ص 49	بوبيان	فيلكا
4	أصدرت وثيقة دستور دولة الكويت عام ص 64	1963	1962
5	موقع الدولة بالنسبة لليابس والماء يسمى ص 20	الموقع الفلكي	الموقع النسبي
6	هضبة نجد تقع في دولة خليجية إسماها ص 23	المملكة العربية السعودية	البحرين
7	منطقة تقع في الصحراء تتوافر فيها مياه عذبة صالحة للزراعة ص 29	الواحة	الجزيرة

ب) أكتب اسم المهنة التي تمثلها الصور التالية : درجة لكل نقطة (2×1)



صياغة السدو ص 29

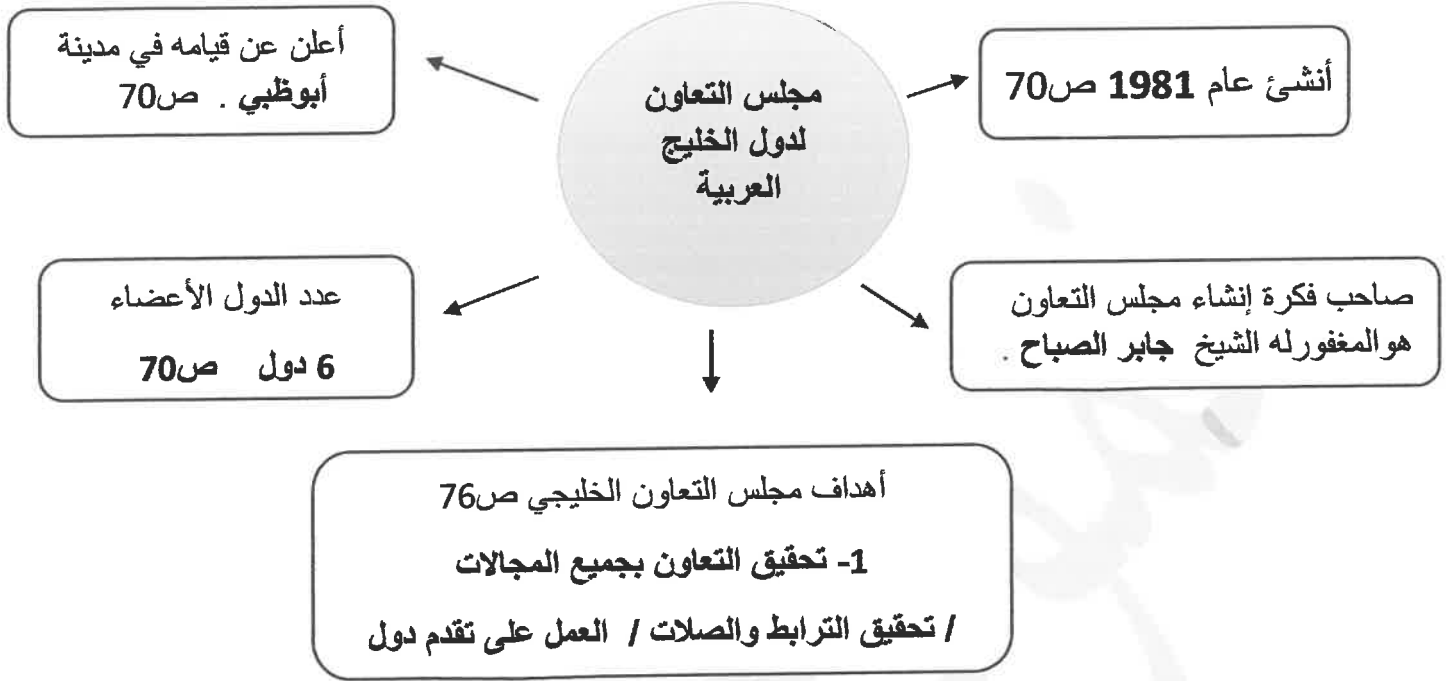


صناعة الخوص ص 29

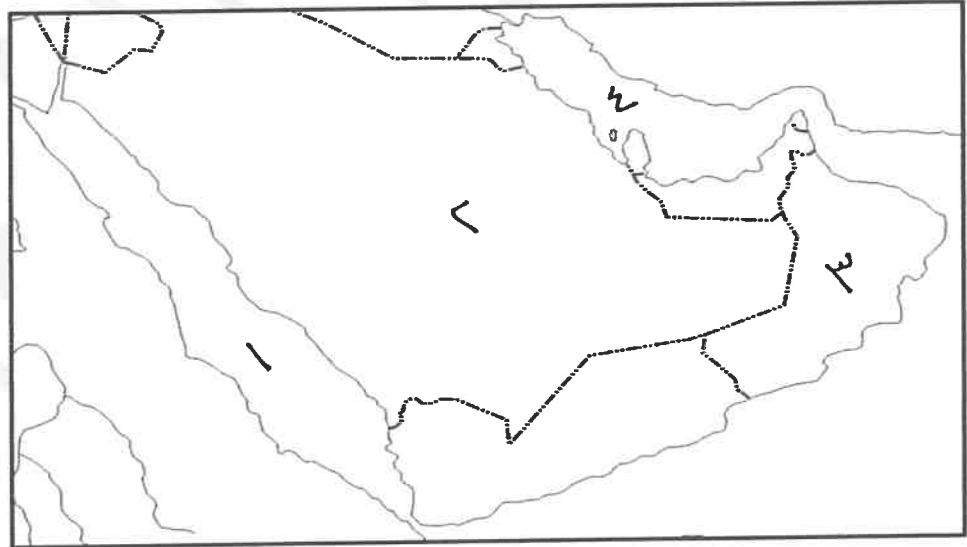
تابع نموذج إجابة اختبارنهاية الفترة الدراسية الأولى الصف السادس – مادة الإجتماعيات – العام الدراسي 2018-2019 م

(ج) أكمل الناقص في الخريطة الذهنية الخاصة بموضوع مجلس التعاون لدول الخليج العربية :

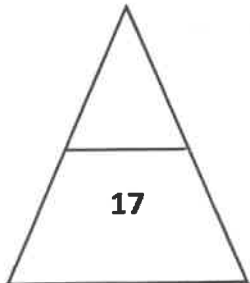
درجة لكل نقطة (5×1)



(د) إستعن بالخريطة التالية للإجابة على الأسئلة التي تليها : درجة لكل نقطة (3×1)



- 1- الخليج العربي يمثل على الخريطة الرقم (4) ص 23
- 2- الدولة التي يقع فيها الجبل الأخضر يمثلها على الخريطة الرقم (3) ص 23
- 3- الدولة الوحيدة التي لم تتعرض للإستعمار الأجنبي يمثلها على الخريطة الرقم (2) ص 65



السؤال الثالث : يتكون من (أ) و (ب) :

أ) فرق بين المفاهيم في الجدول التالي : درجة لكل تعريف (4 × 1)

الإستعمار ص 61	الإستقلال ص 63
أن تسيطر دولة قوية على دولة ضعيفة بهدف إستغلال موقعها ومواردها	تحرر الدولة من المستعمر الأجنبي وقيامها بمسؤولية إدارة شؤونها الداخلية والخارجية
الدشة ص 32	القفال ص 32
بداية موسم الغوص	نهاية موسم الغوص

ب) علل ما يلي : درجتين لكل سؤال (4×2)

- 1- حياة السكان في البيئة الصحراوية لمنطقة الخليج العربي قاسية وخشنة . ص 27
- فقر البيئة
- قلة الموارد
- 2- سفينة البغلة من أفضل السفن التي كانت تستخدم رحلة السفر قديما . ص 34
- لمتانتها / قدرتها على نقل الحمولة الكبيرة
- قلة تعرضها للأخطار
- 3- إنصراف سكان منطقة الخليج العربية عن حرفة الغوص . ص 31
- ظهور اللؤلؤ الصناعي
- إكتشاف النفط
- 4- تكيف النباتات المعمرة مع الظروف البيئية طوال العام . ص 26
- جذورها طويلة
- قلة أوراقها / كثرة أشواكها / قدرتها على تخزين الماء

السؤال الرابع ويتكون من (أ) و (ب) :

(أ) أكتب نقطتين في كل مما يلي : درجة لكل سؤال (2×4)

- 1- السمات والصفات المشتركة بين دول الخليج العربية . ص70
- وحدة التراث
- الإنتماء / الدين / المصالح المشتركة / اللغة
- 2- أهم إنجازات مجلس التعاون لدول الخليج العربية . ص77
- إقامة الإتحاد الجمركي -إنطلاق السوق الخليجية المشتركة / وثيقة التطوير الشامل للتعليم / إتفاقية الدفاع المشتركة
- 3- الوسائل المستخدمة قديما لصيد الأسماك في دول الخليج العربية. ص31
- الميذار
- الحظرة / القرقور / الشباك
- 4- أنواع الرياح التي تهب على منطقة الخليج العربية .
- الرياح الجنوبية الشرقية (الكوس) - الزوابع الترابية (العواصف الترابية) / الرياح الشمالية الغربية

(ب) قارن بين خطوط الطول ودوائر العرض حسب ما هو مطلوب بالجدول التالي : درجة لكل نقطة (1×4)

وجه المقارنة	خطوط الطول	دوائر العرض
التعريف	خطوط وهمية ترسم على الكرة الأرضية وتقسّمها إلى قسمين شرقي وغربي	خطوط وهمية ترسم على الكرة الأرضية وتقسّمها على قسمين شمالي وجنوبي
العدد	360 خط	180 دائرة

