



وزارة التربية

الإدارة العامة لمنطقة الجهراء التعليمية

اختبار نهاية الفصل الدراسي الأول
٢٠١٩ / ٢٠١٨

السابع	الصف
الاجتماعيات	المادة



وزارة التربية

مكتب مدير المنطقة التعليمية



وزارة التربية

الإدارة العامة لمنطقة الجهراء التعليمية
مكتب المدير العام



وزارة التربية
الإدارة العامة لمنطقة الجواء التعليمية
التوجيه الفني للاجتماعيات

امتحان نهاية الفترة الدراسية الأولى
للمصف السابع
الكويت والوطن العربي

العام الدراسي: ٢٠١٨/٢٠١٩
الزمن: ساعة ونصف
عدد الأوراق: (٦)

السؤال الأول: (موضوعي) يتكون من (أ - ب - ج - د - هـ - و) :- (لكل سؤال درجة)

أ) اختر الإجابة الصحيحة من بين البدائل التالية بوضع خطأ تحت العنصر المناسب :-

- ١- الدولة العربية التي تقع فيها هضبة نجد : ص ٤٠
(العراق - السعودية - سوريا - الأردن)
- ٢ - ممر مائي يصل بين الخليج العربي وخليج عمان : ص ٢٩
(هرمز - باب المنذب - جبل طارق - قناة السويس)
- ٣ - تبلغ نسبة سكان الوطن العربي من سكان العالم حوالي : ص ٣٥
(٢% - ٣% - ٤% - ٥%)
- ٤ - الحيوان الذي لقب بسفينة الصحراء : ص ٥٦
(الماعز - الغزال - الإبل - الضب)
- ٥ - الدولة العربية التي أطلق عليها قديما اسم أوال : ص ٨٩
(البحرين - عمان - الكويت - الإمارات)

ب) صوب ما تحته خط في العبارات التالية :-

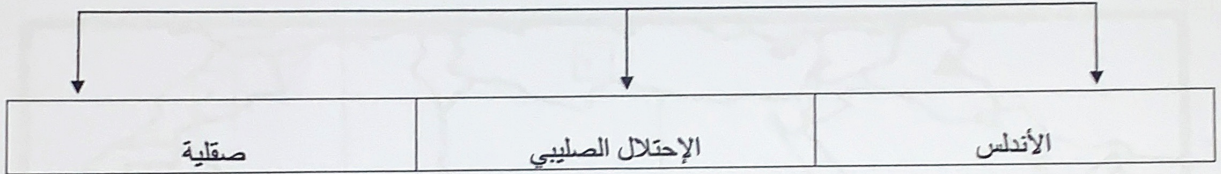
التصويب	العبارة
المسمارية ص ٨٣	١ - اخترع السومريون نوعا من الكتابة عرفت باسم الكتابة <u>الهيروغليفية</u> .
الشويخ ص ٦١	٢ - اعتمدت دولة الكويت على تحلية مياه البحر من محطة رأس <u>عبود</u> .
النباتات الصحراوية ص ٥٤	٣ - النخيل يعتبر نوع من أنواع <u>الحشائش الحارة</u> .
مملكة البحرين ص ٢٣	٤ - أصغر دولة عربية في الجناح الآسيوي دولة <u>قطر</u> .
جمهورية اليمن أو جنوب غرب شبة الجزيرة العربية ص ٨٦	٥ - سد مأرب يوجد في <u>سلطنة عمان</u> .

ج) أكتب المفاهيم أو المصطلحات الدالة على العبارات التالية :-


م	المفهوم	العبرة
١	القتاة ص ٢٨	مجرى مائي صناعي ضيق يشق لأغراض الري أو النقل .
٢	الضغط الجوي ص ٤٤	وزن الهواء فوق أي مكان .
٣	النبات الطبيعي ص ٥١	النبات الذي ينمو تلقائيا عقب سقوط المطر دون تدخل من الإنسان .
٤	الموقع الاستراتيجي ص ٢٨	موقع ذي مكاتة مهمة بين دول العالم .
٥	النهر ص ٥٨	مجرى مائي عذب ينحدر على الدوام لينتهي إلى بحر أو إلى نهر آخر أو ينتهي تدريجيا في الصحراء .

د) أكمل المخطط السهمي التالي :-

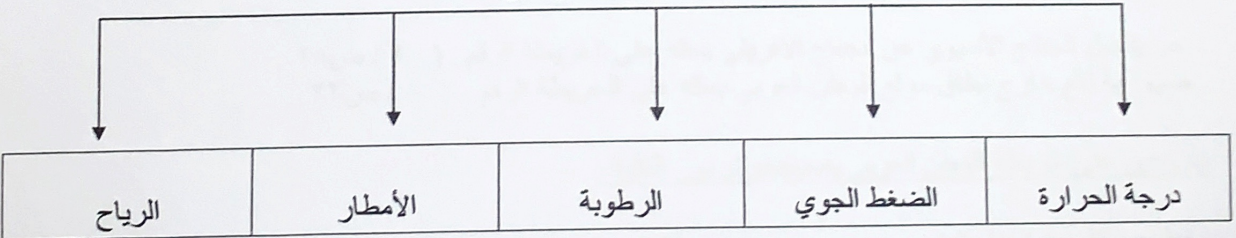
١ - معابر انتقال الحضارة العربية الإسلامية إلى أوروبا: ص ٩٢



٢ - مقومات الهوية العربية ص ٢٦



٣ - عناصر الطقس ص ٤٤

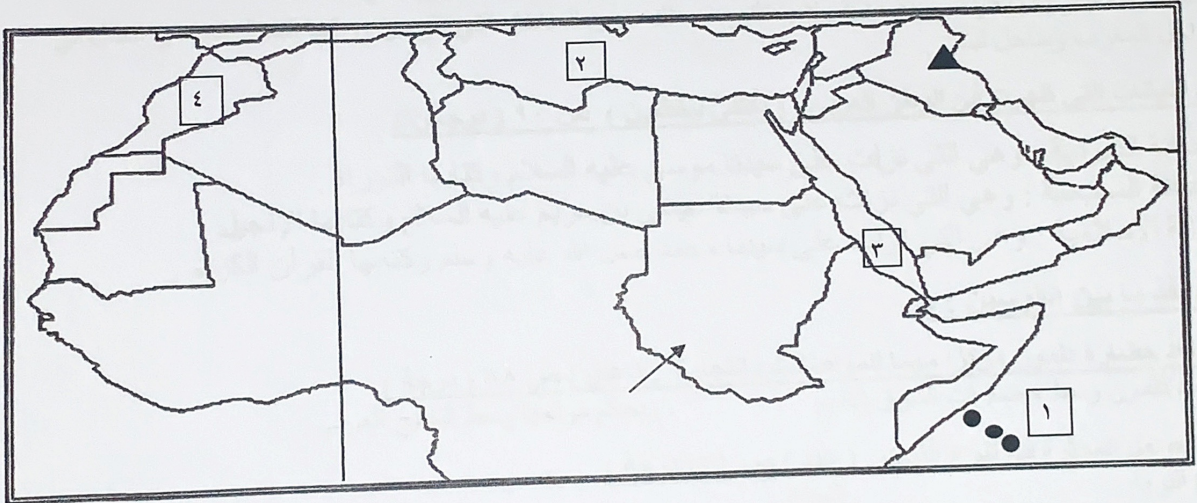


هـ) صف المظاهر التضاريسية التالية في المكان المناسب لها في الجدول التالي :

- الأحجار - بادية الشام - مرة - عسير - أفريقيا الشمالية (الصحراء الكبرى)

هضاب ص ٤٠	جبال ص ٣٨
- بادية الشام - الصحراء الكبرى	- الأحجار - عسير - مرة

و) أمامك خريطة صماء للوطن العربي نفذ المطلوب عليها :-

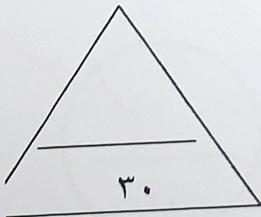


أ - ضع على خريطة الوطن العربي باستخدام الرقم :

- بحر يفصل الجناح الآسيوي عن الجناح الإفريقي يمثل على الخريطة الرقم (٣) ص ٢٨
- جمهورية تقع خارج نطاق موقع الوطن العربي يمثل على الخريطة الرقم (١) ص ٢٣

ب - عين على خريطة الوطن العربي باستخدام الرموز التالية :

- خط جرينتش باستخدام الرمز _____ ص ٣١
- الدولة العربية التي يقع فيها نهر دجلة باستخدام الرمز ▲ ص ٥٨
- رياح الهبوب باستخدام الرمز ← ص ٤٨



السؤال الثاني : (مقالى) يتكون من (أ - ب - ج) :-
(أ) قارن بين كل من :- (ثلاث درجات)

وجه المقارنة	الحشائش الحارة ص ٥٢ (السافانا)	الحشائش المعتدلة ص ٥٢ (الاستبس)
التعريف	هي حشائش طويلة يختلف نوعها حسب كمية الأمطار (درجة)	هي حشائش قصيرة نوعا ما تنمو في الشتاء خلال موسم سقوط الأمطار وتعرف في بلاد المغرب باسم الحلفا . (درجة)
الأهمية الاقتصادية	تربى عليها الماشية (نصف درجة)	- صناعة الورق والحبال والحصر . - تربى عليها الأغنام والإبل والخيول والحمير . يكتفى بنقطة واحدة (نصف درجة)

ب) أكتب مما درست حول :-

١ - صفات المطر في الوطن العربي . (يكتفى بنقطتين) ص ٥٩ (درجتين)

- تذبذب كمية الأمطار بين عام وآخر كما أنها تسقط في أيام معدودة .
- الأمطار في الوطن العربي تكاد تقتصر على الأطراف الشمالية والأطراف الجنوبية منها .
- تتصف الأمطار بانها قليلة بصفة عامة ولا يستثنى من ذلك سوى المناطق التي تقع من ورائها الجبال كما هي الحال في سواحل المغرب وساحل لبنان .

٢ - الديانات التي ظهرت في الوطن العربي . (يكتفى بنقطتين) ص ٩٠ (درجتين)

- الديانة اليهودية : وهي التي نزلت على سيدنا موسى عليه السلام وكتابها التوراة .
- الديانة المسيحية : وهي التي نزلت على سيدنا عيسى بن مريم عليه السلام وكتابها الإنجيل .
- الديانة الإسلامية : وهي التي نزلت على سيدنا محمد صل الله عليه وسلم وكتابها القرآن الكريم .

ج) نفذ ما بين القوسين :-

(١) تعد حضارة دلمون مركزا مهما للمواصلات والتجارة . (علل) ص ٨٨ (درجة)
- قامت دلمون وسط حضارات الشرق القديم - وبحكم موقعها وسط الخليج العربي .

(٢) العوامل المؤثرة في تنوع النبات . (عدد) ص ٥١ (درجة)
- نوع التربة - المناخ

(٣) ترشيد استخدام المياه . (اقترح الحلول) (يكتفى بنقطتين) ص ٦٣ (درجة)

- ترشيد استخدام المياه والحد من التبذير في المنازل .
- الحد من هدر المياه في عمليات الري وذلك باستخدام الوسائل الحديثة كالرش بالتنقيط والمحوري .
- تنظيم عملية الاستفادة من المياه الجوفية ومنع تسرب الأملاح الملوثة إليها واستثمارها على الوجه الأمثل .
- تطوير استعمال مياه الصرف الصحي المعالجة في الزراعة .
- إقامة البحيرات والسدود لتجميع مياه الأمطار والسيول للاستفادة منها في فصل الجفاف .
- توقيع اتفاقيات مع الدول المشاركة ودول المنبع لتحقيق مصالح الدول العربية المعنية .

(أي إجابة صحيحة يراها المعلم)

السؤال الثالث : (مقال) يتكون من (أ - ب - ج) :-

(أ) فرق بين كل من :- (٤ درجات)

السهول الساحلية ص ٤٢	السهول الفيضية ص ٤٢
هي الأراضي المنبسطة التي تجاور سواحل البحار والمحيطات	هي الأراضي المنخفضة التي تكونت من التربة التي حملتها مياه الأنهار .
الموقع النسبي ص ٣٣	الموقع الفلكي ص ٣١
هو موقع الدولة بالنسبة لليابسة والماء	هو نقطة من الكرة الأرضية يتحدد موقعها بخطوط الطول ودوائر العرض .

(ب) دلي على صحة العبارات التالية :-

١ - تعتبر منطقة جنوب غرب شبه الجزيرة العربية من أكثر المناطق ملائمة لقيام الحضارات . (يكتفى بنقطتين)

(درجتين) ص ٨٥

- بسبب توافر المياه العذبة .

- المناخ المناسب لقيام الزراعة .

- الموقع الذي يسمح بقيام النشاط التجاري .

٢ - انتشار الأمن والأمان في حضارة بلاد الرافدين . ص ٨٤ (درجة)

ظهرت في بلاد الرافدين شرائع قانونية قديمة أهمها شريعة حمورابي .

٣ - الموقع بالنسبة لدوائر العرض يؤثر في مناخ الوطن العربي . ص ٤٦ (درجة)

يؤثر القرب أو البعد عن خط الاستواء في مناخ الاقليم الأماكن القريبة من خط الإستواء تتميز بارتفاع درجة حرارتها على مدار أيام السنة .

(ج) عدد اثنين لكل مما يلي :-

١ - أهم الحيوانات السائدة في المنطقة الصحراوية ص ٥٥ (درجة)

الإبل - الماعز - الضب - الأرنب البرية - وأنواع الطيور كالصقور والبوم والحبارى وأنواع من الحشرات الجراد والعقارب والخنافس كما تكثر الزواحف الأفاعي والحيوانات القارضة الفنران والجربوع .

(أو أي إجابة صحيحة يراها المعلم)

٢ - مصادر المياه في الوطن العربي . ص ٥٧ (درجة)

مياه الأنهار - الأمطار - المياه الجوفية - البحيرات - مياه البحار والمحيطات والخلجان .

السؤال الرابع: (مقالى) يتكون من (أ - ب - ج) :-

١) اقرأ الفقرة التالية ثم أجب عن الأسئلة التالية :-

" الوطن العربي يمتلك الكثير من المقومات التي كان لها دور كبير في ازدهار العديد من الحضارات ، ومن هذه المقومات الموقع الاستراتيجي وتوفر مصادر المياه العذبة واعتدال المناخ وغيرها من المقومات . ولقد تركت هذه الحضارات العديد من الآثار مثل حدائق بابل المعلقة وسد مأرب والأهرامات "

١ - عرف ما تحته خط . ص ٧١ (درجة)

كل ما يطرأ على المجتمع من تقدم وتطور ورقي في جميع نواحي الحياة الدينية والسياسية والاقتصادية والاجتماعية والفكرية .

٢ - استخرج من الفقرة ما يلي :-

أ - المقومات الأساسية للحضارة . ص ٧٣ (يكتفى بنقطتين) (درجتين)

الموقع الاستراتيجي - توفر مصادر المياه العذبة - اعتدال المناخ - الثروات الطبيعية - العنصر البشري

ب - الآثار الحضارية الموجودة في الوطن العربي (يكتفى بنقطتين) ص ٧٧ ص ٨٢ ص ٨٦ (درجة)

حدائق بابل المعلقة وسد مأرب والأهرامات (او أى إجابة صحيحة يراها المعلم)

ب) علل لما يأتي :-

١ - تعد الهضاب أكثر الأشكال التضاريسية انتشارا في الوطن العربي . ص ٤٠ (درجة)

لأنها تشغل مساحات واسعة تمتد من أقصى الشرق إلي أقصى الغرب فهي تغطي بذلك معظم أرجاء الوطن العربي .

٢ - الأهمية الاقتصادية للوطن العربي . (يكتفى بنقطتين) ص ٣٥ (درجتين) .

- منطقة عبور لحركة الملاحة والتجارة العالمية .

- الجسر الذي يربط قارات العالم الثلاث بمواردها الهائلة وال ضخمة .

- أدى ظهور النفط بكميات كبيرة في منطقة الخليج العربي وشبه الجزيرة العربية وبعض مناطق أفريقيا إلي تزايد هذه الأهمية .

ج) عرف ما يلي :-

١ - الوطن العربي . ص ٢٢ (درجة)

مجموعة من الدول العربية التي يجمعها عدد من السمات المشتركة (الدين واللغة) ويمتد ضمن قارتين من أكبر قارات العالم مساحة .

٢ - بحيرة . ص ٦٠ (درجة)

مسطح مائي تحيط به اليابسة من جميع الاتجاهات .

٣ - مناخ . ص ٤٤ (درجة)

هو حالة من الجو خلال فترة زمنية طويلة من حيث درجة الحرارة والرطوبة والامطار .

(انتهت الإجابة)