

مراجعات من الاذنبارات



@Exam8

رياضيات



@Exam8

الصف السادس

الفصل الدراسي الثاني

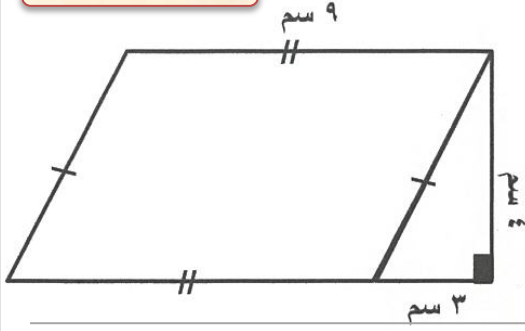
الوحدة الثامنة

أسئلة اذنبارات الأعوام السابقة

رابط القناة @Exam8

التواصل والرد على استفساراتكم @AboMAged88

الأحمدي ٢٠١٧/٢٠١٨

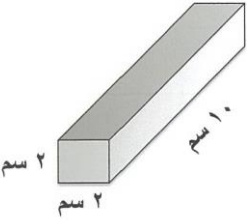


١- أوجد مساحة الشكل المدمج التالي :

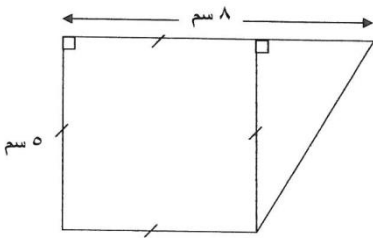


الأحمدي ٢٠١٧/٢٠١٨

٢- أوجد حجم المنشور القائم الموضح في الرسم :



٣- أوجد مساحة الشكل المقابل :



رابط القناة @Exam8

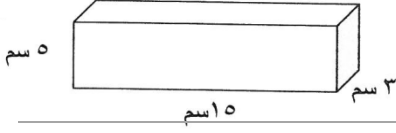
التواصل والرد على استفساراتكم @AboMaged88



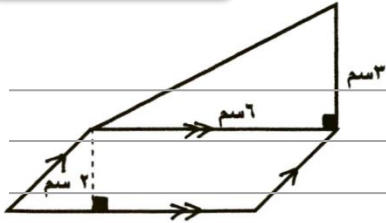
@Exam8



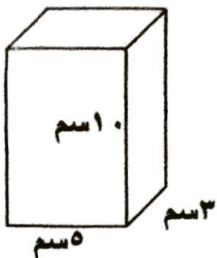
٤- أوجد حجم شبه المكعب المقابل :



٥- أوجد مساحة الشكل المقابل :



٦- أوجد حجم المنشور القائم موضحا خطوات الحل

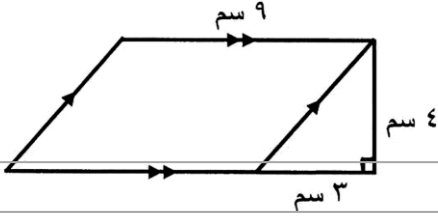






حولي ٢٠١٧/٢٠١٨

٧- أوجد المساحة الكلية للشكل المقابل :

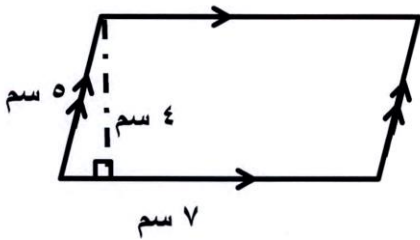


حولي ٢٠١٧/٢٠١٨

٨- أوجد حجم مكعب طول حرفه ٥ سم :

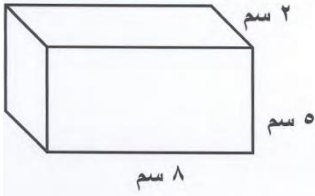
م.الكبير ٢٠١٧/٢٠١٨

٩- أوجد محيط ومساحة الشكل الرباعي التالي :

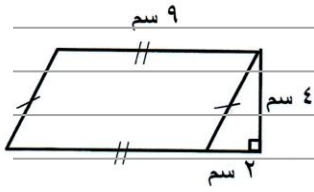


@Exam8

١٠- أوجد حجم المنشور في الشكل المقابل :



١١- أوجد مساحة الشكل المدمج الذي أمامك :



١٢- أوجد المساحة الكلية لسطح الصندوق الذي أمامك :

