



نموذج الاجابة

امتحان نهاية الفترة الدراسية الاولى
لمقرر/ الكويت والعالم
للفص التاسع متوسط

وزارة التربية
الإدارة العامة لمنطقة الاحمدى التعليمية
التوجيه الفني للاجتماعيات

كل نقطة بدرجة واحدة

السؤال الأول : الموضوعي ويتكون من (أ- ب- ج)
(أ) أكمل العبارات التالية بما يناسبها:

- ١) مساحة دولة الكويت الاجمالية تبلغ ... ١٧,٨١٨ كم^٢ ص ٢٠
- ٢) يطلق على الأقاليم المناخية الواقعة بين دائرتي عرض ٦٠°-٩٠° شمالا وجنوبا اسم الباردة ... ص ٢٨
- ٣) الشعار المقابل يمثل جائزة دولية اسمها ... نوبل ص ٥٣
- ٤) درجة التلوث في منطقة المفاعل الفوري تشرنوبل تسمى... المدمر..... ص ٦٢
- ٥) الدولة التي استضافة المؤتمر الدولي للأرض عام ١٩٩٢م اسمها... البرازيل... ص ٨١



(ب) اكتب المفاهيم أو المصطلحات الدالة على العبارات التالية:

موقع الدولة بالنسبة لخطوط الطول دوائر العرض.	١ الموقع الفلكي ص ١٨
-عملية نحت وتشكيل سطح الأرض، ونقل المفتتات الصخرية وإرسابها في مكان آخر من خلال الرياح والمياه الجارية والجليد والامواج والمياه الجوفية.	٢ التعرية ص ٢٤
-التوزيع الأمثل للموارد الطبيعية التي توفرها البيئة لعملية التنمية المستدامة.	٣	...الاقتصاد البيئي ص ٤٣ ...
- خلل ذو طبيعة فيزيائية أو كيميائية أو حيوية، مصدره نشاط إنساني يؤدي الى عدم الاتزان بين مكونات التربة	٤تلوث التربة ... ص ٦٧
- حدوث تلف بدرجة متوسطة للغطاء النباتي وتكوين كتبان رملية صغيرة مما يقلل عائد الإنتاج بنسبة ١٠% - ٥٠%	٥	...تصحّر معتدل ص ٧٣

تابع / السؤال الأول:

كل نقطة بدرجة واحدة

(ج) ضع خطا تحت الخيار الصحيح من بين الخيارات التي تلي كل عبارة:

١- تبلغ اعداد دوائر العرض على خريطة الكرة الأرضية: - ص ١٩

د- ١٨٠

ج- ١٧٠

ب- ١٦٠

أ- ١٥٠

٢- احد مظاهر التضاريس على سطح الأرض وتمثل نسبة ٣٣% من مساحة القارات : ص ٢٤

د- وديان

ج- السهول

ب- الجبال

أ- الهضاب

٣- تقل درجة الحرارة درجة واحدة كلما ارتفعنا عن سطح الارض: ص ٢٣

د- ٢٠٠ متر

ج- ١٥٠ متر

ب- ١٠٠ متر

أ- ٥٠ متر

٤- احد مصادر المياه الغير تقليدية : - ص ٧٧

د- المياه السطحية

ج- المياه الجوفية

ب- الامطار

أ- تحلية مياه البحر

٥- الجزء المضلل بالدائرة البيانية الذي يمثل نسبة غاز النتروجين في كوكب الأرض: - ص ٦٣



د-



ج-



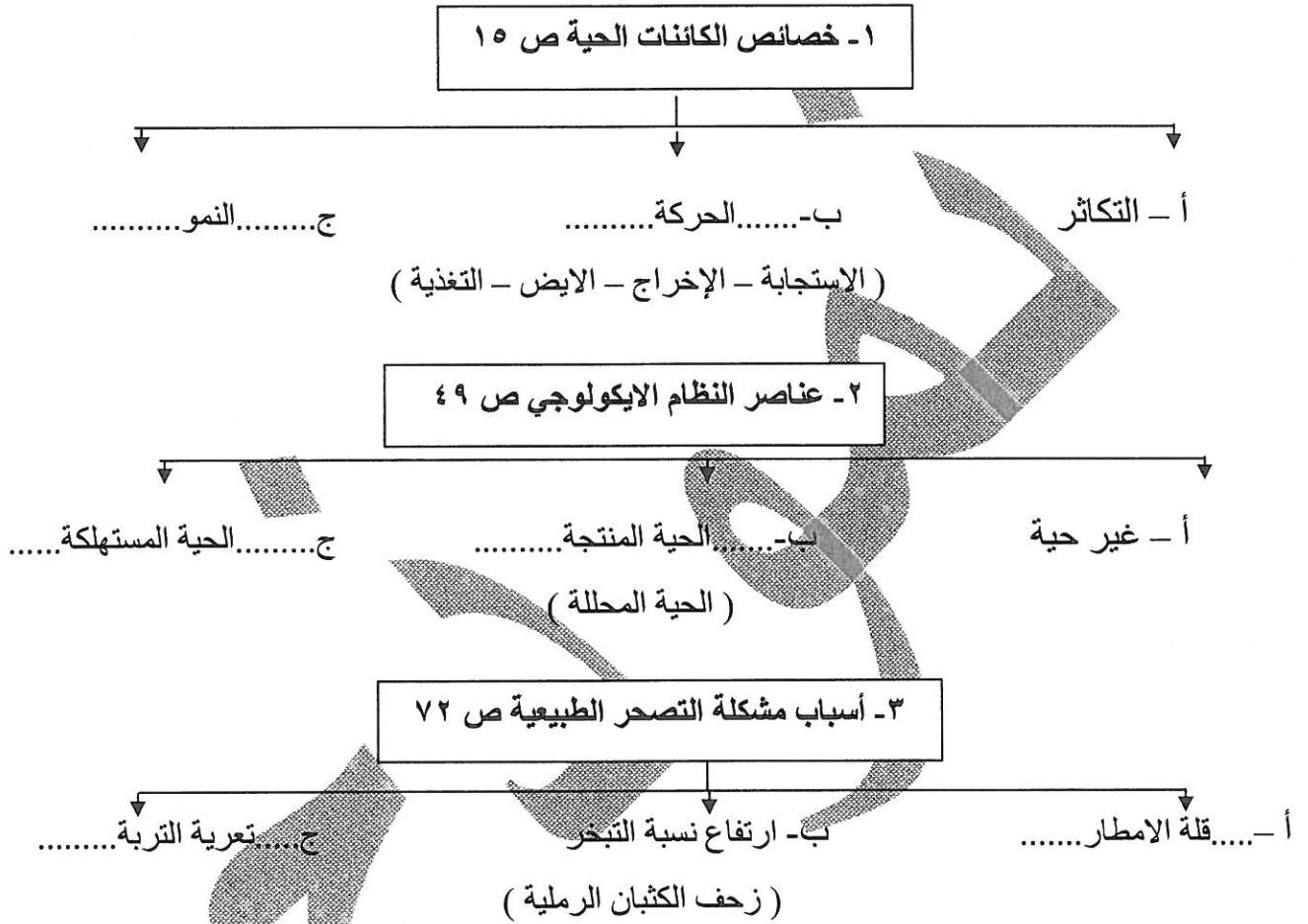
ب-



أ-

السؤال الثاني : الموضوعي ويتكون من (أ - ب - ج)

(أ) أكمل المخطط السهمي التالي:

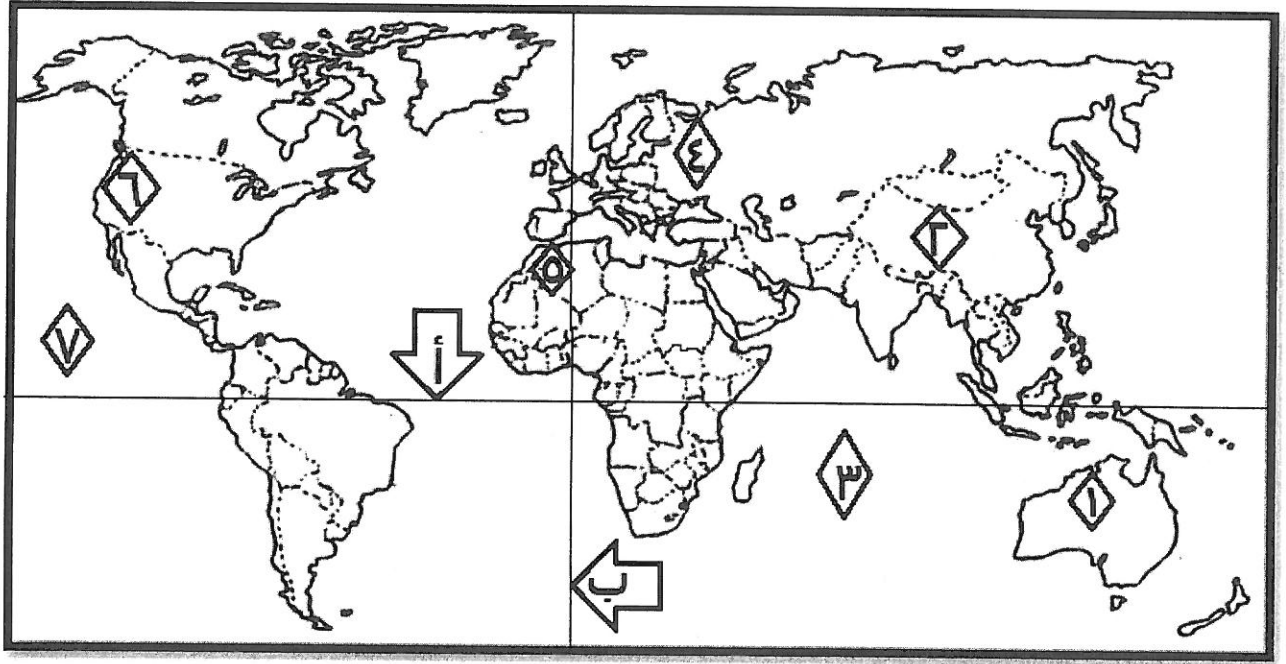


(ب) صنف الدول التالية حسب درجة التصحر في الجدول التالي: ص ٤٤

أوكرانيا - كندا - الهند - استراليا

دول متقدمة حضاريا	دول نامية حضاريا
- كندا	- اوكرانيا
- استراليا	- الهند

(ج) لاحظ خريطة العالم ثم أكتب الرقم او الحرف الدال على العبارات التالية :



- جبال اطلس يمثلها الرقم.....٥..... ٢٥
- السهل الأوروبي العظيم يمثلته الرقم٤..... ٢٥
- هضبة كمبرلي يمثلها الرقم.....١..... ٢٥
- دائرة الاستواء يمثلها الحرف.....أ..... ص ١٩
- المحيط الهادي يمثلته الرقم٧..... ص ٢٠

كل نقطة بدرجة واحدة

السؤال الثالث: مقالي ويتكون من (أ - ب)

(أ) اقرأ الفقرة التالية ثم أجب عما يليها من أسئلة:-

((تعتبر الضوضاء شكلاً من أشكال التلوث البيئي له خطورته ومن الصعب تجنبه، وهو في تزايد مستمر نتيجة للتقدم التكنولوجي والنمو السكاني والاعتماد المتزايد على استخدام الآلة في شتى نواحي الحياة، وتعرف وحدة قياس ضغط الصوت بالديسيبل وإذا تجاوز ٨٥ DB يصبح مستوي الصوت مدمر وخطر على الإنسان.))

١- عرف ما تحته خط : خليط متنافر من الأصوات ذات استمرارية غير مرغوب فيها.....ص ٦٩

٢- اذكر - أسم وحدة قياس ضغط الصوت بالديسيبل..... ص ٦٩

٣- عدد - مصادر التلوث الضوضائي . ص ٩٦ ويكتفى بنقطتين

- آلات المصانع أثناء تشغيلها.
- ضجيج أعمال البناء والتشييد وهو أكثر أنواع انتشاراً.
- أصوات وسائل النقل من سيارات وشاحنات وقطارات وغيرها وخصوصاً بالمدن الكبرى.
- أصوات الآلات المنزلية الحديثة مثل التكييف والغسيل والتلفاز.

(ب) علل لما يلي:-

١- تعد السهول من أفضل مناطق الاستقرار البشري. ص ٢٤ ويكتفى بنقطتين

- موانئ طبيعية .
 - سهولة بناء المساكن عليها.
 - تركز السكان فيها لسهولة التنقل .
- ٢- أهمية زراعة الأشجار على كوكب الأرض . ص ٥٢ ويكتفى بنقطتين
- الحفاظ على المناخ وتخفيف ارتفاع درجة الحرارة وكمية التلوث.
 - توفر الأخشاب كمورد اقتصادي مهم.
 - توفير الغذاء.
 - مصدراً أساسياً لفلتر الهواء، وإنتاج الأكسجين، والتخلص من ثاني أكسيد الكربون.
 - تخفف من سرعة الرياح .

٣- نشأة حركة التجارة بين دول العالم. ص ٩٩

- أ . حاجة الدول المنتجة إلى أسواق لتصريف منتجاتها ليعود بالنفع عليها وعلى سكانها
- ب . حاجة الدول المستهلكة لاستيراد السلع والخدمات وموارد الخام التي لا تتوفر في أراضيها.

كل نقطة بدرجة واحدة

السؤال الرابع : مقالي ويتكون من (أ - ب)

(أ) قارن بين كل مما يلي:

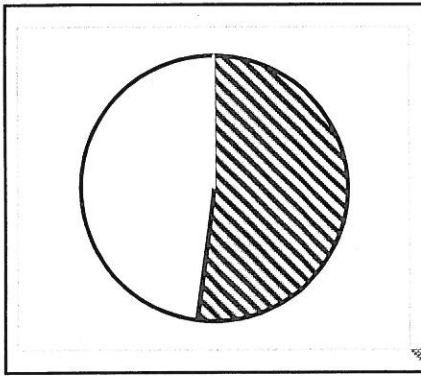

الأقاليم المناخية المعتدلة الباردة ص ٢٨	الأقاليم المناخية المعتدلة الدفينة ص ٢٧	١- وجه المقارنة
بين دائرتي عرض ٥٤٠-٥٤٠ شمالاً وجنوباً	بين دائرتي عرض ٥٣٠-٥٤٠ شمالاً وجنوباً	الموقع بالنسبة لدوائر العرض
وتتمتاز هذه الأقاليم بالاعتدال مع الميل للبرودة وخاصة في أشهر الشتاء.	ويتمتاز بالاعتدال مع الميل الى ارتفاع درجة الحرارة صيفا والدفء شتاء.	مميزاته

مرحلة الصيد والقتل ص ٤٧	مرحلة الجمع والالتقاط ص ٤٦	٢- وجه المقارنة
يستخدم قدرات الخلقية والعقلية في دراسة حركات الحيوانات اليومية والموسمية كما بدأ يعمل على صناعة أسلحة الصيد وتطويرها وكان أهم مستحدث في هذه المرحلة هو اكتشاف النار.	يجمع طعامه لما تجود به النباتات البرية من ثمار أوراق أو درنات وكانت هذه المرحلة لا تطلب منهم مشقة ومجهود وأثر الإنسان على بيئته في هذه المرحلة لا يكاد لا يتجاوز أثر غيره من الأحياء الأخرى.	دور الانسان

(ب) عرف المفاهيم والمصطلحات التالية: -

حدوث حركة كثبان رملية كبيرة نتج عنها الأخاديد والأودية العميقة والكبيرة مما جعل التربة تفقد قدرتها الإنتاجية بنسبة أكثر من ٩٠%	ص ٧٣	١	تصحّر شديد جدا
توفر الكميات الكافية من المياه ذات النوعية الجيدة الضرورية، وفي الوقت نفسه توفر كميات المياه المطلوبة لاستدامة وتعزيز وظائف النظم الإيكولوجية الهامة	ص ٧٨	٢	الأمن المائي
كافة التفاعلات الدوائية وحركات الشعوب وتبادل السلع والأفكار وتشمل العلاقات السياسية والاقتصادية والاجتماعية والثقافية.	ص ٩١	٣	العلاقات الدولية
نظام تحديد المواقع العالمي مبني على الأقمار الصناعية	ص ١٠٠	٤	نظام GPS

كل نقطة بدرجة واحدة



السؤال الخامس : مقالتي ويتكون من (أ – ب)
(أ) لاحظ الشعار بالشكل المقابل ثم اجب عما يلي :-

١- اذكر رقم وعنوان هدف التنمية المستدامة في الشكل المقابل. ص ٧٦
.....رقم ٦ وبعنوان المياه النظيفة والنظافة الصحية.....

٢- عدد - طرق المحافظة على المياه. ص ٧٧ ويكتفى بنقطتين

- أ- بناء محطات معالجة مياه الصرف.
- ب- الحد من الإفراط في سحب المياه الجوفية.
- ت- بناء السدود لتخزين مياه الأمطار.
- ث- استخدام أساليب ري حديثة للحفاظ على كمية المياه.
- ج- التوعية بوسائل الإعلام المختلفة بأهمية المياه.
- ح- سن قوانين وتشريعات للحد من هدر المياه.

٣- حول نسبة مصادر المياه العذبة المنتجة في دول مجلس التعاون

من تحلية مياه البحر ٥٢% الى دائرة بيانية في المربع المقابل.

(درجتان = درجة على الرسم ودرجة على صحة الرسمة)

(ب) اكتب فيما يلي:

١ مصادر التلوث المائي. ص ٦٤ ويكتفى بثلاثة نقاط

- أ- إلقاء المخلفات الصناعية الصلبة والسائلة.
- ب- التلوث الحراري الناتج عن التخلص من المياه الساخنة المستخدمة في تبريد آلات المصانع عن طريق سكبها بالبحار.
(المفاعلات النووية)
- ت- التلوث النفطي الناتج عن تسريب أثناء تصدير البترول وغسل خزانات ناقلات البترول.
- ث- إلقاء مياه الصرف الصحي.

٢- أدوات تنفيذ السياسة الخارجية للدولة. ص ٩٥ ويكتفى بنقطتين

- أ- الدبلوماسية.
- ب- استخدام القوة السياسية .
- ت- استخدام وسائل الإعلام في شرح وجهة نظر الدولة وسياساتها .
- ث- المعونات الخارجية .
- ج- المقاطعة الاقتصادية .
- ح- توقيع المعاهدات والاتفاقيات .