



وزارة التربية

الإدارة العامة لمنطقة الأحمدية التعليمية
التوجيه الفني للاجتماعيات

نموذج إجابة امتحان نهاية الفترة الدراسية الثانية

للمصف السادس المتوسط (الكويت ودول الخليج العربية)

لمادة الاجتماعيات للعام الدراسي (٢٠١٧-٢٠١٨) م

الزمن: ساعة وخمس وأربعون دقيقة

عدد الاوراق: (٥ صفحات)



السؤال الأول: موضوعي يتكون من (أ- ب)

(أ) ضع خطا تحت الخيار الصحيح من بين الخيارات التي تلي كل عبارة: (٦ درجات لكل نقطه درجة)

- ١- يقع حقل بحرة النفط في دولة الكويت في جهة
أ- الشمال ب- الشرق ج- الجنوب د- الغرب
ص ٨٧
- ٢- تقع منطقة سهل الباطنة في دولة
أ- الامارات ب- عمان ج- الكويت د- قطر
ص ٩٣
- ٣- بدأ التنقيب عن النفط في دولة الكويت عام
أ- ١٩٣٤م ب- ١٩٣٥م ج- ١٩٣٦م د- ١٩٣٧م
ص ٨٧
- ٤- عدد الآبار النفطية التي أشعلها النظام العراقي البائد أكثر من
أ- ٦٣٦ ب- ٧٣٧ ج- ٨٣٨ د- ٩٣٩
ص ١٣٩
- ٥- الدولة التي تحتل المركز الأول في عدد السكان بالنسبة الى دول الخليج العربية
أ- عمان ب- الكويت ج- قطر د- السعودية
ص ١١٤
- ٦- المدينة التي تم فيها الاعلان عن قيام السوق الخليجية المشتركة هي
أ- الرياض ب- الكويت ج- ابوظبي د- الدوحة
ص ١٣٠

(ب) أكمل العبارات التالية بما يناسبها مما درست : (٦ درجات لكل نقطه درجة)


- ١- أنشأ مجلس التعاون الخليجي قوات درع الجزيرة في عام ١٩٨٤ م ص ١٢٩
- ٢- تحتل دوله الكويت بالنسبة الى دول الخليج العربية من حيث المساحة المركز الرابع ص ١١٤
- ٣- تقع حضارة تاروت في دولة تسمى السعودية ص ١٠٥
- ٤- تم تصدير أول شحنة من النفط الكويتي عام ١٩٤٦ م ص ٩٠
- ٥- أعلى دوله خليجية في نسبه الوافدين وفقا لإحصاء ٢٠٠٦ الامارات ص ١١٢
- ٦- مقر انشاء مكتب التربية العربي لمجلس التعاون الخليجي في مدينة الرياض ص ١٣٠

تابع/ نموذج اجابه امتحان نهاية الفترة الدراسية الثانية للصف السادس اجتماعيات للعام الدراسي (٢٠١٧/٢٠١٨) م


السؤال الثاني: موضوعي يتكون من (أ - ب)

(أ) أكمل الفراغات في المخططات السهمية التالية بما يناسبها مما درست: (٦ درجات لكل نقطه درجة)

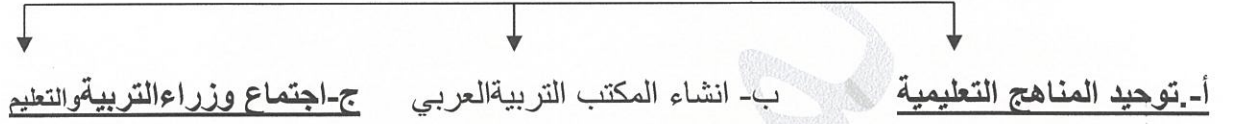
١- التشابه الثقافي بين سكان دول الخليج العربية ص ١١٧+١٢٠



٢- أنواع الصناعات القائمة على النفط في دول مجلس التعاون الخليجي

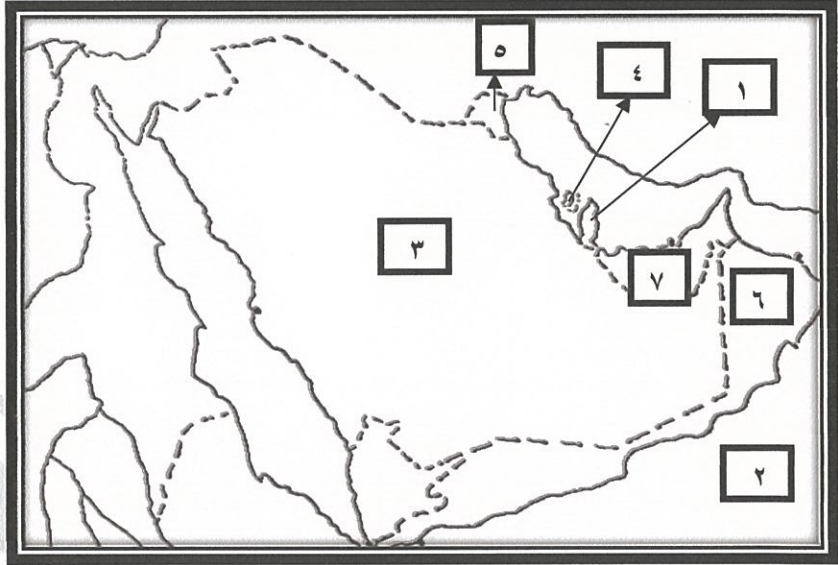


٣- مظاهر التعاون الثقافي في دول الخليج ص ١٣٠



(ب) لاحظ خريطة شبه الجزيرة العربية الصماء ثم اكمل ما يلي مستعينا بالأرقام الموضحة على الخريطة:

(٦ درجات لكل نقطه درجة)



- ١- بحر العرب يمثلته على الخريطة رقم ٢ ص ٩٢
- ٢- الدولة الخليجية الأقل في عدد السكان يمثلها على الخريطة الرقم ٤ ص ١١٤
- ٣- حضارة أم النار يمثلها على الخريطة الرقم ١ ص ١٠٥
- ٤- الدولة الرائدة في انتاج محصول القمح يمثلها على الخريطة الرقم ٣ ص ٩٢
- ٥- الدولة الخليجية التي تعرضت للعدوان العراقي الغاشم يمثلها على الخريطة الرقم ٥ ص ١٣٩
- ٦- ميناء الفحل يقع في دولة خليجية يمثلها على الخريطة الرقم ٦ ص ٩٦

السؤال الثالث : يتكون من (أ - ب)

(أ) صح ما تحته خط في العبارات التالية بكتابة الإجابة الصحيحة بين القوسين : (٦ درجات لكل نقطه درجة)

- ١- الزراعة التي تتم في بيئة مائية أو رملية أو حصى تعرف بالزراعة البلاستيكية (... بدون تربة ...) ص ٩٤
- ٢- مجموعة من العادات والتقاليد والاخلاقيات في مجتمع من المجتمعات تسمى التاريخ المشترك (... الثقافة ...) ص ١١٨
- ٣- عدد المواليد ناقص عدد الوفيات تعريف لمفهوم الزيادة الغير طبيعية (... الزيادة الطبيعية ..) ص ١١٠
- ٤- مجموع الدخول التي تحصل عليها الدولة خلال عام تطلق على مفهوم الكثافة السكانية (.. الدخل القومي ..) ص ٩٥
- ٥- تحويل المواد الخام إلى مواد يمكن الاستفادة منها يعرف بالتجارة (.... الصناعة ...) ص ٩٥
- ٦- مجموعة من الناس تشترك فيما بينها في الصفات الجسمانية الرئيسية وتختلف عن غيرها هي الهجرة (.. السلالة ..) ص ١٠٦

(ب) صنف الهجرات التالية حسب مكانها المناسب في الجدول التالي: ص ١٠٨ (٦ درجات لكل نقطه درجة)

(آل صباح - آل خليفة - آل بوسعيد واليعاربة - بني ياس - المعاضيد - القواسم)

سلطنة عمان	قطر	رأس الخيمة	الكويت	ابو ظبي	البحرين
آل بوسعيد واليعاربة	المعاضيد	القواسم	آل صباح	بني ياس	آل خليفة

السؤال الرابع: مقالي و يتكون من (أ - ب): (٦ درجات لكل نقطه درجة)
(أ) فرق بين كل مما يلي:

احتياطي النفط ص ٨٨	انتاج النفط
كميات النفط المخزونة في باطن الارض	كميات النفط التي يتم استخراجها للاستفادة منها
الواردات ص ٩٩	الصادرات
البضائع والسلع التي تشتريها دولنا من الخارج	السلع والمنتجات التي تبيعها دولنا في الخارج
الكثافة السكانية ص ١١٤	النمو السكاني ص ١١١
عدد السكان في الكيلومتر المربع وتقاس بقسمة عدد السكان على مساحة الدولة	هو التغيير الذي يحدث لعدد السكان نتيجة للزيادة الطبيعية وغير الطبيعية

(ب) ما النتائج المترتبة على كل مما يلي: (٦ درجات لكل نقطه درجة)

- ١- التلوث الارضي(التربة). ص ١٣٤
* ضعف قدرتها على الانتاج الزراعي
* تلوث الانتاج الزراعي مما يؤثر على صحة الانسان
- ٢- الغزو العراقي على دولة الكويت وأثره على البيئة . ص ١٣٩ (يكتفى بنقطتين)
* تلوث التربة وتدمير الحياة الفطرية * تلوث الهواء سبب كميات كبيرة من الدخان
* تساقط الرذاذ النفطي على التربة محدثا تلوث أرضي حيث تحول لوم الرمال من اللون الأصفر الى اللون الأسود
* الآثار الخطرة على صحة الانسان والكائنات الحية .
- ٣- ارتباط دول مجلس التعاون بعلاقات تجارية مع دول العالم وفيما بينها. ص ٩٩
* انتعاش الموانئ التجارية في دول الخليج العربية
* ارتفاع الدخل القومي للدول

السؤال الخامس: مقالى ويتكون من (أ- ب) :

(أ) علل لما يلي: (٦ درجات لكل نقطه درجة)

١-حاجة دول الخليج إلى إقامة العديد من الموانئ النفطية . ص ٩٠

- تزايد الانتاج النفطي لدول مجلس التعاون من الحقول البرية والبحرية

- تزايد الطلب العالمي عليه كمصدر أساسي للطاقة.

٢-شهدت منطقة الخليج العربية بعد اكتشاف النفط نموا سكانيا. (يكتفى بنقطتين) ص ١١٠

- ارتفاع دخل الفرد. * توفر فرص العمل * توفر الرعاية الصحية

٣-التلوث البحري (المائي) لمياه الخليج العربي . (يكتفى بنقطتين) ص ١٣٧

- مخلفات المصانع - مياه الصرف الصحي - مياه الصرف الزراعي

- النفايات الخطرة - النفط ومشتقاته - الأمطار الحمضية

(ب) نفذ ما هو مطلوب بين القوسين: (٦ درجات لكل نقطه درجة)

١-مظاهر التعاون العسكري بين دول مجلس التعاون الخليجي(عدد) . (يكتفى بنقطتين) ص ١٢٩

- المناورات(التدريبات) العسكرية المختلفة- انشاء قوة مشتركة

- قبول أبناء دول مجلس التعاون في الكليات العسكرية

٤- أنواع التلوث (عدد) . ص ١٣٣

- الهوائي - الضوضائي - الأرضي (التربة) - البحري (المائي)

٥- أهم الدول المستوردة للنفط من دولة الكويت (عدد) . ص ٩٠

- هولندا - الولايات المتحدة الأمريكية

- اليابان

انتهت الاسئلة ،،،

تمنياتنا لكم بالنجاح والتوفيق