



وزارة التربية

الادارة العامة لمنطقة

مبارك الكبير التعليمية

مدرسة الصالحية المتوسطة بنات

**الدراسات الاجتماعية**  
**دولة الكويت**  
**والعالم الاسلامي**

**قسم الاجتماعيات**  
**مذكرة الصف الثامن**  
**دولة الكويت والعالم الاسلامي**

**رئيسة القسم**  
**أ / مريم المطيري**

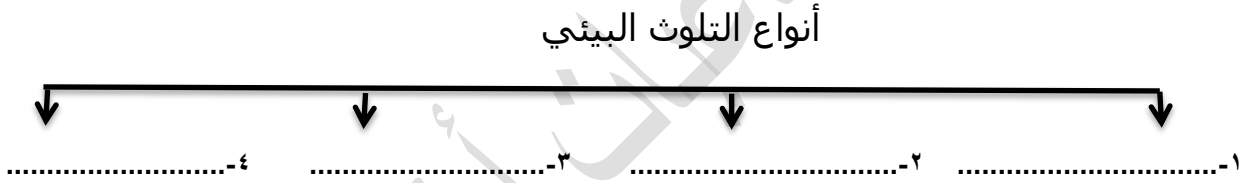
**إعداد المعلمة**  
**هالة السويلم**

١- التلوث البيئي

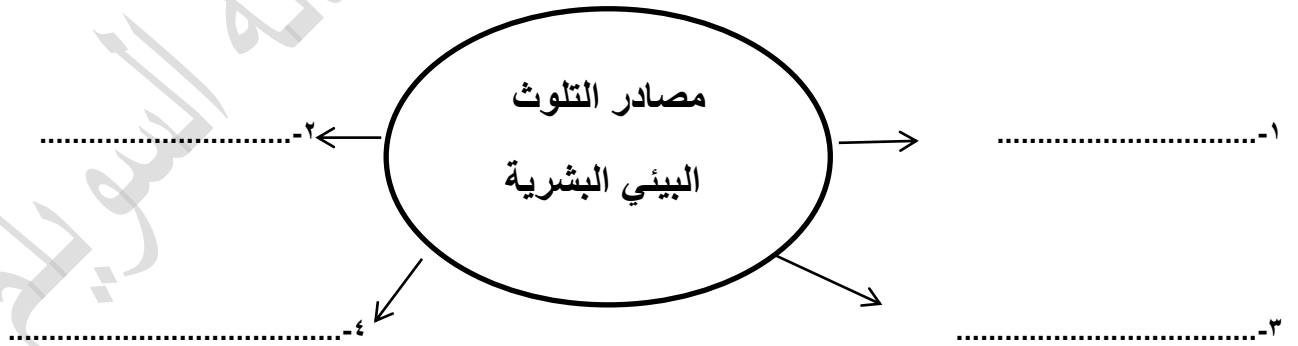
**السؤال الأول :- أكمل العبارات التالية بما يناسبها من إجابات :-**

- ١- أي تغير غير مرغوب به في الخواص الكيميائية أو البيولوجية للبيئة المحيطة يسمى .....
- ٢- بدأ التلوث البيئي مع بداية الثورة .....
- ٣- العام الذي شهد إنشاء شرطة البيئة في دولة الكويت هو .....

**السؤال الثاني :- أكمل المخطط السهمي التالي :-**



**السؤال الثالث: اكمل الشكل المقابل:**



أ- التلوث الهوائي

**السؤال الأول : صححي ماتحته خط في العبارات التالية :-**

- ١- أخطر أنواع التلوث هو التلوث الضوضائي (.....)
- ٢- الدولة الإسلامية التي تعاني من نسبة تلوث هوائي تبلغ ٤٠% هي العراق (.....)

**السؤال الثاني : عللي لما يلي :-**

- ١- يعتبر التلوث الهوائي في ماليزيا خطراً كبيراً على الشعب

.....

- ٢- التلوث الهوائي من أخطر أنواع التلوث البيئي

.....

**السؤال الثالث :**

- أذكر النتائج المترتبة علي التلوث الهوائي

.....

.....

.....



ب- التلوث المائي



**السؤال الثاني :- اكمل المخطط الزمني التالي :**

مراحل التلوث المائي في دولة الكويت



**٢-السؤال الثاني:- أذكرى :**

( أ ) - الأثار الناتجة من حرق أبار النفط علي البيئة في دولة الكويت

.....  
.....

( ب ) - الأثار السلبية للتلوث المائي

.....  
.....  
.....

**٣-السؤال الثالث :- علي :**

( أ ) - التلوث المائي من أخطر أشكال التلوث البيئي

.....

( ب ) - عانت موريتانيا من شدة التلوث المائي في عام ٢٠١٧م

.....

٢٠١٩ / / م

درس: ( المشكلات البيئية في دول العالم الإسلامي )

ج- التلوث الضوضائي د- تلوث التربة



### السؤال الأول :-أكملي العبارات التالية :

- ١- يوجد أكبر نسبة تلوث ضوضائي في مدينة إسلامية تسمى .....
- ٢- الازعاج أو الضجيج تعريف لمصطلح يسمى .....
- ٣- مشكلة إنجراف التربة على المدن والمناطق الزراعية تعرف بأسم .....
- ٤- العام الذي عقد فيه مؤتمر الأمم المتحدة لمشكلة التصحر هو .....
- ٥- السبب الأساسي لمشكلة التصحر هو .....

### السؤال الثاني :-صنفي الدول التالية على حسب نسبة التصحر بها

( الكويت – لبنان – مصر – جيبوتي – السعودية -العراق – السودان )

<u>نسبة التصحر من ١٠ - ٥٠%</u>	<u>نسبة التصحر ٩٠%</u>

السؤال الثالث :- من خلال الجدول فرقي بين كلا من :

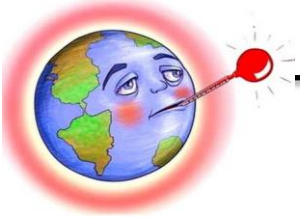
<u>نتائج تلوث التربة</u>	<u>نتائج التلوث الضوضائي</u>
.....	.....
.....	.....



٢٠١٩ / / م

درس: ( المشكلات البيئية في دول العالم الإسلامي )

٢ تحديات بيئية أخرى ( أ- الاحتباس الحراري ب- النفايات )



### السؤال الأول :- صححي ماتحته خط في العبارات التالية :

- ١-الغاز الأول المسؤول عن ظاهرة الاحتباس الحراري النتروجين (.....)  
٢-إجتاح إعصار غونو سواحل الجمهورية الإيرانية و الصومال (.....)  
٣-السبب الرئيسي لأعصار غونوعام ٢٠٠٧م النفايات (.....)

### السؤال الثاني :- قارني بين الاحتباس الحراري والنفايات من خلال الجدول التالي :

وجه المقارنة	الاحتباس الحراري	النفايات
التعريف	..... .....	..... .....
الأسباب	..... .....	..... .....
النتائج	..... .....	..... .....

### السؤال الثالث : عرفني الشعار المعروض أمامك



.....  
.....



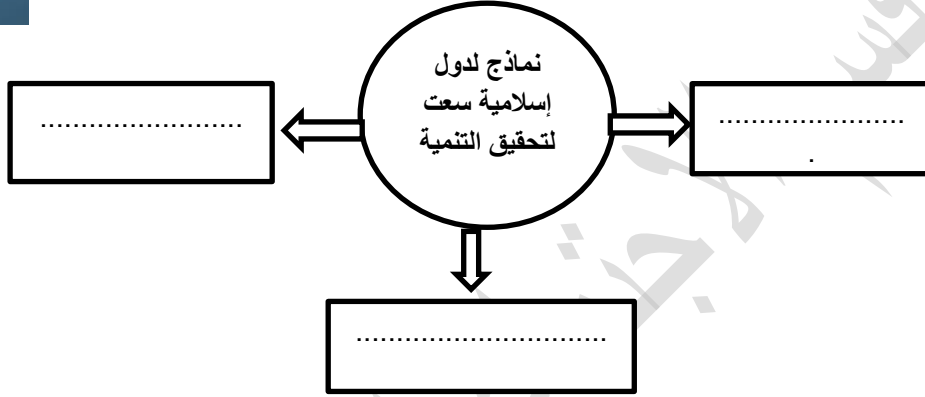
٢٠١٩ / /

درس: ( المشكلات البيئية في دول العالم الإسلامي )

٣-العالم الإسلامي في مواجهة التحديات البيئية



**السؤال الأول : أكملني الشكل التالي :-**



**السؤال الثاني : صنفي الدول التالية على حسب مشاريع التنمية وأنتاج الطاقة الشمسية**

( الكويت – السعودية - مصر )

انتجت الكهرباء من الطاقة الشمسية وشاركت بثلت الإنتاج في شبكة الكهرباء الوطنية	عام ٢٠٠٧م تم تشغيل اول محطة كهرباء تعمل بالطاقة الشمسية – مشروع رائد بمنطقة الشقايا لانتاج الطاقة الشمية	تشغيل مدرسة بالطاقة الشمسية
---	--	-----------------------------

**السؤال الثالث : عللي**

-اتجهت كثير من الدول الإسلامية إلى برامج التنمية المستدامة

.....

**السؤال الرابع : عرفني**

التنمية المستدامة .....

.....

ثانياً: ( التحديات الاقتصادية التي تواجه دول العالم الاسلامي ) / / ٢٠١٩م



درس - ١ - الانفجار السكاني ٢ - الفقر

### السؤال الأول :- أكمل الفراغات التالية بما يناسبها :

- ١- الدولة الإسلامية التي تحتل المرتبة الأولى في نسب الفقر في العالم الإسلامي تسمى .....
- ٢- يبلغ عدد سكان دولة الكويت ..... نسمة
- ٣- الزيادة الكبيرة في أعداد السكان تسمى .....
- ٤- الدولة الإسلامية التي تحتل المرتبة الأخيرة في نسب الفقر في العالم الإسلامي هي .....


### السؤال الثاني : من خلال الجدول فرقي بين كلا من :

(تعريف) خط الفقر	(تعريف) الفقر
.....	.....
.....	.....
.....	.....
.....	.....

أسباب مشكلة الفقر	أسباب المشكلة السكانية
..... ..... .....	..... ..... .....

### السؤال الرابع :- على الدائرة السانبة التالية

ارسمي نسبة السكان التي تعاني من خط الفقر في العالم الإسلامي :-





٢٠١٩ / / م

## ثانياً: التحديات الاقتصادية التي تواجه دول العالم الإسلامي

درس - (٣- العولمة الاقتصادية ٤- التكامل الاقتصادي في العالم الإسلامي )



### السؤال الأول :- أكتب المصطلح العلمي الذي يدل على العبارات التالية :

- ١- مجموع الدخل المكتسب في بلد ما خلال فترة زمنية معينة (.....)
- ٢- الفرق بين قيمة الصادرات والواردات في الدولة (.....)
- ٣- الدول التي مازالت أقل تقدماً في ميادين الاقتصاد والعلم والتكنولوجيا (.....)

### السؤال الثاني :-

أكمل الشكل التالي بأسباب إنخفاض مستوى نصيب الفرد من الدخل القومي في أغلبية دول العالم الإسلامي

..... + ..... + ..... = قلة نصيب الفرد من الدخل القومي



500 دولار سنوياً

### السؤال الثالث :- من خلال الجدول فرقي بين التالي من حيث التعريف :-

التكامل الاقتصادي	العولمة
.....	.....
.....	.....
.....	.....
.....	.....



٢٠١٩ / / م

## ثالثاً : التحديات السياسية التي تواجه دول العالم الإسلامي

درس - ١ - مشكلة الحدود السياسية

أ- أزمة الحدود السياسية بين دولة الكويت والعراق



السؤال الأول:-أكملي المخطط السهبي التالي :

أنواع الحدود السياسية



السؤال الثاني:-

صلي بين المجموعة ( أ ) وما يناسبها من المجموعة ( ب ) بوضع الرقم المناسب

الرقم	( أ ) مراحل أزمة الحدود السياسية بين العراق والكويت	الرقم المناسب	( ب ) العام
١	إدعاءات حاكم العراق بالحقوق التاريخية للعراق في الكويت		٢٠ مارس ١٩٧٣ م
٢	الهجوم على مركز الصامته الكويتي		١٩٩٣ م
٣	الغزو العراقي على دولة الكويت		
٤	إصدار هيئة الأمم القرار ٨٣٣ ترسيم الحدود بين الكويت والعراق		٢٥ يونيو ١٩٦١ م
٥			١٩٩٠ م

السؤال الثالث : عرفي مايلي:

الحدود .....

السؤال الرابع :- عللي لمايلي :

- عقد مؤتمر العقير عام ١٩٢٢ م

.....



### السؤال الأول :-

أختاري للعبارة التالية الإجابة المناسبة من البدائل التي تاليها بوضع خط تحت الإجابة :

١- بعد الحرب العالمية الأولى بدأت الهجرات اليهودية إلى دولة  
( سوريا - فلسطين - الأردن - لبنان )

٢- العام الذي أصدرت فيه هيئة الأمم المتحدة قرار بتقسيم دولة فلسطين إلى قسمين  
( ١٩٤٥ م - ١٩٤٦ م - ١٩٤٧ م - ١٩٤٨ م )

٤- العام الذي احتل فيه الكيان الصهيوني ٨٠% من الأراضي الفلسطينية  
( ١٩٤٥ م - ١٩٤٦ م - ١٩٤٧ م - ١٩٤٨ م )

٤- الدولة التي استضافت مؤتمر قمة التضامن مع الشعب الفلسطيني في غزة عام ٢٠٠٩ م  
( مصر - سوريا - الأردن - الكويت )

### السؤال الثاني :- أذكرى

جهود الملك عبدالله بن عبدالعزيز رحمه الله تجاه القضية الفلسطينية

- ١- .....
- ٢- .....
- ٣- .....



٢٠١٩ / / م

ثالثاً : التحديات السياسية التي تواجه دول العالم الإسلامي

٢-مشكلة الأقليات الإسلامية



السؤال الأول :أكملي المخططات السهمية التالية:

تكونت الأقليات الإسلامية عن طريق

.....

.....

السؤال الثاني : أذكرى أماكن تواجد الأقليات المسلمة التي تمثلها الخرائط التالية :



.....




.....

السؤال الثاني :- فرقي بين التحديات التي تواجه الأقليات الإسلامية والحلول المقترحة

التحديات التي تواجه الأقليات المسلمة	الحلول الإسلامية المقترحة للأقليات
١-..... .....	١-..... .....
٢-..... .....	٢-..... .....

السؤال الثالث : عرفي :

..... الأقليات المسلمة

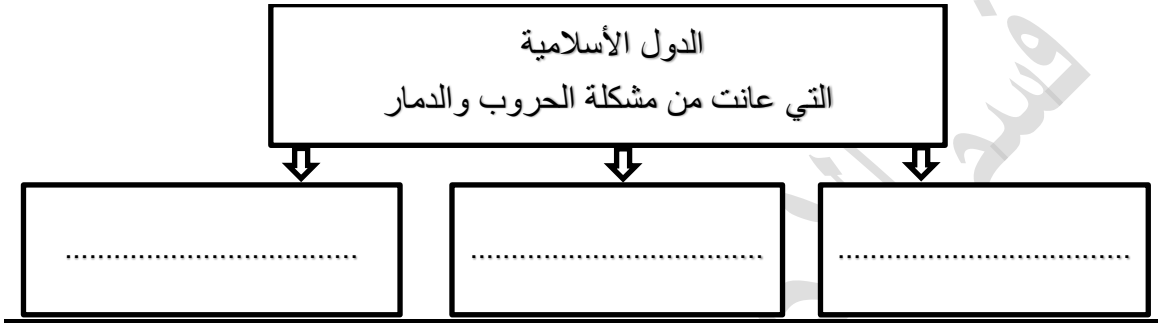


ب- الصومال

أ - البوسنة والهرسك



**السؤال الأول : - أكمل المخطط السهمي التالي :-**



**السؤال الثاني :- أكمل العبارات التالية بما يناسبها من إجابات :**

- ١- العام الذي شهد بداية الحرب الأهلية في الصومال هو .....
- ٢- الدولة التي قامت بإبادة المسلمين وتعذيبهم في حرب البوسنة تسمى .....
- ٣- بلغ عدد المسلمين الذي تم إبادةهم في حرب البوسنة ..... مسلم

**السؤال الثالث : عللي لما يلي :**

- ١- تحي جمهورية البوسنة والهرسك من كل عام ذكرى إغلاق معسكر أومارسكا

**السؤال الرابع :- أذكرى**

- ١- جهود دولة الكويت في مساعدة الشعب الصومالي

- ٢- الآثار المترتبة على الحرب الأهلية في الصومال

## ٣-مشكلة الحروب والدمار (نماذج من دول العالم)

## ج- دولة الكويت

**السؤال الأول : أكمل العبارات التالية بما يناسبها من إجابات :-**

- ١- المدة التي استغرقت في إطفاء الآبار النفطية المشتعلة في دولة الكويت ..... يوماً
- ٢- بدأ العمل على إطفاء الآبار المشتعلة في تاريخ .....
- ٣- بلغ عدد الآبار النفطية المشتعلة في دولة الكويت عدد ..... بئراً
- ٤- حاكم الكويت الذي تم في عهده إطفاء آبار النفط المشتعلة الشيخ .....

**السؤال الأول : صلي من المجموعة ( أ ) ما يناسبها من المجموعة ( ب ) بوضع الرقم المناسب :-**

رقم	( أ )	الرقم المناسب	( ب )
١	الغزو العراقي على دولة الكويت		٦ نوفمبر ١٩٩١م
٢	عاصفة الصحراء		٢٦ فبراير ١٩٩١م
٣	تحرير دولة الكويت		١٧ يناير ١٩٩١م
٤	إطفاء اخر بئر نفطي		٢ أغسطس ١٩٩٠م
			١١ مارس ١٩٩١م

**السؤال الثالث: أذكر دور الجيش والمقاومة الكويتية أثناء الغزو العراقي**

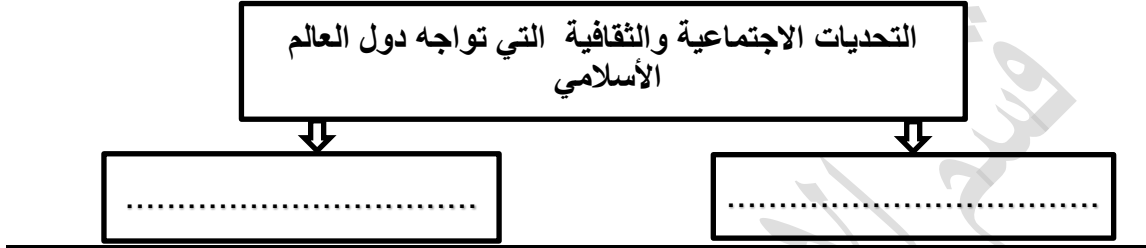
.....

.....



١- مشكلة إدمان المخدرات

**السؤال الأول :- أكمل المخطط السهمي التالي :**



**السؤال الثاني :**

-أذكر اثار إدمان المخدرات على صحة الإنسان

١-.....  
٢-.....

**السؤال الثالث :-**

-عددي أسباب الإدمان

١-.....

٢-.....

٣-.....





## ٢-مشكلة الأمية

**السؤال الأول :-أكملي العبارات التالية بما يناسبها من إجابات :**

- ١- أعلي الدول الإسلامية في معدل محو الأمية تسمى .....
- ٢- أقل الدول الإسلامية في معدل محو الأمية تسمى .....




**السؤال الثاني فرقي بين كلا من:**

مفهوم الأمية في البلدان المتقدمة	مفهوم الأمية في البلدان النامية
.....	.....
.....	.....
.....	.....

**السؤال الثالث :-**

ارسمي علي الدائرة البيانية التالية نسبة معدل إمام البالغين القراءة والكتابة في دولة قطر





أولاً: منظمة التعاون الإسلامي والأجهزة التابعة لها

### ١- الدعوة لإنشاء منظمة تجمع الدول الإسلامية

#### السؤال الأول :- أكمل العبارات التالية بما يناسبها من إجابات :

- ١- المدينة الإسلامية التي يقع بها مقر منظمة التعاون الإسلامي تسمى .....
- ٢- العام الذي شهد تغيير مسمى منظمة المؤتمر الإسلامي إلى المسمى الحالي هو ..... م
- ٣- يبلغ عدد الدول الأعضاء في منظمة التعاون الإسلامي ..... دولة
- ٤- العام الذي أحرق فيه الكيان الصهيوني المسجد الأقصى هو ..... م

#### السؤال الثاني : صحح ما تحته خط في العبارات التالية بكتابة الإجابة التصحيحية :-

- ١- أول من دعا الى تجمع يضم الدول الإسلامية الملك فهد بن عبدالعزيز ال سعود .....
- ٢- المدينة التي تم الإعلان بها عن إنشاء منظمة التعاون الإسلامي القاهرة .....

#### السؤال الثالث : عللي

- ١- إنشاء منظمة التعاون الإسلامي في ٢١ أغسطس ١٩٦٩م

#### السؤال الرابع : عرفي

الدولة الإسلامية .....



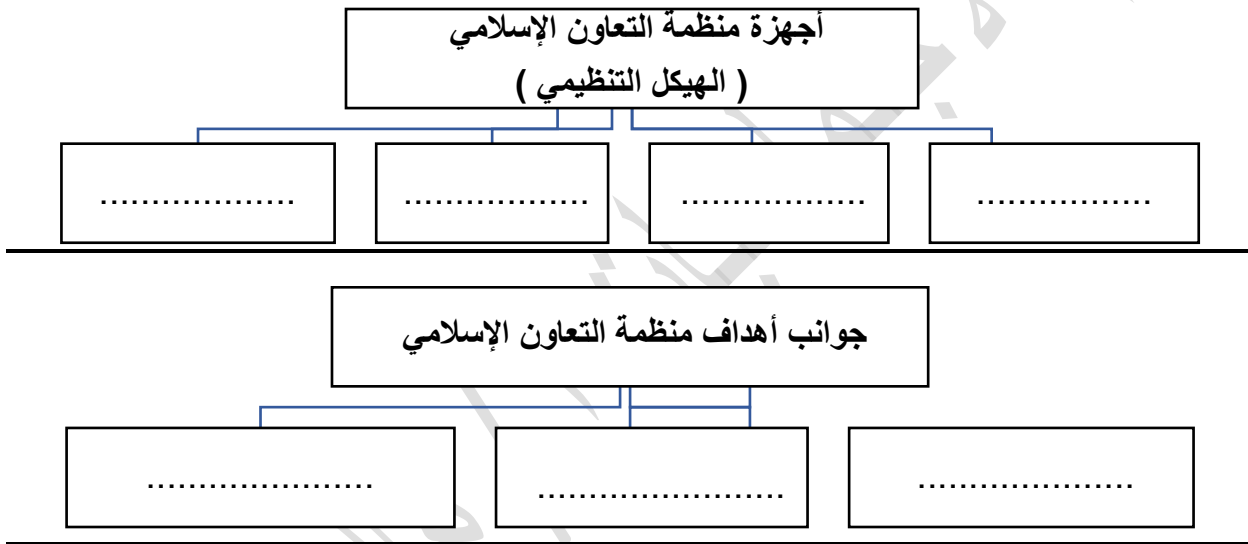
## أولاً: منظمة التعاون الإسلامي والأجهزة التابعة لها

٣- أهداف منظمة التعاون الإسلامي ٤- أجهزة منظمة التعاون الإسلامي

### السؤال الأول :- أكمل العبارات التالية بما يناسبها من إجابات :

- ١- يعقد مؤتمر القمة الإسلامي مرة كل .....
- ٢- يتأسس الأمين العام لمنظمة التعاون الإسلامي الأمانة العامة لمدة ..... سنوات

### السؤال الثاني : أكمل المخططات السهمية التالية :-



### السؤال الثالث : فرقي بين كلاً من :-

الأهداف الثقافية والاجتماعية لمنظمة التعاون الإسلامي	الأهداف الاقتصادية لمنظمة التعاون الإسلامي
١- .....	١- .....
٢- .....	٢- .....

### السؤال الرابع : أذكر مبادئ منظمة التعاون الإسلامي

- ١- ..... ٢- .....

الوحدة الرابعة: منظمة التعاون الإسلامي ودور دولة الكويت في التعايش الإنساني / / ٢٠١٩م

أولاً: منظمة التعاون الإسلامي والأجهزة التابعة لها

٥- نبذة عن بعض مؤتمرات منظمة التعاون الإسلامي

السؤال الأول : قارني بين مؤتمرات منظمة التعاون الإسلامي من خلال الجدول :-

المؤتمر الإسلامي الثالث عشر	المؤتمر الإسلامي الخامس	المؤتمر الإسلامي الأول	وجه المقارنة
.....	.....	.....	سنة الانعقاد
.....	.....	.....	مكان الإنعقاد ( الدولة )
.....-١	.....-1	.....-١	أهم القرارات
.....-٢	.....-2	.....-٢	



الوحدة الرابعة: منظمة التعاون الإسلامي ودور دولة الكويت في التعايش الأنساني / / ٢٠١٩م

ثانيا : دور المنظمات والمؤسسات الإسلامية في مواجهة التحديات التي يمر بها العالم الإسلامي

١- المنظمات والمؤسسات الإسلامية



**السؤال الأول : أكمل العبارات التالية بما يناسبها من إجابات :-:**

- ١- يقع مقر اللجنة الإسلامية للجهاد الأحمر في مدينة.....  
٢- العام الذي تأسست به اللجنة الإسلامية للجهاد الأحمر هو.....م

**السؤال الثاني : قارني بين كلا من المنظمات والمؤسسات الإسلامية من خلال الجدول :-:**

وجه المقارنة	إينا	إيسيسكو
التعريف	.....	.....
سنة الإنشاء	.....	.....
المقر ( المدينة )	.....	.....
الأهداف	.....	.....

وجه المقارنة	مجمع الفقه الإسلامي	البنك الإسلامي للتنمية
سنة الإنشاء	.....	.....
المقر ( المدينة )	.....	.....
الأهداف	.....	.....

أولا : التنوع اللغوي والتعايش الحضاري ثانيا : دور دولة الكويت في مساعدة دول العالم الإسلامي



**السؤال الأول :-أكملي العبارات التالية بما يناسبها من إجابات :-**

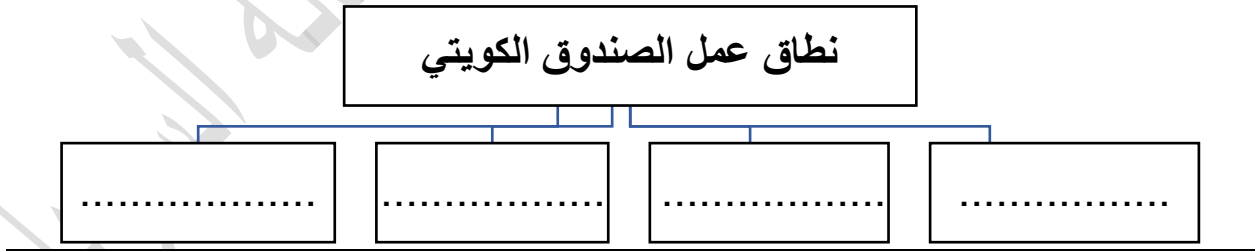
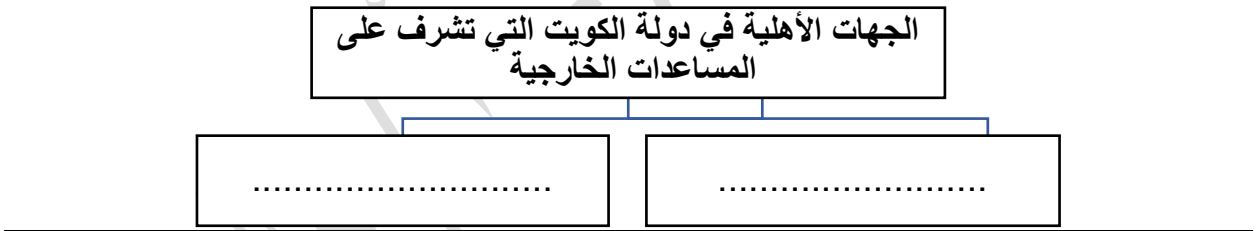
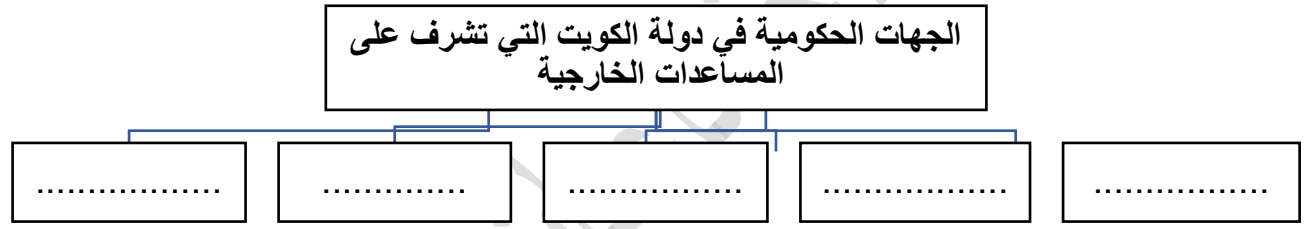
١- تبلغ نسبة المتحدثين باللغة العربية في العالم الإسلامي .....%

٢- اللغات واسعة الانتشار في العالم الإسلامي تزيد عن ..... لغة أصلية

٣- صاحب فكرة إنشاء الصندوق الكويتي للتنمية الشيخ.....

٤- حاكم الكويت الذي تم في عهده إنشاء الصندوق الكويتي للتنمية الشيخ.....

**السؤال الثاني : أكملی المخططات السهمية التالية :-**



**السؤال الرابع علي -إنشاء الصندوق الكويتي للتنمية الاقتصادية**

١-.....

٢-.....



ثانيا : دور دولة الكويت في مساعدة دول العالم الإسلامي

(الجهات والهيئات الخيرية في دولة الكويت )

السؤال الأول : صلي من المجموعة ( أ ) مايناسبها من المجموعة ( ب ) بوضع الرقم المناسب :-

سنة الإنشاء ( ب )	الرقم المناسب	( أ ) المنظمات و الهيئات الخيرية في دولة الكويت		
١٩٨٤		بيت الزكاة	١	
١٩٦٦		الهيئة الخيرية الإسلامية	٢	
١٩٦١		جمعية الهلال الأحمر الكويتي	٣	
١٩٨٢		الصندوق الكويتي للتنمية	٤	
١٩٨٧				

السؤال الثاني : قارني بين الجمعيات والهيئات الخيرية في دولة الكويت من خلال الجدول التالي :-

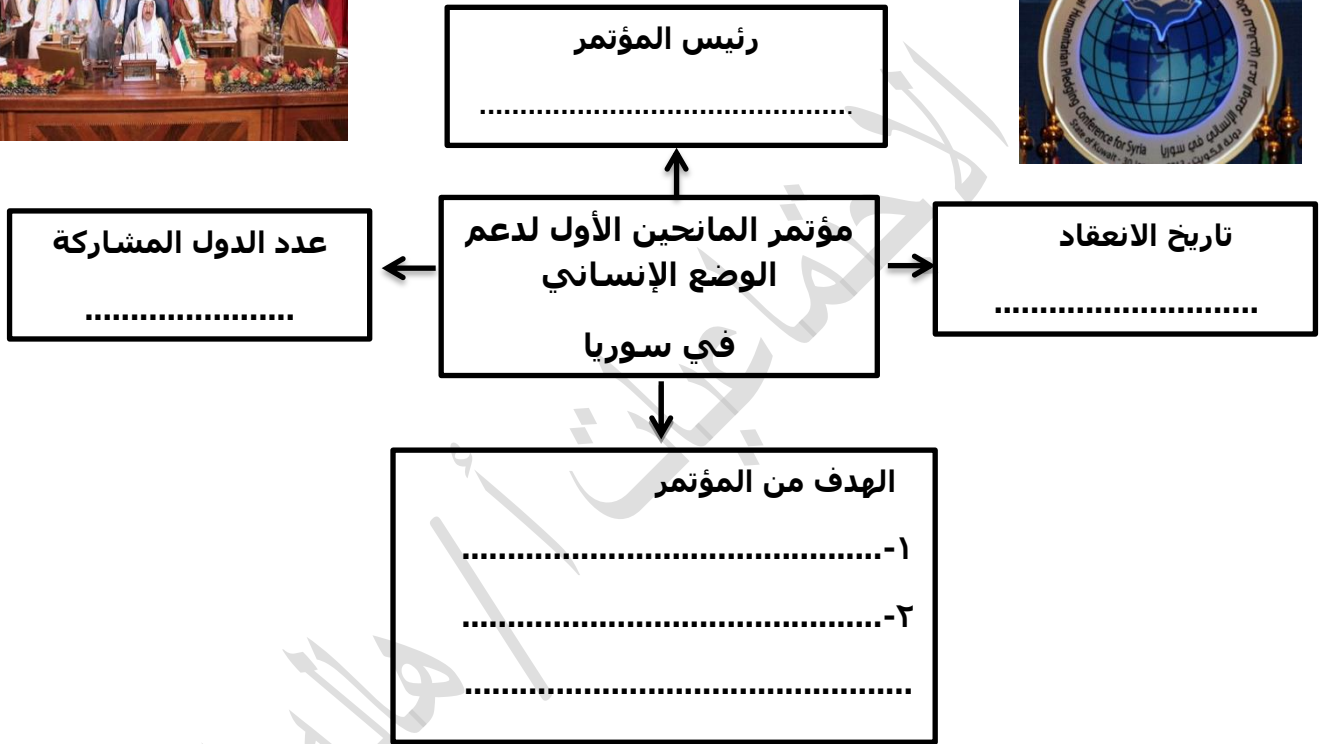
وجه المقارنة		
	 الهيئة الخيرية الإسلامية العالمية	 هيئة حكومية مسجلة
سنة التأسيس	.....	.....
الأهداف	١..... .....	١..... .....
	٢..... .....	٢..... .....

ثانياً : دور دولة الكويت في مساعدة دول العالم الإسلامي

( استضافة الكويت لمؤتمر المانحين لدعم الوضع الإنساني )



**السؤال الأول : أكمل الشكل التالي بأحداث مؤتمر المانحين الأول :-**



سيكون يوم 9 سبتمبر 2014 يوماً تاريخياً خالداً يوم تتويج صاحب السمو قاندا للإنسانية في هذا العالم صفحة جديدة بيضاء تضاف إلى سجل الكويت الزاهر فتصبح الكويت بلد الصداقة والسلام ومنازة للإنسانية بجهود قائدها وريبان سفينتها .. حفظ الله صاحب السمو وأطال عمره ...