




وزارة التربية
التوجيه الفني لمنطقة حولي لتعليمية

نموذج الاختبار التحصيلي الأول للصف الأول
للفصل الدراسي الأول
للعام الدراسي (٢٠٢٣ - ٢٠٢٤)


١

السؤال الأول :

* أكتب رمز العدد .








السؤال الثاني :

صل لتقارن بين العددين بوضع \geq ، \leq ، =
**

لون المربعات التي تدل على عدد العناصر.




١ ٢ ٣ ٤


 ١ ٢

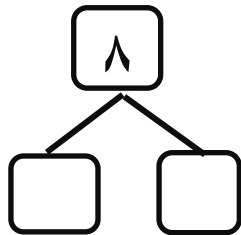
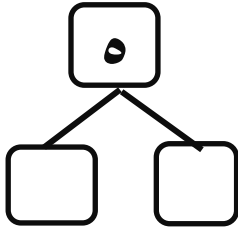
السؤال الثالث :

* استكمل رسم العناصر بحسب العدد
الموضح رمزه .

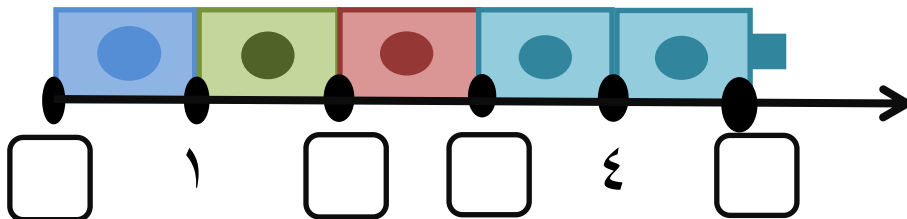


٧

* اكمل




* حدد موقع الاعداد الناقصة على خط الاعداد.



السؤال الرابع :
أ- صل كل مجموعة برمز العدد المناسب :



ب - حوّل رمز العدد المناسب لكل مجموعة :



٨

٩

٣

٨

٩

٦

٨

٧

٦

مع تمنياتنا لكم بالنجاح والتوفيق .