

مدرستي معكم خطوة بخطوة للنجاح والتفوق



مدرستي

الكويتية

حمل التطبيق



مدرستي



الكويتية



اضغط هنا

السؤال الأول: موضوعي ويتكون من (أ - ب - ج) :



$$٥ = ٥ \times ١$$

أ- أكمل العبارات التالية بما يناسبها:

- ١- منظمة نادى لإنشائها صاحب الصورة التي أمامك تسمى..منظمة التعاون الإسلامي.. ص١٣٧
- ٢- الغاز الأول المسئول عن الاحتباس الحراري يسمى..غاز ثاني أكسيد الكربون.. ص٩٠
- ٣- قرار مجلس الأمن عام ١٩٩٣م الخاص بتقسيم الحدود بين دولة الكويت والعراق يحمل الرقم..٨٣٣.. ص١٠٦
- ٤- الصورة التي أمامك تمثل فرحة تحرير الكويت عام.. ١٩٩١ م.. ص١٢٢+١٢٣
- ٥- مدينة عقد فيها المؤتمر الإسلامي الثالث عشر اسمها..اسطنبول.. ص١٤٤



ب- صنف العبارات التالية بمكانها الصحيح في الجدول الذي يليها :

$$٥ = ٥ \times ١$$

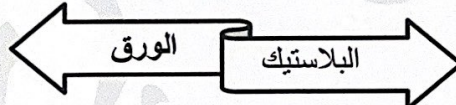
(الفقر - النفقات - ترسيم الحدود بين دولة الكويت والعراق - الاحتباس الحراري - قضية فلسطين)

تحديات بيئية	تحديات اقتصادية	تحديات سياسية
- النفقات. ص٩١ - الاحتباس الحراري . ص٩٠	- الفقر . ص٩٦	- ترسيم الحدود بين دولة الكويت والعراق . ص١٠٤ - قضية فلسطين. ص١٠٧

$$٥ = ٥ \times ١$$

ج- أكمل الأشكال التالية بما يناسبها:

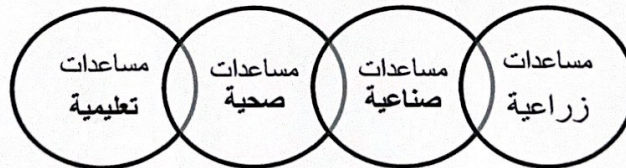
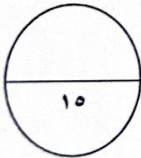
- ١- مواد قابلة لإعادة التدوير : ص٩١



- ٢- أنواع الحدود السياسية: ص١٠٢



- ٣- نطاق عمل الصندوق الكويتي للتنمية: ص١٥٩



(١)

السؤال الثاني: موضوعي ويتكون من (أ- ب - ج) :

$$٥ = ٥ \times ١$$

أ- ظلل الكلمة التي لا تنتمي إلى المجموعات التالية:

١- دول تعاني من التصحر بنسبة ٩٠% ص ٨٩	عمان	مصر	جيبوتي	الكويت
٢- أسباب التلوث الضوضائي ص ٨٧	وسائل النقل	أصوات آلات الحفر	عمليات البناء والهدم	الأمطار الحمضية
٣- أطراف مؤتمر العقير ص ١٠٣	الكويت	الأردن	العراق	نجد
٤- مشكلات الانفجار السكاني ص ٩٥	توفر فرص العمل	البطالة	المخدرات	الجريمة
٥- المنظمات والمؤسسات الإسلامية ص ١٤٥	البنك الإسلامي للتنمية	ايسيسكو	يونسكو	مجمع الفقه الإسلامي

$$٥ = ٥ \times ١$$

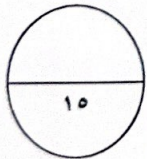
ب- اكتب المفاهيم أو المصطلحات الدالة على العبارات التالية:

- ١- (..الدخل القومي..): مجموع الدخل المكتسب في بلد ما خلال فترة زمنية معينة ، عادة ما تكون سنة واحدة.ص ١٠٠
- ٢- (..القمة الإسلامية..): مؤتمر ملوك وأمراء ورؤساء الدول والحكومات يعقد مرة كل ثلاث سنوات. ص ١٤١
- ٣- (..النفائيات..): أي مواد زائدة وغير مرغوبة من مخلفات البيئة أو الفضلات. ص ٩١
- ٤- (..اينا..): وكالة الأنباء الإسلامية الدولية. ص ١٤٥
- ٥- (..العولمة..): نظام عالمي جديد يقوم على الابداع العلمي والتطور التقني والتكنولوجي وثورة الاتصالات بحيث يصبح العالم كقرية واحدة. ص ٩٩

$$٥ = ٥ \times ١$$

ج- اختر للمجموعة (أ) ما يناسبها من المجموعة (ب) بوضع الرقم الصحيح في المكان المناسب:

م	المجموعة (أ)	الرقم المناسب	المجموعة (ب)
١	انشاء شرطة البيئة في دولة الكويت	(٥)	- ١٩٩١ م ص ١١٧
٢	قرار الجمعية العامة للأمم المتحدة بتقسيم فلسطين إلى قسمين عربي ويهودي .	(٣)	- ١٩٢٢ م ص ١٠٣
٣	مؤتمر العقير.	(١)	- ٢٠١٥ م ص ٨٢
٤	إعصار جونو على سواحل عمان.	(٢)	- ١٩٤٧ م ص ١٠٧
٥	الحرب الأهلية في الصومال.	(...)	- ١٩٦٧ م
		(٤)	- ٢٠٠٧ م ص ٩٠




تابع/ امتحان نهاية الفترة الدراسية الثانية/ مقرر دولة الكويت والعالم الإسلامي /الصف الثامن المتوسط / العام الدراسي ٢٠٢٢-٢٠٢٣م

السؤال الثالث: مقالتي ويتكون من (أ- ب - ج) :

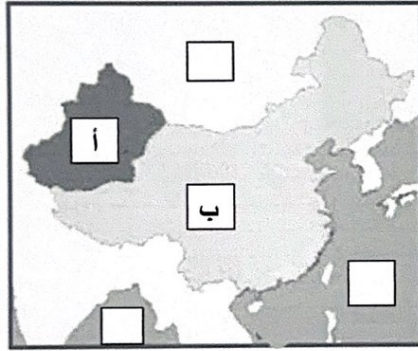
أ- قارن بين كل من حسب المطلوب منك في الجدول التالي :

$$٤ = ٤ \times ١$$

١٥٩ص	١٦٠ص	أوجه المقارنة
		
١٩٦١ م	١٩٨٢ م	سنة التأسيس
١- تقديم القروض الميسرة للدول المحتاجة. ٢- تقديم المنح مثل المعونات الفنية. ٣- الاسهام في برامج التنمية.	١- احياء ركن من أركان الإسلام وتيسير أدائه. ٢- العمل على جمع الزكاة وتوزيعها بأفضل وأجود الطرق المشروعة.	الأهداف (يكتفى بنقطة)

ب- لاحظ خريطة منطقة الأقلية الإسلامية في جمهورية الصين الصماء المقابلة ثم أجب عن الأسئلة التالية:ص١١٣

$$٦ = ٦ \times ١$$



١- ضع الحرف (أ) على إقليم شينجيانغ اوريغور .

٢- ضع الحرف (ب) على جمهورية الصين الشعبية .

٣- اذكر طرق تكون الأقليات الإسلامية في العالم. ص١١٢

..هجرة بعض المسلمين إلى أرض غير مسلمة ..

..اعتناق الإسلام..

ص١١٤ (يكتفى بنقطتين)

٤- ماهي التحديات التي تواجه الأقليات الإسلامية حول العالم ؟

- سوء الظروف الاجتماعية والمادية التي يعيش بها معظم الجالية المسلمة نتيجة لتدني الأجور أو عدم وجود فرص عمل مستقرة.
- الحفاظ على الهوية الإسلامية في ظل عادات وتقاليد المجتمعات الغربية ومناهجها التعليمية .
- انخفاض المستوى التعليمي نتيجة لسوء الأحوال الاجتماعية والمادية . - مواجهة العديد من المسلمين تمييزاً في العمل منذ أحداث ١١/سبتمبر/٢٠٠١م
- فرض بعض الدول بشكل تدريجي المزيد من القيود على المسلمين في حرية ممارستهم لشعائهم الدينية الإسلامية

$$٥ = ٥ \times ١$$

ج- علل لما يلي :

١-زيادة كمية المخلفات الصناعية ،المنزلية ، الزراعية والبنائية. ص٩١

- سرعة التقدم الصناعي . - السلوك الاستهلاكي لدى الإنسان.

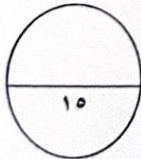
٢- الزيادة الكبيرة في عدد سكان دول العالم الإسلامي. ص٩٥

- الزيادة الطبيعية - الزيادة الغير طبيعية

٣-اعتداء القوات العراقية على مركز الصامته الكويتي الحدودي عام ١٩٧٣م. ص١٠٣

- للحصول على منفذ بحري جديد على الخليج العربي.

(٣)



تابع/ امتحان نهاية الفترة الدراسية الثانية/ مقرر دولة الكويت والعالم الإسلامي /الصف الثامن المتوسط / العام الدراسي ٢٠٢٢-٢٠٢٣ م
السؤال الرابع: مقالتي ويتكون من (أ- ب - ج) :

أ- لاحظ الجدول الذي أمامك لأعلى نسبة فقر في دول العالم الإسلامي لعام ٢٠١٥ م، ثم أجب
عن الأسئلة التالية:

$$٦ = ٦ \times ١$$

الدولة	النسبة المئوية
جمهورية مالي	١٢,١ %
نيجيريا	٦٩,٢ %
اوغندا	٢٣,٨ %
اندونيسيا	٣٧,٢ %
بنجلاديش	٧٧,٥ %
موزنبيق	١٦,٧ %

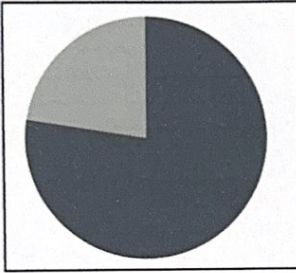
١- عرف خط الفقر : ص ٩٧

- أدنى مستوى من الدخل يحتاجه المرء أو الأسرة حتى يكون بالإمكان توفير مستوى معيشة ملائم في بلد ما.

٢- استخرج من الجدول ما يلي :

الدولة الأعلى معدل في الفقر	الدولة الأقل معدل في الفقر
بنجلاديش...	جمهورية مالي...

٣- حول النسبة المئوية للدولة الأعلى معدل في الفقر إلى دائرة بيانية مستعينا بالشكل المقابل .



٤- ما هي أسباب مشكلة الفقر في الدول الإسلامية؟ ص ٩٨ (يكتفى بنقطتين)

- ضعف اقتصاد الدولة. - عدم توفر فرص العمل. - الحروب والدمار.
- تضخم أسعار السلع والخدمات. - عدم الاستغلال الأمثل للموارد الطبيعية والبشرية. - انتشار البطالة. - عدم تكافؤ الفرص.
- قلة التبرعات والصدقات في المجتمع. - التفرقة بين الناس في الحقوق والواجبات.

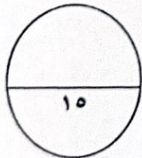
ب- فرق بين كلا مما يلي حسب المطلوب منك في الجدول التالي : ص ٨١ (يكتفى بنقطتين لكل جانب) $٤ = ٤ \times ١$

المصادر الطبيعية للتلوث البيئي	المصادر البشرية للتلوث البيئي
البراكين - الغبار	نفايات التطور الصناعي - الاستخدام المفرط للأسمدة - رش المبيدات الحشرية على المزروعات - الحروب - الانفجارات النووية.

$$٥ = ٥ \times ١$$

ج - عرف المفاهيم أو المصطلحات التالية :

- ١- الحدود : خطوط حددت بواسطة الإنسان ورسمت حتى تفصل بين سيادة دولة ودولة أخرى. ص ١٠٢
- ٢- الميزان التجاري : الفرق بين قيمة الصادرات وقيمة الواردات بالدولة. ص ١٠٠
- ٣- التلوث البيئي : أي تغيير غير مرغوب به في الخواص الطبيعية أو الكيميائية أو البيولوجية للبيئة المحيطة (التربة ، الماء ، الهواء) والذي قد يتسبب في الإضرار بحياة الإنسان والكائنات الأخرى. ص ٨١
- ٤- البلدان النامية : الدول التي ما زالت أقل تقدماً في ميادين الاقتصاد والعلم والتكنولوجيا . ص ١٠٠
- ٥- الانفجار السكاني : الزيادة الكبيرة في أعداد السكان . ص ٩٥



انتهت الأسئلة

مع تمنياتنا لكم بالنجاح والتوفيق

(٤)