



تم تحميل الملف  
من موقع **بداية**



للمزيد اكتب  
في جوجل



بداية التعليمي

موقع بداية التعليمي كل ما يحتاجه الطالب والمعلم  
من ملفات تعليمية، حلول الكتب، توزيع المنهج،  
بوربوينت، اختبارات، ملخصات، اختبارات إلكترونية،  
أوراق عمل، والكثير...

حمل التطبيق





يتوزع السُّكَّان على سطح الأرض توزعاً متفاوتاً من مكان إلى آخر، فما مفهوم السُّكَّان؟ وما العوامل المؤثرة في توزيعهم؟



توزيع سُكَّان العالم ليس منتظماً، بل يتفاوت بين الدول والمدن ومن قارة إلى أخرى، ويسكن قارة آسيا نحو ٦٠٪ بينما قارة استراليا تشكل ما يقارب ١٪ من سُكَّان العالم، وتشهد قارة إفريقيا نمواً سكانياً متزايداً.

❓ لماذا نعتني بتوزيع السُّكَّان؟

يُعْتَنى بتوزيع السُّكَّان من أجل توزيع الخِدْمات عليهم، والتخطيط للتنمية لتحقيقها.

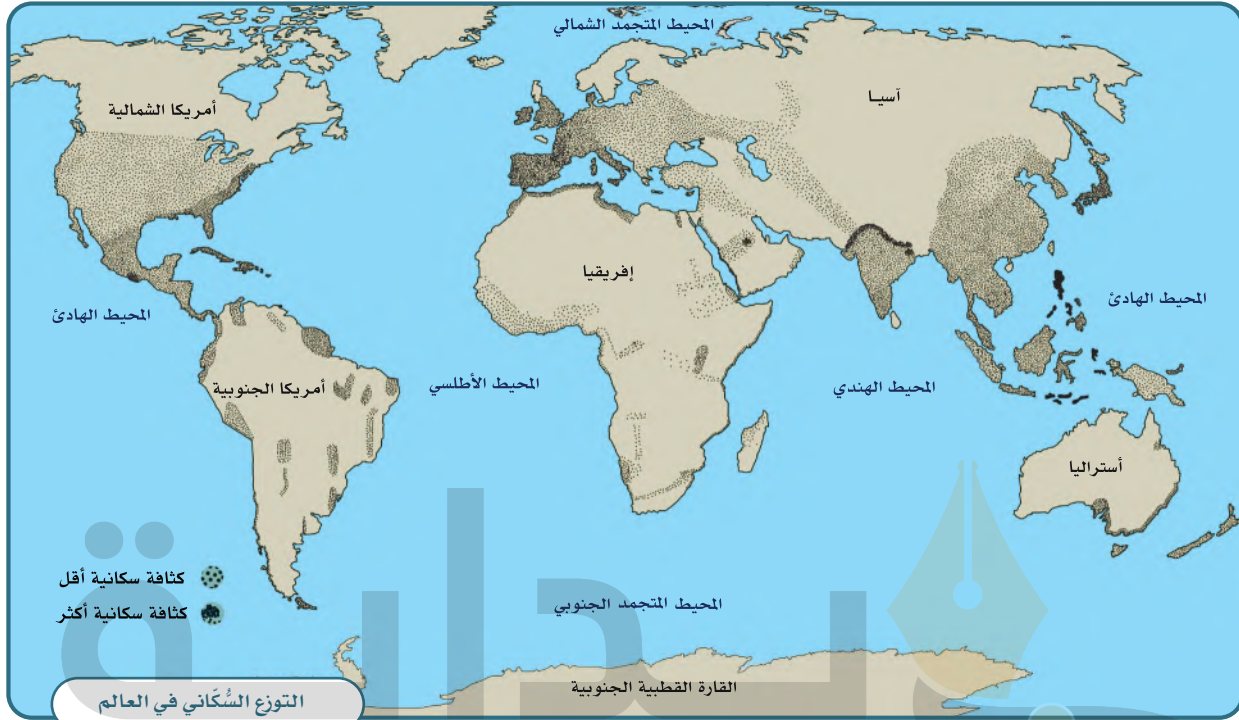
عدد سُكَّان الأرض نحو سبعة مليارات وستمئة وسبعين مليون نسمة

مساحة الأرض خمسمئة وعشرة ملايين ومئة ألف كيلومتر مربع

تَشْغَل اليابسة نحو مئة وثمانية وأربعين مليوناً وتسعمئة ألف كيلومتر مربع (٢٩٪ من الأرض)

يَشْغَل الماء نحو ثلاثمئة وواحد وستين مليوناً ومئتي ألف كيلومتر مربع (٧١٪ من الأرض)





موقع بداية التعليمي | beadaya.com



١

نشاط

يضع الطلبة خطأً تحت الخيار الصحيح من بين الأقواس في النص الآتي:


يقترب عدد سُكَّان العالم في الوقت الحالي من ٨ مليارات نسمة، وتوزيع سُكَّان العالم (مُنْتَظَم/ ليس مُنْتَظَمًا)، وتعد المساحات المأهولة بالسُّكَّان من اليابسة (كثيرة/ قليلة) بالنظر إلى مساحتها، ويتركز السُّكَّان في قارة (آسيا/ القارة المتجمدة الجنوبية)، ويقل عددهم في قارة (أمريكا الشمالية/ أستراليا).

## توزيع السُّكَّان في العالم

يتركز سُكَّانُ العالم في النصف الشمالي من الكرة الأرضية؛ حيث يكثرون في العواصم والمدن الساحلية ومراكز التجارة والصناعة

يعيش معظم السُّكَّان في المناطق التي تتوافر فيها الأنهار أو التي تكثر فيها الأمطار الموسمية، وتنخفض الكثافة السُّكانية انخفاضاً ملحوظاً في الأماكن الآتية:

مناطق الغابات  
المزدحمة بالأشجار




مناطق الجبال  
والتضاريس الوعرة



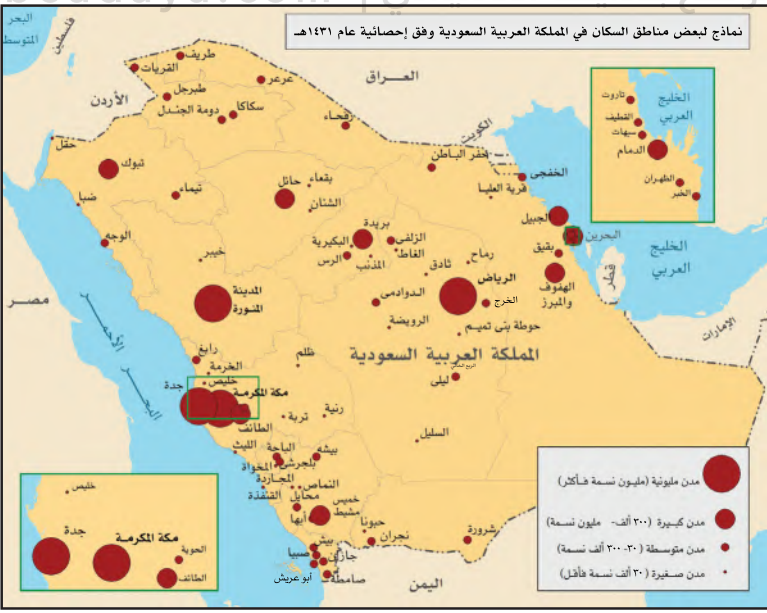
المناطق الباردة  
جداً (القطبية)



المناطق الجافة  
(الصحاري)



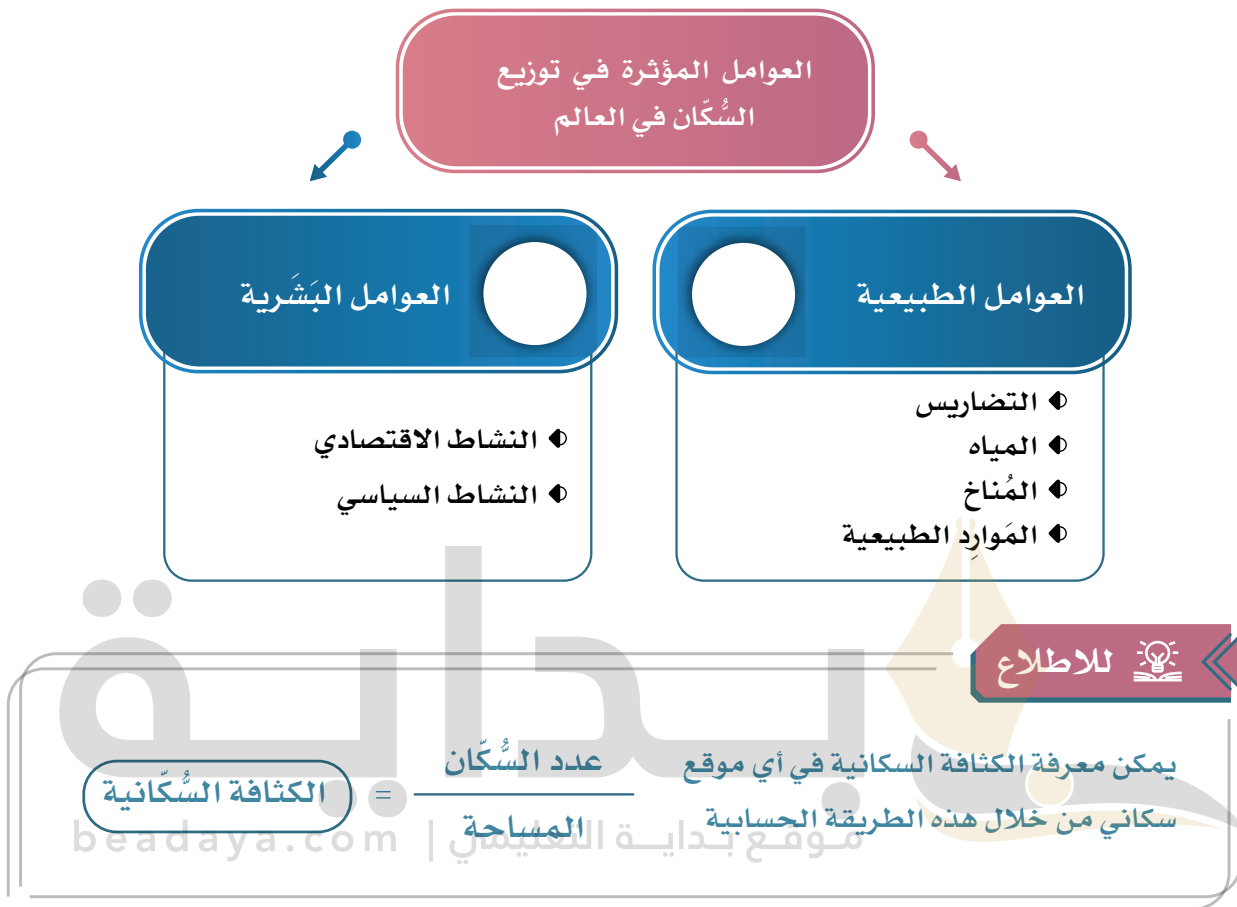
## نشاط ٢



١- بالنظر إلى الصور أعلاه  
يبين الطلبة كيفية التغلب على  
صعوبة العيش في تلك المناطق.  
بسبب المناخ ووفرة الماء والغذاء.

## ٢- لماذا تنخفض الكثافة السكانية في صحراء الربع الخالي؟

## بسبب قلة الماء والغذاء



### نشاط ٣

- أ- يعلّل الطلبة ارتفاع الكثافة السُّكَّانية في المدن الآتية:
- ١- الرياض: لأنها العاصمة وتكثر فيها الخدمات وفرص العمل
  - ٢- مكة المكرمة: لأنها فيها الكعبة قبله المسلمين
- ب- يستنتج الطلبة كيف تؤثر التضاريس في توزيع السُّكَّان.
- تزداد الكثافة السكانية في السهول والأماكن المنبسطة لكثرة المياه وتوفر الغذاء.
- في حين يقل عددهم في المناطق الجبلية الوعرة والصحراوية