

مدرستي معكم خطوة بخطوة للنجاح والتفوق



مدرستي

الكويتية

حمل التطبيق



مدرستي



الكويتية



اضغط هنا

نموذج إجابة



وزارة التربية
الإدارة العامة للتعليم الخاص
التوجيه الفني للاجتماعيات






امتحان نهاية الفترة الدراسية الثانية
لمقرر دولة الكويت والعالم الإسلامي
للمصف الثامن المتوسط

العام الدراسي: ٢٠٢١-٢٠٢٢م
الزمن: ساعة وخمس وأربعون دقيقة
عدد الصفحات: ٥

$$١ \times ٤ = ٤$$

السؤال الأول: موضوعي ويتكون من (أ - ب - ج) :

أ- اختر للمجموعة (أ) ما يرتبط بها من المجموعة (ب) بوضع الرقم المناسب :

م	المجموعة (أ)	الرقم المناسب	المجموعة (ب)
١-	صاحب فكرة إنشاء منظمة تجمع الدول الإسلامية. ص ١٣٧ درجة	(...٣...)	
٢-	تم عقد مؤتمر القمة الإسلامي الخامس في عهده عام ١٩٨٧م. ص ١٤٣ درجة	(...١...)	
٣-	فريق إطفاء كويتي تمكن من إطفاء الأبار التي أحرقتها المعتدي العراقي عام ١٩٩١م في وقت قياسي . ص ١١٩ درجة	(...٤...)	
٤-	تم تكريمه من قبل منظمة الأمم المتحدة كقائد للعمل الإنساني عام ٢٠١٤م . ص ١٦١ درجة	(.....)	
		(...٢...)	

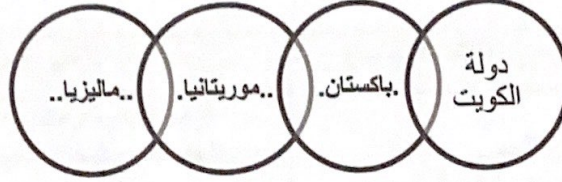


تابع/ امتحان نهاية الفترة الدراسية الثانية/ مقرر دولة الكويت والعالم الإسلامي /الصف الثامن المتوسط / العام الدراسي ٢٠٢١-٢٠٢٢ م
تابع / السؤال الأول:

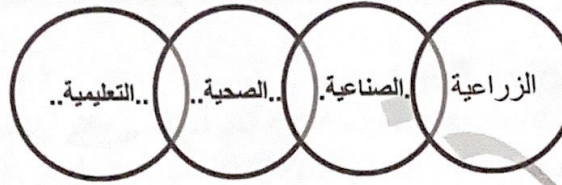
ب- أكمل المخططات السهمية التالية بما يناسبها مما درست :

$$٦ = ٦ \times ١$$

١- دول إسلامية عانت من مشكلة التلوث البيئي بأنواعه. ص ٨٣+ ص ٨٥ ثلاث درجات



٢- أنواع المساعدات التي يقدمها الصندوق الكويتي للتنمية. ص ١٥٩ ثلاث درجات



ج- ادرس الجدول الذي أمامك لمعدلات محو الأمية في دول منظمة العالم الإسلامي لعام ٢٠١٥ م ، ثم أجب عن الأسئلة التي تليه :

$$٥ = ٥ \times ١$$

المجموع	البلدان
٤٨,٠٩	سيراليون
٩٩,٩٧	كازاخستان
٩٣,٨٨	إندونيسيا
٩٥,٠١	تركيا
٩٥,٥٧	سورينام
١٩,١٣	النيجر
٧٠,٠٧	اليمن
٩٩,٨٢	أذربيجان

١- استخرج من الجدول ما يلي : (ثلاث درجات) ص ١٢٩

الدولة الأعلى معدل في محو الأمية	الدولة الأقل معدل في محو الأمية
...كازاخستان...	...النيجر...

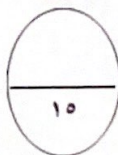
ب- نسبة الدولة العربية في محو الأمية .. ٧٠,٠٧ %

٢- اكتب المفهوم الدال على العبارة التالية: (درجة)

(.. الأمية/ الأمية في البلدان النامية والاسلامية..) الإنسان الذي بلغ الثانية عشر من عمره ولم يتعلم مبادئ القراءة والكتابة والحساب بلغة ما . ص ١٢٨

٣- أكمل العبارة التالية بما يناسبها مما درست : (درجة)

١- الدولة الخليجية التي سجلت أعلى معدل في إلمام البالغين بالقراءة والكتابة اسمها... قطر.. ص ١٢٨



مجموع درجات السؤال الأول الموضوعي:

(٢)

تابع/ امتحان نهاية الفترة الدراسية الثانية/ مقرر دولة الكويت والعالم الإسلامي /الصف الثامن المتوسط / العام الدراسي ٢٠٢١-٢٠٢٢م

السؤال الثاني: موضوعي ويتكون من (أ - ب - ج) :

أ- صنف الجهات التالية حسب مكانها المناسب في الجدول :

(بيت الزكاة - غرفة التجارة وصناعة الكويت - جمعية الهلال الأحمر - الصندوق الكويتي للتنمية - الجمعيات واللجان الخيرية) ص ١٥٩

القطاع الحكومي (ثلاث درجات)	القطاع الأهلي (درجتين)
- بيت الزكاة . - جمعية الهلال الأحمر . - الصندوق الكويتي للتنمية .	- غرفة التجارة وصناعة الكويت . - الجمعيات واللجان الخيرية .

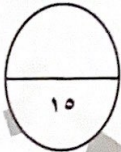
ب - صحح ما تحته خط في العبارات التالية :

- ١- مشكلة تسبب آثارا خطيرة على الإنسان مثل الهلوسة والسلوك العدواني تسمى الفقر . (إدمان المخدرات..) ص ١٢٥ درجة
- ٢- الدولة الإسلامية هي الدولة التي يحكمها حاكم مسلم وتكون نسبة المسلمين فيها ٢٠ % . (٥٠ % ..) ص ١٣٧ درجة
- ٣- شرطة البيئة في دولة الكويت تم انشائها عام ٢٠١٢ م . (٢٠١٥ م ..) ص ٨٢ درجة
- ٤- المقر الرئيسي لمنظمة التعاون الإسلامي مدينة مسقط . (جده ..) ص ١٣٨ درجة
- ٥- مؤتمر العقير عام ١٩٢٢ م عقد لإيجاد حل لمشاكل الحدود بين الكويت ونجد وإيران . (العراق) ص ١٠٣ درجة

ج- ظلل الحرف (أ) إذا كانت الإجابة صحيحة وظلل الحرف (ب) إذا كانت الإجابة خاطئة : ص ١٥٠

م	العبارة	(أ)	(ب)
١	دولة الكويت تعرضت للاجتياح العراقي في يوم الخميس ٢/أغسطس/١٩٩٠ م . ص ١٠٤		
٢	المؤتمر الثالث عشر لمنظمة التعاون الإسلامي عقد في مدينة إسطنبول عام ٢٠١٦ م . ص ١٤٤		
٣	الغاز الأول المسنول عن ظاهرة الاحتباس الحراري هو غاز النيتروجين . ص ٩٠		
٤	البراكين والغبار من مصادر التلوث الطبيعية . ص ٨١		
٥	صاحب فكرة إنشاء الصندوق الكويتي للتنمية هو الشيخ سعد العبدالله الصباح . ص ١٥٩		

مجموع درجات السؤال الثاني الموضوعي:



السؤال الثالث : مقال ويتكون من (أ - ب - ج) :

أ- عرف المفاهيم التالية :

- ١- الميزان التجاري : الفرق بين قيمة الصادرات وقيمة الواردات في الدولة . ص ١٠٠ (درجة)
- ٢- التدوير : إعادة استخدام المخلفات لإنتاج منتجات أخرى أقل جودة من المنتج الأصلي . ص ٩١ (درجة)
- ٣- التلوث : أي تغيير غير مرغوب به في الخواص الطبيعية أو الكيميائية أو البيولوجية للبيئة المحيطة (الهواء، الماء، التربة) والذي قد يتسبب في الأضرار بحياة الإنسان والكائنات الأخرى . ص ٨١ (درجة)
- ٤- البلدان النامية : هي الدول التي ما زالت أقل تقدما في ميادين الاقتصاد والعلم والتكنولوجيا . ص ١٠٠ (درجة)
- ٥- الانفجار السكاني : هو الزيادة الكبيرة في أعداد السكان . ص ٩٥ (درجة)

(٣)



تابع/ امتحان نهاية الفترة الدراسية الثانية/ مقرر دولة الكويت والعالم الإسلامي /الصف الثامن المتوسط / العام الدراسي ٢٠٢١-٢٠٢٢م
تابع / السؤال الثالث:

ب- اكتب فيما يلي مما درست :

$$٦ = ٦ \times ١$$

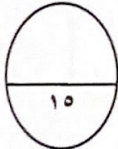
- ١- قرار مجلس الأمن رقم (٨٣٣) . ص ١٠٦ (درجة)
- قرار صادر عام ١٩٩٣م من مجلس الأمن في منظمة الأمم المتحدة بترسيم الحدود بين دولة الكويت والعراق واعترفت به الكويت فيما اعترف العراق بالقرار في عام ١٩٩٤م.
- ٢- نتائج الاحتباس الحراري . ص ٩٠ (يكتفى بنقطتين - درجتين)
- ذوبان الجليد عن القطبين الشمالي والجنوبي . - غرق مناطق كثيرة من العالم . - إعصار جونو . - تغيير المناخ . - ارتفاع تدريجي في معدل درجات الحرارة .
- ٣- المصادر البشرية للتلوث البيئي . ص ٨١ (يكتفى بثلاث نقاط - ثلاث درجات)
- نفايات التطور الصناعي . - الاستخدام المفرط للأسمدة . - رش المبيدات الحشرية على المزروعات . - الحروب . - الانفجارات النووية .

ج - قارن بين كلا من :

$$٤ = ٤ \times ١ \quad (\text{يكتفى بنقطتين لكل سؤال})$$

آثار التلوث الهوائي ص ٨٤ (درجتين)	آثار التلوث المائي ص ٨٦ (درجتين)
١- أمراض القلب والرئة والأوعية الدموية وضيق التنفس .	١- هلاك الكائنات البحرية الحيوانية والنباتية .
٢- اضطراب الجهاز العصبي .	٢- فقدان السواحل لقيمتها الاقتصادية والسياحية .
٣- تآكل وتلف المباني والمنشآت والآثار .	٣- التأثير على صحة الإنسان لاعتماده على الغذاء البحري .

مجموع درجات السؤال الثالث المقالي:



السؤال الرابع : مقالي ويتكون من (أ - ب - ج) :

أ- أجب على الأسئلة التالية :

- ١- ما هي أسباب الإدمان على المخدرات ؟ ص ١٢٦ (يكتفى بنقطتين - درجتين)
- ضعف الوازع الديني وانحدار القيم الأخلاقية . - ضعف الرقابة من الأسرة على الفرد . - رفاق السوء .
- التقليد الأعمى واستيراد قيم جديدة وغريبة عن مجتمعاتنا تتنافى مع مبادئ ديننا الحنيف . - انتشار التدخين بين المتعلمين في المدارس . - قضاء أوقات الفراغ في أمور تافهة لا تعود على الشباب بالنفع .
- ٢- ما هي أسباب الفقر في العالم الإسلامي ؟ ص ٩٨ (يكتفى بنقطتين - درجتين)
- ضعف اقتصاد الدولة . - عدم توفر فرص العمل . - تضخم أسعار السلع والخدمات . - عدم الاستغلال الأمثل للموارد الطبيعية والبشرية . - انتشار البطالة . - قلة التبرعات والصدقات في المجتمع . - الحروب والدمار .
- التفرقة بين الناس في الحقوق والواجبات . - عدم تكافؤ الفرص .

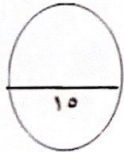
تابع/ امتحان نهاية الفترة الدراسية الثانية/ مقرر دولة الكويت والعالم الإسلامي /الصف الثامن المتوسط / العام الدراسي ٢٠٢١-٢٠٢٢م
تابع: السؤال الرابع:

$$٥ = ٥ \times ١$$

ب - علل لما يلي :

- ١- انشاء منظمة التعاون الإسلامي. ص١٣٨ (درجة)
 - بسبب قيام المحتل الإسرائيلي بإحراق المسجد الأقصى في فلسطين والذي يعد أحد المقدسات لدى المسلمين.
 - ٢- الزيادة الكبيرة في أعداد السكان في العالم الإسلامي. ص٩٥ (درجتين)
 - الزيادة الطبيعية .
 - الزيادة الغير طبيعية .
 - ٣- تصنف دول العالم الإسلامي ضمن الدول النامية. ص١٠٠ (يكتفى بنقطتين - درجتين)
 - ضعف الإنتاج الاقتصادي .
 - عجز الميزان التجاري .
 - انخفاض شديد في الدخل القومي.
- ج- فرق بين أهداف منظمة التعاون الإسلامي في المجالات التالية : ص١٣٩ - ١ × ٦ = ٦ (يكتفى بنقطتين لكل سؤال)

المجال	السياسي	الاقتصادي	الثقافي الاجتماعي
الأهداف	١- تعزيز التضامن بين الدول الأعضاء. ٢- المصالح المشتركة . ٣- دعم القضية الفلسطينية. (درجتين)	١- تعزيز التعاون الاقتصادي بين الدول الأعضاء. ٢- بذل الجهود لتحقيق التنمية البشرية المستدامة والشاملة . ٣- تقديم الدعم المالي والقروض للدول الإسلامية الفقيرة . (درجتين)	١- الرقي بالعلوم والتكنولوجيا وتطويرها والتعاون الثقافي بين الدول الاعضاء. ٢- تعزيز دور الأسرة وحماية حقوق الإنسان والحريات. ٣- محاربة الأمية والفقر بالدول الإسلامية. (درجتين)



مجموع درجات السؤال الرابع المقالى:

انتهت الأسئلة
مع تمنياتنا لكم بالنجاح والتوفيق
(٥)



وزارة التربية

الإدارة العامة للتعليم الخاص
التوجيه الفني للاجتماعيات

نموذج إجابة

امتحان المنهج الكامل

مقرر: دولة الكويت والعالم الإسلامي
الصف الثامن المتوسط

العام الدراسي: ٢٠٢١-٢٠٢٢ م
الزمن: ساعة و ٥ دقائق
عدد الأوراق: ٤

(أجب عن جميع الأسئلة التالية)

السؤال الأول: موضوعي و يتكون من (أ - ب - ج)

أ) أكمل العبارات التالية بما يناسبها فيما درست:

(١ × ٥ = ٥)

١- الحرب التي شنتها قوات التحالف لتحرير دولة الكويت عام ١٩٩١ م تسمى عاصفة الصحراء. ص ١٢٢.

٢- المسجد الذي أنشئ خلال شهرين من الهجرة ليكون مركزاً دينياً وسياسياً وثقافياً للدولة الإسلامية اسمه المسجد النبوي ص ٣٣

٣- علوم الرياضيات والفيزياء والكيمياء والفلسفة والفلك في الحضارة الإسلامية يطلق عليها اسم العلوم العقلية. ص ١٧

٤- المفكر الفرنسي الذي قال: " لم يعرف التاريخ أمة أرحم من العرب المسلمين " يسمى غوستاف لوبون ص ٢٢

٥- العالم المسلم الذي ألف ١٨٠ مؤلف شملت الرياضيات والفلك والتاريخ والجغرافيا اسمه البيروني. ص ١٨ + ١٩

ب) صنف أهم الموارد الطبيعية التالية في مكانها المناسب في الجدول التالي:

(الحبوب - النفط - القطن - الغاز الطبيعي - المطاط الطبيعي)

ثروات الطاقة والمعادن ص ٦٧	الثروة الزراعية ص ٧٢ + ٧٣
<u>النفط</u>	<u>الحبوب</u>
<u>الغاز الطبيعي</u>	<u>المطاط الطبيعي - القطن</u>

ج) أمامك خريطة صماء للعالم الإسلامي أدرسها جيداً، ثم نفذ المطلوب عليها:

(١ × ٥ = ٥)

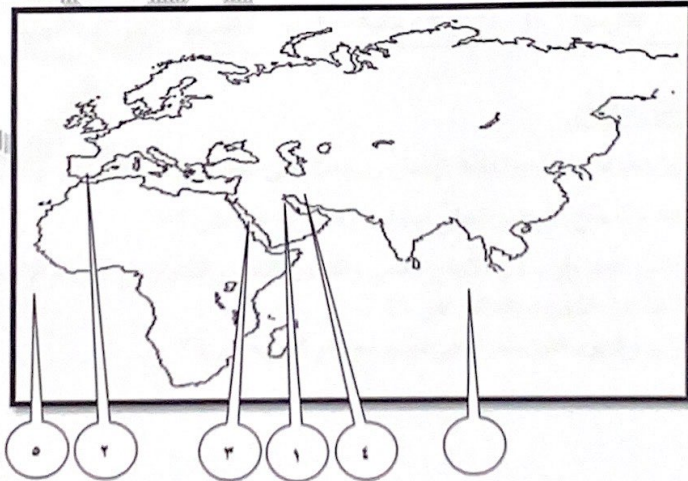
* ضع الرقم (١) على دولة الكويت. ص ٥١ - ص ١٠١

* ضع الرقم (٢) على بلاد الأندلس (إسبانيا). ص ٤١

* ضع الرقم (٣) على بحر القلزم. ص ١٧

* ضع الرقم (٤) على الحضارة الفارسية التي استفاد منها المسلمون. ص ١٧

* ضع الرقم (٥) على المحيط الأطلسي. ص ٧٤



(١)



السؤال الثاني: يتكون من (أ - ب - ج)

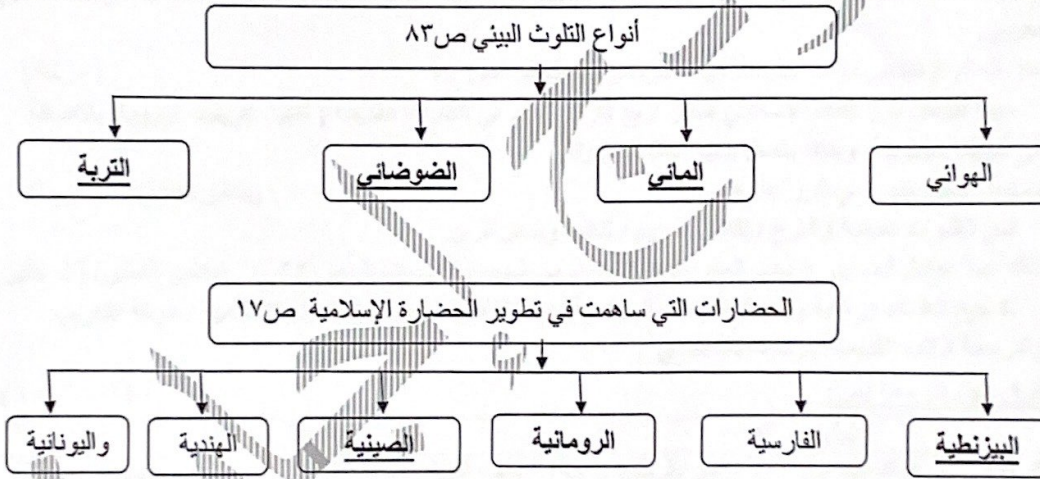
(١ × ٥ = ٥)

(أ) ضع خطأ تحت الخيار الصحيح من بين الخيارات التي تلي كل عبارة:

- ١- حاكم العراق الذي ادعى في عام ١٩٦١م أن دولة الكويت تابعة لولاية البصرة اسمه: ص ١٠٣
 أ - عبدالرحمن عارف ب - عبدالكريم قاسم ج - فيصل الأول د - فيصل الثاني
- ٢- الدولة الإسلامية الأكبر من حيث المساحة اسمها: ص ٥٢
 أ - كازاخستان ب - الجزائر ج - إيران د - المملكة العربية السعودية
- ٣- قارات العالم عددها: ص ٥٣
 أ - أربع قارات ب - خمس قارات ج - ست قارات د - سبع قارات
- ٤- العالم المسلم الذي أثار كتابه في الهندسة في العالم الإنجليزي روجر بيكون في القرن السابع الهجري يسمى: ص ٤٢
 أ - ابن سينا ب - الكندي ج - ابن رشد د - الإدريسي
- ٥- بطلة كويتية من أبطال إطفاء حرائق النفط الناجمة عن الغزو العراقي الغاشم اسمها: ص ١١٩
 أ - أسرار القبندي ب - سناء الفودري ج - وفاء العامر د - دساره أكبر

(١ × ٦ = ٦)

ب (أكمل المخططات السهمية التالية:



(١ × ٤ = ٤)

ج- أكتب مدلول العبارات التالية:

- ١- (الحدود) تعرف بأنها خطوط حددت بواسطة الإنسان ورسمت حتى تفصل بين سيادة دولة ودولة أخرى. ص ١٠٢
- ٢- (السهول) أجزاء فسيحة من سطح الأرض تتميز باستوائها وقلة ارتفاعها. ص ٥٣
- ٣- (العلوم) هي نظام عالمي جديد يقوم على الإبداع العلمي والتطور التقني والتكنولوجي وثورة الاتصالات بحيث تزول الحدود الثقافية بين الشعوب بالعالم. ص ٩٩
- ٤- (أهل الذمة) هم النصارى واليهود الذين ظلوا على دينهم مع دفع الجزية. ص ٣٦

السؤال الثالث: يتكون من (أ - ب - ج)

أ - علل لما يأتي:

(١ × ٤ = ٤)

(درجة)

١- ظهور المشكلة السكانية. ص ٩٥

نتيجة لعدم التوازن بين عدد السكان والموارد والخدمات وفرص العمل وارتفاع المستوى المعيشي.

(درجة)

٢- الإحتفال باللغة العربية في يوم ١٨ ديسمبر من كل عام. ص ٢١

لأن الجمعية العامة للأمم المتحدة أصدرت في شهر ديسمبر عام ١٩٧٣م قراراً بإدخال اللغة العربية ضمن اللغات الرسمية ولغات العمل في الأمم المتحدة.

(درجة)

٣- أطلق على الحضارة الإسلامية هذا الإسم. ص ١٨

لأن اللغة العربية تمثل وسيلة لتعبير عنها، والذي يمثل روحها وجوهرها الدين الإسلامي.

(درجة)

٤- استضافة الكويت لمؤتمر المانحين الأول والثاني والثالث. ص ١٦٠

لدعم الوضع الإنساني في سوريا تأكيداً على الدور الإنساني الذي يميز السياسة الخارجية الكويتية.

(١ × ٥ = ٥)

(درجة)

١- تعرضت دولة الكويت لتلوث بيئي خطير بسبب الغزو العراقي ١٩٩٠م. ص ٨٥ (يكتفى بنقطة) (درجة)

قامت قوات النظام العراقي الغاشم بشكل متعمد بسكب كميات كبيرة من النفط الكويتي بمياه الخليج العربي / تكونت سحابة دخانية كثيفة ناتجة عن احتراق آبار النفط الكويتية لمدة سبعة أشهر / تساقط الأمطار الحمضية في مياه الخليج العربي.

(درجة)

٢- يشغل العالم الإسلامي موقعا جغرافيا مهماً على خريطة العالم. ص ٥١

حيث تتواجد دول العالم الإسلامي ضمن أربع قارات، يمتد في القارات القديمة (آسيا، أفريقيا، أوروبا) بالإضافة إلى أمريكا الجنوبية، وبذلك يتصل ببقية العالم بسهولة.

(درجة)

٣- للمسلمين جهود كبيرة في الزراعة. ص ٢٦

شق القنوات المائية والترع / إقامة السدود / تنظيم وسائل الري.

٤- هناك عدة عوامل أدت إلى ازدهار العلم وظهور العلماء في الحضارة الإسلامية. ص ٣٧ (يكتفى بنقطتين) (درجتين)

تشجيع العلماء ورعاية وتمويل القيادات السياسية لهم/ التنافس العلمي بين الدول الإسلامية / حركة التعريب والترجمة للكتب القديمة/ الرخاء الاقتصادي

(١ × ٦ = ٦)

ج- فرق بين كل مما يلي:

الجبيل ص ٥٣	التل ص ٥٣
هو كل قمة لا يقل ارتفاعها عن ١٠٠٠ متر تقريباً. (درجة)	يشبه الجبل ولكن ارتفاعه أقل من ١٠٠٠ متر. (درجة)

الخراج ص ٢٨	الجزية ص ٢٩
ضريبة الأرض الزراعية التي تخرج مبلغاً مالياً معيناً من ناتج المحصول الزراعي. (درجة)	مبلغ مالي يدفعه الرجال غير المسلمين من (أهل الذمة) ممن هم قادرون على حمل السلاح نظير حماية الدولة لهم. (درجة)

النفايات ص ٩١	التدوير ص ٩١
هي أي مواد زائدة وغير مرغوبة من مخلفات البيئة أو الفضلات. (درجة)	إعادة استخدام المخلفات لإنتاج منتجات أخرى أقل جودة من المنتج الأصلي. (درجة)

السؤال الرابع: يتكون من (أ - ب - ج)

أ - عرف المفاهيم التالية:

(١ × ٤ = ٤)

(درجة)

١- الحضارة: ص ١٨

﴿ هي كل ما يطرأ على المجتمع من تقدم وتطور ورقي سواء في الجانب المادي أو الجانب الروحي.

٢- التنمية المستدامة: ص ٩٣

(درجة)

﴿ برامج تحسين نوعية الحياة ولا تتحقق إلا بمشاركة جميع المواطنين من أجل تحسين نوعية الحياة وفق بيئة صحية آمنة ومستقرة ومتقدمة.

٣- التكامل الاقتصادي: ص ١٠٠

(درجة)

﴿ عملية اقتصادية واجتماعية يتم بموجبها إزالة جميع الحواجز بين الوحدات المختلفة وتؤدي إلى تحقيق تكافؤ الفرص أمام جميع عناصر الإنتاج في دول التكامل.

٤- الجوت: ص ٧٣

(درجة)

﴿ نبات ينمو في المناطق الإستوائية والموسمية، تؤخذ أغصانه وتوضع تحت الماء وتطمر بالطين، وبعد أيام تستخرج وتغزل ويصنع منها الحبال والأحذية والحقائب والأقمشة الخشنة.

ب - أكتب فيما يلي مما درست:

(٢ × ٣ = ٦)

(درجتين) (يكتفى بنقطتين)

١- أسس الحضارة الإسلامية: ص ٢٠

﴿ الدين الإسلامي / اللغة العربية / الحضارات الأخرى.

٢- أهم العوامل التي ساعدت على زيادة الإنتاج الزراعي في دول العالم الإسلامي: ص ٧٢ (يكتفى بنقطتين) (درجتين)

﴿ التربة الخصبة / المناخ / وجود البحيرات والأنهار والآبار / سقوط الأمطار / كثرة السكان والأيدي العاملة.

٣- أسباب الإدمان: ص ١٢٦

(درجتين) (يكتفى بنقطتين)

﴿ ضعف الوازع الديني وانحدار القيم الأخلاقية / ضعف الرقابة من الأسرة على الفرد / رفقاء السوء / التقليد الأعمى واستيراد قيم جديدة غريبة على مجتمعاتنا/ انتشار التدخين بين المتعلمين في المدارس / قضاء أوقات الفراغ في أمور تافهة لا تعود على الشباب بالنفع.

ج - اقرأ الفقرة التالية ثم أجب عما يليها من أسئلة:

(١ × ٥ = ٥)

حرصت دولة الكويت منذ استقلالها وعبر تاريخها على تقديم المساعدات الإنسانية لكافة دول العالم عبر نشاطات وإسهامات متميزة كإنشاء الصندوق الكويتي للتنمية في عام ١٩٦١م ويعد هذا الصندوق أول مؤسسة تنموية في المنطقة: ص ١٥٨، ص ١٥٩.

١- ضع عنواناً مناسباً للفقرة السابقة.

(درجة)

﴿ ما يراه المصحح مناسباً

٢- ما هو العام الذي تأسس فيه الصندوق الكويتي للتنمية؟

(درجة)

﴿ ١٩٦١م.

٣- أذكر أهداف الصندوق الكويتي للتنمية.

(درجتان) يكتفى بنقطتين

﴿ تقديم القروض الميسرة للدول المحتاجة / تقديم المنح / الإسهام في برامج التنمية.

٤- نطاق عمل الصندوق الكويتي للتنمية.

﴿ المساعدات الزراعية / المساعدات الصناعية / المساعدات الصحية / المساعدات التعليمية. يكتفى بنقطة (درجة)

انتهت الأسئلة

