

مدرستي معكم خطوة بخطوة للنجاح والتفوق



مدرستي

الكويتية

حمل التطبيق



مدرستي



الكويتية



اضغط هنا





وزارة التربية
الإدارة العامة لمنطقة الفروانية التعليمية
التوجيه الفني للاجتماعيات

امتحان الفترة الدراسية الثانية
الصف الثامن
(نموذج الإجابة)
العام الدراسي: ٢٠٢١ م / ٢٠٢٢ م

المقرر / دولة الكويت والعالم الإسلامي
الزمن : ساعة ونصف
عدد الأوراق: ٦

السؤال الأول :- يتكون من (١ - ب - ج - د - هـ)

(أ) اختر البديل المناسب من بين البدائل التالية لكل عبارة :-

١- ترجع فكرة إنشاء الصندوق الكويتي للتنمية إلى الشيخ :- ص ١٥٩

صباح الأحمد الصباح

جابر الأحمد الصباح

عبدالله السالم الصباح

مبارك الصباح

٢- أي مواد زائدة غير مرغوب فيها من مخلفات البيئة أو الفضلات : ص ٩١

العولمة

الضوضاء

التدوير

النفائيات

٣- عقد المؤتمر الخامس لمنظمة التعاون الإسلامية في عام ١٩٨٧م في دولة إسلامية : ص ١٤٣

مصر

الكويت

السعودية

المغرب

٤- عقد مؤتمر عقير لترسيم الحدود بين دولة الكويت و دولة العراق و المملكة العربية السعودية في عام ص ١٠٦

١٩٢٤م

١٩٢٣م

١٩٢٢م

١٩٢١م

٥ - نسبة السكان الذين يعيشون تحت خط الفقر بالنسبة لسكان العالم الإسلامي حوالي : ص ٩٧

%٣٨

%٣٧

%٣٦

%٣٥

٦- أنشأت منظمة التعاون الإسلامي في ٢٥ سبتمبر عام : ص ١٣٨

١٩٨٩م

١٩٧٩م

١٩٦٩م

١٩٥٩م

٧- الغاز الأول المسؤول عن ظاهرة الاحتباس الحراري : ص ٩٠

النتروجين

الأكسجين

أول أكسيد الكربون

ثاني أكسيد الكربون

٨- تأسست جمعية الهلال الأحمر بدولة الكويت في عام : ص ١٥٩

١٩٨٨م

١٩٧٧م

١٩٦٦م

١٩٥٥م



(ب) أكمل العبارات التالية بما يناسبها :-

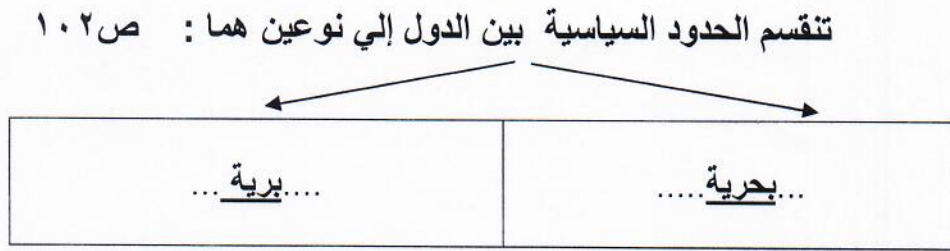
- ١- تم إنشاء شرطة البيئة في دولة الكويت عام٢٠١٥مص ٨٢
- ٢- زحف رمال الصحراء علي المناطق الجافة و شبه الجافة يسمى ...التصحّر.... ص ٨٨
- ٣- تم الاعتداء علي مركز الصامطة الحدودي في عام ..١٩٧٣م..... ص ١٠٣
- ٤- عانت موريتانيا عام ٢٠١٧م من شدة التلوث يسمى.....المائي..... ص ٨٥
- ٥- الدولة التي يكون فيها نسبة المسلمين ٥٠% أو أكثر تسمى ...الدولة الإسلامية.. ص ١٣٧
- ٦- أعلى الدول الإسلامية في معدل محو الأمية دولة تسمى ..كازاخستان... ص ١٢٩
- ٧- مؤتمر ملوك و أمراء ورؤساء الدول و الحكومات يعقد مرة كل ثلاث سنوات يسمى..القمة الإسلامية..ص ١٤١
- ٨- وقعت دولة الكويت اتفاقية الحماية عام ١٨٩٩م في عهد الشيخ مبارك الصباح .. ص ١٠٦

(ج) أختَر من القائمة (أ) ما يناسبها من القائمة (ب):-

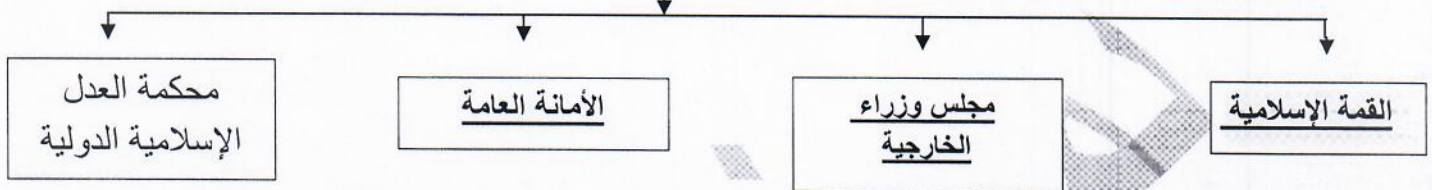
م	القائمة (أ)	الرقم المناسب	القائمة (أ)
١	تحررت دولة الكويت في عام	٣	٦ نوفمبر ١٩٩١م ص ١٢٠
٢	نظام عالمي جديد يقوم علي الإبداع و التطور التقني و التكنولوجي	٥	التكامل الاقتصادي ص ١٠٠
٣	تم إخماد آخر بئر نفطي مشتعل في دولة الكويت في تاريخ	==	الصناعة
٤	بدأت حرب عاصفة الصحراء في عام	١	٢٦ فبراير ١٩٩١م ص ١٠٤
٥	عملية اقتصادية و اجتماعية يتم بموجبها إزالة جميع الحواجز بين الوحدات المختلفة	٢	العولمة ص ٩٩
٦		٤	١٧ يناير عام ١٩٩١م ص ١٢٢



د) أكمل المخططات السهمية التالية :-



أجهزة منظمة التعاون الإسلامي (الهيكل التنظيمي) ص ١٤١



هـ) لاحظ الصور التالية ثم أجب :-



(أ)

* الصورة (أ) تمثل شعار الهيئة الخيرية الإسلامية العالمية تأسست في عام ... ١٩٨٤ م ... ص ١٦٠



(ب)

* الصورة (ب) تمثل شعار الصندوق الكويتي للتنمية تأسس في عام ... ١٩٦١ م ... ص ١٥٩



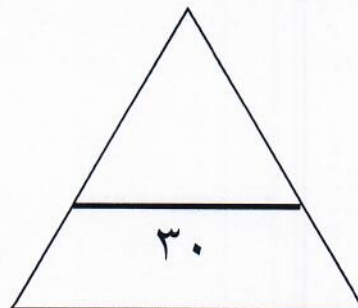
(ج)

* الصورة (ج) تمثل شعار منظمة إسلامية تسمى منظمة التعاون الإسلامي ص ١٤٥



(د)

* الصورة (د) تمثل شعار ... التدوير ... ص ٩١



السؤال الثاني :- يتكون من (أ - ب)

(أ) عرف المفاهيم التالية:- (٦ درجات)

- ١- التلوث البيئي: ص ٨١
أي تغير غير مرغوب به في الخواص الطبيعية أو الكيميائية أو البيولوجية للبيئة المحيطة.
- ٢- الحدود السياسية: ص ١٠٢
..هي خطوط حددت بواسطة الإنسان ورسمت حتى تفصل بين سيادة دولة و دولة أخرى ..
- ٣- الانفجار السكاني : ص ٩٥
....هو الزيادة الكبيرة في أعداد السكان
- ٤- البلدان النامية : ص ١٠٠
.. هي الدول التي مازالت أقل تقدما في ميادين الاقتصاد و العلم و التكنولوجيا ..
- ٥- التنمية المستدامة : ص ٩٣
برامج تحسين نوعية الحياة و لا تتحقق إلا بمشاركة جميع المواطنين من أجل تحسين نوعية الحياة وفق بيئة صحية آمنة و مستقرة و متقدمة
- ٦- الاحتباس الحراري ص ٩٠
ارتفاع درجات حرارة الأرض عن معدلها الطبيعي مما يؤدي إلي تغيرات مناخية .



(ب) لاحظ الشكل التالي ثم أجب:- (٤ درجات) ص ١٦٠

- ١- أ- في أي عام تأسست هذه الهيئة .
..... ١٩٨٢م (درجة)
- ج- أكمل :- تخضع هذه الهيئة لإشراف وزارة ..الأوقاف و الشؤون الإسلامية.. (درجة)
- ٢- علل لما يأتي :- إنشاء هذه الهيئة الخيرية في دولة الكويت ؟ (درجتان)
* إحياء ركن من أركان الإسلام و تيسير أدائه .
* جمع و توزيع الزكاة بأفضل وأجود الطرق المشروعة .

السؤال الثالث :- يتكون من (أ - ب)

(أ) قارن بين التلوث الضوضائي و تلوث التربة حسب الجدول التالي: (٦ درجات)

وجه المقارنة	التلوث الضوضائي ص ٨٧	تلوث التربة ص ٨٨
الأسباب	١. وسائل النقل السيارات بأنواعها المختلفة و الطائرات و القطارات	١. الإفراط في استخدام المبيدات الحشرية علي المزروعات النباتية .
	٢. عمليات البناء و الهدم و أصوات آلات الحفر	٢. المخلفات الصناعية و الكيميائية والبشرية
		٣. الأمطار الحمضية
النتائج	١- تؤدي إلي ضرر خطير في الجهاز السمعي *التوتر العصبي لدى الإنسان	١-الاخلال بالتوازن البيئي *ضعف عمليات البناء الضوئي *انحسار الغطاء النباتي

(ب) علل لما يأتي: (٤ درجات)

ص ٩٥

١- ظهور المشكلة السكانية في العالم الإسلامي .

نتيجة لعدم التوازن بين عدد السكان و الموارد و الخدمات.

ص ٩٨

٢- انتشار الفقر في الدول الإسلامية .

عدم توفر فرص عمل - ضعف اقتصاد الدولة - انتشار البطالة - تضخم أسعار السلع و الخدمات - قلة التبرعات و الصدقات في المجتمع.

ص ٨٥

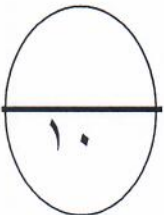
٣- نفوق كثير من الأسماك في جون الكويت عام ٢٠٠١ م .

بسبب ضخ مياه المجاري في جون الكويت وتكررت هذه الظاهرة عدة سنوات كما حدث آخرها في عام ٢٠١٧م

ص ١٥٩

٤- إنشاء الصندوق الكويتي للتنمية الاقتصادية .

تقديم القروض الميسرة للدول المحتاجة - تقديم المنح على سبيل المثال المعونات الفنية - الإسهام في برامج التنمية



السؤال الرابع :- يتكون من (أ - ب)

(أ) فرق بين كلاً من : (٤ درجات)

الأمية عند البلدان المتقدمة ص ١٢٨	الأمية عند البلدان النامية ص ١٢٨
الشخص الذي لم يصل إلي المستوى التعليمي الذي يجعله يفهم التعليمات الكتابية في موضوعات التقنية في عمله	هو الإنسان الذي بلغ الثانية عشر من عمره و لم يتعلم مبادئ القراءة و الكتابة و الحساب بلغة ما
الدخل القومي ص ١٠٠	الميزان التجاري ص ١٠٠
مجموع الدخل المكتسب في بلد ما خلال فترة زمنية معينة	الفرق بين قيمة الصادرات وقيمة و الواردات بالدولة

(ب) عدد ما يلي (مكثفياً بنقطتين) : (٦ درجات)

١- اهم قرارات القمة الخامسة لمنظمة التعاون الاسلامي: ص ١٤٣

- دعم القضية الفلسطينية.
- الحرص التام على استقلال ووحدة اراضيه . ورفض الاحتلال الاسرائيلي للجزء الجنوبي منه .
- ضرورة الوقف الفوري لكل عمليات الحربية بين الجمهورية العراقية وجمهورية إيران الإسلامية.
- الموافقة على مشروع النظام الأساسي لمحكمة العدل الإسلامية الدولية.

ص ١٢٦

٢- أسباب الإدمان في الدول الإسلامية :

- ضعف الوازع الديني و انحدار القيم الأخلاقية - ضعف الرقابة من الأسرة علي الفرد - رفاق السوء - التقليد الأعمى و استيراد قيم جديدة غريبة علي مجتمعاتنا - انتشار التدخين بين المتعلمين في المدارس - قضاء أوقات الفراغ في أمور تافهة لا تعود علي الشباب بالنفع

ص ٨٦

٣- الآثار المترتبة علي التلوث المائي:

- هلاك الكائنات البحرية الحيوانية و النباتية - فقدان السواحل لقيمتها الاقتصادية و السياحية
- التأثير علي صحة الإنسان لاعتماده علي الغذاء البحري



(انتهت الأسئلة)

