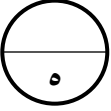




وزارة التربية  
الإدارة العامة لمنطقة حولي التعليمية  
التوجيه الفني للرياضيات

اختبار التحصيلي ( ٢ ) التجريبي لمادة الرياضيات  
للفصل الثالث  
الفصل الدراسي الثاني  
العام الدراسي ٢٠٢٢-٢٠٢٣ م

الاسم : .....  
الصف : ٣ / .....  
٢٠



السؤال الأول :

أ ) أكتب الوقت بطريقتين مختلفتين :



\_\_\_\_\_

\_\_\_\_\_

\_\_\_\_\_

\_\_\_\_\_

ب ) اكتب ( ق . ظ ) أو ( ب . ظ ) :

الذهاب للمدرسة

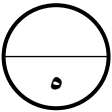
تناول طعام العشاء

\_\_\_\_\_

\_\_\_\_\_

السؤال الثاني :

أ ) أوجد الناتج :



$$\begin{array}{r} 2 \overline{) 829} \\ \underline{16} \phantom{0} \\ 169 \\ \underline{160} \\ 9 \end{array}$$

ب ) قس باستخدام المسطرة :



طول المسمار = \_\_\_\_\_ سم

ج ) اكتب الوزن :



\_\_\_\_\_ جم

السؤال الثالث :

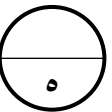
أ ) أكتب رمز العلاقة المناسب ( < أو > أو = ) :

ب ) أكمل :

١٤ يوم = \_\_\_\_\_ أسبوع

١ سنة = \_\_\_\_\_ شهرا

١٢ دسم ○ ١٢ سم



(ب) ما قيمة التالي :

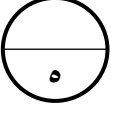


٥ قطع من

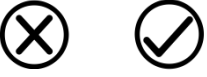


٣ قطع من

السؤال الرابع :



أ ( ظلل إذا كانت العبارة صحيحة ، و ظلل (X) إذا كانت العبارة غير صحيحة .



ب ( اختر الإجابة الصحيحة بوضع (✓) :

(١ حوط العدد الزوجي :

١٣١



٤٣



٥٤



( ٢ الساعة الآن ٥٧ : ٢ بعد كم دقيقة ستشير الساعة إلى تمام ٠٠ : ٣

٣ دقائق



٢ دقيقة



١ دقيقة



( ٣ الأداة المستخدمة لقياس السعة

