



وزارة التربية

الادارة العامة لمنطقة حولي التعليمية

التوجيه الفني للرياضيات

نموذج إجابة الاختبار التحصيلي (١) للصف الثاني

الفصل الدراسي الثاني

العام الدراسي: ٢٠٢٣ / ٢٠٢٤م

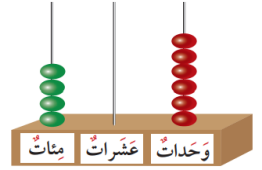
الدرجة النهائية



٢٠

الاسم: \_\_\_\_\_ الصف: \_\_\_\_\_

السؤال الأول: (أ) أكتب رمز العدد:



٤٠٦

خمسمئة وثلاثون

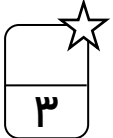
٥٣٠

(ب) أكمل:

$$..... + ..... + ٦ = ٣٩٦$$


٣٠٠

٩٠



٣

(ج) اكمل:

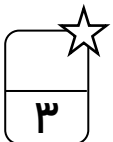


$$٥ = ٢ \div ١٠$$

قسم إلى مجموعات متساوية . اكمل:




$$٢ = ٣ \div ٦$$



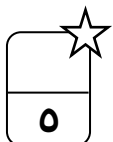

٣

السؤال الثاني:

(أ) اكمل الرسم لتحصل على مجموعات متساوية:



(ب) حوط ما يمثل النصف:



٥

السؤال الثالث:

(أ) اكتب الوقت الذي تشير إليه الساعة

بطريقتين مختلفتين:

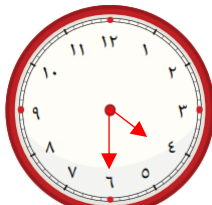


الساعة: العاشرة والربع

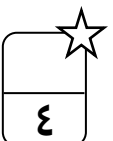
١٠ : ١٥

(ب) ارسم عقري الساعة اللذين يدلان

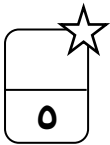
على الوقت:



الساعة الرابعة والنصف




٤



السؤال الرابع: اختر الإجابة الصحيحة بوضع

(١) ١٢ سمكة وزعت على ٣ أحواض بالتساوي. فكم عدد السمك في كل حوض؟

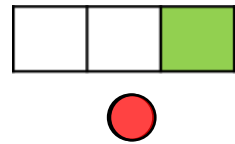
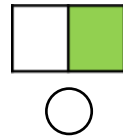
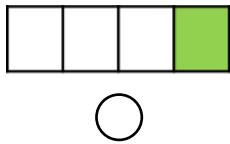


١٢  
☐

٤  
☒

٣  
☐

(٢) الشكل الذي يمثل الثلث هو:



☐

☐

☒

(٣) عدد أيام الأسبوع هو:

٧  
☒

٦  
☐

٥  
☐

(٤) القيمة المكانية للرقم الذي تحته خط ٢٩٧ هي:

٩٠٠  
☐

٩٠  
☒

٩  
☐

(٥) الكلمة المناسبة التي تمثل الشكل هي:



الثلث  
☐

الربع  
☐

النصف  
☒

((انتهت الأسئلة))