



وزارة التربية

الادارة العامة لمنطقة حولي التعليمية

التوجيه الفني للرياضيات

الاختبار التحصيلي (١) للصف الثاني

الفصل الدراسي الثاني

العام الدراسي: ٢٠٢٣ / ٢٠٢٤م

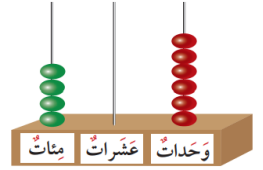
الدرجة النهائية



٢٠

الاسم: _____ الصف: _____

السؤال الأول: (أ) أكتب رمز العدد:



خمسمئة وثلاثون

(ب) أكمل:

$$..... + + 6 = 396$$

قسم إلى مجموعات متساوية . اكمل:



$$_____ = _____ \div _____$$


(ج) اكمل:




$$5 = 2 \div \square$$

السؤال الثاني:

(أ) اكمل الرسم لتحصل على مجموعات متساوية:



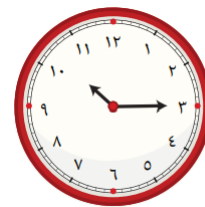
(ب) حوط ما يمثل النصف:



السؤال الثالث:

(أ) اكتب الوقت الذي تشير إليه الساعة

بطريقتين مختلفتين:

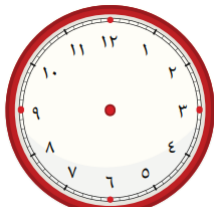


الساعة:

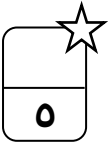
:

(ب) ارسم عقري الساعة اللذين يدلان

على الوقت:



الساعة الرابعة والنصف



السؤال الرابع: اختر الإجابة الصحيحة بوضع

(١) ١٢ سمكة وزعت على ٣ أحواض بالتساوي. فكم عدد السمك في كل حوض؟



١٢




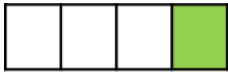
٤



٣



(٢) الشكل الذي يمثل الثلث هو:



(٣) عدد أيام الأسبوع هو:

٧



٦



٥



(٤) القيمة المكانية للرقم الذي تحته خط ٢٩٧ هي:

٩٠٠



٩٠



٩



(٥) الكلمة المناسبة التي تمثل الشكل هي:



الثلث



الربع



النصف



((انتهت الأسئلة))