





وزارة التربية  
التوجيه العام للاجتماعيات

# بنك اسئلة لمقرر تاريخ دولة الكويت الصف العاشر

الفصل الدراسي الثاني  
العام الدراسي ٢٠٢٣ / ٢٠٢٤ م

إشراف الموجه الأول  
أ/ ليلى المطيري

إعداد التوجيه الفنية للاجتماعيات  
د. محمد المهنا  
أ/ سعاد الخالدي



الاعتراف العام  
الموجه الفني العام للاجتماعيات بالإنابة  
أ/ محمد علي العتيبي

يقر  
محمد علي العتيبي  
الموجه الفني العام للاجتماعيات  
٢٠٢٤/٢٠٢٣  
وزارة التربية  
التوجيه الفني العام للاجتماعيات

المرحلة الثانوية

الطبعة الثانية



## المحتوى

### الصفحة

### الفصل الخامس

الأوضاع الداخلية والخارجية .....	١٠٩ - ١١١
في دولة الكويت ١٩١٥ - ١٩٥٠	

### الفصل السادس

استقلال دولة الكويت واستكمال .....	١١٧ - ١٣٣
أدوات السيادة والتحديث	

### الفصل السابع

العلاقات الكويتية العراقية .....	١٣٩ - ١٥٣
----------------------------------	-----------

### الفصل الثامن

كويت المستقبل	١٥٧ - ١٧٣
---------------	-----------

## السؤال الأول: أكمل العبارات التالية:

- ١- حاكم الكويت الذي عاصر الحرب العالمية الأولى ١٩١٤ - ١٩١٨ م يسمى جابر بن مبارك الصباح. ص ١٠٩
- ٢- عقدت بريطانيا مؤتمراً في الكويت عام ١٩١٦ م في عهد الشيخ جابر بن مبارك الصباح. ص ١٠٩
- ٣- المقيم السياسي البريطاني الذي ترأس مؤتمر الكويت عام ١٩١٦ م اسمه برسي كوكس. ص ١٠٩
- ٤- العام الذي وقعت فيه معركة حمض في مايو ١٩٢٠ م. ص ١١١
- ٥- الشيخ الذي وقعت في عهده معركة الجهراء في أكتوبر عام ١٩٢٠ م اسمه سالم بن مبارك. ص ١١١
- ٦- العام الذي انهارت فيه تجارة اللؤلؤ ١٩٢٨ م. ص ١١٣
- ٧- الوكيل السياسي البريطاني بالكويت عام ١٩٢٠ م اسمه مالكولم. ص ١١١
- ٨- اكدت الاتفاقية العثمانية الإنجليزية على حدود دولة الكويت عام ١٩١٣ م. ص ١١١
- ٩- العام الذي شيدت فيه المدرسة الاحمدية في الكويت ١٩٢١ م. ص ١١٢
- ١٠- الحقل النفطي الذي أنتج النفط بكميات تجارية عام ١٩٣٨ م يسمى برقان. ص ١١٣
- ١١- الخط الزمني المقابل يمثل فترة حكم أحد حكام دولة الكويت ١٩٥٠ - ١٩٦٥ اسمة عبد الله السالم. ص ١١٧
- ١٢- العام الذي استقلت فيه دولة الكويت ١٩٦١ م. ص ١١٧
- ١٣- استبدلت اتفاقية الحماية بين الكويت وبريطانيا باتفاقية أخرى عرفت باسم الصداقة والتشاور. ص ١١٧
- ١٤- العام الذي تم فيه عقد إتفاقية الحماية بين الكويت وبريطانيا ١٨٩٩ م. ص ١١٧
- ١٥- الشيخ الذي دعا إلى إنتخاب المجلس التأسيسي أسمه عبد الله السالم. ص ١١٨
- ١٦- يبلغ عدد مواد الدستور ١٨٣ مادة. ص ١١٩
- ١٧- الشيخ الذي تم اختياره قائد للعمل الإنساني يسمى صباح الأحمد الصباح. ص ١٢٧
- ١٨- العام الذي قام فيه الشيخ صباح الأحمد الصباح برفع علم دولة الكويت كأحد دول منظمة الأمم المتحدة ١٩٦٣ / مايو / ١٤ م. ص ١٣٠
- ١٩- تشغل دولة الكويت في منظمة هيئة الأمم المتحدة العضوية رقم ١١١. ص ١٣٠
- ٢٠- العام الذي تولي فيه حضرة صاحب السمو الشيخ نواف الأحمد الصباح الحكم في ٣٠ سبتمبر ٢٠٢٠ م. ص ١٣٣
- ٢١- الشيخ الذي ترأس وفد دولة الكويت عام ٢٠٢١ م في إجتماع الدورة الحادية والأربعين للمجلس الأعلى لمجلس التعاون الخليجي في محافظة العلا في المملكة العربية السعودية أسمه نواف الأحمد الصباح. ص ١٣٥
- ٢٢- تم اختيار الملك فيصل بن الحسين كأول ملك على مملكة العراق الهاشمية في عام ١٩٢١ م. ص ١٤٠
- ٢٣- اعترف العراق رسمياً بحدوده مع الكويت في عام ١٩٣٢ م. ص ١٤٠
- ٢٤- الإذاعة التي استخدمها الملك غازي بن فيصل لإعلان ادعائه بضم الكويت للعراق عام ١٩٣٨ م تسمى قصر الزهور. ص ١٤٠

- ٢٥- العام الذي تفكك فيه الإتحاد الهاشمي وتم فيه اعلان العراق الجمهوري ١٩٥٨م. ص ١٤١
- ٢٦- هاجمت القوات العراقية عام ١٩٧٣م المركز الحدودي التابع لدولة الكويت يسمى مركز الصامته. ص ١٤٢
- ٢٧- حدثت أزمة الصامته ١٩٧٣م في عهد الحاكم الشيخ صباح السالم الصباح. ص ١٤٢
- ٢٨- القرار الذي أصدره مجلس الأمن الدولي والذي ينص على الانسحاب الفوري الغير مشروط للنظام العراقي من دولة الكويت يحمل الرقم ٦٦٠. ص ١٤٦
- ٢٩- العام الذي أقيم فيه مؤتمر جده الشعبي ١٣ أكتوبر ١٩٩٠م. ص ١٤٨
- ٣٠- أحد نماذج المقاومة الكويتية المشرفة قتل فيها ١٢ شهيداً كويتياً تسمى موقعة بيت القرين. ص ١٥٠
- ٣١- قائد موقعة بيت القرين ١٩٩١م يسمى سيد هادي سيد محمد علوي. ص ١٥٠
- ٣٢- الائتلاف العسكري لحرب تحرير الكويت ضد العراق بقيادة دولة تسمى الولايات المتحدة الأمريكية. ص ١٥١
- ٣٣- عدد الدول التي شكلت ائتلاف عسكري ضد العراق ٣٢ دولة. ص ١٥١
- ٣٤- يطلق على الحرب البرية لتحرير دولة الكويت عاصفة الصحراء. ص ١٥١
- ٣٥- العام الذي تم فيه تحرير دولة الكويت من الاحتلال العراقي ٢٦ فبراير ١٩٩١م. ص ١٥٢
- ٣٦- قام العراق قبل الانسحاب بحرق عدد من الابار النفطية تقدر بـ ٧٣٧ بئراً. ص ١٥٣
- ٣٧- القرار الذي أصدره مجلس الأمن الدولي والذي ينص على تخطيط الحدود بين دولة الكويت والعراق لعام ١٩٩٣م يحمل الرقم ٨٣٣. ص ١٥٣
- ٣٨- استمرت الآبار النفطية مشتعلة لمدة تسعة أشهر. ص ١٥٣
- ٣٩- خطة التنمية الوطنية منبثقة من تصور حضرة صاحب السمو أمير البلاد الشيخ صباح الأحمد الجابر الصباح لرؤية دولة الكويت بحلول عام ٢٠٣٥م. ص ١٥٧
- ٤٠- تبلغ الطاقة الاستيعابية لمستشفى الشيخ جابر حوالي ١٢٠٠ سرير. ص ١٦٣
- ٤١- أول مستشفى في الكويت يخصص فيه قسم للحوادث والكوارث يسمى مستشفى الشيخ جابر. ص ١٦٣
- أكبر مستشفى في الشرق الأوسط حيث يحتل المرتبة السادسة عالمياً من حيث المساحة والطاقة الاستيعابية يسمى مستشفى الشيخ جابر. ص ١٦٣
- ٤٢- معلم ثقافي وتحفة معمارية استغرق تصميمه وإنجازه ٢٢ شهراً من العمارة الإسلامية يسمى مركز الشيخ جابر الاحمد الثقافي ( دار الأوبرا). ص ١٦٤
- ٤٣- أكبر مشروع إسكاني في تاريخ دولة الكويت هو مدينة جنوب المطلاع. ص ١٦٦
- ٤٤- جامعة تبلغ مساحتها ٦ ملايين متر مربع تعد الجامعة الأكبر في منطقة الشرق الأوسط تسمى (الشدادية). ص ١٦٦
- ٤٥- تقع مدينة صباح السالم الجامعية في منطقة تسمى الشدادية. ص ١٦٦
- ٤٦- أطول جسر بحري في العالم حيث يبلغ من الطول ٣٧,٥ كيلو متر يسمى جسر الشيخ جابر. ص ١٦٧
- ٤٧- أكبر مصفاة في العالم تبنى بمرحلة واحدة وستنتج ٦١٥,٠٠٠ برميل يومياً من الوقود تسمى مصفاة الزور. ص ١٦٧

- ٤٨- تبلغ طاقة التكرير الكويتية يومياً ١,٤ مليون برميل. ص ١٦٧
- ٤٩- أول وأكبر مشروع يشيد من قبل القطاع الخاص الكويتي يسمى مدينة صباح الأحمد البحرية. ص ١٦٨
- ٥٠- مشروع معالجة النفايات الصلبة وحماية البيئة والموارد البرية يقع في منطقة تسمى كبد. ص ١٦٨
- ٥١- تقع مدينة صباح الأحمد البحرية في منطقة تسمى الخيران. ص ١٦٨
- ٥٢- مشروع يساهم في انفتاح البلاد على العالم تجارياً واقتصادياً وتحقيق رغبة سمو أمير البلاد في تحول دولة الكويت إلى مركز تجاري ومالي عالمي يسمى مشروع ميناء مبارك الكبير. ص ١٦٩
- ٥٣- يشكل مشروع ميناء مبارك الكبير البحري خطوة مهمة لإحياء طريق يسمى طريق الحرير. ص ١٦٩
- ٥٤- أحد أكبر الطرق متعددة الأدوار في العالم على طول ١٧,٧ كم هو مشروع طريق الجهراء. ص ١٦٩
- ٥٥- بدأ العمل في مشروع طريق الجهراء ٢٠١١م وتم الانتهاء منه عام ٢٠١٦م. ص ١٦٩
- ٥٦- مشروع شبكة متكاملة يربط بين مدينة الكويت ومطار الكويت الدولي والموانئ البحرية ودول مجلس التعاون الخليجي يسمى مشروع شبكة السكك الحديدية. ص ١٧٠

## السؤال الثاني :

### - اختر البديل المناسب من بين البدائل التي تلي كل عبارة فيما يلي:-

- ١- أمير نجد الذي تمت دعوته لحضور المؤتمر الذي عقد في الكويت عام ١٩١٦م: ص ١٠٩
- عبد الرحمن آل سعود - عبد العزيز آل سعود - عبد الله آل سعود - تركي آل سعود
- ٢- الحاكم الذي قام بإلغاء الضرائب على الصادرات الشيخ: ص ١١٠
- جابر بن مبارك - سالم بن مبارك - أحمد الجابر الصباح - عبد الله السالم
- ٣- السور الذي تم بناءه في عهد الشيخ سالم بن مبارك الصباح: ص ١١١
- السور الأول - السور الثاني - السور الثالث - السور الرابع
- ٤- المجلس الذي تولي الاشراف على تأسيس المدارس والإنفاق عليها عام ١٩٣٦م: ص ١١٢
- مجلس الشورى - المجلس البلدي - المجلس التشريعي - مجلس المعارف
- ٥- العام الذي تأسس فيه أول مجلس بلدي في دولة الكويت: ص ١١٢
- ١٩٣٠ م - ١٩٣١م - ١٩٣٢م - ١٩٣٣م
- ٦- تصدير أول شحنة للنفط من ميناء الاحمدي عام: ص ١١٣
- ١٩٤٥م - ١٩٤٦م - ١٩٤٧م - ١٩٤٨م
- ٧- المادة الدستورية التي تنص على أن الدين الرسمي للدولة هو الإسلام: ص ١١٩
- الأولى - الثانية - الثالثة - الرابعة

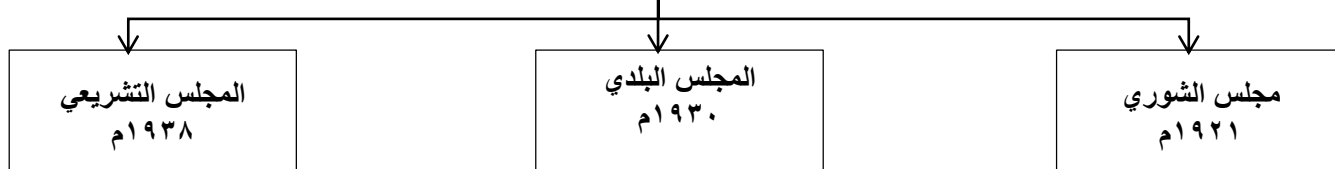
- ٨- الشيخ الذي تحررت دولة الكويت في عهدة من الغزو العراقي الغاشم عام ١٩٩١م: ص ١٢٣
- عبد الله السالم الصباح - صباح السالم الصباح - جابر الأحمد الصباح - صباح الأحمد الصباح ص ١٢٤
- ٩- العام الذي تم فيه إنشاء مجلس التعاون الخليجي هو: ص ١٢٤
- ١٩٨٠ م - ١٩٨١ م - ١٩٨٢ م - ١٩٨٣ م
- ١٠- الدولة التي دعمتها الكويت بعد تضررها من زلزال فان: ص ١٣٠
- بنجلادش - الصومال - الفلبين - تركيا
- ١١- أمير دولة الكويت الذي تم تكريمه ومنح شهادة عضوية الزمالة الفخرية من الجمعية المصرية للفكر المحاسبي الجديد في سبتمبر عام ٢٠٠٦ م: ص ١٣٥
- سعد العبدالله الصباح - جابر الأحمد الصباح - صباح الأحمد الصباح - نواف الأحمد الصباح
- ١٢- المركز الحدودي الكويتي الذي هاجمته القوات العراقية عام ١٩٧٣م. ص ١٤٢
- النويصيب - العبدلي - الصامتة - الجهراء
- ١٣- المقر الموقت للحكومة الكويتية في المملكة العربية السعودية في مدينه تسمى: ص ١٤٦
- جدة - الطائف - الدمام - مكة
- ١٤- أول قرار طالب فيه مجلس الأمن الدولي بالانسحاب العراقي الفوري غير المشروط من الكويت: ص ١٤٦
- ٦٦٠ - ٦٦١ - ٦٦٢ - ٦٦٣
- ١٥- بدأت معركة تحرير الكويت (عاصفة الصحراء ) في: ص ١٥١
- ١٧ أكتوبر ١٩٩١ م - ١٧ نوفمبر ١٩٩١ م - ١٧ ديسمبر ١٩٩١ م - ١٧ يناير ١٩٩١ م
- ١٦- أصدر مجلس الأمن قرار يؤكد التزام جميع الدول الأعضاء في منظمة الأمم المتحدة بسيادة دولة الكويت واستقلالها السياسي: ص ١٥٣
- ٦٨٥ - ٦٨٦ - ٦٨٧ - ٦٨٩

## السؤال الثالث:

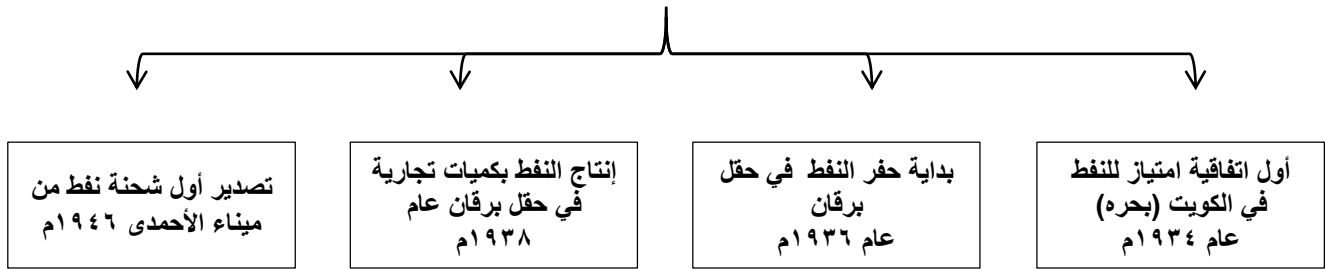
### عرف ما يلي:

١. المسابلة: هي حركة التجارة بين حضر الكويت وسكان البادية في الجزيرة العربية. ص ١١١
  ٢. مجلس المعارف: هو مجلس مهمته الإشراف على تأسيس المدارس والإنفاق عليها وتوجيهها، وتمت دعوة خمسين نائباً من أهالي الكويت لانتخاب أعضاء المجلس. ص ١١٢
  ٣. صندوق الكويت للتنمية: أول مؤسسة إنمائية في الشرق الأوسط تقوم بالمساهمة في تحقيق الجهود الإنمائية والاقتصادية للدول العربية والدول الأخرى النامية. ص ١٢٠
  ٤. الجوار الجغرافي: يقصد به المناطق المتقاربة من بعضها البعض وما لها من خصائص مشتركة حيث يفصل بينهما حدود سياسية أو طبيعية. ص ١٣٩
  ٥. أزمة الصامته: هو حادث هاجمت فيه القوات العراقية مركز الصامته الحدودي التابع لدولة الكويت في عام ١٩٧٣ م. ص ١٤٢
  ٦. التنمية المستدامة: عملية تطوير الأرض والمدن والمجتمعات والاعمال التجارية لتلبية احتياجات الحاضر دون المساس بقدرة الأجيال القادمة على تلبية حاجاتها. ص ١٥٥
  ٧. البيروقراطية: تطبيق القوانين بالقوة في المجتمعات المنظمة، حيث تعتمد على الإجراءات الموحدة وتوزيع المسؤوليات بطريقة هرمية. ص ١٦٠
  ٨. النفائيات الصلبة: مخلفات صلبة وشبة صلبة تنتج من مختلف القطاعات مثل (المواد البلاستيكية والأوراق والزجاج والأخشاب) وهي تعد من أخطر أنواع النفائيات على البيئة. ص ١٦٨
- السؤال الرابع: أكمل المخططات السهمية التالية:

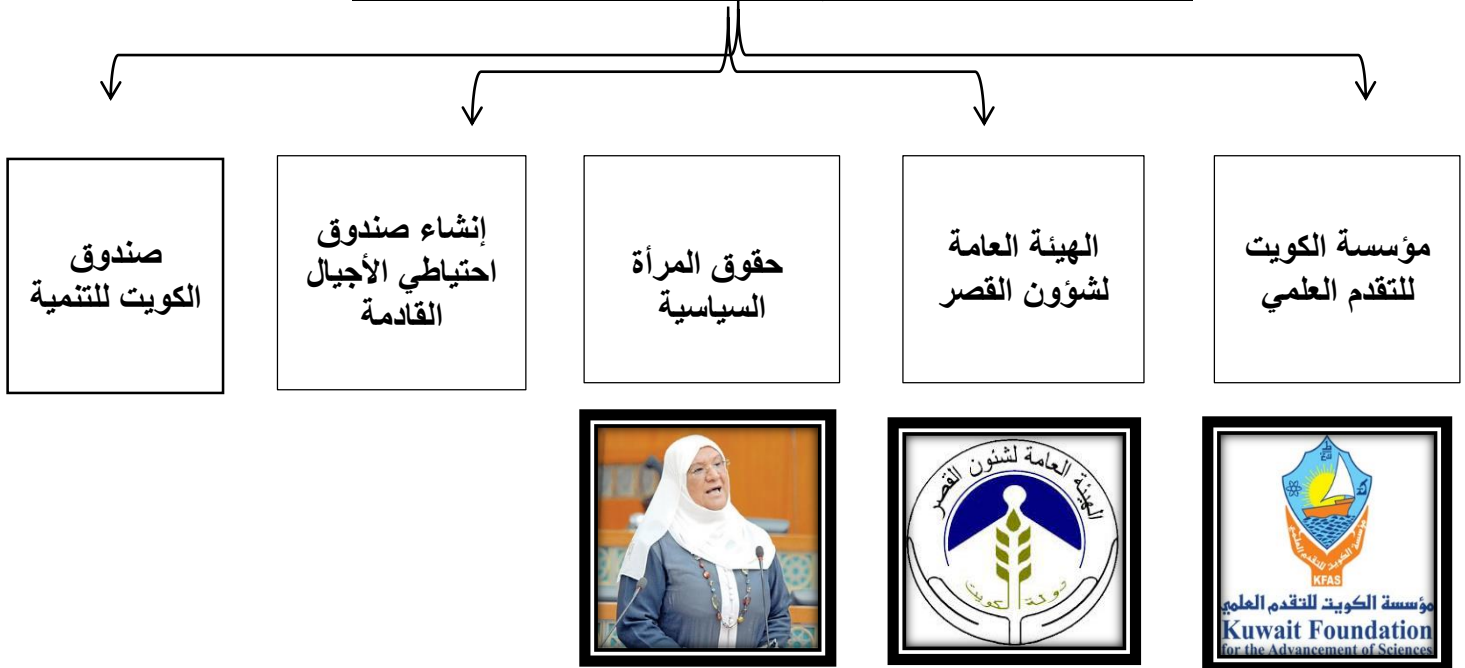
### ١- أهم المجالس في المجال السياسي ص ١١٢



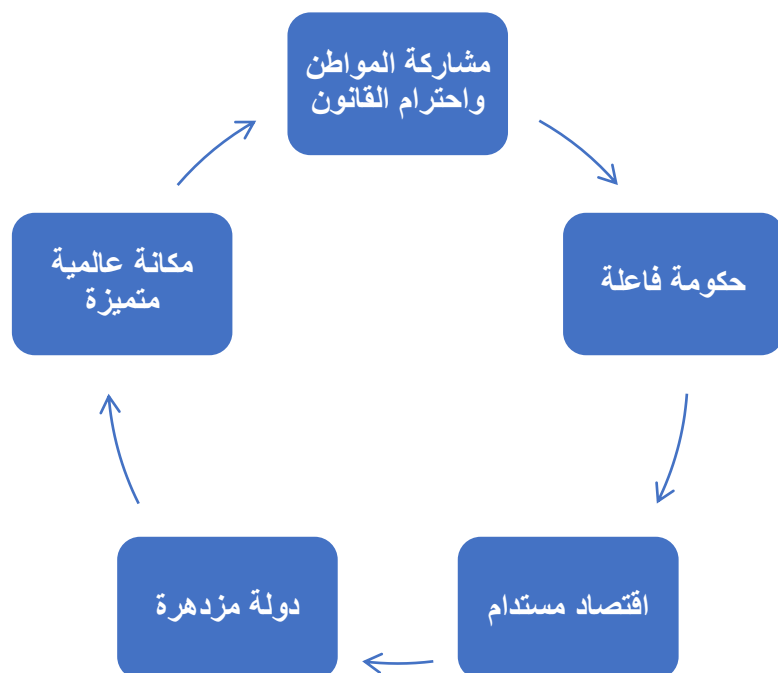
## ٢- بداية اكتشاف النفط وتصديره ص ١١٣



## ٣- أبرز الإنجازات الداخلية في عهد الشيخ جابر الأحمد ص ١٢٤



## ٤- اتجاهات واستراتيجيات رؤية دولة الكويت: ص ١٥٨





**السؤال الخامس: صوب ما تحته خط في العبارات التالية:**

١	بداية حفر النفط كان في حقل <u>بحره</u>	ص ١١٣	حقل برقان
٢	العام الذي انضمت فيه دولة الكويت لمنظمة هيئة الأمم المتحدة <u>١٩٦٠م</u>	ص ١١٧	١٩٦٣م
٣	أول ولي للعهد في تاريخ دولة الكويت هو الشيخ <u>أحمد الجابر</u>	ص ١٢١	صباح السالم الصباح
٤	أول وزير خارجية في تاريخ الكويت الشيخ <u>صباح الأحمد الصباح</u>	ص ١٢١	صباح السالم الصباح

**السؤال السادس: اختر للمجموعة (أ) ما يرتبط بها من المجموعة (ب) بوضع الرقم المناسب:**

م	المجموعة (أ)	الرقم المناسب	المجموعة (ب)
١	أبو الدستور		الشيخ أحمد الجابر الصباح
٢	أمير القلوب	١	الشيخ عبد الله السالم الصباح
٣	الأمير الوالد	٢	الشيخ جابر الأحمد الصباح
٤	قائد العمل الإنساني	٣	الشيخ سعد العبد الله الصباح
		٤	الشيخ صباح الأحمد الصباح

**السؤال السابع: فرق لكل مما يلي:**

١- السبب المعلن وغير المعلن لعقد بريطانيا مؤتمراً في عام ١٩١٦م مع بعض زعماء العرب : ص ١١٠

السبب المعلن	السبب غير المعلن
- وقوف الدول العربية بجانب بريطانيا ضد الدولة العثمانية في الحرب العالمية الأولى. - تحقيق وحدة الدول العربية	- ترسيخ الوجود الاستعماري البريطاني في الخليج العربي وشبه الجزيرة العربية.

## ٢- مواد الدستور:

ص ١١٩

نص المادة الأولى في الدستور	نص المادة الثانية في الدستور	نص المادة الرابعة في الدستور
- أن الكويت دولة عربية ذات سيادة تامة، وشعب الكويت جزء من الأمة العربية ولغتها الرسمية هي اللغة العربية	- أن الدين الرسمي للدولة هو الإسلام، وأن الشريعة الإسلامية مصدر رئيسي للتشريع.	- أن الكويت إماره وراثية في ذرية المغفور له الشيخ مبارك الصباح.

## ٣- السبب المعلن وغير المعلن للمراسلات الكويتية - العراقية عام ١٩٣٢م: ص ١٤٠

السبب المعلن	السبب غير المعلن
- اعتراف العراق رسمياً بحدوده مع دولة الكويت	- رغبة العراق في الدخول في عضوية عصبة الأمم المتحدة، الأمر الذي يتطلب إبراز حدودها مع جيرانها كدولة مستقلة.

## ٤- العلاقات الاقتصادية والاجتماعية بين الكويت والعراق قديماً: ص ١٣٩

اقتصادية	اجتماعية
١. الكويتيون يجلبون الماء من شط العرب. ٢. تملك الكويتيين أراضي زراعية في العراق	علاقات مصاهرة ونسب وروابط اجتماعية

**٥- أهم المناصب التي تقلدها كل من:**

<p>الشيخ جابر الأحمد الصباح</p> <p>ص ١٢٣</p>	<p>- رئيس للأمن في الاحمدي عام ١٩٤٩م.</p> <p>- رئيساً لدائرة المالية عام ١٩٥٩م.</p> <p>- أول وزير للمالية والتجارة والصناعة.</p> <p>- أميراً لدولة الكويت عام ١٩٧٧م.</p>
<p>الشيخ سعد العبد الله الصباح</p> <p>ص ١٢٦</p>	<p>- وزير للداخلية.</p> <p>- وزير للدفاع.</p> <p>- عضو في المجلس التأسيسي ١٩٦٢م.</p> <p>- ولياً للعهد ورئيساً لمجلس الوزراء ١٩٧٧م.</p>
<p>صباح الأحمد الصباح</p> <p>ص ١٢٨</p>	<p>- تم تعيينه عضواً في اللجنة التنفيذية العليا لتنظيم الدوائر الحكومية وهو لم يتجاوز الخامسة والعشرين من عمرة.</p> <p>- تولى منصب رئيس دائرتي المطبوعات والشنون الاجتماعية.</p> <p>- تولى منصب رئيس لجنة كتابة تاريخ الكويت ١٩٥٩م.</p> <p>- في عام ١٩٦٢م تم تعيينه عضو في المجلس التأسيسي الذي عهد إليه مهمة وضع دستور دولة الكويت.</p> <p>- تولى منصب وزير الخارجية ١٩٦٣م وشغل هذا المنصب لمدة ٤٠ عام.</p> <p>- تولى منصب نائب رئيس مجلس الوزراء ثم رئيس مجلس الوزراء ٢٠٠٣م.</p> <p>- تولى مقاليد الحكم عام ٢٠٠٦م.</p>
<p>الشيخ نواف الأحمد الصباح</p> <p>ص ١٣٤</p>	<p>- تولى منصب النائب الأول لرئيس مجلس الوزراء ووزير الداخلية بتاريخ ١٦ / أكتوبر ٢٠٠٣م.</p> <p>- تولى حقيبة وزارة الداخلية في الفترة من ١٣ / يوليو ٢٠٠٣م إلى فبراير ٢٠٠٦م.</p> <p>- تولى منصب نائب رئيس تحرير الحرس الوطني بدرجة وزير بتاريخ ١٦ أكتوبر ١٩٩٤م.</p> <p>- تم تكليفه بتولي حقيبة وزارة الشؤون الاجتماعية والعمل عند تشكيل أول حكومة كويتية بعد حرب تحرير الكويت وعودة الشرعية بتاريخ ٢ أبريل ١٩٩١م.</p> <p>- تولى منصب وزير الدفاع بتاريخ ٢٦ يناير ١٩٨٨م.</p> <p>- تولى حقيبة وزارة الداخلية في الفترة من ١٩ مارس ١٩٧٨م.</p> <p>- محافظ لمنطقة حولي بتاريخ ١٢ فبراير ١٩٦٢م.</p>

## السؤال الثامن:

### قارن بين كل من:

(١)

ترتيب الحاكم	اسم الحاكم	تاريخ توليه الحكم	اهم الأحداث في عصره
الثامن	جابر بن مبارك ص ١٠٩	١٩١٥-١٩١٧ م	- إعفاء الكويتين من ضريبة الثلث على العقارات.
التاسع	سالم بن مبارك ص ١١٠	١٩١٧-١٩٢١ م	- معركة حمض في مايو ١٩٢٠ م - حرب الجهراء في أكتوبر ١٩٢٠ م. - بناء السور الثالث .
العاشر	أحمد الجابر الصباح ص ١١١	١٩٢١-١٩٥٠ م	- مشكلة الحدود والمسايلة مع السعوديين. - معالجة علاقات الكويت مع العراق. - الحذر في المعاملة مع بريطانيا بعد معاهدة العقير.

(٢)

أوجه المقارنة	مجلس الشورى ص ١١٢	المجلس البلدي	المجلس التشريعي	مجلس المعارف
التاريخ	١٩٢١ م	١٩٣٠ م	١٩٣٨ م	١٩٣٦ م
المهام	إسداء الرأي والنصح والمشاركة بالقرار.	أداء أمور التنظيم الداخلي للكويت من أسواق وأمور النظافة العامة.	- إدارة شؤون مدينة الكويت الداخلية بالتعاون مع حاكم الكويت. - إدارة الجمـارك والأسواق وحل الصراعات بين التجار في الأسواق. - وضع ميزانية للإمارة	- الإشراف على تأسيس المدارس والإنفاق عليها وتوجيهها، وتمت دعوة خمسين ناخباً من أهالي الكويت لانتخاب أعضاء المجلس.



(٣)

المهام	صباح السالم الصباح ص ١٢١-١٢٢	الشيخ جابر الأحمد الصباح ص ١٢٣-١٢٤
ترتيبه في الحكم	الحاكم الثاني عشر	الحاكم الثالث عشر
أهم أعماله في مجال السياسة الداخلية	<p><b>المجال الاسكاني</b></p> <p>- توزيع مساكن لذوي الدخل المحدود بإشراف وزار الاشغال.</p> <p><b>المجال التعليمي:</b></p> <p>- إنشاء جامعة الكويت ١٩٦٦م</p> <p><b>المجال الاقتصادي :</b></p> <p>- تأميم النفط في الخامس من شهر مارس عام ١٩٧٥م</p> <p><b>المجال العسكري::</b></p> <p>- استحدث نظام التجنيد الإلزامي.</p>	<p>- إنشاء مؤسسة الكويت للتقدم العلمي.</p> <p>- إنشاء الهيئة العامة لشؤون القصر.</p> <p>- منح المرأة حقوقها السياسية.</p> <p>- إنشاء صندوق احتياطي الأجيال القادمة.</p> <p>- إنشاء صندوق الكويت للتنمية.</p>
أهم أعماله في مجال السياسة الخارجية	<p>- حرصت الكويت على دعم القضايا العربية لاسيما قضية العرب الأولى (فلسطين) .</p> <p>- شاركت في حرب ١٩٦٧م وحرب ١٩٧٣م لنصرة فلسطين ضد العدوان الصهيوني.</p>	<p>- صاحب فكرة إنشاء مجلس التعاون الخليجي عام ١٩٨١م.</p>

**نماذج لبعض المشاريع من الخطة التنموية لمستقبل دولة الكويت الجديدة** ص ١٦٣-١٧٠

١. أول مستشفى يخصص قسم خاص للحوادث. ٢. صنف كأكبر مستشفى في الشرق الأوسط. ٣. يحتل المرتبة السادسة عالمياً من حيث المساحة + الطاقة الاستيعابية. ٤. تبلغ مساحته الاجمالية حوالي ٧٢٠,٠٠٠ متر مربع. ٥. تبلغ الطاقة الاستيعابية للأسرة حوالي ١٢٠٠ سرير. ٦. تحتوي المستشفى على خمسة أبراج وتسعة طوابق وعلى سبع مداخل و ١٥٠ مصعداً.	١. مستشفى الشيخ جابر
١. معلم ثقافي وتحفه معمارية وصرح تنويري يقع في قلب مدينة الكويت. ٢. يتكون المبنى من مجموعة من الاشكال الهندسية المركبة مستوحاة من العمارة الإسلامية. ٣. توجد فيه أربعة مبان ضخمة ويضم المبنى ٣ مساح و ٣ قاعات للحفلات الموسيقية والمعارض والمؤتمرات. ٤. يهدف إلى تسليط الضوء على الفنون المسرحية.	٢. مشروع مركز الشيخ جابر الأحمد الثقافي (دار الأوبرا)
١. انطلاقاً من رؤية سمو الأمير الراحل الشيخ صباح الأحمد لجعل الكويت مركزاً مالياً وتجارياً ومساهمة الإدارة العامة للطيران المدني. ٢. تم تطوير البنية التحتية من مدرجات وممرات وساحات وقوف للطائرات. ٣. زيادة الطاقة الاستيعابية للمطار من سبعة ملايين راكب إلى ٢٠ مليون راكب. ٤. تنشيط حركة وكمية الشحن الجوي في مطار الكويت.	٣. مشروع المطار الجديد
١. مشروع استراتيجي تنموي يهدف إلى تحريك العجلة الاقتصادية في دولة الكويت من خلال توسيع وتطوير مصفاتي ميناء عبد الله وميناء الاحمدي، ليكونا مجعاً تكريريا متكاملأ بطاقة اجمالية تبلغ ٨٠٠ ألف برميل يومياً . ٢. تبلغ الطاقة الإنتاجية لمصفاة ميناء عبد الله ٢٧٠ ألف برميل يومياً وميناء الاحمدي ٤٦٦ برميل يومياً مما يعزز مكانة الكويت في صناعة تكرير النفط.	٤. مبادرة الوقود لمؤسسة البتترول الكويتية
١. أكبر مصفاة في العالم تبني بمرحلة واحده. ٢. ستننتج ٦١٥,٠٠٠ برميل يومياً من الوقود. ٣. تبلغ طاقة التكرير ١,٤ مليون برميل يومياً . ٤. تتمتع المصفاة بمرونة عالية. ٥. توفر الوقود النظيف لمحطات الطاقة.	٥. مشروع مصفاة الزور
١. تعتير مدينة جنوب المطلاع أكبر مشروع إسكاني في تاريخ دولة الكويت. ٢. من المشاريع المتكاملة للخدمات. ٣. تصل الطاقة الاستيعابية إلى ٤٠٠,٠٠٠ نسمة يضم ١١٦ مدرسة و ١٢ مركزاً للصحة العامة.	٦. مشروع مدينة جنوب المطلاع
١. مشروع مدينة صباح السالم الجامعية الشدادية. ٢. أكبر المشاريع الإنشائية في الشرق الأوسط. ٣. يقام على مساحة ٦ ملايين متر مربع. ٤. مشروعاً وطنياً وصرحاً أكاديمياً يوفر بيئة تعليمية مثالية.	٧. مشروع مبنى الجامعة الجديد

٨. مشروع جسر الشيخ جابر	١. أحد المشاريع العملاقة وهو أطول جسر بحري في العالم يبلغ طوله ٣٧,٥ كيلو متر في جون الكويت. ٢. يربط مدينة الكويت ومدينة الصبية الجديدة ويربط المناطق الشمالية بالجنوبية لاستيعاب الكثافة المرورية.
٩. مشروع معالجة النفايات الصلبة	١. يهدف موقع منطقة كبد إلى استغلال أحدث التقنيات في معالجة النفايات الصلبة وحماية البيئة والموارد البرية.
١٠. مدينة صباح الأحمد البحرية	٢. أول وأكبر مشروع يشيد بالكامل من قبل القطاع الخاص الكويتي حيث تقع مدينة صباح الأحمد البحرية في منطقة الخيران جنوب دولة الكويت حيث كانت أرض سبخة غير صالحة للبناء ، وباستخدام أحدث ما توصل له العلم الحديث تم إنشاء المدن، يوفر المشروع عوالم جذب حيث يتخلل القطاعات ممرات مائية وخدمات متكاملة.
١١. مشروع ميناء مبارك الكبير	١. من أهم المشاريع التي تقوم بها دولة الكويت يهدف إلى إنشاء ميناء بحري رئيسي سعة ٦٠ مرسى يكون محوراً رئيسياً للنقل وبعد إنشائه يعتبر نقلة نوعية في قطاع تجارة الترانزيت وخطوة لإحياء طريق الحرير من خلال بوابة دولة الكويت من شمال الخليج.
١٢. مشروع شبكة السكك الحديد	١. يتكون من شبكة متكاملة تربط بين مدينة الكويت ومطار الكويت الدولي والموانئ البحرية وكذلك بين دول مجلس التعاون الخليجي ويخدم الركاب وعمليات الشحن ويعتبر الحل لتخفيف ازمة الاختناقات المرورية.
١٣. مشروع طريق الجهراء	١. مشروع متكامل يربط بين شرق دولة الكويت بغربها . ٢. يعد أحد أكبر الطرق متعددة الادوار في العالم. ٣. يتألف من جسور علوية على طول ١٧,٧ كم . ٤. بدأ العمل فيه ٢٠١١م والإنتهاء في ٢٠١٦م لحل مشكلة الازدحام المروري وتقليل من الحوادث.

### السؤال الثامن علل لما يلي:

- ١- عقد بريطانيا عام ١٩١٦م مؤتمراً في الكويت. ص ١٠٩
- وقوف الدول العربية إلى جانبها ضد الدولة العثمانية أثناء الحرب العالمية الأولى.
- ٢- أرسل الشيخ سالم بن مبارك في سبتمبر عام ١٩٢٠م رسالة إلى الوكيل السياسي البريطاني. ص ١١١
- بسبب النزاع على الحدود مع ابن سعود.
- ٣ -بناء الشيخ سالم المبارك السور الثالث عام ١٩٢٠ م . ص ١١١
- حماية مدينة الكويت من أي هجوم برى.
- ٤-أهمية الاتفاقية الإنجليزية العثمانية عام ١٩١٣ م . ص ١١١
- لأنها أكدت على حدود دولة الكويت.
- ٥-كان الشيخ أحمد الجابر حذراً في التعامل مع بريطانيا. ص ١١١
- لان بريطانيا لم تنصف الكويت في معاهدة (العقير) عام ١٩٢٢م.
- ٦-تأخر انضمام الكويت إلى هيئة الأمم المتحدة. ص ١١٧
- بسبب موقف الاتحاد السوفيتي سابقا الداعم لمطالب حاكم العراق عبد الكريم قاسم.
- ٧-إطلاق لقب (أبو الدستور) على الشيخ عبد الله السالم الصباح. ص ١١٨
- لأنه دعى إلى إقرار دستور دائم لدولة الكويت باعتبارها وثيقة تنظم علاقه بين الحاكم والمحكوم.
- ٨-أهمية الدساتير في حياة الأوطان والأمم. ص ١١٨
- بسبب طبيعة المهام التي ينظمها الدستور.
- لان الدستور يحدد صلاحيات السلطات الثلاث.
- ٩-لقب الشيخ جابر الأحمد بلقب أمير القلوب. ص ١٢٣
- لأنه كان أحد القادة الذين تфанوا في عطائهم وخدمة وطنهم وشعبهم ورعاية مصالح أبناء وطنه فأحبه الجميع وتمسكوا فيه قائداً.
- ١٠-تميزت السياسة الخارجية للشيخ جابر الأحمد بالإتزان وعدم الاندفاع. ص ١٢٥
- حيث جنب البلاد الدخول في حرب مباشرة أمام إيران التي تعرضت للسفن الكويتية الحاملة للبترول.
- ١١-اطلاق لقب بطل التعمير للشيخ المغفور له الشيخ سعد العبد الله الصباح. ص ١٢٦
- قام بمتابعة وتعمير البني التحتية التي دمرها العدوان العراقي.
- لأنه دعا لإنتخاب المجلس التأسيسي لوضع دستور دائم لدولة الكويت.
- ١٢-تأسيس الشيخ عبد الله السالم الصندوق الكويتي للتنمية عام ١٩٦١ م . ص ١٢٠
- للمساهمة في الجهود الإنمائية والاقتصادية للدول العربية والدول الأخرى.



- ١٣- دعوة الشيخ عبد الله السالم إلى انتخاب مجلس تأسيسي . ص ١١٨
- ليتكفل المجلس التأسيسي بمهمة إقرار دستور دائم لدولة الكويت ليكون بذلك وثيقة لتنظيم العلاقة بين الحاكم والمحكوم.
- ١٤- يطلق على سمو الشيخ صباح الأحمد عميد الدبلوماسيين العرب. ص ١٢٨
- لأنه أقدم وزير خارجية على مستوى الوطن العربي لأكثر من ٤٠ عام.
- ١٥- اختيار دولة الكويت مركز للعمل الإنساني وتسمية صاحب السمو الشيخ صباح الأحمد الصباح قائد للعمل الإنساني ص ١٣١
- لتتويج وتكريم دولة الكويت وصاحب السمو لما قدمه من جهود متواصلة لخدمة الإنسانية والعمل الإنساني.
- ١٦- تفكك الاتحاد الهاشمي بين العراق والأردن. ص ١٤١
- بسبب الانقلاب الدموي للضباط الأحرار بقياد عبد الكريم قاسم عام ١٩٥٨م.
- ١٧- مماطلة العرق في ترسيم الحدود مع دولة الكويت على الطبيعة. ص ١٤٠
- بسبب رغبة العراق في الدخول في عضوية عصبة الأمم المتحدة الأمر الذي يتطلب إبراز حدودها مع جيرانها كدول مستقلة وهو ما كان يتعارض مع مزاعمه وادعاءاته الباطلة تجاه الكويت.
- ١٨- افتعال العراق الازمة السياسية مع الكويت في شهر يوليو ١٩٩٠م. ص ١٤٤
- الاقتصاد المنهار أثر الحرب العراقية الإيرانية التي استمرت ثمانية سنوات.
- رغبتها في إعادة بناء البنية التحتية والخدمات المتهاكة.
- اتهم العراق الكويت بأنها اعتدت على أراضيها الحدودية وسرق النفط العراقي خلال انشغاله بالحرب مع إيران وأنها وراء انخفاض أسعار النفط آنذاك.
- ١٩- مطالبة رئيس وزراء العراق عبد الكريم قاسم بضم دولة الكويت للعراق عام ١٩٦١م ص ١٤٢
- طمع عبد الكريم قاسم في النفط الكويتي حيث كانت الكويت ثالث منتج للنفط في العالم.
- البطالة التي كان يعاني منها الشعب العراقي مع الاستياء العارم من السياسات الداخلية للعراق.
- حاجة العراق إلى موانئ بحرية على الخليج العربي.
- ٢٠- تجمد تهديدات الملك غازي بن فيصل لضم الكويت للعراق عام ١٩٣٨م. ص ١٤٠-١٤١
- لوفاة الملك غازي.
- ٢١- يعتبر مركز الشيخ جابر الأحمد الثقافي مبعثاً للفخر والإعتزاز للكويت دولة وشعباً . ص ١٦٤
- حيث يهدف هذا المركز إلى تسليط الضوء على الفنون المسرحية وإلى خلق عالم مسرحي داخل مساحات خضراء فسيحة وجذب الرواد في مختلف الفنون من كل أنحاء العالم.

**السؤال التاسع اذكر ما يلي:**

- ١- أبرز أعمال الشيخ جابر بن مبارك الصباح بعد توليه الحكم. ص ١٠٩
- اعفاء الكويتيين من ضريبة الثلث على العقارات التي فرضها والده الشيخ مبارك.
- ٢- أبرز أعمال الشيخ سالم بن مبارك. ص ١١٠
- خفض الرسوم الجمركية - الغاء الضرائب على الصادرات - تعيين مختارين في الاحياء.
- ٣- الاحداث المهمة في عهد الشيخ سالم المبارك. ص ١١١
- معركة حمض في مايو ١٩٢٠م - معركة الجهراء في أكتوبر ١٩٢٠م - وبناء السور الثالث.
- ٤- أبرز القضايا المهمة التي تعامل معها الشيخ أحمد الجابر بعد تولي الحكم. ص ١١١
- - مشكلة الحدود والمسابلة مع السعوديين. - الحذر في المعاملة مع بريطانيا بعد معاهدة العقير. - معالجة علاقات الكويت مع العراق.
- ٥- أهم الإنجازات في المجال الاقتصادي في عهد الشيخ أحمد الجابر. ص ١١٣
- تأسيس شركة نفط الكويت.
  - بداية اكتشاف النفط وتصديره
  - انهيار تجارة اللؤلؤ عام ١٩٢٨م
- ٦- اذكر بعض المساعدات التي قدمتها دولة الكويت في عهد الشيخ صباح الأحمد بصمة إنسانية وعالمية. ص ١٣٠
- إغاثة جمهورية بنغلادش بعد تعرضها لإعصار سيدر.
  - الجهود المقدمة لليابان بعد تسونامي.
  - ارسال مساعدات اغاثية غلي الصومال للتخفيف من آثار الجفاف والمجاعة.
  - دعم مساعدة الفلبين بعد تضررها من إعصار هايان .
  - دعمت تركيا بعد حدوث زلزال فان.
  - دعم منظمة الصحة العالمية في إطار جهودها لمحاصرة ومعالجة فايروس (إيبولا).
  - دعم القضية الفلسطينية وإغاثة أهالي غزة المنكوبين جراء العدوان الإسرائيلي ٢٠١٤م.
  - انطلاق حملات الإغاثة الإنسانية منذ بداية الأزمة السورية عام ٢٠١١م.

٧- أهم إنجازات صاحب السمو أمير دولة الكويت الشيخ نواف الأحمد الصباح. ص ١٣٤

- تحويل منطقة حولي التي كانت عبارة عن قرية إلى مركز حضاري وسكني متميز يعج بالنشاط التجاري والاقتصادي.
- المؤسس الحقيقي لوزارة الداخلية بشكلها الحديث وإدارتها المختلفة ومهندس إستراتيجية المنظومة الأمنية المتكاملة لمكافحة الجريمة وحماية أمن الحدود الكويتية.
- تطوير العمل في وزارة الدفاع بشقيه المدني والعسكري.
- تطوير المنظومة البشرية والعسكرية في الحرس الوطني.
- استحداث مستشفى خاص لنزلاء دور الرعاية أثناء تولى سموه حقيبة وزارة الشؤون الاجتماعية والعمل.

٨- الملامح الرئيسية لرؤية كويت المستقبل بحلول عام ٢٠٣٥ م. ص ١٥٧

- تحويل الكويت إلى مركز تجاري ومالي جاذب للاستثمار.
- يقوم القطاع الخاصة بقيادة النشاط الاقتصادي.
- رفع كفاءة الإنتاج .
- الحفاظ على الهوية الاجتماعية.
- تحقيق التنمية البشرية .
- توفير بنية أساسية ملائمة .
- توفير تشريعات متطورة. وبيئة أعمال مشجعة.

٩- ركائز صناعة مستقبل الكويت الجديدة: ص ١٥٨ - ١٥٩

- مكانة دولية متميزة .
- بنية تحتية متطورة .
- رأس مال بشري إبداعي.
- إدارة حكومية فاعلة .
- رعاية صحية عالية الجودة.
- اقتصاد متنوع مستدام

١٠- الهدف من مشروع مركز الشيخ جابر الأحمد الثقافي (دار الأوبرا) ص ١٦٤

- تسليط الضوء على الفنون المسرحية.
- خلق عالم مسرحي داخل مساحات خضراء فسيحة.
- جذب رواد الفنون من أنحاء العالم.

السؤال العاشر:

فندالعبارات التالية:

ص ١٢١

١- لم يهتم الشيخ صباح السالم في عهدة بالسياسة الداخلية للكويت

- بل اهتم في العديد من المجالات.
- المجال الاسكاني: بناء مساكن ذوي الدخل المحدود
- المجال التعليمي: إنشاء جامعة الكويت
- المجال الاقتصادي: تأمين النفط
- المجال العسكري: استحدث نظام التجنيد الالزامي.

ص ١٧٢

٢- "ليس لجزر الكويت أهمية تاريخية"

- العبارة خطأ فهي محطة أساسية في حركة التجارة من آلاف السنين .
- ارتبطت بأقدم الحضارات التاريخية.
- وجودها وسط أكثر من ١٥٠ مليون نسمة ضمن سوق اقتصادي ضخم جداً
- موقع جغرافي يتوسط خطوط التجارة بين قارات العالم القديم ( اسيا وأوروبا وأفريقيا)



### السؤال الحادي عشر:

#### دلل على صحة العبارات التالية:

١- حرصت دولة الكويت على الارتقاء بالتعليم الجامعي باعتباره محوراً أساسياً للتنمية البشرية: ص ١٦٦

- يترجم مشروع مدينة صباح السالم الجامعية (الشدادية) أحد أكبر المشاريع الإنشائية في الشرق الأوسط وأهمها.
- حيث يندرج هذا الصرح التعليمي ضمن خطة المشروعات التنموية التي تتبناها الدولة بهدف تطوير منظومة التعليم في البلاد.

٢- ساهم مشروع طريق الجهراء في حل الأزمة المرورية: ص ١٦٩

- يشكل المشروع أحد الحلول المهمة للازدحام المروري.
- يساهم بشكل كبير في الفصل بين حركة المرور العابرة وحركة المرور المحلية .
- رفع القدرة الاستيعابية لطريق الجهراء مما سيؤدي إلى التقليل من الازدحام المروري وخفض نسبة الحوادث المرورية -- يساهم برفع مستوى الخدمات لمستخدمي الطريق.

٣- أهمية مشروع مستشفى الشيخ جابر ص ١٦٣

- يحتل المركز السادس عالمياً من حيث المساحة والطاقة الاستيعابية التي تبلغ ١٢٠٠ سرى ، و ١٥٠٠ مصعد
- قسم خاص للحوادث والكوارث
- يحوي عيادات خارجية متكاملة
- يضم ثلاث منصات خاصة لهبوط المروحيات لتسهيل عملية نقل المرضى في الحالات الخطرة.

٤- تطوير مطار الكويت الدولي وتوسعته. ص ١٦٥

- انطلاقاً مع رؤية صاحب السمو أمير ابلادي لجعل الكويت مركزاً مالياً وتجارياً.
- زيادة الطاقة الاستيعابية للمطار من ٧ مليون شخص إلى ٢٠ مليون شخص.
- تنشيط حركة وكمية الشحن الجوي
- استيعاب المطار لعدد لا يقل عن ٧٠ طائرة شخص جوي من الجيل الجديد العملاق.

٥- مشروع مبادرة الوقود البيئي لمؤسسة الكويت للبترول. ص ١٦٥

- تحريك العجلة الاقتصادية من خلال توسيع وتطوير مصفاتي ميناء عبد الله والاحمدي ليكون معاً مجمعاً تكريرياً متكاملًا.

٦- إنشاء مبنى جامعي جديد في مدينة صباح السالم. ص ١٦٦

- الارتقاء بالتعليم الجامعي باعتباره محوراً للتنمية البشرية.
- تطوير منظومة التعليم في البلاد.
- إعداد الكوادر الوطنية المؤهلة والقدرة على تلبية احتياجات سوق العمل

٧- الهدف من مشروع مصفاة الزور: ص ١٦٧

- معالجة النفط الخام الكويتي والثقيل وتوفير الوقود النظيف لمحطات الطاقة.

٨- أهمية مشروع جسر الشيخ جابر. ص ١٦٧

- اقتصاد المسافة بين مدينة الكويت ومدينة الصبية الجديدة من ١٠٤ كم إلى ٣٧,٥ كم.
- ربط شمال البلادي بجنوبها.

٩- اسهامات مشروع ميناء مبارك الكبير

ص ١٦٩

- انفتاح البلاد على العالم تجارياً واقتصادياً.
- دعم خطة المواصلات والمنافذ.
- أهميته في تجارة الترانزيت
- العودة لإحياء طريق الحرير

ص ١٦٩

١٠- أهمية مشروع طريق الجهراء

- الفصل بين حركة المرور العابرة والمحلية
- رفع القدرة الاستيعابية لطريق الجهراء
- خفض نسبة الحوادث المرورية
- رفع مستوى الخدمات لمستخدمي الطرق

ص ١٦٩

١١- رفع القدرة الاستيعابية لطريق الجهراء:

- سيؤدي إلى التقليل من الازدحام المروري.

ص ١٥٩

١٢-اهتمام دولة الكويت بالبنية التحتية المتطورة:

- شبكة السكة الحديد
- جسر الشيخ جابر الأحمد
- أنظمة النقل السريع (مترو الكويت)
- ميناء مبارك الكبير
- الطريق الإقليمي
- مشروع مطار الكويت الجديد

ص ١٦٠

١٤- اهتمام حكومة الكويت بجودة الخدمات الصحية والرعاية الوقائية .

- القيام بالعديد من المشروعات الصحية منها:
- مستشفى الصباح الجديد
- توسعة المستشفى الاميري
- مستشفى الامراض السارية الجديد
- تشجيع وتحفيز ممارسة الرياضة في المجتمع
- الوقاية والتصدي للأمراض المزمنة غير السارية

السؤال الثاني عشر:

اقرأ العبارة التالية ثم اجب عما يليها من أسئلة:

ص ١٠٩-١١٠

١- "إن جل قصدنا من هذا الاجتماع هو دعم مسائل الامة العربية"

- من المرسل: أمير الأحواز الشيخ خزعل وحاكم الكويت الشيخ جابر المبارك الصباح

- لم أرسلت: الشريف حسين في مكة.

-المناسبة التي ذكرت فيها العبارة: خلال عقد بريطانيا مؤتمر في الكويت عام ١٩١٦م بعد وقوف الدول العربية إلى جانبها ضد الدولة العثمانية .

٢-إن اجتماعنا في الكويت كان يهدف إلى دعم مسائل الأمة العربية وصيانة حقوقها: ص ١١٠

- من أرسل هذه البرقية: الشيخ جابر بن مبارك الصباح.

- لمن أرسلت: المقيم السياسي البريطاني برسي كوكس.

٣- نحن جميعاً في سفينة واحدة نبحر فيها في بحر مملوء بالصخور المرجانية تتصاعد وتتكاثر من حولها الأمواج والعواصف والسحب، هذه السفينة بيد ربان ماهر استطاع هذا الربان النوحدة ان يقود السفينة ونحن بحارتها إلى بر الأمان).

ص ١٢٦

- من القائل: الشيخ سعد العبد الله الصباح.

- علام يدل الخطاب: تواضعه وانكاره للذات.

٤-علينا أن ندرك أن التعاون الإيجابي المثمر بين السلطتين التشريعية والتنفيذية قدر حتمي لتحقيق النقلة النوعية نحو التغيير والإصلاح .

ص ١٢٩

- من القائل: الشيخ صباح الأحمد الصباح.

- الى ما يدعو هذا الخطاب: إلى التعاون والإخاء والمحبة وتغليب الصالح العام ونبذ التحزب والاهواء الطائفية والقبلية والفئوية الضيقة.

- في أي عام أُلقيت الخطبة وما المناسبة: عام ٢٠٠٦م في مجلس الامة عند تولي سموه مقاليد الحكم.

٥-كان اتصالي مع صاحب السمو في تلك اللحظات المصيرية والاتفاق معه على الخروج من قصر دسمان افضل واخطر قرار في حياتي، إنها العناية الإلهية التي أنقذت الشرعية وأنقذت الكويت فقد كان الفارق بين خروجنا من قصر دسمان وبداية هجومهم عليه لا يتجاوز نصف ساعة.

ص ١٤٨

-من القائل: الشيخ سعد العبد الله

-المناسبة عند خروج القيادة الكويتية لإدارة الأزمة من الخارج.

٦-أن البلاد تواجه تحدياً يهدد مسيرتها، يتمثل في الانخفاض الهائل في إيرادات الدولة، جراء انهيار أسعار النفط في العالم ما أحدث عجزاً كبيراً في الموازنة العامة للدولة.

ص ١٦١

-من القائل: صاحب السمو الشيخ صباح الأحمد الصباح.

المناسبة: افتتاح دور الانعقاد الأول للفصل التشريعي الخامس عشر لمجلس الامة ٢٠١٦م.

**السؤال الثالث عشر:**

**(أ) لاحظ الصورة التي امامك ثم اجب عن الأسئلة التالية: ص ١٢٤**

- ١- ما اسم المجلس الذي يرمز له الشعار المقابل؟  
- مجلس التعاون لدول الخليج العربية.
- ٢- من صاحب فكرة إنشاء هذا المجلس؟  
- الشيخ جابر الأحمد الجابر الصباح.
- ٣- في أي عام تم إنشاء هذا المجلس.  
- عام ١٩٨١م.



**(ب) لاحظ الصورة المقابلة ثم اجب عن الأسئلة التالية: ص ١١٧**

- ١- ما اسم حاكم دولة الكويت في الصورة المقابلة؟  
- الشيخ عبد الله السالم.
- ٢- ما اسم الاتفاقية الجديدة التي استبدلت بها اتفاقية الحماية المعقودة ١٨٩٩م؟  
- الصداقة والتشاور



## السؤال الرابع عشر:

### نفذ المطلوب فيما بين القوسين مما يلي:

- ١- الأوسمة المهداه لحضرة صاحب السمو أمير البلاد الشيخ نواف الأحمد الصباح. (عدد) ص ١٣٥  
- قد ((قلادة الكنعانيين الكبرى)) من وسام الرئيس محمود عباس من قبل رئيس دولة فلسطين الشقيقة في ١٣ نوفمبر ٢٠١٨م.  
- منح وسام المحرر ((الجنرال سان مارتين)) من قبل فخامة رئيسة جمهورية الأرجنتين الصديقة الدكتورة كريستينا فرنانديز دي كريتشنر في ١ أغسطس من عام ٢٠١١م.  
- منح ((وسام طوق الاستحقاق المدني)) من قبل جلالة الملك خوان كارلوس ملك مملكة إسبانيا الصديقة في ٢٣ مايو من عام ٢٠٠٨م.
- ٢- حرص صاحب السمو الشيخ صباح الأحمد على توفير بيئة معيشية مستدامة في دولة الكويت:  
( أهم المشاريع في هذا المجال). ص ١٦٢  
- مشروع جنوب المطلاع .  
- معالجة النفايات البلدية الصلبة - موقع كبد.  
- مراقبة الملوثات المنبعثة من المصادر (الثابتة والمتحركة) وتطوير برنامج المراقبة وتحسين جودة الهواء.
- ٣- مشكلة الحدود الكويتية العراقية في عهد عبد الكريم قاسم. (الأسباب) ص ١٤٢  
- طمع عبد الكريم قاسم حيث كانت الكويت ثالث منتج للنفط في العالم.  
- البطالة التي كان يعاني منها الشعب العراقي مع الاستياء العارم من السياسات الداخلية للعراق.  
- حاجة العراق إلى موانئ بحرية .
- ٤- افتعال النظام العراقي الازمة السياسية مع دولة الكويت والتصعيد المتعمد في شهر يوليو ١٩٩٠م  
(متطلبات النظام العراقي) . ص ١٤٤  
- إلغاء ديون تقدر بـ ١٢ مليار دولار - تأجير جزيرتي وربة وبوبيان للعراق.  
- تعويضها عن البترول الذي تدعى بأنه أخذ من الجزء العراقي من قبل حقل الرميثة الجنوبي بحوالي ٢,٤ بليون دولار.  
- تقديم مبلغ ضخم غير محدد كنواة لمشروع مارشال عربي يستفيد منه العراق دون أي وعد عراقي سوى بالابقاء على الأوضاع كما هي.

ص ١٥٠

(اذكر الدليل)

٥- بدأت الانطلاقة الشعبية لرفض الغزو:

- بدأت اللجان الصحية والاجتماعية واللجان الخاصة بعمليات التنظيف والمساعدة.
- قام الشباب الكويتي بتوفير الرعاية لمن يحتاج إليها.
- قامت المقاومة الكويتية بكتابة الشعارات المعادية والداعية للمقاومة على الجدران والمباني العامة.
- مسح أسماء وأرقام الأحياء والمناطق والشوارع والبيوت لتضليل العراقيين.
- تقديم المساعدة والمساندة للمقاومين وتوفير السلاح لهم وحماية المناطق السكنية.
- بدأت تتشكل لجان مقاومة لرصد أماكن تواجد القوات العراقية.

السؤال الخامس عشر:

أكتب مما درست حول الاتي:

ص ١٢٥

١- ما موقف دولة الكويت من الحروب التالية:

- **حرب اليمن:** الحرص على تحقيق الوحدة بين اليمن الجنوبي والشمالي.
- **الحرب العراقية الإيرانية:** تعرضت سفن الكويت الحاملة للبترول للعدوان من الحرب إلا أن سياسة دولة الكويت المتوازنة وعدم الاندفاع جنبتها الدخول المباشر في هذه الحرب.

٢- العلاقات الكويتية العراقية قديماً:

- بحكم الجوار الجغرافي لم تكن هناك عوائق حدودية تفصل بين الكويت والعراق حيث كانت حركة المرور بينهما سهلة للتنقل والوصول، كما ارتبطت الكويت والعراق منذ القدم بعلاقات اقتصادية واجتماعية قديمة، حيث كان الكويتيون يجلبون الماء من شط العرب، إضافة إلى تملكهم أراضي زراعية في العراق هذا إلى جانب علاقات المصاهرة والنسب والروابط الاجتماعية المختلفة.

ص ١٤٢

٣- أزمة الصامته عام ١٩٧٣م:

- هاجمت القوات العراقية مركز الصامته الحدودي التابع لدولة الكويت وتوغلت لمسافة ٣ كيلو مترات داخل الأراضي الكويتية واستشهد عدد من العاملين في المركز من الكويتيين وذلك في عهد الشيخ صباح السالم الصباح .

#### ٤ - موقف المجتمع الدولي من غزو النظام العراقي البائد على دولة الكويت ١٩٩٠ م. ص ١٤٦

- تحرك المجتمع الدولي سريعاً عبر منظمة الأمم المتحدة واستطاع في وقت قصير تكوين تحالف دولي لتحرير الكويت فأصدر مجلس الأمن الدولي قرار ( ٦٦٠ ) في نفس يوم الغزو يلزم النظام العراقي البائد بالانسحاب الفوري غير المشروط، كما كان مجلس الأمن في حالة انعقاد دائم طوال فترة الغزو.

#### ٥ - مشاكل الحدود الكويتية العراقية:

##### أولاً: مشكلة الحدود في عهد العراق العثماني:

- كانت الكويت تعاني من تهديدات الدولة العثمانية ومحاولة بسط سيطرتها المباشرة على الأراضي الكويتية وإرسال موظفين أو حاميات من الجند إلى الكويت حتى عقدت الكويت معاهدة الحماية ١٨٩٩ م مع بريطانيا.

##### ثانياً: مشكلة الحدود في عهد العراق الملكي:

- تم اختيار الملك فيصل بن الحسن كأول ملك على مملكة العراق الهاشمية عام ١٩٢١ م.  
- في عام ١٩٣٢ م حاول العراقيون التحرش بحدود الكويت ومحاولة ضمها لبعض الأحلاف تمهيداً للتدخل السياسي في شؤونها.  
- وقد شهد عام ١٩٣٢ م اعتراف العراق رسمياً بحدوده مع الكويت حيث تم تبادل المراسلات بين حاكم الكويت أحمد الجابر والحكومة العراقية بواسطة المندوب السامي البريطاني إلا أن العراق ماثل في ترسيم الحدود.



ص ١٤١

#### ٥- محاولات ضم الكويت إلى الاتحاد الهاشمي ١٩٥٨م.

- تميز العلاقات الكويتية العرقية خلال فترة الأربعينيات وأوائل الخمسينيات من القرن العشرين بالهدوء النسبي إلى أن نشأ الاتحاد الهاشمي بين العراق والأردن.
- حاولت العراق استمالة الكويت للانضمام إلى هذا التحالف الإقليمي متمثلاً في اقتراح رئيس الوزراء العراقي نوري السعيد لكن حاكم الكويت الشيخ عبد الله السالم رفض اقتراح نوري السعيد وعدم رغبة الكويت إلى هذا الاتحاد.
- تفكك الاتحاد الهاشمي بين العراق والأردن إثر الانقلاب الدموي للضباط الأحرار بقيادة عبد الكريم قاسم ١٩٥٨م الذي راح ضحيته الأسرة الهاشمية في العراق انتهاء العهد الملكي وبداية العراق الجمهورية برئاسة عبد الكريم قاسم.

ص ١٤٢

#### ٦- مشكلة الحدود الكويتية العراقية في العهد الجمهوري:

- منذ إعلان استقلال الكويت في ١٩ يونيو ١٩٦١م أعلن رئيس وزراء العراق عبد الكريم قاسم مطالبته في ضم الكويت إلى ولاية البصرة العثمانية اثناء المؤتمر الصحفي الذي عقده، فلجأت الكويت إلى تفعيل اتفاقية الصداقة مع بريطانيا بطلب قوات بريطانية ثم تحولت إلى قوات عربية.

#### ٧- مؤتمر جدة الشعبي:

- عقد مؤتمر جدة في ١٣ أكتوبر عام ١٩٩٠م وحضره أمير الكويت الشيخ جابر الأحمد وولي العهد الشيخ سعد العبد الله الصباح والتف الشعب الكويتي حول القيادة الشرعية لبلاد.

#### ٨- ما هي نتائج مؤتمر جدة: ص ١٤٨

- عودة الشرعية وعودة آل صباح للحكم
- التمسك بدستور ١٩٦٢م والحياة البرلمانية
- تحرير الكويت

#### ٩- التحرير:

- تم تحرير الكويت في تاريخ ٢٦ فبراير ١٩٩١م بعد سبعة أشهر من الاحتلال.
- بدأت الحرب الجوية في ١٧ يناير ١٩٩١.
- ٢٤ فبراير ١٩٩١ الحرب البرية وأطلق عليه عاصفة الصحراء.

### ١٠- ترسيم الحدود الكويتية العراقية بعد التحرير: ص ١٥٣

- في ٢٣ يونيو ١٩٩٣م أصدر مجلس الامن قرار رقم (٨٣٣) بترسيم الحدود بين الكويت والعراق.

- نص القرار:

- الترحيب بقرارات لجنة الامن المتحدة لتخطيط الحدود بين الكويت والعراق.
- المطالبة باحترام حرمة الحدود الدولية التي أتمت اللجنة تخطيطها بشكل نهائي.
- احترام الحق في المرور البحري.


ص ١٥٠

### ١١- ما أبرز مشاهد المقاومة الكويتية؟

- بيت القرين ← مثال للوحشية والكراهية التي تعامل بها الجنود العراقيون مع المقاومة الكويتية.

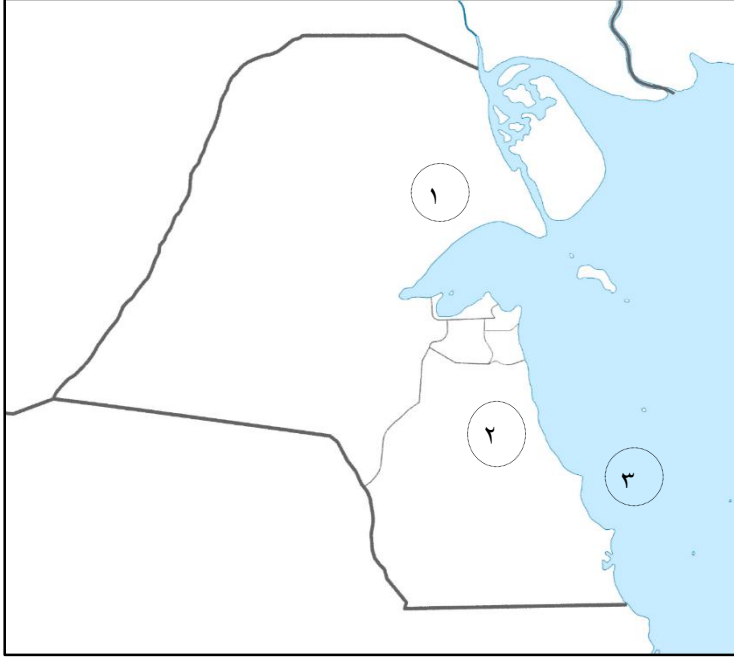


### ١٢- أعمال الكويتيين في الداخل أثناء الغزو:

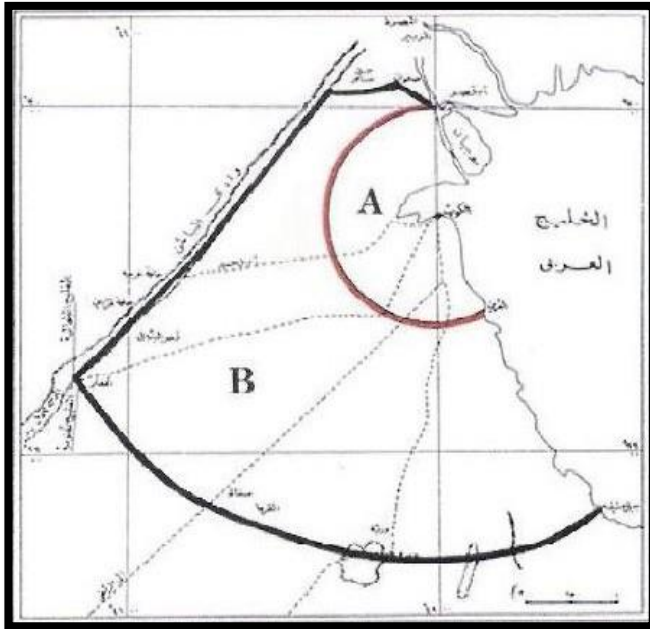


**السؤال السادس عشر:**

- أمامك خريطة دولة الكويت الصماء اكتب الرقم الدال على العبارات التي تليها: ص ١١٣-١١٤



- ١- اول حقل انتاج نفطي بكميات تجارية يمثلته على الخريطة الرقم ( ٢ )
- ٢- حقل بحرة يمثلته على الخريطة الرقم ( ١ )
- ٣- ميناء الاحمدى يمثلته على الخريطة الرقم ( ٣ )



- تمثل الخريطة التي أمامك حدود دولة الكويت وفق الاتفاقية بين بريطانيا والدولة العثمانية لعام ١٩١٣م

### خريطة الجزر الكويتية:

