

الفصل الدراسي الثاني

الاسم:


الصف:

السؤال الأول:

(أ) أكمل .

$$\frac{2}{6} = \frac{3}{6} \div \frac{6}{6}$$
$$\frac{6}{6} = 2 \times 3$$

(ب) لون ما يمثل الربع .

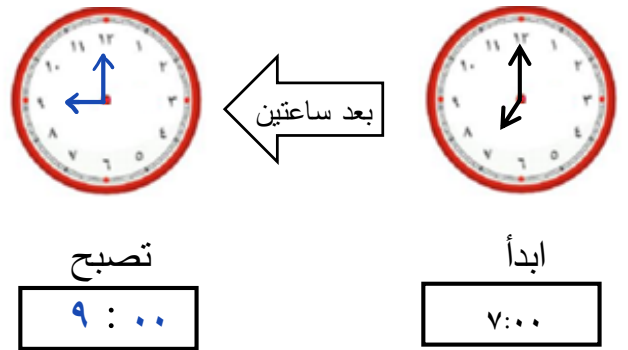


(ج) اكتب القيمة المكانية للرقم الذي تحته خط .


٥١٤ ٥٠٠

السؤال الثاني:

(أ) ارسم عقربي الساعة ، ثم اكتب وقت النهاية :



(ب) حوط ما يمثل الثلث .



(ج) اختر العملية المناسبة . أوجد الناتج .
لدى منال ٦ سلال في كل منها ٢ تفاحات ؟

عدد كل التفاحات ١٢

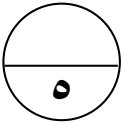
$$2 + 6$$

$$2 \times 6$$

السؤال الثالث:

(أ) اكتب الاسم المطول للعدد :

$$\underline{600} + \underline{10} + \underline{5} = 615$$



(ب) اكتب الوقت الذي تدل عليه الساعة بطريقتين مختلفتين

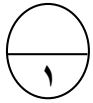


٥ : ١٥

الخامسة و الربع

الساعة

(ج) حوط مجموعتان متساويتان .



السؤال الرابع:

(أ) حوط الاجابة الصحيحة :

(١) العدد الناقص هو :

$$3 = 3 \div \square$$

١

٣

٩


(٢) ربع الساعة =

٦٠ دقيقة

٣٠ دقيقة

١٥ دقيقة

(٣) رمز العدد الممثل :



٢٠٠

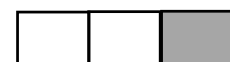
٣٠٠

٤٠٠

(ب) صل كل شكل بالكلمة المناسبة :

ثلث

نصف



((انتهت الأسئلة))