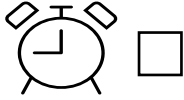
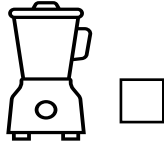
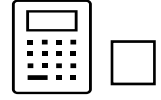


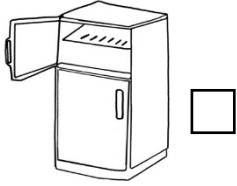
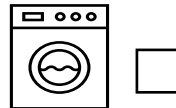
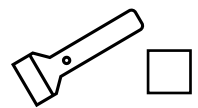
السؤال الأول : اختر الإجابة الصحيحة علمياً لكل من العبارات التالية بوضع علامة (✓) في المربع

المقابل لها : -

١- أجهزة تعمل على الكهرباء

☐☐☐☐

٢- أجهزة تعمل على البطارية

☐☐☐☐

٣- العلامة الإرشادية الدالة على عبور المشاة

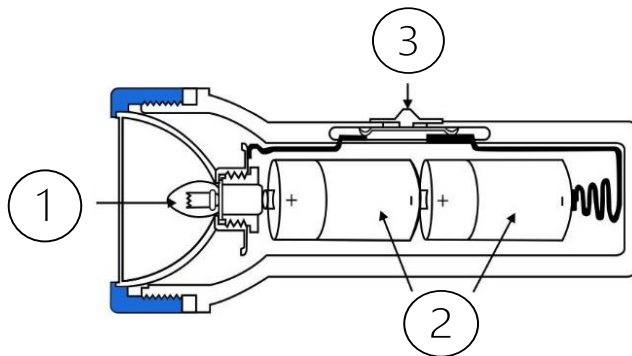
☐☐☐☐

السؤال الثاني : ضع علامة (✓) للعبارة الصحيحة ، و علامة (✗) للعبارة غير الصحيحة ، في ما يلي :-

١- نفق عند رؤية إشارة المشاة حمراء . ()

٢- نستعد عند رؤية إشارة المرور خضراء . ()

السؤال الثالث : ادرسي الشكل التالي جيداً ثم أجبى عما يلي :-



١- المفتاح يمثل الرقم ----- .

٢- البطارية يمثلها الرقم ----- .