



# تم تحميل الملف من موقع **بداية**



للمزيد اكتب  
في جوجل



بداية التعليمي ⌚

موقع بداية التعليمي كل ما يحتاجه الطالب والمعلم  
من ملفات تعليمية، حلول الكتب، توزيع المنهج،  
بوربوينت، اختبارات، ملخصات، اختبارات إلكترونية،  
أوراق عمل، والكثير...

**حمل التطبيق**



توقيع ولي الأمر.....

اختبار منتصف الفصل الدراسي الثالث لمادة الرياضيات للصف الرابع الابتدائي للعام الدراسي ١٤٤٥ هـ

الاسم / .....

الاسم / .....

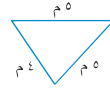
١٠

السؤال الأول : اختر الإجابة الصحيحة فيما يلي :

١- الوحدة المناسبة لقياس المسافة من شمال المملكة إلى جنوبها هي

أ	ملم	ب	سم	ج	م	د	كلم
---	-----	---	----	---	---	---	-----

٢- محيط الشكل المجاور يساوي



أ	١٤ م	ب	١٠ م	ج	٥ م	د	٢٥ م
---	------	---	------	---	-----	---	------



٣- التقدير الأنسب لسعة إبريق الشاي هو:

أ	١ مل	ب	١ ل	ج	٥٠ ل	د	١٠ مل
---	------	---	-----	---	------	---	-------



٤- التقدير الأنسب لمساحة الشكل المجاور هو :

أ	٧ وحدات مربعة	ب	٣ وحدات مربعة	ج	٤ وحدات مربعة	د	٨ وحدات مربعة
---	---------------	---	---------------	---	---------------	---	---------------



٥- التقدير الأنسب لكتلة حبة الموز هي :

أ	٢٠ جم	ب	٢٠ كجم	ج	٢٠٠ جم	د	٢٠٠ كجم
---	-------	---	--------	---	--------	---	---------

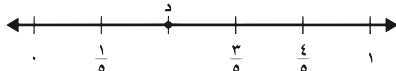
٦- طول الفترة الزمنية من الساعة ١٥ : ٤ مساءً وحتى الساعة ٣٠ : ٥ مساءً هو

أ	ساعة واحدة	ب	ساعة و ١٥ دقيقة	ج	ساعة و ٣٠ دقيقة	د	ساعتان
---	------------	---	-----------------	---	-----------------	---	--------



٧- الكسر الذي يمثل الجزء المظلل في الشكل المجاور هو:

أ	$\frac{3}{6}$	ب	$\frac{4}{6}$	ج	$\frac{5}{6}$	د	$\frac{1}{6}$
---	---------------	---	---------------	---	---------------	---	---------------



٨- الكسر الذي يمثل النقطة د على خط الاعداد المجاور هو:

أ	$\frac{1}{5}$	ب	$\frac{2}{5}$	ج	$\frac{3}{5}$	د	$\frac{4}{5}$
---	---------------	---	---------------	---	---------------	---	---------------

٩- الكسر المكافئ للكسر  $\frac{1}{4}$  هو :

أ	$\frac{4}{6}$	ب	$\frac{3}{6}$	ج	$\frac{2}{8}$	د	$\frac{2}{5}$
---	---------------	---	---------------	---	---------------	---	---------------

١٠ - كم جرام في ٥ كيلوجرامات ؟

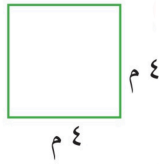
أ	٥ جرامات	ب	٥٠ جرام	ج	٥٠٠ جرام	د	٥٠٠٠ جرام
---	----------	---	---------	---	----------	---	-----------

السؤال الثاني : ضع علامة (✓) أمام العبارة الصحيحة وعلامة (X) أمام العبارة الخاطئة فيما يلي :

١-	المحيط هو طول الخط حول شكل مغلق
٢-	تقدر كتلة كتاب الرياضيات بجرام واحد تقريباً .
٣-	من وحدات الطول المترية اللتر
٤-	حجم الجسم هو عدد الوحدات المكعبة اللازمة لملء ذلك الجسم

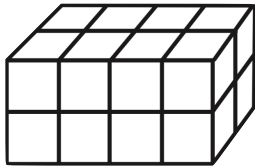
السؤال الثالث : أجب عن المطلوب فيما يلي :

أ) أوجد مساحة المربع المجاور :



.....

ب) أوجد حجم الجسم التالي :



..... وحدة مكعبة

ج) يحتوي صندوق على ٤ أقلام حمراء و ٣ أقلام سوداء ما الكسر الذي يمثل الأقلام السوداء :

.....

د) كم ستصبح الساعة بعد ٥ ساعات ؟



..... : .....

هـ) كان مع نورة ١٠ بطاقات ملونة، أعطت أختها ثلاث منها أكتب الكسر الذي يمثل ما تبقى معها من البطاقات ؟

.....

و) سجادة مستطيلة الشكل طولها ٥ متر وعرضها ٣ متر أوجد مساحتها ؟

.....

توقيع ولي الأمر.....

اختبار منتصف الفصل الدراسي الثالث لمادة الرياضيات للصف الرابع الابتدائي للعام الدراسي ١٤٤٥ هـ

الاسم / .....

الرقم / .....

١٠

السؤال الأول : اختر الإجابة الصحيحة فيما يلي :

١- الوحدة المناسبة لقياس المسافة من شمال المملكة إلى جنوبها هي

كلم

☒ أ

م

ج

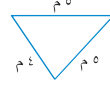
سم

ب

ملم

أ

٢- محيط الشكل المجاور يساوي



٢٥ م

د

٥ م

ج

١٠ م

ب

١٤ م

أ

٣- التقدير الأنسب لسعة إبريق الشاي هو:



١٠ مل

د

٥٠ ل

ج

١ ل

☒ ب

١ مل

أ

٤- التقدير الأنسب لمساحة الشكل المجاور هو :



٨ وحدات مربعة

د

٤ وحدات مربعة

ج

٣ وحدات مربعة

ب

٧ وحدات مربعة

أ

٥- التقدير الأنسب لكتلة حبة الموز هي :



٢٠٠ كجم

د

٢٠٠ جم

ج

٢٠ كجم

ب

٢٠ جم

أ

٦- طول الفترة الزمنية من الساعة ١٥ : ٤ مساءً وحتى الساعة ٣٠ : ٥ مساءً هو

ساعتان

د

ساعة و ٣٠ دقيقة

ج

ساعة و ١٥ دقيقة

☒ ب

ساعة واحدة

أ

٧- الكسر الذي يمثل الجزء المظلل في الشكل المجاور هو:

 $\frac{1}{6}$ 

د

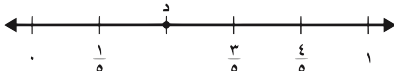
 $\frac{5}{6}$ 

ج

 $\frac{4}{6}$ 
☒ ب
 $\frac{3}{6}$ 

أ

٨- الكسر الذي يمثل النقطة د على خط الأعداد المجاور هو:

 $\frac{4}{5}$ 

د

 $\frac{3}{5}$ 

ج

 $\frac{2}{5}$ 
☒ ب
 $\frac{1}{5}$ 

أ

٩- الكسر المكافئ للكسر  $\frac{1}{4}$  هو : $\frac{2}{5}$ 

د

 $\frac{2}{8}$ 

ج

 $\frac{3}{6}$ 
☒ ب
 $\frac{4}{6}$ 

أ

١٠- كم جرام في ٥ كيلوجرامات ؟

٥٠٠٠ جرام

د

٥٠٠ جرام

ج

٥٠ جرام

ب

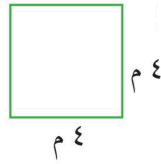
٥ جرامات

أ

السؤال الثاني : ضع علامة (✓) أمام العبارة الصحيحة وعلامة (X) أمام العبارة الخاطئة فيما يلي :

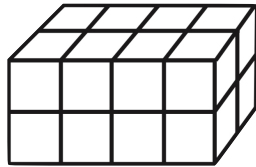
✓	١- المحيط هو طول الخط حول شكل مغلق
X	٢- تقدر كتلة كتاب الرياضيات بجرام واحد تقريبًا .
X	٣- من وحدات الطول المترية اللتر
✓	٤- حجم المجسم هو عدد الوحدات المكعبة اللازمة لملء ذلك المجسم

السؤال الثالث : أجب عن المطلوب فيما يلي :



أ) أوجد مساحة المربع المجاور :

١٦



ب) أوجد حجم المجسم التالي :

١٦ وحدة مكعبة

ج) يحتوي صندوق على ٤ أقلام حمراء و ٣ أقلام سوداء ما الكسر الذي يمثل الأقلام السوداء :

3/7



د) كم ستصبح الساعة بعد ٥ ساعات ؟

٨ : ٥

هـ) كان مع نورة ١٠ بطاقات ملونة، أعطت أختها ثلاث منها أكتب الكسر الذي يمثل ما تبقى معها من البطاقات ؟

7/10

و) سجادة مستطيلة الشكل طولها ٥ متر وعرضها ٣ متر أوجد مساحتها ؟

15 = 3 x 5

معلم /ة المارة :