



مدرسة التميز النموذجية - ابتدائي - متوسط - ثانوي

# المراجعة النهائية

## مادة الاجتماعيات

### الصف السادس



2026 / 2025  
الفصل الدراسي الثاني

## الموقع الجغرافي لدول الخليج العربية واهميته الاقتصادية

### السؤال الأول: أكمل العبارات التالية بما يناسبها مما درست:

١. دول الخليج العربي تقع في قارة آسيا
٢. تقع دول الخليج العربي بالنسبة لدول الوطن العربي في جهة الشرق
٣. لعبت دول الخليج العربي دوراً بارزاً كوسيط تجاري بين الشرق و الغرب
٤. يمر بكلاً من الامارات والسعودية وسلطنة عُمان دائرة عرض هي مدار السرطان
٥. تقع دول الخليج العربية بالنسبة لمسطح الخليج العربي في الجهة الغربية
٦. كانت منطقة دول الخليج العربية مركزاً عالمياً لتجارة اللؤلؤ
٧. كانت منطقة الخليج العربي ممراً مائياً هاماً في التجارة من أوروبا إلى الهند وإفريقيا
٨. تنوعت الأنشطة الاقتصادية البحرية بين صيد الأسماك وصناعة السفن
٩. تطل دولة الكويت على مسطح مائي اسمه الخليج العربي
١٠. كانت منطقة دول الخليج العربي ممراً مائياً هاماً لتجارة الحرير و التوابل

### السؤال الثاني: أكمل الجمل التالية:

١. المدار الذي يمر عبر بعض دول الخليج العربي يسمى مدار السرطان
٢. المسطح المائي التي تطل عليها كل دول الخليج العربي هو الخليج العربي



#### الأهمية الاقتصادية لموقع دول الخليج العربية قديماً...

تنوعت الأنشطة الاقتصادية البحرية في منطقة الخليج مثل: صيد الأسماك وصناعة السفن.

كانت منطقة دول الخليج العربية مركزاً عالمياً لتجارة اللؤلؤ.

يعتبر الخليج العربي ممراً مائياً هاماً للتجارة قديماً خاصة تجارة الحرير والتوابل.



## التنافس الاستعماري على منطقة الخليج العربية

### السؤال الأول: عرف المفاهيم التالية:

١. **الاستعمار:** هو أن تسيطر دولة قوية على دولة ضعيفة بهدف استغلال موقعها ومواردها

### السؤال الثاني: بالاستعانة بخريطة قارة أوروبا ثم أجب :



١. أولى الدول الاستعمارية الأوروبية مجيئاً لدول الخليج العربي هي دولة **البرتغال**
٢. أهم الدول الاستعمارية التي جاءت لمنطقة الخليج العربي هي **البرتغال وهولندا وبريطانيا**
٣. ظهر الاستعمار البرتغالي في **القرن السادس عشر**
٤. ظهر الاستعمار الهولندي في **القرن السابع عشر**
٥. نجحت دولة بريطانيا في إحكام سيطرتها على دول الخليج العربي من **خلال الاتفاقيات والمعاهدات**



## السؤال الثالث: بم تفسر:

١. انتهاء الاستعمار البرتغالي بدول الخليج العربي؟  
بسبب ظهور منافسين جدد إلا وهم الهولنديون
٢. انتهاء الاستعمار الهولندي بدول الخليج العربي؟  
بسبب ظهور منافسين جدد وهم البريطانيون - وقوع هولندا تحت الاستعمار الفرنسي
٣. فرض بريطانيا سيطرتها على دول الخليج العربي؟  
نظراً لأهميتها التجارية بالنسبة لبريطانيا

## اتفاقية الحماية بين دولة الكويت وبريطانيا ١٨٩٩ م

### السؤال الأول: أكمل العبارات التالية بما يناسبها مما درست:

١. تم عقد اتفاقية الحماية بين دولة الكويت وبريطانيا في سنة ١٨٩٩ م
٢. الصورة التي أمامك لحاكم الكويت الذي عقد اتفاقية الحماية مع دولة بريطانيا هو الشيخ مبارك الكبير



### السؤال الثاني: بم تفسر :-

١. حرص دولة الكويت علي عقد اتفاقية الحماية مع بريطانيا؟  
لحماية دولة الكويت من أخطار الدولة العثمانية
٢. لاتفاقية الحماية أهمية كبرى لدولة الكويت؟  
للمحافظة على كيانها السياسي - لحفظ حدودها من الاطماع الخارجية



## مرحلة الاستقلال لدولة الكويت ودول الخليج العربية

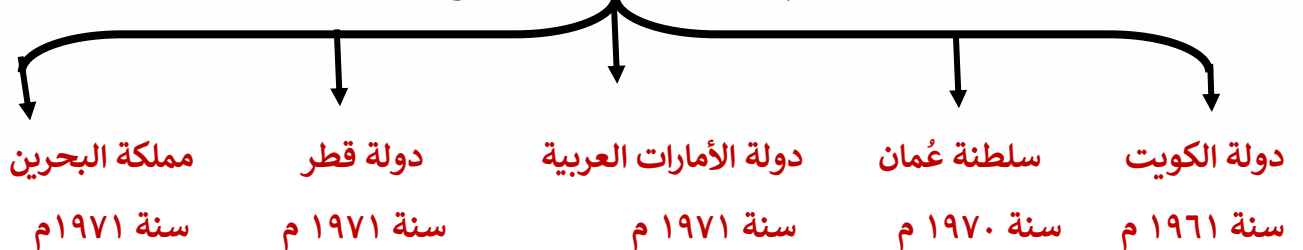
بعد مطالعة الخريطة المرفقة أكمل المخطط السهمي التالي:-



## مدرسة التميز النموذجية

أكمل المخطط السهمي التالي:- (ابتدائي - متوسط - ثانوي)

### أعوام استقلال دول الخليج العربية



## السؤال الثاني: أكتب المصطلح العلمي للمفاهيم التالية:

١. (الاستقلال): تحرر الدولة من المستعمر الأجنبي وقيامها بمسؤولية إدارة شؤونها الداخلية والخارجية

## السؤال الثالث: علل لما يلي:

- لُقّب الشيخ عبد الله السالم بأبو الاستقلال؟
- بسبب حصول دولة الكويت على الاستقلال في عهده.

## السؤال الرابع: أكمل العبارات التالية بما يناسبها مما درست:

١. لُقّب الشيخ عبد الله السالم بأبو الاستقلال
٢. حصلت دولة الكويت على استقلالها من دولة بريطانيا في سنة ١٩٦١ م
٣. الدولة الخليجية الوحيدة التي لم تخضع للاستعمار هي المملكة العربية السعودية
٤. بعد الاستقلال استُبدلت اتفاقية الحماية باتفاقية اسمها الصدّاقة والتشاور
٥. الدولة الخليجية التي حصلت على استقلالها في سنة ١٩٧٠ م هي سلطنة عُمان

## تطور الحياة السياسية في دولة الكويت

### السؤال الأول: أكمل المخطط السهمي التالي:



## السؤال الثاني: أكمل العبارات التالية بما يناسبها مما درست:

- ١- تم تكوين المجلس التأسيسي بدولة الكويت لتكون مهمته وضع الدستور
- ٢- أعلن الدستور الكويتي في سنة ١٩٦٢ م
- ٣- بلغ عدد مواد الدستور الكويتي ١٨٣ مادة

## السؤال الثالث: علل لقب الشيخ عبد الله السالم بأبو الدستور

- بسبب صدور دستور دولة الكويت في عهده



## عرف ما يلي:

١-الدستور: هو قانون الدولة الأساسي الذي يحدد نظام المجتمع وحقوق المواطنين وواجباتهم

### أهم مبادئ الدستور الكويتي

**حقوق الإنسان**  
هي المتطلبات الأساسية لجميع الأفراد دون تمييز.

**الديمقراطية**  
تعني: التشاور والحوار لتحقيق المصلحة العامة، وهي ترتبط بمفهوم المواطنة.

**سيادة الدولة**  
تعني: حق الدولة في إدارة أمورها الداخلية في صلاحياتها وطاعة الأفراد للنظام والقانون

### السكان في دول الخليج العربية

## عرف ما يلي:

١-النمو السكاني: هو التغير الذي يحدث لعدد السكان نتيجة للزيادة الطبيعية والغير طبيعية

فرق من حيث المفهوم بين كلاً من:

(ابتدائي - متوسط - ثانوي)

الزيادة الغير طبيعية	الزيادة الطبيعية
الفرق بين معدلات الهجرة الوافدة ومعدلات الهجرة المغادرة	عدد المواليد - عدد الوفيات



## السؤال الثاني: علل لما يلي: -

شهدت دولة الكويت ودول الخليج العربية نمواً سكانياً بعد اكتشاف النفط؟  
( الزيادة الغير طبيعية للسكان في دول الخليج العربية ) ؟

- توفر الرعاية الصحية
- توفر فرص العمل
- ارتفاع الأجور
- سيادة الأمن والأمان

## السؤال الرابع: عرف الكثافة السكانية:

$$\frac{\text{الكثافة السكانية}}{\text{عدد السكان}} = \text{مساحة الدولة}$$

## السؤال الخامس: أكمل العبارات التالية بما يناسبها:

١. أعلى دولة خليجية في الكثافة السكانية هي دولة البحرين
٢. أكثر دولة خليجية في تعداد السكان هي المملكة العربية السعودية

## (التحديات السكانية في دول الخليج العربية)

### السؤال الأول: أكمل العبارات التالية بما يناسبها مما درست:

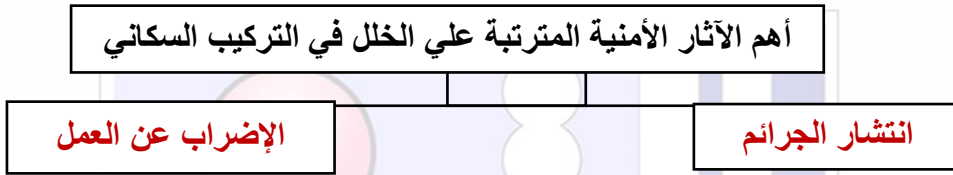
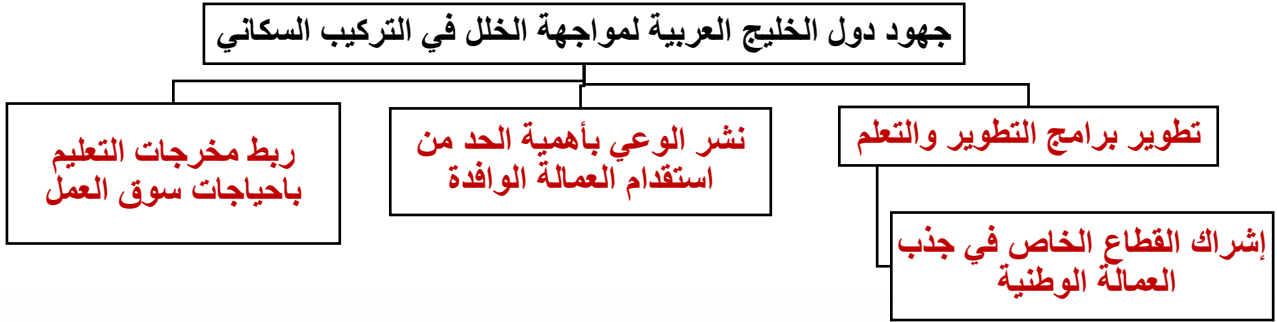
١. تبلغ نسبة المواطنين في دول الخليج العربية نسبة تبلغ ٤٧%
٢. تبلغ نسبة غير المواطنين في دول الخليج العربية نسبة تبلغ ٥٣%

## السؤال الثاني: عدد أهم الآثار الاقتصادية المترتبة علي الخلل في التركيب السكاني.

أ-استنزاف الموارد المالية      ب-زيادة عدد البطالة للعمالة الوطنية



## السؤال الثالث: أكمل المخططات السهمية التالية:



## السؤال الرابع: عرف المفاهيم التالية:

١. الخلل السكاني: التفاوت الكبير بين فئات سكان الدولة من حيث الجنسية والعمر والجنس

السؤال الخامس: عدد أهم الآثار الناجمة عن الخلل في التركيب السكاني.

١. الآثار الأمنية
٢. الآثار الاجتماعية
٣. الآثار الاقتصادية
٤. الآثار الصحية
٥. الآثار الثقافية

## مدرسة التميز النموذجية

(ابتدائي - متوسط - ثانوي)

### التشابه الثقافي بين سكان دول الخليج العربية

السؤال الأول: أكمل العبارات التالية بما يناسبها مما درست:

١. تنقسم الثقافة إلى نوعين عناصر مادية وعناصر غير مادية
٢. يطلق علي الملابس والمباني ووسائل النقل اسم العناصر المادية
٣. يطلق علي العناصر التي تتكون من القيم والمبادئ والعادات والتقاليد اسم العناصر الغير مادية

الثقافة: هي ثمرة النشاط الفكري والمادي لدي الانسان

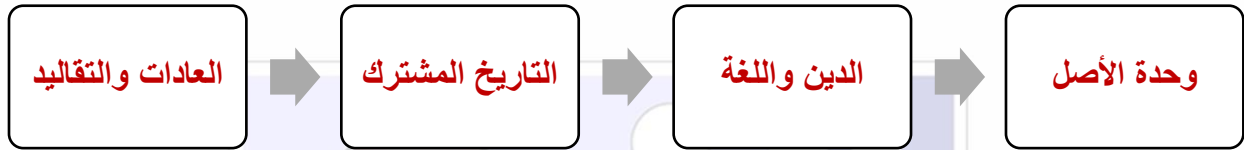


## عدد العوامل التي أدت إلى التشابه الثقافي بين سكان دول الخليج العربية

- وحدة الأصل
- الدين واللغة
- التاريخ المشترك
- العادات والتقاليد

أكمل المخطط السهمي التالي:

## التشابه الثقافي بين سكان دول الخليج العربية



## الثقافة الرقمية للإنسان الخليجي

السؤال الأول: أكمل العبارات التالية بما يناسبها مما درست:

١. يطلق علي البرنامج الإلكتروني الذي يحاكي الذكاء الإنساني اسم الذكاء الاصطناعي

٢. الشعار الموجود امامك يشير إلي المركز الوطني للأمن السيبراني

٣. يطلق علي حماية البرمجيات من الاختراقات السيبرانية على الشبكات الالكترونية

اسم الأمن السيبراني



مدرسة التميز النموذجية

ابتدائي - متوسط - ثانوي



السؤال الثاني: فرق بين مجالات استخدام الذكاء الاصطناعي وسلبياته:

سلبيات الذكاء الاصطناعي	مجالات استخدام الذكاء الاصطناعي
عدم معرفة بعض الأفراد بالبرامج الالكترونية	مجال الطب
مُكلف للغاية	مجال التعليم
يضعف الإبداع	مجال السفر
	مجال التجارة

السؤال الثالث: اذكر جهود دولة الكويت في مواجهة تحديات الأمن السيبراني.

- المركز الوطني للأمن السيبراني
- الهيئة العامة للاتصالات وتقنية المعلومات

الوعي الثقافي للإنسان الخليجي

السؤال الأول: أكمل العبارات التالية بما يناسبها مما درست:

١. يطلق على التطبيقات الحديثة للتواصل والتفاعل مع الآخرين اسم وسائل التواصل الاجتماعي

السؤال الثاني: فرق بين إيجابيات وسائل التواصل وسلبياتها:

سلبيات وسائل التواصل الاجتماعي	إيجابيات وسائل التواصل الاجتماعي
هدر الوقت	تعزيز العلاقات الاجتماعية
نشر الشائعات	إثراء المعلومات
الغزو الثقافي	تطوير الذات



## موارد الطاقة (النفط والغاز الطبيعي) في دول الخليج العربية

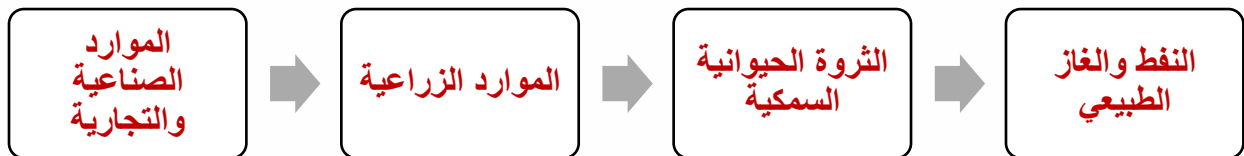
السؤال الأول: أكمل العبارات التالية بما يناسبها مما درست:

١. تحتل دول الخليج العربية في انتاج واحتياطي النفط والغاز الطبيعي المركز الأول
٢. تبلغ نسبة انتاج النفط لدول الخليج العربية بالنسبة لدول العالم نسبة ٢٣٪
٣. تبلغ نسبة انتاج الغاز الطبيعي لدول الخليج العربية بالنسبة لدول العالم نسبة ١٠٪
٤. تبلغ نسبة احتياطي النفط لدول الخليج العربية بالنسبة لدول العالم نسبة ٣٢٪
٥. تبلغ نسبة احتياطي الغاز الطبيعي لدول الخليج العربية بالنسبة لدول العالم نسبة ٢١٪



## مدرسة التميز النموذجية

الموارد الاقتصادية في دول الخليج العربية



## السؤال الثاني: أذكر أهم الدول المستوردة للنفط الخليجي:

ج- هولندا

ب-الولايات المتحدة الأمريكية

أ-اليابان

## السؤال الثالث: بعد مطالعة الخريطة المرفقة أكمل الجمل التالية:



## السؤال الرابع: اختر من القائمة (أ) ما يناسبها من القائمة (ب) بوضع الرقم المناسب:

الرقم	العبارات	(أ)	(ب)
١	حقل الشمال – ميناء مسعيد	٣	السعودية
٢	حقل برقان – بحرة – ميناء الأحمدية - الزور	١	قطر
٣	حقل الغوار – ميناء السفانية	٢	الكويت



## السؤال الخامس: أكمل العبارات التالية بما يناسبها مما درست:

١. أكبر الحقول النفطية بدولة الكويت هو حقل برقان
٢. أولى الحقول النفطية المكتشفة بدولة الكويت هو حقل بحرة
٣. ثاني أكبر الحقول النفطية بدول الخليج العربية هو حقل برقان
٤. أكبر حقول الغاز الطبيعي بدولة قطر هو حقل الشمال

## السؤال السادس: بم تفسر:

- اهتمت دول الخليج بإقامة العديد من الموانئ النفطية؟
- بسبب زيادة الإنتاج النفطي
- زيادة الطلب العالمي

## الموارد الزراعية في دول الخليج العربية

### السؤال الأول: أكمل العبارات التالية بما يناسبها مما درست:

١. من الخضروات والفاكهة الموجودة بدول الخليج مثل الطماطم والخيار والخضروات الورقية
٢. الدولة الخليجية الرائدة في زراعة محصول القمح هي المملكة العربية السعودية
٣. تنتشر في دول الخليج العربية زراعة أشجار النخيل

### السؤال الثاني: عرف المفاهيم التالية:

١. الزراعة بدون تربة: هي الزراعة التي تتم في بيئة مائية أو رملية أو نشارة خشب تضاف إليها محاليل غذائية
٢. البيوت البلاستيكية: هي زراعة الخضروات في غير مواسمها بحمايتها من تقلبات الطقس

### السؤال الثالث: علل لما يلي:

- قامت دول الخليج العربية بدعم وتشجيع الزراعة؟
- لتحقيق الاكتفاء الذاتي من الغذاء
- لتقليل الاعتماد من الاستيراد للمواد الغذائية
- حرص دول الخليج العربية على زراعة الأشجار الخشبية؟
- لتجميل الشوارع والحدائق
- لتثبيت الرمال ومصدات الرياح



## السؤال الرابع: عدد جهود دول الخليج العربية في قطاع الزراعة

١ - دعم المزارعين ومنحهم القروض الميسرة

٢ - استصلاح الأراضي لزيادة الرقعة الزراعية

٣ - العمل على إيجاد مصادر مياه عذبة

٤ - العمل على إيجاد طرق زراعة حديثة (الزراعة بدون تربة - البيوت البلاستكية)

## أذكر أهم الإنتاج الزراعي في دولة الكويت ودول الخليج العربية:

ج- التمور

ب- الحبوب

أ- الخضار والفواكه

## السؤال الخامس: بعد مطالعة الخريطة المرفقة أكمل الجمل التالية:



سلطنة عمان	دولة الإمارات العربية المتحدة	المملكة العربية السعودية	دولة الكويت
صلالة سهل الباطنة	العين - ليوا	الاحساء - حائل	العبدي - الوفرة



## موارد الثروة الحيوانية والسمكية في منطقة الخليج العربية

### السؤال الأول : علل لما يلي:

١. زيادة ملحوظة في موارد الثروة الحيوانية بدول الخليج العربية؟
  - بسبب انشاء محطات الأبحاث والمحاجر البيطرية
  - بسبب انشاء المشاريع الحيوانية
  - تقديم الإعانات المجانية لمساعدة مربي الحيوانات والدواجن

### السؤال الثاني: عرف المفاهيم التالية:

- الاستزراع السمكي: هو تربية الأسماك بأنواعها المختلفة تحت ظروف محكمة وسيطرة الانسان

### السؤال الثالث : أذكر أهم موارد الثروة الحيوانية في دول الخليج العربية:

- أ-بيض المائدة
- ب-منتجات الألبان
- ج- لحوم الدجاج واللحوم الحمراء

### السؤال الرابع: أكمل العبارات التالية بما يناسبها مما درست:

١. يتصدر قائمة الثروة الحيوانية بالمركز الأول في دول الخليج العربية حيوان **الضأن**
٢. يأتي بالمرتبة الثانية بقائمة الثروة الحيوانية في دول الخليج العربية حيوان **الماعز**
٣. تنقسم موارد الثروة السمكية في دول الخليج العربية بين الأسماك المصطادة و**استزراع الأسماك**
٤. الدولة الخليجية التي تأتي في المركز الأول من نسبة الأسماك المصطادة هي **سلطنة عُمان**
٥. الدولة الخليجية التي تأتي في المركز الأول من نسبة الاستزراع السمكي هي **المملكة العربية السعودية**

## الموارد الصناعية والتجارية في منطقة الخليج العربية

### السؤال الأول : علل لما يلي:

١. اهتمت دول الخليج العربية بتطوير الصناعة وتنوع أنشطتها ؟
  - لدورها الحيوي في التنمية الاقتصادية
  - لأنها إحدى الركائز الأساسية لزيادة الدخل القومي

### السؤال الثاني: عرف المفاهيم التالية:

- الصناعة: هو عملية تحويل المواد الخام لمنتجات جاهزة للاستخدام
- الصادرات: هي السلع والخدمات التي تبيعها دولنا في الخارج
- الواردات: هي السلع التي تشتريها دولنا من الخارج
- الترانزيت: إعادة تصدير البضائع المستوردة



## السؤال الثالث: أكمل المخطط السهمي التالي بما يناسبه مما درست:



## السؤال الرابع: أكمل العبارات التالية بما يناسبها مما درست:

١. تعتبر كلاً من الشويخ والشعبية من المناطق الصناعية في دولة الكويت
٢. تعتبر كلاً من صحار وميناء الفحل من المناطق الصناعية في سلطنة عُمان
٣. تعتبر كلاً من الرويس وجبل على من المناطق الصناعية في دولة الإمارات العربية المتحدة
٤. تعتبر كلاً من الجبيل وينبع من المناطق الصناعية في المملكة العربية السعودية
٥. تعتبر كلاً من شمال سترة وميناء سلمان من المناطق الصناعية في مملكة البحرين
٦. تعتبر منطقة أمسيعيد من المناطق الصناعية في دولة قطر

السؤال الخامس: صنف الصادرات والواردات في منطقة الخليج العربية حسب مكانها الصحيح بالجدول: (ابتدائي - متوسط - ثانوي)

مدرسة التميز النموذجية

(الغاز الطبيعي - الأجهزة الكهربائية - النفط - المنتجات الغذائية)

الواردات في دول الخليج العربية	الصادرات في دول الخليج العربية
الأجهزة الكهربائية - اللؤلؤ - الصوف	النفط - الغاز الطبيعي



## التحديات الاقتصادية وسبل تحقيق التنمية في دول الخليج العربية

### السؤال الأول: أجب عن الأسئلة التالية كما هو مطلوب منك:

١. أكتب أهم أسباب مشكلة الغذاء في دول الخليج العربية؟

١ . زيادة عدد السكان      ٢ . تحرك الرمال

٣ . تأثير درجة الحرارة على الإنتاج الزراعي

٢. اذكر أهم أسباب تدهور وفرة المياه في دول الخليج العربي؟

١ . الموقع في الإقليم الصحراوي الجاف

٢ . زيادة التوسع الحضري

٣ . عدم وجود مصادر مياه عذبة

### السؤال الثاني : فرق من حيث المفهوم بين كل من:

الأمن الغذائي	الأمن المائي
هي قدرة المجتمع على توفير الموارد الغذائية بأنواع وكميات مناسبة	هو تأمين الحد الأدنى من الموارد المائية

### السؤال الثالث: عرف المفاهيم التالية:

١ . الطاقة الخضراء: تشمل مصادر الطاقة المتجددة وتشمل الطاقة الشمسية والمائية والرياح

### السؤال الرابع: علل لما يلي:

٢ . ضرورة التقليل من الاعتماد على النفط كمصدر أساسي للدخل ؟

- لتنويع مصادر الدخل

- البحث عن مصادر طاقة بديلة

### السؤال الخامس: أكمل العبارات التالية بما يناسبها مما درست:

١ . تسعى دولة الكويت لتحقيق نسبة كبيرة من مصادر الطاقة المتجددة بحلول عام ٢٠٣٠ م

٢ . تسعى دولة الكويت بحلول عام ٢٠٣٠ م بالاعتماد على مصادر الطاقة المتجددة بنسبة ١٥ %



## ➤ سبل تحقيق التنمية الاقتصادية في دول الخليج العربية :

٤- الاستثمار في رأس المال البشري عن طريق البحث العلمي والتقني

٣- تنمية التجارة البينية ( تبادل السلع والخدمات )

٢- تعزيز التكامل الاقتصادي ودعم المشاريع المشتركة

١- تطوير الصناعات غير النفطية

### مجلس التعاون لدول الخليج العربية



### السؤال الأول :

بعد مطالعة الشعار الذي أمامك أكمل الجدول التالي

اسم المنظمة	المقر	اهداف المنظمة
مجلس التعاون لدول الخليج العربية	الرياض	١. تحقيق التعاون في جميع المجالات ٢. تحقيق الترابط والصلات ٣. العمل على التقدم في المجال العلمي



## السؤال الثاني: عرف المفاهيم التالية:

١. مجلس التعاون لدول الخليج: هي منظمة سياسية اقتصادية إقليمية تضم ست دول عربية خليجية

## السؤال الثالث: اذكر أهم مكونات الهيكل التنظيمي لمجلس التعاون لدول الخليج

١. المجلس الأعلى يتكون من (قادة الدول الأعضاء)
٢. المجلس الوزاري يتكون من (وزراء الخارجية)
٣. الأمانة العامة

## السؤال الرابع: أكمل العبارات التالية بما يناسبها مما درست:

١. صاحب فكرة إنشاء مجلس التعاون لدول الخليج هو الشيخ جابر الأحمد الجابر الصباح
٢. تم انشاء مجلس التعاون لدول الخليج العربية في سنة ١٩٨١ م
٣. أُعلن عن قيام مجلس التعاون لدول الخليج في مدينة أبوظبي

## التعاون الأمني والدفاعي المشترك

### السؤال الأول: عرف المفاهيم التالية:

١. المسؤولية الوطنية: هي الانتماء للوطن والقيام بواجبات مقابل التمتع بحقوق والدفاع عنه والتضحية لأجله.

### السؤال الثاني: فرق بين دور مجلس التعاون السياسي والتعاون الأمني والدفاعي:

التعاون الأمني والدفاعي	التعاون السياسي
١. إقرار الاتفاقية الأمنية بين الدول الأعضاء ٢. التدريبات والمناورات العسكرية المشتركة ٣. إنشاء قوات مشتركة ( درع الجزيرة ) ٤. إقرار البطاقة الذكية للمواطنين للتنقل بين دول مجلس التعاون	١. دعم القضية الفلسطينية ٢. تحرير دولة الكويت من الغزو العراقي ٣. دعم وحدة وسيادة واستقرار الدول العربية



### السؤال الثالث: أكمل العبارات التالية بما يناسبها مما درست:

١. تأخذ قوات درع الجزيرة مقرأ دائماً لها وهي دولة المملكة العربية السعودية

### السؤال الرابع: أكمل المخطط السهمي التالي بما يناسبه مما درست:



### التعاون الاقتصادي والتجاري المشترك

السؤال الأول: عرف المفاهيم التالية:

المواطنة الاقتصادية: هي المساواة في المعاملة بين مواطني دول مجلس التعاون الخليجي في كافة المجالات الاقتصادية .

### السؤال الثاني: أكمل المخطط السهمي التالي بما يناسبه مما درست:

### ➤ إنجازات التعاون الاقتصادي والتجاري المشترك:

١- الاتحاد الجمركي



٢- السوق الخليجية المشتركة



٣- الاتحاد النقدي



أ- أكمل المخطط السهمي بما يناسبه:

... الربط المباشر بين شبكات الانترنت.

... خفض أسعار التجوال بين دول المنطقة.

... انشاء منصات إلكترونية لتقديم خدمات حكومية.

إنجازات دول  
مجلس التعاون  
الخليجي في  
التحول الرقمي

**السؤال الثالث: علل لما يلي:**

1. إقامة مشروع الربط الكهربائي بقطاع الكهرباء والماء بين دول الخليج العربية؟
  - تحسين كفاءة استهلاك الطاقة
  - لضمان استمرارية التيار الكهربائي

**التعاون الثقافي والتعليمي المشترك**

**السؤال الأول: أكمل العبارات التالية بما يناسبها مما درست:**

1. عاصمة السياحة الخليجية في سنة ٢٠٢٥ م هي مدينة العين بدولة الإمارات العربية المتحدة
2. عاصمة الثقافة والإعلام العربي لعام ٢٠٢٥ م هي دولة الكويت
3. يقع مقر مكتب التربية العربي لدول الخليج العربية هي مدينة الرياض
4. يقع مقر مؤسسة الإنتاج البرامجي المشترك لمجلس التعاون لدول الخليج العربية بمدينة الكويت

مدرسة التميز النموذجية



السؤال الثاني: أذكر أهم إنجازات التعاون الثقافي لدول الخليج العربي بالجدول:

### إنجازات التعاون الثقافي لدول الخليج العربي

- إقرار ميثاق الشرف الإعلامي لينظم العلاقة بين وسائل الإعلام.
- إقامة نشاطات دورية لترسيخ المواطنة الخليجية في مجال الشباب والرياضة مثل بطولة كأس الخليج العربي لكرة القدم.
- إنشاء مركز الترجمة والتعريب والاهتمام باللغة العربية.
- تنظيم فعاليات ثقافية وتشجيع السياحة الخليجية بوضع عدة خطط لها مثل: مشروع عاصمة السياحة الخليجية.

### التطلعات المستقبلية لدول مجلس التعاون لدول الخليج العربية

السؤال الأول: أكمل العبارات التالية بما يناسبها مما درست:

١. عقد القمة الخامسة والأربعون لمجلس التعاون الخليجي في دولة الكويت
٢. تطمح دول الخليج العربية لتشغيل كامل لمشروع السكة الحديد في سنة ٢٠٣٠ م
٣. تطمح دولة الكويت بأن تكن مركز مالي وتجاري جاذب للاستثمار في سنة ٢٠٣٥ م
٤. اعتمدت التنمية المُستدامة في دولة الكويت علي ركائز بلغت عددها سبعة ركائز



## السؤال الثاني: عدد أهم المشاريع المستقبلية لدول مجلس التعاون الخليجي

➤ المشاريع المستقبلية لدول مجلس التعاون لدول الخليج العربية :



١- الربط الكهربائي مع دول أخرى.



٢- مشروع التأشيرة السياحية الخليجية الموحدة.



٣- تشغيل كامل لمشروع سكة الحديد بين دول المجلس عام ٢٠٣٠م.

## مجالات التطلعات المُستقبلية لدول مجلس التعاون لدول الخليج العربية

٢- استدامة القطاعات الاستثمارية:



السياحة - ريادة الأعمال - التجارة الإلكترونية.

١- الاستدامة الاقتصادية:



تحقيق استقرار مالي ونمو اقتصادي.

٤- الاستدامة البيئية:



تحقيق الأمن المائي والغذائي وتنويع مصادر الطاقة.

٣- الاستدامة الاجتماعية:



تمثيل في قوى عاملة مؤهلة.

عندما يكون تعليم أبنائكم  
اهتمامكم الأول في الحياة



مدرسة التميز النموذجية  
ابتدائي - متوسط - ثانوي

## قنواتنا على تليجرام



الصف الرابع



الصف الثالث



الصف الثاني



الصف الأول



الصف الثامن



الصف السابع



الصف السادس



الصف الخامس



صف 11 أدبي



صف 11 علمي



الصف العاشر



الصف التاسع



صف 12 أدبي



صف 12 علمي

