

مذكرات

الإبداع

الاجتماعيات

الفصل الدراسي الثاني

٢٠٢٤/٢٠٢٣



٦٦٨٩٨٤٨١



@MOZAKERAT\_ALIBD  
AA

٦



## الوحدة الثالثة: - الموارد الاقتصادية لدول الخليج العربية

### (أ) الثروة النفطية

#### • أكمل العبارات الآتية: -

- ١- بدأ التنقيب عن النفط في دولة الكويت عام ١٩٣٤ م
- ٢- أول حقل نفط هو حقل بحرة
- ٣- تم اكتشاف النفط بكميات ضخمة في حقل برقان
- ٤- أعلى دولة في نسبة انتاج النفط هي السعودية وتبلغ نسبة انتاجها ٢٩٪
- ٥- تبلغ نسبة انتاج دولة الكويت من النفط ٨٪
- ٦- تم تصدير أول شحنة من النفط الكويتي عام ١٩٤٦ م في عهد الشيخ أحمد الجابر

#### • علل لما يأتي: -

- ١- انتقل البحث والتنقيب عن النفط إلى حقول النفط الجنوبية  
✓ لأن كميات النفط التي تم العثور عليها في الشمال قليلة
- ٢- قيام دول الخليج العربية بإقامة العديد من الموانئ النفطية

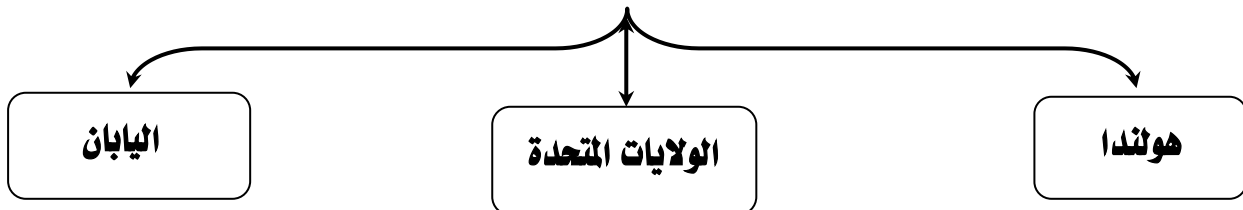
✓ تزايد الإنتاج النفطي

✓ تزايد الطلب العالمي على النفط

#### • فرق بين كلا من: -

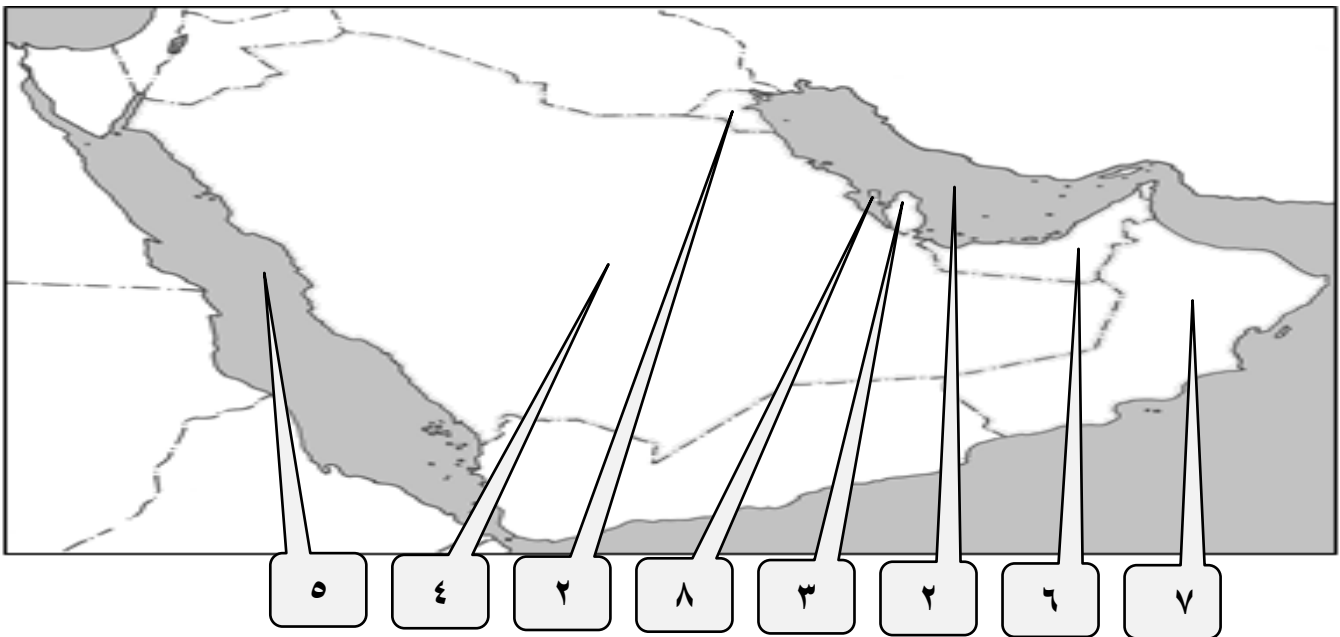
إنتاج النفط	احتياط النفط
كميات النفط التي يتم استخراجها للاستفادة منها	كميات النفط المخزونة في باطن الأرض

#### • اهم الدول المستوردة للنفط :-



تصنيف حقول وموانئ تصدير النفط لدول الخليج العربية						
الدولة	الامارات	البحرين	السعودية	عمان	قطر	الكويت
حقل النفط	مربان / العصب / بوحصا / أم الشيف	عوالي	خريص / الغوار بقيق	لخوير / بابل / فهود / ناطح	دخان	برقان / بحرة / الروضتين
ميناء التصدير	جبل الظنة / المبرز	سترة	راس تنورة / رأس الخفجي	الفحل	امسعيد	الأحمدي / الزور

• لاحظ خريطة دول الخليج العربية الصماء ثم استعن بالأرقام لإكمال العبارات التالية:



✍ الدولة التي يوجد بها حقل الغوار النفطي يشير لها على الخريطة الرقم (٤)

✍ الدولة التي يقع فيها ميناء إمسيعد يشير لها على الخريطة الرقم (٣)

✍ الخليج العربي يشير له على الخريطة الرقم (٢)

✍ البحر الأحمر يشير له على الخريطة الرقم (٥)

✍ الدولة التي يوجد بها حقل ناطح النفطي يشير لها على الخريطة الرقم (٧)

✍ الدولة التي يقع فيها ميناء سترة يشير لها على الخريطة الرقم (٨)

✍ الدولة التي يوجد بها حقل مربان النفطي يشير لها على الخريطة الرقم (٦)

✍ الدولة التي يقع فيها ميناء الاحمدي يشير لها على الخريطة الرقم (١)

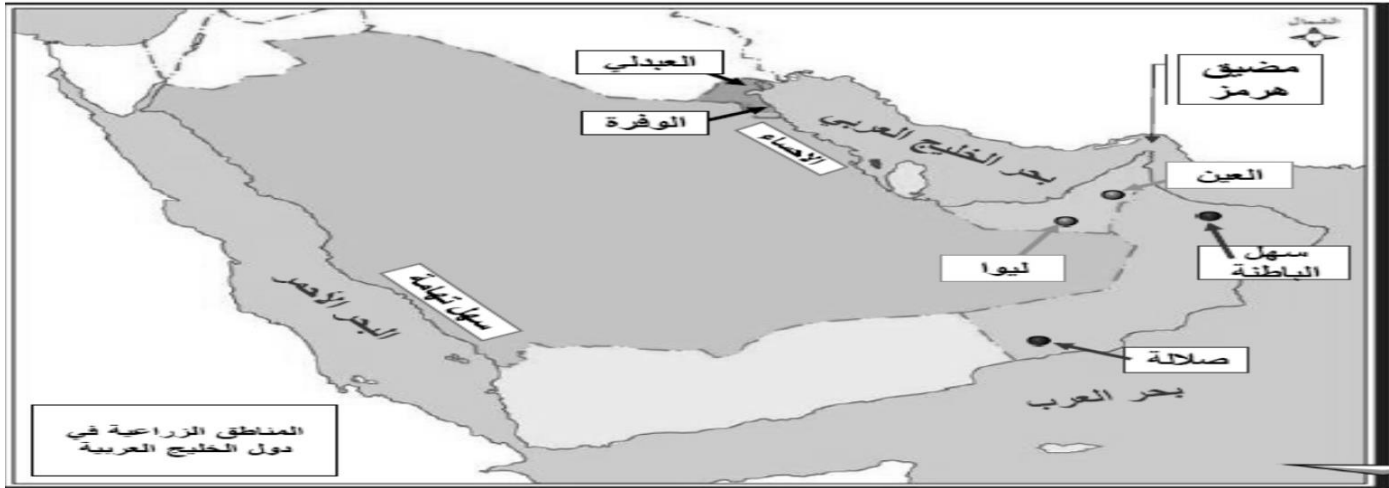


• **صح ما تحته خط واكتب الإجابة الصحيحة فيما بين القوسين**

العبارة	التصحيح
١- أعلى دولة في نسبة انتاج النفط هي <u>الامارات</u>	السعودية
٢- كميات النفط المخزونة في باطن الأرض تسمى <u>إنتاج النفط</u>	احتياطي النفط
٣- يقع حقل نفط دخان في مملكة <u>البحرين</u>	قطر
٤- تم تصدير أول شاحنه من النفط في عهد الشيخ <u>جابر الأحمد الصباح</u>	احمد الجابر الصباح
٥- أول حقل نفطي كويتي تم التنقيب عنه في الحقول الجنوبية يسمى <u>الوفرة</u>	برقان

(ب) الموارد الزراعية

المناطق الزراعية في دول الخليج				
الدولة	الكويت	السعودية	الإمارات	عمان
المنطقة الزراعية	الوفرة العبدلي	الإحساء سهل تهامة	العين ليوا	صلالة سهل الباطنة



• **عرف المفاهيم الآتية: -**

الزراعة بدون تربة	البيوت البلاستيكية
هي الزراعة التي تتم في بيئة مائية، أو رملية، أو حصى، أو نشارة خشب يضاف لها المحاليل الغذائية	يزرع فيها الخضراوات في غير أوقاتها وتقوم بحماية المحاصيل من تقلبات الطقس

## (د) الموارد التجارية

• علل لما يأتي :-

١- انتعاش الموانئ التجارية في دول الخليج العربية؟

◀ بسبب العلاقات التجارية مع دول العالم

◀ بسبب الصادرات والواردات

• قارن بين كلا من :-

وجه المقارنة	الصادرات	الواردات	ترانزيت
التعريف	السلع والمنتجات التي تبيعها دولنا في الخارج	البضائع والسلع التي تشتريها دولنا من الخارج	اعادة تصدير البضائع المستوردة
امثلة	النفط - الغاز	المواد الغذائية - السيارات - الملابس - الاجهزة الكهربائية	



٥



٤



٣



٢



١

• لاحظ الصور وصنفها بين صادرات وواردات بوضع الرقم في الجدول التالي

واردات	صادرات
١ - ٣ - ٤	٢ - ٥

• اختر الإجابة الصحيحة من الخيارات الآتية :-

١- اول حقل نفطي بدولة الكويت

برقان - بحرة - الروضتين - الرتبة

٢- بدا التنقيب عن النفط في دولة الكويت عام

١٩٣٤م - ١٩٤٤م - ١٩٤٥م - ١٩٦٣م

٣- للملكة العربية السعودية تجربة رائدة في زراعة محصول

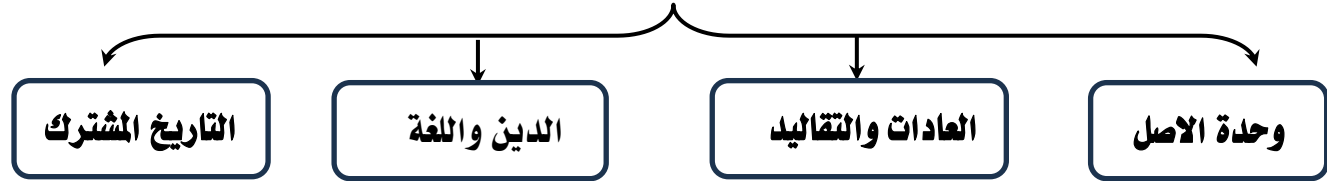
القمح - الشاي - الأرز - الشعير

## ب- التشابه الثقافي بين سكان دول الخليج العربية

### • عرف ما يلي :-

- ((الثقافة)) مجموعه من العادات والتقاليد والقيم في مجتمع من المجتمعات

### الروابط التي تربط بين سكان دول الخليج العربية



شكل (٣٣) صورة توضح قلعة البحرين وتسمى بقلعة البرتغال



### العادات والتقاليد

## التقويم

### • السؤال الاول: أكمل العبارات التالية بما يناسبها مما درست

- ١- ترجع اصول السلالات السكانية في منطقة الخليج العربية الي جنس البحر المتوسط وشرق افريقيا
- ٢- اعلي دولة عربية خليجية في نسبة الوافدين الإمارات
- ٣- اصبحت منطقة الخليج العربية منطقة جلب سكاني بعد اكتشاف النفط
- ٤- أكثر دولة عربية خليجية في الكثافة السكانية البحرين
- ٥- الدولة العربية الخليجية التي تحتل المركز الاول من حيث عدد السكان المملكة العربية السعودية
- ٦- اقل دولة عربية خليجية في عدد السكان البحرين
- ٧- العام الذي تعرضت فيه الكويت للغزو العراقي هو ١٩٩٠ م

### • السؤال الثاني: اختر الاجابة الصحيحة للعبارات التالية من بين الخيارات التي تلي كلا منها :

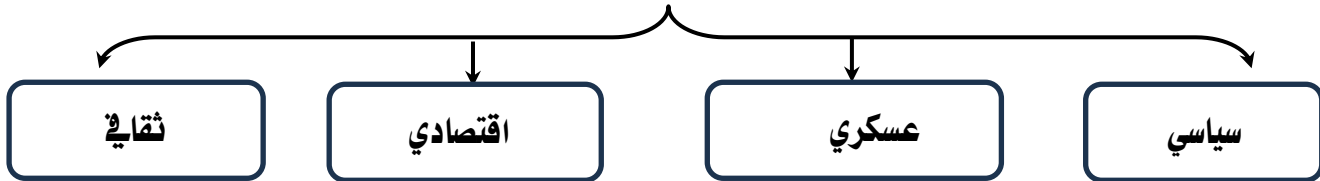
- ١- اقل دولة عربية خليجية في نسبة المواطنين

(الإمارات - الكويت - البحرين - عمان)

## الوحدة الخامسة: - الكويت ودول الخليج العربية في مواجهة التحديات

### أ- تعاون دولة الكويت مع دول الخليج العربية لتحقيق اهداف مشتركة

#### • أهم مجالات التعاون بين دول مجلس التعاون الخليجي: -



#### • أولاً: التعاون السياسي.

- إدانة احتلال الجزر الإماراتية الثلاث
- مناصرة القضايا العادلة مثل قضية الشعب الفلسطيني
- توحيد الموقف السياسي الخليجي تجاه عدوان النظام العراقي على دولة الكويت

#### • ثانياً: التعاون العسكري.

- التدريبات العسكرية المختلفة.
- قبول أبناء دول مجلس التعاون في الكليات العسكرية.
- المشاركة في حرب تحرير الكويت
- إنشاء قوة مشتركة تضم جميع دول مجلس التعاون الخليجي (درع الجزيرة)

#### • ثالثاً: التعاون الاقتصادي.

- صدور إعلان الدوحة بشأن قيام السوق الخليجية المشترك في يناير ٢٠٠٨ م
- زيادة التبادل التجاري

#### • رابعاً: التعاون الثقافي.

- توحيد المناهج التعليمية وتطويرها
- إنشاء مكتب التربية العربي ومقرة الرياض
- اجتماع وزراء التربية والتعليم لدول الخليج العربية كل عامين لوضع السياسات التربوية



# لطلب المذكرة كاملة



٦٦٨٩٨٤٨١

اضغط هنا للطلب



[mozakerat\\_alibdaa](https://www.instagram.com/mozakerat_alibdaa)



[mozakerat\\_alibdaa](https://www.telegram.com/mozakerat_alibdaa)

انضم لقناة التاجرام وشاهد نماذج مذكرتنا