

مادة الرياضيات
الاختبار التحصيلي الأول
للمصف الأول الابتدائي

الفصل الدراسي الأول من العام ٢٠٢٣ / ٢٠٢٤



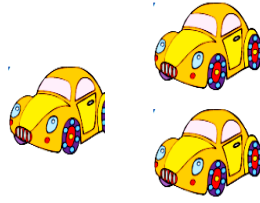

وزارة التربية
الإدارة العامة لمنطقة حولي التعليمية
التوجيه الفني

الصف: ١ /

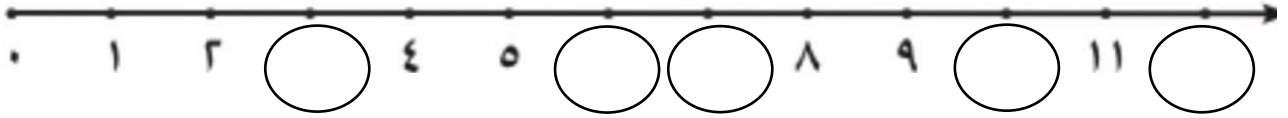
الاسم:

أولاً: الأسئلة المقالية

السؤال الأول: أكتب رمز لكل مما يأتي :



السؤال الثاني: أكمل بكتابة رموز الأعداد المناسبة :



السؤال الثالث: قارن ، اكتب رمز العلاقة ، < ، > ، = :

٩ ○ ١٠



٦ ○ ٢

السؤال الرابع: أكمل النمط:



ثانياً : الأسئلة الموضوعية (٥ درجات)

** ضع علامة (√) أسفل المجموعة الأكثر :

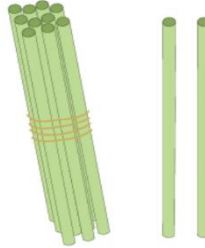
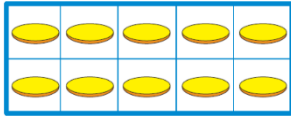


السؤال الأول : * ضع علامة (√) أسفل المجموعة الأقل :



السؤال الثاني : حوط :

* الشكل المناسب لتمثيل العدد ١٢ :



** عدد الشطائر هو :

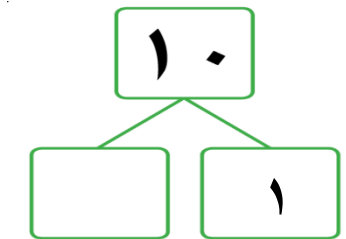


٩

٨

٧

*** رمز العدد المناسب لتكوين العشرة :



٩

١٠

٨