

اختبار الفصل ٨ من الفصل الدراسي الثاني لعام ١٤٤٧ هـ

الاسم:
الدرجة
المستحقة

ابدأ مستعين بالله في حل جميع الأسئلة التالية :

السؤال الأول : اختر الإجابة الصحيحة بوضع علامة (√) أمام الاختيار الصحيح فيما يلي :

١ قَدِرْ طَوَّلَ مَا يَأْتِي، ثُمَّ أوجد قياسه مقرباً إلى أَقْرَبِ مِلِّيمَةٍ وَإِلَى أَقْرَبِ سِنْتِيمِترٍ .



٢٠ ملم ≈ ٢ سم

ج

٤٠ ملم ≈ ٤ سم

ب

٣٠ ملم ≈ ٣ سم

أ

٢ أختَرِ أَفْضَلَ تَقْدِيرٍ: لَطَوَّلَ قَلَمِ السَّبَّورَةِ.

٢ سم

ج

١٠ سم

ب

١٠ ملم

أ

٣ الوَثْبُ الطَّوِيلُ: يَبْقَى الرَّقْمُ العَالَمِيُّ فِي الوَثْبِ الطَّوِيلِ ثَابِتًا لِسَنَوَاتٍ عَدِيدَةٍ.
مَا التَّقْدِيرُ الأَفْضَلُ لِلْمَسَافَةِ الَّتِي وَثَبَهَا صَاحِبُ الرَّقْمِ العَالَمِيِّ: ٩ م أم ٩ كِلم؟



-

ج

٩ كِلم

ب

٩ م

أ

٤ أختَارِ الوَحْدَةَ الأنسَبَ لِقيَاسِ طَوَّلِ نَمْلَةٍ :

الكِيلومتر

ج

المِتر

ب

المِلِّيمِتر

أ

٥ اليومُ أَصْبَحَ مَعَ فَاطِمَةَ ٣٦ قَلَمًا، وَقَدْ كَانَ مَعَهَا أَمْسِ نِصْفُ هَذَا العَدَدِ زَائِدَ اثْنَيْنِ، فَكَمْ كَانَ مَعَهَا أَمْسِ؟

١٨

ج

٢٠

ب

١٦

أ

٦ أَيُّ العِبَارَاتِ الآتِيَةِ تُعَرِّفُ المُحِيطَ تَعْرِيفًا صَحِيحًا؟

هو عددٌ أضلاع الشكل.

ج

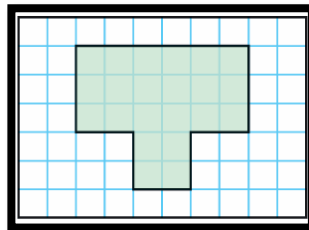
هو المساحة داخل الشكل.

ب

هو طول الإطار الخارجي للشكل.

أ

٧ ما مُحِيطُ الشَّكْلِ المُظَلَّلِ؟



٢٠ وحدة مربعة

ج

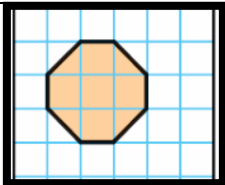
١٥ وحدة مربعة

ب

٢٢ وحدة مربعة

أ

٨ ما مِسَاحَةُ الشَّكْلِ المُظَلَّلِ؟



٧ وَحَدَاتٍ مُرَبَّعَةٍ


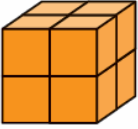
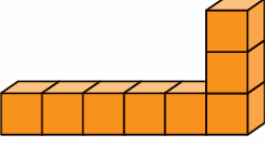

ج

٦ وَحَدَاتٍ مُرَبَّعَةٍ

ب

٥ وَحَدَاتٍ مُرَبَّعَةٍ

أ

٩ أَيُّ الْمَجَسَّمَاتِ الْآتِيَةِ حَجْمُهُ أَقَلُّ مِنْ ٧ وَحَدَاتٍ مُكَعَّبَةٍ؟					
أ		ب		ج	
١٠ أَخْتَرِ الْوَحْدَةَ الْأَنْسَبَ لِقِيَاسِ سَعَةِ الْكُوبِ الْمَجَاوِرِ.					
أ	١٠ مل	ب	١٠٠ مل	ج	٥ ل
١١ تَوْضِّحِ السَّاعَتَانِ أَدْنَاهُ مَتَى بَدَأَ مُحَمَّدٌ تَرْتِيبَ عُرْفَتِهِ، وَمَتَى انْتَهَى مِنْ ذَلِكَ. كَمْ اسْتَعْرَقَ مِنَ الْوَقْتِ فِي تَرْتِيبِ عُرْفَتِهِ؟					
أ	ساعة واحدة	ب	ساعة ونصفاً	ج	ساعتين ونصفاً
					

السؤال الثاني :

٢- ضع علامة (✓) أمام العبارة الصحيحة، وعلامة (X) أمام العبارة الخاطئة:

١	المساحة هي عدد الوحدات المربعة اللازمة لتغطية شكل ما من غير تداخل.
٢	المحيط هو طول الإطار الخارجي للشكل.
٣	الطول هو قياس المسافة بين نقطتين.
٤	السعة هي مقدار ما يمكن أن يحويه وعاء من سائل.
٥	الكتلة هي مقدار ما يحويه الجسم من مادة.
٦	الحجم هو عدد الوحدات المكعبة اللازمة لملء حيز يشغله جسم معين.
٧	الحجم يقاس بالوحدات المكعبة.
٨	من وحدات الطول: المليمتر والسنتيمتر والمتر والكيلومتر
٩	المساحة تقاس بالوحدات المربعة
١٠	من وحدات السعة: اللتر والمليلتر.
١١	من وحدات الكتلة: الجرام والكيلوجرام.