




اسم الطالب /	الصف /
<p>١ (الشكل المجاور يسمى</p> <p>أ (مستقيم</p> <p>ب (نصف مستقيم</p> <p>ج (قطعه مستقيمة</p> <p>د (مستوي</p>	<p>٢ (الشكل المجاور يسمى</p> <p>أ (مستقيم</p> <p>ب (نصف مستقيم</p> <p>ج (قطعه مستقيمة</p> <p>د (مستوي</p>
<p>٣ (المضلع الذي له اربعة اضلاع واربعه زوايا يسمى</p> <p>أ (رباعي</p> <p>ب (خماسي</p> <p>ج (سداسي</p> <p>د (سباعي</p>	<p>٤ (الشكل الذي له ضلعان فقط من اضلاعه المتقابله متوازيه هو</p> <p>أ (مربع</p> <p>ب (مستطيل</p> <p>ج (المعين</p> <p>د (شبه المنحرف</p>
<p>٥ (الشكل الذي كل ضلعين فيه متقابلين متطابقين ومتوازيين وجميع زواياه قوائم</p> <p>أ (مستطيل</p> <p>ب (متوازي اضلاع</p> <p>ج (معين</p> <p>د (شبه منحرف</p>	<p>٦ (عدد الزوايا الحادة في الشكل المقابل</p> <p>أ (٠</p> <p>ب (١</p> <p>ج (٢</p> <p>د (٣</p>
<p>٧ (عدد الزوايا الحادة في الشكل المجاور</p> <p>أ (٠</p> <p>ب (١</p> <p>ج (٢</p> <p>د (٣</p>	<p>٨ (عدد الزوايا المنفرجة في الشكل المقابل</p> <p>أ (٠</p> <p>ب (٢</p> <p>ج (١</p> <p>د (٣</p>
<p>٩ (عدد الزوايا القوائم بالشكل المجاور</p> <p>أ (٠</p> <p>ب (٣</p> <p>ج (١</p> <p>د (٤</p>	<p>١٠ (الشكل الهندسي المقابل يسمى</p> <p>أ (انسحاب</p> <p>ب (انعكاس</p> <p>ج (دوران</p> <p>د (لاشي مما سبق</p>
<p>١١ (الشكل الهندسي المقابل يسمى</p> <p>أ (انسحاب</p> <p>ب (انعكاس</p> <p>ج (دوران</p> <p>د (لاشي مما سبق</p>	<p>١٢ (النقطة الممثلة بالزوج المرتب (١ ، ٢) هي</p> <p>أ (أ</p> <p>ب (ب</p> <p>ج (ج</p> <p>د (د</p>
<p>١٣ (النقطة الممثلة بالزوج المرتب (٣ ، ٤) هي</p> <p>أ (أ</p> <p>ب (ب</p> <p>ج (ج</p> <p>د (د</p>	<p>١٤ (إزاحة شكل دون تدويره يسمى</p> <p>أ (انسحاب</p> <p>ب (دوران</p> <p>ج (انعكاس</p> <p>د (لاشي مما سبق</p>
<p>١٥ (تدوير الشكل الهندسي حول نقطة يسمى</p> <p>أ (انسحاب</p> <p>ب (انعكاس</p> <p>ج (دوران</p> <p>د (لاشي مما سبق</p>	<p>١٦ (الشكل المجاور يسمى</p> <p>أ (مستقيم</p> <p>ب (نصف مستقيم</p> <p>ج (قطعه مستقيمة</p> <p>د (نقطة</p>

<p>الشكل المجاور يسمى (١٨)</p> <p>أ (مستقيم)</p> <p>ب (نقطة)</p> <p>ج (نصف مستقيم)</p> <p>د (قطعه مستقيمة)</p> 	<p>الشكل المجاور يسمى (١٧)</p> <p>أ (مستقيم)</p> <p>ب (نصف مستقيم)</p> <p>ج (قطعه مستقيمة)</p> <p>د (نقطة)</p> 
<p>المستقيمان بالشكل المقابل (٢٠)</p> <p>أ (متقاطعان)</p> <p>ب (متوازيان)</p> <p>ج (متعامدان)</p> <p>د (لاشئ مما سبق)</p> 	<p>المستقيمان بالشكل المقابل (١٩)</p> <p>أ (متوازيان)</p> <p>ب (متقاطعان)</p> <p>ج (متعامدان)</p> <p>د (لاشئ مما سبق)</p> 