



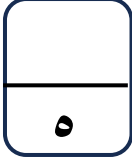
الاختبار التقويمي الرابع

للمصف الرابع

الفصل الدراسي الثاني 2023 / 2024

بنود الاختبار	توزيع درجات الاختبار		درجة الاختبار	مدة الاختبار	موعد الاختبار
من : (٥-١١) إلى : (٧-١١)	مقال	موضوعي	٥ درجات	لا تتجاوز ١٥ دقيقة من زمن الحصة	الأسبوع ١٤
	٣	٢			

إشراف الوجيه الفني : أ. مها العنزي



نموذج ١ اختبار تقويمي (٤)
في مادة الرياضيات للصف الرابع
الفصل الدراسي الثاني للعام الدراسي ٢٠٢٣ / ٢٠٢٤



السؤال الأول :

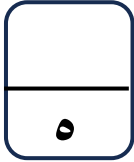
أوجد الناتج

$$\begin{array}{r} ٦, ٢٥ \\ + ٣, ٣٩ \\ \hline \end{array}$$

السؤال الثاني اختر الإجابة الصحيحة بوضع (✓) .

العدد الأقرب الي ٤٠ هو				
٤٠, ٩٧	٤٠, ٩٩	٣٩, ٠٧	٣٩, ٥	١
<input type="radio"/>	<input type="radio"/>	<input type="radio"/>	<input type="radio"/>	
= ٠, ٣ - ٠, ٧				٢
٠, ٥	٠, ٨	٠, ٤	٠, ٧	
<input type="radio"/>	<input type="radio"/>	<input type="radio"/>	<input type="radio"/>	

انتهت الأسئلة ،،،،



نموذج ١ إجابة اختبار تقويمي (٤)
في مادة الرياضيات للصف الرابع
الفصل الدراسي الثاني للعام الدراسي ٢٠٢٣ / ٢٠٢٤



السؤال الأول :

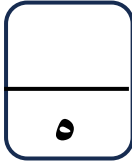
$$\begin{array}{r} ٦, ٢٥ \\ + ٣, ٣٩ \\ \hline ٩, ٦٤ \end{array}$$

أوجد الناتج

السؤال الثاني اختر الإجابة الصحيحة بوضع (✓) .

العدد الأقرب الي ٤٠ هو				١
٤٠, ٩٧ <input type="radio"/>	٤٠, ٩٩ <input type="radio"/>	٣٩, ٠٧ <input type="radio"/>	٣٩, ٥ <input checked="" type="radio"/>	
= ٠, ٣ - ٠, ٧				٢
٠, ٥ <input type="radio"/>	٠, ٨ <input type="radio"/>	٠, ٤ <input checked="" type="radio"/>	٠, ٧ <input type="radio"/>	

انتهت الأسئلة ،،،،



نموذج ٢ اختبار تقويمي (٤)
في مادة الرياضيات للصف الرابع
الفصل الدراسي الثاني للعام الدراسي ٢٠٢٣ / ٢٠٢٤



السؤال الأول :

أوجد الناتج

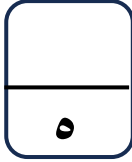
٦ , ١

- ٣ , ٧٣

السؤال الثاني اختر الإجابة الصحيحة بوضع (✓) .

٧,٤٨ مقرباً إلى أقرب عدد كلي هو				١
٧,٤	٩	٨	٧	
<input type="radio"/>	<input type="radio"/>	<input type="radio"/>	<input type="radio"/>	٢
= ٠,٩ + ٠,١				
١,٥	١	٠,١	٠,٨	
<input type="radio"/>	<input type="radio"/>	<input type="radio"/>	<input type="radio"/>	

انتهت الأسئلة ،،،،



نموذج ٢ إجابة اختبار تقويمي (٤)

في مادة الرياضيات للصف الرابع

الفصل الدراسي الثاني للعام الدراسي ٢٠٢٣ / ٢٠٢٤



وزارة التعليم
الإدارة العامة للتعليم الخاص
التوجيه الفني للرياضيات

السؤال الأول :

أوجد الناتج

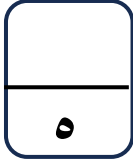
$$\begin{array}{r} 5 \quad 10 \quad 10 \\ 6, 1, 1 \\ - 3, 73 \\ \hline \end{array}$$

٢, ٣٧

السؤال الثاني اختر الإجابة الصحيحة بوضع (✓) .

٧, ٤٨ مقرباً إلى أقرب عدد كلي هو				١
٧, ٤	٩	٨	٧	
<input type="radio"/>	<input type="radio"/>	<input type="radio"/>	<input checked="" type="radio"/>	
= ٠, ٩ + ٠, ١				٢
١, ٥	١	٠, ١	٠, ٨	
<input type="radio"/>	<input checked="" type="radio"/>	<input type="radio"/>	<input type="radio"/>	

انتهت الأسئلة ،،،،



نموذج ٣ اختبار تقويمي (٤)
في مادة الرياضيات للصف الرابع
الفصل الدراسي الثاني للعام الدراسي ٢٠٢٣ / ٢٠٢٤



السؤال الأول :

أوجد الناتج

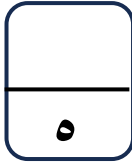
$$\begin{array}{r} ١,٩ \\ + ٥,١٨ \\ \hline \end{array}$$

السؤال الثاني :

ظل (✓) إذا كانت العبارة صحيحة، و ظل (x) إذا كانت العبارة خطأ

✓	x	١ - ٠,٤ = ٠,٦	١
✓	x	أقرب عدد كلي للعدد ٤,٨ هو ٤	٢

انتهت الأسئلة ،،،



نموذج ٣ إجابة اختبار تقويمي (٤)
في مادة الرياضيات للصف الرابع
الفصل الدراسي الثاني للعام الدراسي ٢٠٢٣ / ٢٠٢٤



السؤال الأول :

①

$$\begin{array}{r} 1,90 \\ + 5,18 \\ \hline 7,08 \end{array}$$

أوجد الناتج

السؤال الثاني :

ظل (✓) إذا كانت العبارة صحيحة، و ظل (x) إذا كانت العبارة خطأ

<input checked="" type="checkbox"/>	<input checked="" type="checkbox"/>	١ - ٠,٤ = ٠,٦	١
<input checked="" type="checkbox"/>	<input checked="" type="checkbox"/>	٢ أقرب عدد كلي للعدد ٤,٨ هو ٤	٢

انتهت الأسئلة ،،،