

توقعات ليلة الامتحان إجابة امتحانات تجريبية قصير (أ)



تاريخ الكويت

الفصل الدراسي الثاني

2023 - 2024

10

السؤال الأول :

4

أ- اختر الاجابة الصحيحة من بين البدائل التالية: $(2 \times 5 = 1)$

1- العام الذي تم فيه بناء السور الثالث عام :

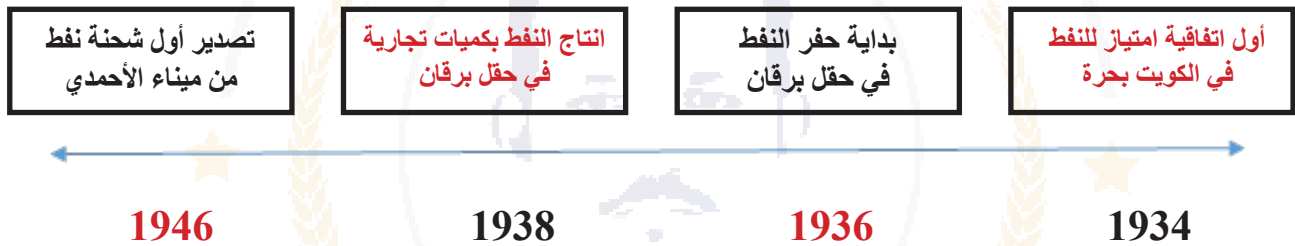
1918 () 1919 ()

1921 () 1920 (✓)

2- أول شحنة نفط كويتية تم تصديرها عبر ميناء

(✓) الأحمدى () الشعبية () الشويخ () أم النمل

ب- أكمل المخطط التاريخي التالي $(4 \times 2.5 = 1)$



السؤال الثاني :

أ- اذكر اثنان من كلا من $(2 \times 1 = 2)$

1- أعمال الشيخ سالم بن مبارك:

أ- خفض الرسوم الجمركية. ب- إلغاء الضرائب علي الصادرات.

2- مهام المجلس التشريعي :

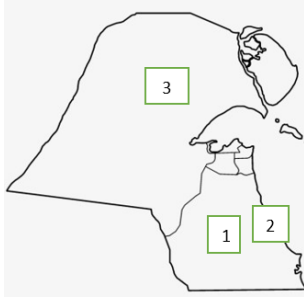
أ- إدارة شؤون مدينة الكويت الداخلية. ب- وضع ميزانية للامارة.

السؤال الأول :

1- شاهد خريطة الكويت المعروضة ثم أجب ($2 \times 5 = 1$)

1- الرقم الذي يشير اليه ميناء الأحمدى رقم (2)

2- الرقم الذي يمثل انتاج النفط بكميات تجارية حقل (1)




ب- شاهد الصورة ثم أجب عما يلي ($4 \times 25 = 1$)

1- من حاكم الذي يمثل الصورة المعروضة:

الشيخ سالم بن مبارك الصباح.

2- اذكر اثنان من أهم أعمال هذا الحاكم :



أ- خفض الرسوم الجمركية.

ب- تعيين مختارين في الأحياء .

السؤال الثاني :

اكتب ما تعرفه عن المدرسة الأحمدية ($1 \times 1 = 1$)

تم تأسيسها في مايو عام 1921 في حي القبلة (جبلة) بمبلغ 7500 روبية جمعت مساهمات من الأمير والتجار وتكونت المدرسة من بناءين متقابلين يفصلهما شارع ويتكون البناء الأول المقابل للبحر من ثمان غرف إحداها للناظر وأما المبنى الآخر فكان أصلاً للجمعية الخيرية وأضيف عام 1943 عدد من الغرف للمبنى وأعيد بناء المدرسة كلياً عام 1948 لمواجهة الزيادة في عدد الطلاب.

السؤال الأول :

اختر الاجابة الصحيحة من بين البدائل التالية: (4x.25=1)

1- حاكم الكويت الذي أسس المدرسة الأحمدية الشيخ:

() جابر بن صباح (✓) أحمد الجابر

() صباح السالم () عبد الله السالم

2- العام الذي عقد فيها مؤتمر العقير :

() 1920 (✓) 1922 () 1921 () 1923

السؤال الثاني :

أكمل العبارات التالية بما يناسبها : (2x.5=1)

1- المجلس الذي من أهم مهامه إدارة أمور التنظيم الداخلي للكويت من أسواق مجلس **المجلس البلدي** .

2- العام الذي تأسس فيه مجلس المعارف عام **1936**.

السؤال الثالث :

دلل علي صحة العبارة التالية: (2x1=2)

(كان الشيخ أحمد الجابر مطالباً بالعمل وبسرعة في ملفات وقضايا مهمة ومصيرية للكويت)

1- مشكلة الحدود والمسائلة مع السعوديين.

2- معالجة علاقات الكويت مع العراق.

3- الحذر في المعاملة مع بريطانيا حيث لم تنصفوا دولة الكويت في معاهدة العقير عام **1922**.

السؤال الأول :

اختر من المجموعة (أ) بما يناسبها من المجموعة (ب) (4x.25=1)

4

المجموعة (أ)	الرقم	المجموعة (ب)
1- استحدث نظام التجنيد الإلزامي	3	الشيخ جابر الأحمد الصباح
2- تأسيس الصندوق الكويتي للتنمية	4	الشيخ صباح الأحمد
3- أنشأ صندوق احتياطي للأجيال القادمة	1	الشيخ صباح السالم الصباح
4- أقدم وزير للخارجية علي مستوي العالم العربي	-	الشيخ سالم بن جابر
-	2	الشيخ عبد الله السالم

السؤال الثاني :

شاهد الصورة المعروضة ثم أجب عما يلي (2x1=2)



1- من حاكم الكويت الذي في الصورة :

الشيخ سعد العبد الله السالم الصباح .

2- ما هي الالقاب الذي لقب بها الشيخ :

أ-بطل التحرير . ب-الأمير الوالد .

اكتب في حدود سطرين عما تعرفه عنه :

ارتبط اسمه بالكثير من الأحداث والانجازات وشارك في تحرير الكويت من الغزو العراقي لذلك اطلق عليه بطل التحرير وتدرج في المناصب التي تولاها من منصب وزير الداخلية إلى وزير دفاع وعضو في المجلس التأسيسي ولجنة وضع الدستور عام 1962.

السؤال الثالث :

عدد اثنان من المساعدات الكويتية في عهد الشيخ صباح الأحمد : (2x.5=1)

أ-إغاثة جمهورية بنغلاديش التي تعرضت لاعصار سيذر .

ب-الكويت سباقة في المساعدة في الجهود المقدمة لليابان بعد تسونامي .

السؤال الأول :

صحح ما تحته خط حسب الجدول التالي (4x.25=1)

4

المجموعة (أ)	المجموعة (ب)
1- صاحب فكرة انشاء مجلس التعاون الخليجي الشيخ <u>عبد الله السالم</u>	<u>جابر الأحمد الصباح</u>
2- انضمت الكويت إلي هيئة الأمم المتحدة عام <u>1964</u>	<u>1963</u>
3- تم انشاء جامعة الكويت في عهد الشيخ <u>سعد العبد الله السالم</u>	<u>صباح السالم الصباح</u>
4- العام الذي انشا فيه الصندوق الكويتي عام <u>1936</u>	<u>1961</u>

السؤال الثاني :

شاهد الصورة المعروضة ثم أجيب عما يلي (2x.75=1.5)



- 1- من حاكم الكويت الذي في الصورة :
الشيخ نواف الأحمد الجابر (رحمه الله) .
- 2- عدد اثنان من أهم انجازات الشيخ :
أ-المؤسس الحقيقي لوزارة الداخلية بشكلها الحديث .
ب-تطوير المنظومة البشرية والعسكرية في الحرس الوطني .

السؤال الثالث :

اقرأ الفقرة التالية ثم أجب عما يلي (2x.75=1.5)

(تشكل الدساتير أهمية كبرى في حياة الأوطان والأمم . وذلك لطبيعة المهام التي تنظمها فالـدستور يعتبر وثيقة بين الحاكم والمحكوم حيث تمت الموافقة عليه بتاريخ 11 نوفمبر 1962 م).

1- عرف ما تحته خط :

وثيقة تنظم العلاقة بين الحاكم والمحكوم .

2- من هو حاكم الكويت الذي قام بالتصديق علي الدستور :

الشيخ عبد الله السالم .

3- كم يبلغ عدد مواد الدستور الكويتي :

183 مادة .

السؤال الأول :

صنف الأعمال حسب الجدول التالي : ($4 \times 25 = 1$)

حرص علي تحقيق الوحدة بين اليمن الجنوبي والشمالي – الغي اتفاقية الحماية البريطانية –
المؤسس الحقيقي لوزارة الداخلية بشكلها الحديث – نال لقب قائد الانسانية

الشيخ نواف الأحمد	الشيخ عبد الله السالم	الشيخ صباح الأحمد	الشيخ جابر الأحمد
المؤسس الحقيقي لوزارة الداخلية بشكلها الحديث	الغي اتفاقية الحماية البريطانية	نال لقب قائد الانسانية	حرص علي تحقيق الوحدة بين اليمن الجنوبي والشمالي

السؤال الثاني :

قارن بين كلا من : ($2 \times 1 = 2$)

معيار المقارنة	الشيخ صباح الأحمد	الشيخ نواف الأحمد
أهم المناصب	1- تولي منصب رئيس دائرتي المطبوعات والشؤون الاجتماعية . 2- تولي منصب رئيس لجنة كتابة تاريخ الكويت 1959 .	1- تولي منصب وزير الدفاع 1988 . 2- محافظا لمنطقة حولي 1962 .

السؤال الثالث :

قارن بين كلا من : ($2 \times 5 = 1$)

معيار المقارنة	الشيخ صباح السالم الصباح	الشيخ عبد الله السالم
السياسة الخارجية	حرص علي دعم العديد من القضايا العربية (قضية فلسطين حيث شاركت الكويت في حرب 1967 وحرب 1973 لنصرة فلسطين ضد العدوان الصهيوني.	مد يد التعاون إلي جميع دول العالم العربي والدولي وتقوية العلاقات علي المستوي السياسي وأنشأ الصندوق الكويتي للتنمية الاقتصادية 1961.

السؤال الأول :

اختر الاجابة الصحيحة من بين البدائل التالية: (1=2x.5)

1- العام الذي حدثت فيه أزمة الصامته عام:

1971 () 1972 ()

1973 (✓) 1974 ()

2- المدينة التي اتخذت حكومة الكويت الشرعية مقرا مؤقتا لها أثناء الغزو العراقي

() جده (✓) الطائف () الرياض () طرابلس

السؤال الثاني : (1=1x1)

اكتب ما تعرفه عن موقعة بيت القرين:

أحد النماذج المشرفة للمقاومة الكويتية والجنود العراقيين في 24 فبراير 1991 قتل
علي أثرها 12 من أفراد المقاومة بقيادة سيد هادي سيد محمد علوي وكانت تقوم هذه
الجماعات باستنزاف عسكري وتشيت لجهود العدو

السؤال الثالث : (2=2x1)

علل مطالبة الرئيس العراقي عام 1961 بضم دولة الكويت للعراق :

أ- طمع عبد الكريم القاسم بالنفط الكويتي .

ب - البطالة التي يعاني منها الشعب العراقي .

السؤال الأول :

صحح ما تحته خط حسب الجدول التالي (2x.5=1)

4

المجموعة (أ)	المجموعة (ب)
1- عقدت القمة العربية الطارئة في 10 أغسطس 1990 في مدينة تونس	القاهرة
2- أطلق دعوي بضم الكويت للعراق في إذاعة لندن	قصر الزهور

السؤال الثاني : (2x1=2)

ما هي مطالب العراق الي أدت الي فشل مؤتمر جده يوليو 1990
أ- إلغاء ديون تقدر 12 مليار دولار .
ب- تأجير جزيرتي وربة وبوبيان للعراق .

السؤال الثالث : (2x.5=1)

شاهد الصورة المعروضة ثم أجب عما يلي :

1- ماذا تمثل هذه الصورة :

أعمال الكويتيين في الداخل أثناء الغزو العراقي .

2- ما هي دور المقاومة الكويتية للتصدي للغزو العراقي :

1- تشكيل لجان اجتماعية ومالية وتقديم المساعدات .

2- تشكيل لجان صحية واجتماعية ولجان خاصة بعمليات تنظيف ومساعدة وتوفير الرعاية

لمن يحتاج إليها بالرغم من العنف والقسوة في رد فعل العراقي ضد المقاومة الكويتية .



السؤال الأول :

أكمل العبارات التالية بما يناسبها (1=2x5)

1- أول ملك علي مملكة العراقي الهامشية عام 1921 الملك **فيصل بن الحسين** .

2- العام الذي تم إعلان استقلال الكويت عام **1961**.

السؤال الثاني :

اكتب ما تعرفه عن: (2=1x2)

أ- عاصفة الصحراء :

بدأت الحشود العسكرية مباشرة في الاستعداد لتحرير الكويت في فجر يوم الخميس 17

يناير 1991 وهي معركة تحرير الكويت

ب-موقف المجتمع الدولي من الغزو العراقي لدولة الكويت :

تحرك سريعا عبر منظمة الأمم المتحدة واستطاع تكوين تحالفا دوليا لتحرير الكويت

فأصدر مجلس الأمن الدولي قرار 660 في نفس يوم الغزو 2\8\1990 اذا طالب الرئيس

العراقي بالانسحاب الفوريالغير مشروط

السؤال الثالث :

اقرأ الفقرة التالية ثم أجب عما يلي (1=2x5)

(كان اتصالي مع صاحب السمو في تلك اللحظات المصيرية والاتفاق معه علي الخروج من

قصر دسمان أفضل وأخطر قرار في حياتي).

أ-من قائل هذه العبارة :

الشيخ سعد العبد الله.

ب-ما موقف الشعب الكويتي من القيادة الشرعية لدولة الكويت أثناء الغزو العراقي :

تقدير الشعب الكويتي البيعة للشيخ جابر وأل صباح ليؤكد للعالم التفاف الشعب حول

قيادته الشرعية من ال صباح وانه لا بديل عن هذه الشرعية والتتمسك بالشرعية الكويتية

مع إعادة الحياة النيابية وتعديل المسار الديمقراطي

السؤال الأول:

أكمل الشكل التالي لشجرة الحكام لدولة الكويت : ($3 \times 25 = 75$)



السؤال الثاني:

قارن بين انجازات كلا من : ($0.8 \times 3 = 2.5$)

معايير المقارنة	الشيخ عبد الله السالم	الشيخ صباح الأحمد	الشيخ جابر الأحمد
الانجازات	1- الغي اتفاقية الحماية واعلان استقلال الكويت 2- التصديق علي الستور 3- تشكيل مجلس الأمة	1- انشاء مؤسسة الكويت للتقدم العلمي 2- الهيئة العامة لشئون القصر 3- انشاء صندوق احتياطي الأجيال القادمة 4- صندوق الكويت للتنمية	1- توزيع مساكن لذوي الدخل المحدود باشراف وزارة الأشغال 2- إنشاء جامعة الكويت عام 1961 3- تامين النفط في الخامس من مارس 1975 4- استحداث نظام التجنيد الالزامي

السؤال الثالث :

من أكون : ($3 \times 25 = 75$)

1- تصديت للغزو العراقي عام 1990 ولقبت بأمير القلوب	الشيخ جابر الأحمد الصباح
2- تم اختياري من قبل هيئة الأمم المتحدة قائدا للعمل الانساني عام 2014م	الشيخ صباح الأحمد الصباح
3- وقعت علي استقلال الكويت وفي عهدي تم تأسيس مجلس الأمة الكويتي عام 1963 م	الشيخ عبد الله السالم



احرص على اقتناء كتب منصة البلاطي

- كتاب الشرح.
- كتاب الأسئلة.
- كتاب إجابة الأسئلة.
- كتاب الامتحانات.
- كتاب إجابة الامتحانات.



10 تاريخ الكويت

الفصل الدراسي الثاني

2023 - 2024

استمتع بتجربة التعلم
مع منصة البلاطي

