

نماذج الإجابة اختبارات الأعوام الماضية جميع المناطق التعليمية

اجتماعيات

مدرستي
الكويتية



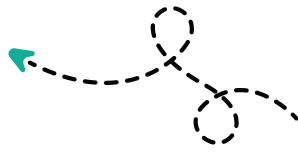
مدرستي

الكويتية

حمل التطبيق



مدرستي معكم خطوة بخطوة للنجاح والتفوق




مدرستي

الكويتية

حمل التطبيق



مدرستي



الكويتية



اضغط هنا



وزارة التربية
الإدارة العامة لمنطقة الأحمدى التعليمية



نموذج إجابة امتحان الفترة الدراسية الثانية

مادة: الاجتماعيات

الصف: السادس

العام الدراسي ٢٠٢٢ - ٢٠٢٣



أجب عن جميع الأسئلة

السؤال الأول: (موضوعي) ويتكون من (أ - ب) (١٢ نقطة × درجة واحدة = ١٢ درجة)

أ- أكمل العبارات التالية بما يناسبها مما درست:

- ١- العام الذي بدأ فيه التنقيب عن النفط في دولة الكويت ١٩٣٤ م ص ٨٧
- ٢- الدولة الخليجية التي لها تجربة رائدة في إنتاج محصول القمح اسمها السعودية ص ٩٢
- ٣- الحضارة التي توجد في دولة قطر تسمى أم النار ص ١٠٥
- ٤- الدولة الخليجية الأعلى في نسبة الوافدين تسمى الإمارات ص ١١٢
- ٥- وحدة قياس شدة الضوضاء التي تتعرض لها الأذن البشرية تسمى الديسيبل ص ١٣٤
- ٦- الدرع الواقي للأحياء ضد خطر الأشعة فوق البنفسجية الضارة يسمى طبقة الأوزون ص ١٣٥



ب- اختر البديل الصحيح من بين البدائل التي تلي كل عبارة مما يلي وضع خطاً تحته:

- ١- تم تصدير أول شحنة من النفط الكويتي في عهد الشيخ:

أ - عبدالله السالم	ب - مبارك الصباح	ج - أحمد الجابر	د - جابر الأحمد
--------------------	------------------	-----------------	-----------------
- ٢- توجد منطقة صحار الصناعية في دولة:

أ - عمان	ب - السعودية	ج - قطر	د - الإمارات
----------	--------------	---------	--------------
- ٣- أصغر دولة خليجية من حيث المساحة:

أ - الكويت	ب - البحرين	ج - الإمارات	د - السعودية
------------	-------------	--------------	--------------
- ٤- صدر إعلان الدوحة بشأن قيام السوق الخليجية المشترك في عام:

أ - ٢٠٠٥م	ب - ٢٠٠٦م	ج - ٢٠٠٧م	د - ٢٠٠٨م
-----------	-----------	-----------	-----------
- ٥- عدد الآبار النفطية الكويتية التي أحرقها النظام العراقي البائد أكثر من :

أ - ٤٣٤ بئراً	ب - ٥٣٥ بئراً	ج - ٦٣٦ بئراً	د - ٧٣٧ بئراً
---------------	---------------	---------------	---------------
- ٦- العمالة المنزلية تمثل أحد مشكلات دول الخليج العربية:

أ - السياسية	ب - الاجتماعية	ج - الاقتصادية	د - الثقافية
--------------	----------------	----------------	--------------



السؤال الثاني : (موضوعي) و يتكون من (أ - ب)

(١٢ نقطة x درجة واحدة = ١٢ درجة)

أ - أكتب المفاهيم أو المصطلحات الدالة على العبارات التالية:

١ - (زراعة بدون تربة) الزراعة التي تتم في بيئة مائية أو رملية أو حصى أو نشارة خشب تضاف إليها المحاليل

الغذائية. ص ٩٤

٢ - (الصناعة) تحويل المواد الخام إلى مواد يمكن الاستفادة منها . ص ٩٥

٣ - (السلالة) مجموعة من الناس تشترك فيما بينها في الصفات الجسدية الرئيسية كلون الجلد و شكل الأنف و شكل الشعر و طول القامة . ص ١٠٦

٤ - (الكثافة السكانية) عدد السكان في الكيلو متر مربع ' وتقاس بقسمة عدد السكان على مساحة الدولة . ص ١١٤

٥ - (التلوث) الضرر الذي يصيب عناصر البيئة الأساسية (هواء- ماء - تربة) فتنحول من عناصر مفيدة إلى عناصر ضارة. ص ١٣٣

٦ - (العنف) السلوك العدوانى الموجه ضد الغير والذي يتسم بالتخريب والتدمير سواء كان ذلك السلوك أقوالاً أو أفعالاً. ص ١٤٤



ب - أكمل المخططات السهمية التالية :

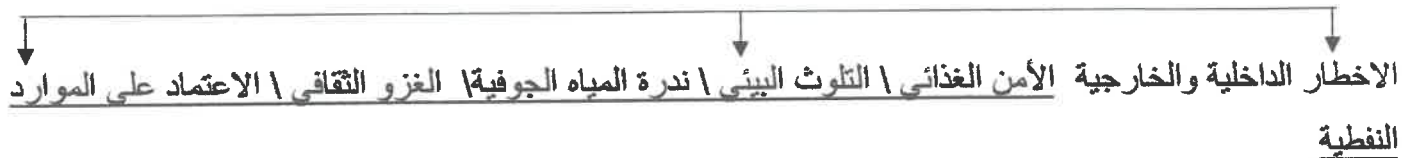
١ - أنواع الصناعات القائمة على النفط في دول الخليج العربية ص ٩٦



٢ - الروابط التي تربط دول الخليج العربية ص ١١٩



٣ - التحديات التي تواجه دول الخليج العربية ص ١٣٢



السؤال الثالث : (موضوعي) ويتكون من (أ - ب - ج)

(٢ نقطة × درجة واحدة = ٢ درجة)

ص ١٣٤

أ- أخطر مصادر التلوث الهوائي وأكتبها في الجدول الذي يليها :

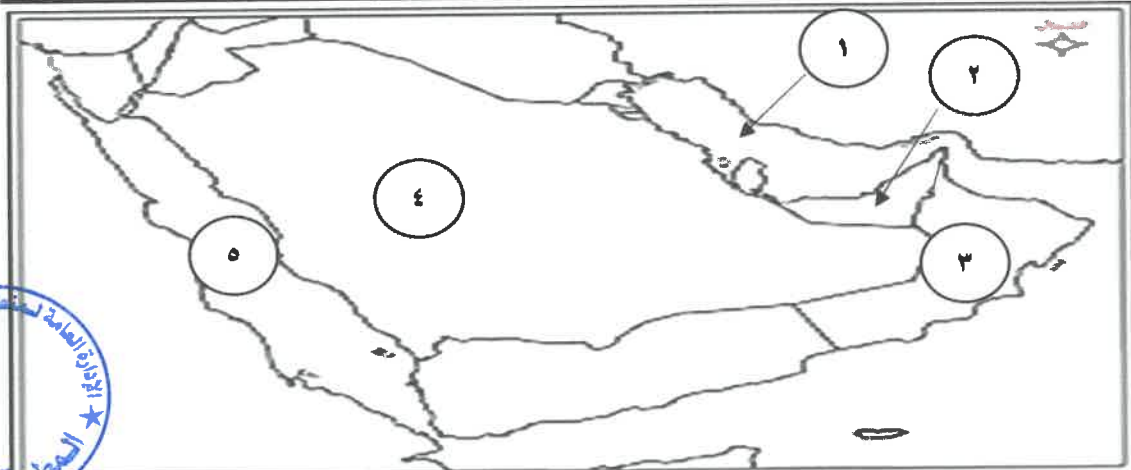
الصناعة - الضوضاء - السيارات - حرق النفايات - العواصف الترابية - ندرة المياه الجوفية - مياه الصرف الصحي

مصادر التلوث الهوائي
- الصناعة
- السيارات
- حرق النفايات
- العواصف الترابية

ب - صح ما تحته خط في العبارات التالية وذلك بكتابة الإجابة الصحيحة:

الرقم	العبارة	التصويب
١	إعادة تصدير البضائع المستوردة يسمى <u>الواردات</u> ص ٩٩	الترانزيت
٢	أكبر دول الخليج العربية مساحة تسمى <u>عمان</u> ص ١١٤	السعودية
٣	الجماعة التي هاجرت إلى دولة قطر هم <u>آل خليفة</u> ص ١٠٨	المعاضيد
٤	تعرضت الكويت إلى الغزو العراقي الغاشم سنة <u>١٩٩١م</u> ص ١٣٩	١٩٩٠م

ج - لاحظ خريطة دول الخليج العربية المقابلة ثم أكتب الرقم الدال أمام العبارات التالية:



- مسطح مائي تطل عليه جميع دول الخليج العربية يمثلها على الخريطة الرقم (١) . ص ٩١
- الدولة التي يوجد فيها ميناء الفحل تحمل الرقم (٣) . ص ٩٧
- دولة هاجرت إليها قبائل القواسم يمثلها على الخريطة الرقم (٢) . ص ١٠٨
- مقر مكتب التربية العربي يوجد في دولة خليجية تحمل الرقم (٤) . ص ١٣٠



السؤال الرابع: (مقالي) ويتكون من (أ - ب - ج)
 أ- فرق بين كل مما يلي :

١- إنتاج النفط ص ٨٨	احتياطي النفط ص ٨٨
<u>كميات النفط التي يتم استخراجها للاستفادة منها</u>	<u>كميات النفط المخزونة في باطن الأرض</u>

٢- التلوث الضوضائي ص ١٣٤	التلوث الأرضي (التربة) ص ١٣٤
<u>الأصوات المتناثرة غير المرغوب فيها الناجمة عن مصادر داخلية وخارجية و تؤثر بشكل أو آخر على الصحة العامة ونوعية الحياة اليومية للإنسان.</u>	<u>دخول مواد غريبة في التربة مما يلحق الضرر في خواصها ومكوناتها .</u>

ب - قارن بين كل مما يلي حسب المطلوب في الجدول التالي :

وجه المقارنة	إعلان الدوحة السوق الخليجية المشتركة	الترقية العربية لعلوم الخليج المركز العربي للتدريب التربوي لدول الخليج
نوع التعاون	الاقتصادي	الثقافي
أحد مظاهر هذا التعاون	١- صدور اعلان الدوحة بشأن قيام السوق الخليجي المشترك ٢٠٠٨ م. ٢- زيادة التبادل التجاري. (يكتفي بنقطة واحدة)	١- توحيد المناهج التعليمية و تطويرها. ٢- انشاء مكتب التربية العربي و مقره الرياض. ٣- اجتماع وزراء التربية والتعليم لدول الخليج العربية كل عامين لوضع السياسات التربوية. (يكتفي بنقطة واحدة)

ج- عرف ما يلي:

- ١- الدخل القومي: هو مجموع الدخول التي تحصل عليها الدولة خلال العام . ص ٩٥
- ٢- النمو السكاني: هو التغير الذي يحدث لعدد السكان نتيجة الزيادة الطبيعية و غير الطبيعية . ص ١١١
- ٣- الثقافة: مجموعة العادات و التقاليد والقيم في مجتمع من المجتمعات . ص ١١٨
- ٤- الصادرات: السلع و المنتجات التي تبيعها دولنا في الخارج . ص ٩٩



السؤال الخامس: (مقالى) ويتكون من (أ - ب) (٢ نقطة x درجة واحدة = ٢ درجة)
أ- علل لما يلي:

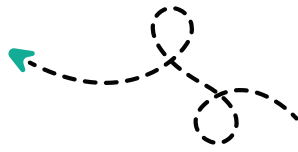
- ١- شهدت منطقة الخليج العربية بعد اكتشاف النفط نموا سكانيا فجائيا. ص ١١٠ (يكتفي بنقطتين)
 - ارتفاع دخل الفرد (ارتفاع الأجور) \ السماح للوافدين باصطحاب عائلاتهم
 - توفر فرص العمل \ توفر الرعاية الصحية \ زيادة عدد المواليد \ الأمن والأمان
- ٢- ظهرت الحاجة إلى إقامة العديد من الموانئ النفطية في دول الخليج العربية. ص ٩٠ (مطلوب النقطتين)
 - تزايد الإنتاج النفطي لدول الخليج العربية.
 - تزايد الطلب العالمي على النفط كمصدر أساسي للطاقة.
- ٣- تعرض مياه الخليج العربي للتلوث البحري. ص ١٣٦ (يكتفي بنقطتين)
 - مخلفات المصانع \ النفط ومشتقاته \ النفايات الخطرة
 - مياه الصرف الصحي غير المعالجة \ مياه الصرف الزراعي \ الأمطار الحمضية

ب- أكتب فيما يلي :

- ١- أهم الدول المستوردة للنفط الكويتي. ص ٩٠ (يكتفي بنقطتين)
 - الولايات المتحدة الأمريكية
 - هولندا \ اليابان
- ٢- مجالات التعاون العسكري بين دول مجلس التعاون الخليجي. ص ١٢٩ (يكتفي بنقطتين)
 - المناورات (التدريبات) العسكرية المختلفة.
 - إنشاء قوة مشتركة تضم جميع دول مجلس التعاون الخليجي (درع الجزيرة).
 - قبول أبناء دول مجلس التعاون في الكليات العسكرية.
 - المشاركة الفعلية في حرب تحرير دولة الكويت من النظام العراقي البائد.
- ٣- حلول لعلاج مشكلة العنف. ص ١٥٠ (يكتفي بنقطتين)
 - الاهتمام الجاد بالقرآن الكريم والسنة النبوية الشريفة.
 - الاهتمام بالقراءة والمطالعة بدلا من أصدقاء السوء.
 - القوة الحسنة من كل المحيطين بالشباب المتعلمين أو اتباع أساليب الحوار و التفاهم في علاج المشكلات أو الخلافات.



مدرستي معكم خطوة بخطوة للنجاح والتفوق




مدرستي

الكويتية

حمل التطبيق



مدرستي



الكويتية



اضغط هنا



وزارة التربية

امتحان نهاية الفترة الدراسية الثانية

نموذج الإجابة

الإدارة العامة لمنطقة الجاهراء التعليمية مقرر / الكويت ودول الخليج العربية

للفصل السادس / المتوسط

التوجيه الفني للاجتماعيات

العام الدراسي: ٢٠٢٢ / ٢٠٢٣ م

الزمن : ساعة وخمس وأربعون دقيقة

عدد الأوراق : (٦) ورقات

السؤال الأول : موضوعي و يتكون من (أ - ب - ج - د - هـ - و - ز) :

(أ) أكمل العبارات التالية بما يناسبها فيما درست : (لكل سؤال درجة = ٥ درجات)

١- الدولة الخليجية التي توجد فيها حضارة دلمون البحرين . ص ١٠٥

٢- السلع والمنتجات التي تتبعها دولنا في الخارج تسمى الصادرات . ص ٩٩

٣- العام الذي قام فيه النظام العراقي البائد بغزو دولة الكويت ١٩٩٠ م . ص ١٣٩

٤- المنطقة التي تتركز فيها صناعة النحاس بسلطنة عُمان تسمى صحار . ص ٩٦

٥- الشيخ الذي تم تصدير أول شحنة من النفط الكويتي في عهده اسمه أحمد الجابر . ص ٩٠

(ب) ظلّل الخيار الصحيح من بين الخيارات التي تلي كل عبارة : (لكل سؤال درجة = ٥ درجات)

١- العام الذي بدأ فيه التنقيب عن النفط في دولة الكويت : ص ٨٧

١٩٢٤م	١٩٣٤م	١٩٤٤م	١٩٥٤م
-------	-------	-------	-------

٢- الدولة الخليجية التي لم تتعرض للاستعمار الأجنبي : ص ١٢٠

الكويت	قطر	عُمان	المملكة العربية السعودية
--------	-----	-------	--------------------------

٣- الحقل الذي تم فيه اكتشاف كميات ضخمة من النفط في دولة الكويت : ص ٨٧

برقان	بحره	أم قدير	مناقيش
-------	------	---------	--------

٤- الهجرة العربية التي استقرت في دولة قطر : ص ١٠٨

آل خليفة	القواسم	المعاضيد	بني ياس
----------	---------	----------	---------

٥- بلغ عدد الآبار النفطية الكويتية التي أشعلها النظام العراقي البائد أكثر من : ص ١٣٩

٦٣٦	٧٣٧	٨٣٨	٩٣٩
-----	-----	-----	-----



تابع / السؤال الأول موضوعي

(ج) صوب ما تحته خط في العبارات التالية : (لكل سؤال درجة = ٥ درجات)

م	العبارة	التصويب
١	العنف ظاهرة <u>موروثة</u> .	متعلمة ص ١٤٦
٢	الدولة الخليجية التي هاجرت إليها قبائل الأزدي <u>البحرين</u> .	عُمان ص ١٠٨
٣	تتركز الصناعات النفطية في دولة الكويت بمنطقة <u>الأحمدي</u> .	الشعبية ص ٩٦
٤	للمملكة العربية السعودية تجربة رائدة في إنتاج محصول <u>القطن</u> .	القمح ص ٩٢
٥	تُعدُّ شبه الجزيرة العربية ملتقى الهجرات الخارجية القادمة من آسيا و <u>أوروبا</u> .	أفريقيا ص ١٠٧

(د) أكمل الفراغات في المخططات السهمية التالية : (لكل نقطة درجة = ٥ درجات)

ص ١٤٩

أسباب انتشار مشكلة العنف بين المتعلمين

نفسية

بيئة عامة

أسرية

ص ١١٧ - ١١٩ - ١٢٠

الروابط المشتركة بين أبناء دول الخليج العربية

التاريخ المشترك

الدين واللغة

العادات والتقاليد

وحدة الأصل

تابع / السؤال الأول موضوعي :

(هـ) صنف مظاهر التعاون بين دول مجلس التعاون الخليجي الآتية حسب المطلوب في الجدول التالي :
(لكل نقطة درجة = ٦ درجات)

(المناورات العسكرية - زيادة التبادل التجاري - توحيد المناهج التعليمية - إنشاء قوة مشتركة
- قيام السوق الخليجية المشترك - إنشاء مكتب التربية العربي) ص ١٢٩ - ١٣٠

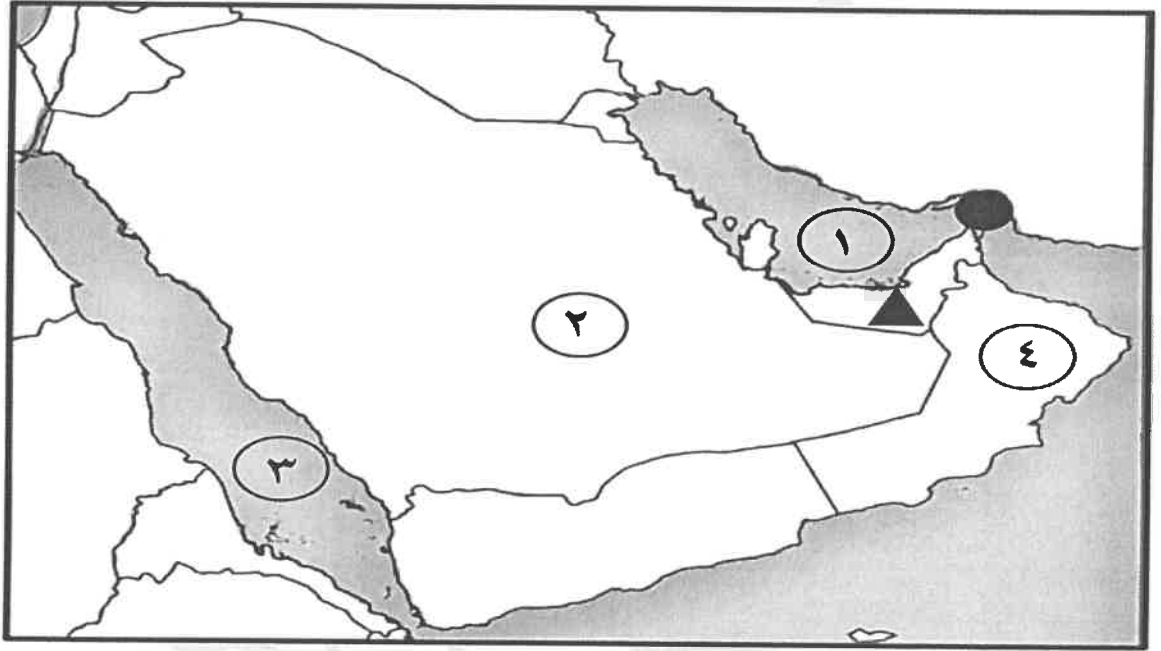
التعاون الاقتصادي	التعاون الثقافي	التعاون العسكري
زيادة التبادل التجاري	توحيد المناهج التعليمية	المناورات العسكرية
قيام السوق الخليجية المشترك	إنشاء مكتب التربية العربي	إنشاء قوة مشتركة

(و) اكتب المفهوم أو المصطلح الدال على العبارات التالية : (لكل سؤال درجة = ٥ درجات)

م	المفهوم أو المصطلح	العبرة
١	الكثافة السكانية	<u>عدد السكان</u> عدد السكان في الكيلو متر المربع وتقاس بقسمة = مساحة الدولة ص ١١٤
٢	الدخل القومي	مجموع الدخول التي تحصل عليها الدولة خلال عام . ص ٩٥
٣	طبقة الأوزون	درع واق للأحياء ضد خطر الأشعة فوق البنفسجية الضارة . ص ١٣٥
٤	الثقافة	مجموعة من العادات والتقاليد والقيم في مجتمع من المجتمعات . ص ١١٨
٥	التلوث	الضرر الذي يصيب عناصر البيئة الأساسية (هواء - ماء - تربة) فتتحول من عناصر مفيدة إلى عناصر ضارة . ص ١٣٣

تابع / السؤال الأول موضوعي :

(ز) لاحظ خريطة (شبه الجزيرة العربية) المقابلة - ثم أجب عما يليها من الأسئلة :
(لكل سؤال درجة = ٥ درجات)



١- اكتب الرقم الدال على العبارات التالية :

- البحر الأحمر يمثل على الخريطة الرقم (٣) ص ٩٢
- الدولة التي يوجد بها سهل الباطنة يمثلها على الخريطة الرقم (٤) ص ٩٢
- الدولة التي يوجد بها حقل الغوار النفطي يمثلها على الخريطة الرقم (٢) ص ٩١

٢- عين على الخريطة المطلوب باستخدام الأشكال التالية :

- مضيق هرمز ● ص ٩١
- الدولة التي توجد فيها حضارة " هيلي " ▲ ص ١٠٥

السؤال الثاني مقالي ويتكون من (أ - ب - ج)

(أ) اقرأ الفقرة التالية ثم أجب عما يليها من أسئلة : (لكل نقطة درجة = ٤ درجات)

شهدت منطقة الخليج العربية بعد اكتشاف النفط نموًا سكانيًا مضطربًا (فجائيًا) نتيجة لأسباب عدة أهمها (ارتفاع دخل الفرد - توفر الرعاية الصحية - توفر فرص العمل) مما شجع على استقطاب الهجرات الداخلية والخارجية .
ص ١١٠

١- عرف ما تحته خط . ص ١١١

- التغيير الذي يحدث لعدد السكان نتيجة للزيادة الطبيعية وغير الطبيعية .
- ٢- استخرج من الفقرة السابقة أسباب النمو السكاني الفجائي في منطقة الخليج العربية بعد اكتشاف النفط .
 - ارتفاع دخل الفرد .
 - توفر الرعاية الصحية .
 - توفر فرص العمل .

(ب) اذكر اثنين مما يلي : (لكل نقطة درجة = ٤ درجات)

١- حلول لعلاج مشكلة العنف . (يكتفى بنقطتين) ص ١٥٠

- الاهتمام الجاد بالقرآن الكريم والسنة النبوية الشريفة .
- الاهتمام بالقراءة والمطالعة بدلاً من أصدقاء السوء .
- القدوة الحسنة من كل المحيطين بالشباب (المتعلمين) واتباع أساليب الحوار والتفاهم في علاج المشكلات والخلافات .

٢- أصول السلالات السكانية في منطقة الخليج العربية . ص ١٠٥

- جنس البحر المتوسط .

- شرق أفريقيا .

(ج) ما النتائج المترتبة على كل مما يلي : (لكل نقطة درجة = ٤ درجات)

١- تلوث التربة . ص ١٣٤

- ضعف قدرتها على الإنتاج الزراعي .
- تلوث الإنتاج الزراعي مما يؤثر على صحة الإنسان .
- ٢- ارتباط دول مجلس التعاون بعلاقات تجارية مع دول العالم وفيما بينها . ص ٩٩
 - انتعاش الموانئ في دول الخليج العربية حيث كان لها دورًا بارزًا في تجارة الترانزيت .
 - ارتفاع الدخل القومي للدول .



السؤال الثالث مقالي ويتكون من (أ - ب - ج) :

(أ) علل لما يلي : (لكل نقطة درجة = ٤ درجات)

- ١- تعرض مياه الخليج العربي للتلوث المائي .
 - مخلفات المصانع .
 - النفط ومشتقاته .
 - مياه الصرف الصحي غير المعالجة .
 - النفايات الخطرة .
 - مياه الصرف الزراعي .
 - الأمطار الحمضية .
- ٢- ظهرت الحاجة إلى إقامة العديد من الموانئ النفطية . ص ٩٠
 - تزايد الإنتاج النفطي لدول مجلس التعاون من الحقول البرية والبحرية .
 - تزايد الطلب العالمي عليه كمصدر أساسي للطاقة .

(ب) فرق بين كل مما يلي : (لكل نقطة درجة = ٤ درجات)

احتياطي النفط	إنتاج النفط
ص ٨٨	ص ٨٨
- كميات النفط المخزونة في باطن الأرض .	- كميات النفط التي يتم استخراجها للاستفادة منها .
بيوت بلاستيكية	الزراعة بدون تربة
ص ٩٤	ص ٩٤
- يزرع فيها الخضروات في غير مواسمها (أوقاتها) وتقوم بحماية المحاصيل من تقلبات الطقس .	- الزراعة التي تتم في بيئة مائية أو رملية أو حصى أو نشارة خشب تضاف إليها المحاليل الغذائية .

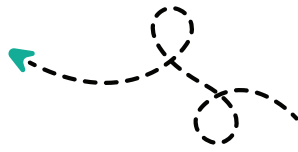
(ج) عدد ما يلي فيما درست : (لكل نقطة درجة = ٤ درجات)

- ١- وظائف العمالة المنزلية .
 (يكتفى بنقطتين) ص ١٤٢
 - الطباخين - السائقين
 - المربيات - الخدم
- ٢- أهم الدول المستوردة للنفط الكويتي .
 (يكتفى بنقطتين) ص ٩٠
 - الولايات المتحدة الأمريكية
 - هولندا
 - اليابان

(انتهت الإجابات)



مدرستي معكم خطوة بخطوة للنجاح والتفوق




مدرستي

الكويتية

حمل التطبيق



مدرستي



الكويتية



اضغط هنا

السؤال الأول: موضوعي ويتكون من (أ- ب)

أ. ظلل البديل الصحيح من بين البدائل التي تلي كل عبارة فيما يلي: (درجة لكل نقطة)

١. أحد وسائل صيد الأسماك قديماً في منطقة الخليج العربية: ص ٣١

السنارة	الصلابة	القرقرور	الفخ
---------	---------	----------	------

٢. هاجر بني ياس من قلب شبه الجزيرة العربية إلى: ص ٥٧

قطر	أبوظبي	عمان	الكويت
-----	--------	------	--------

٣. دولة عربية خليجية لم تتعرض للاستعمار الأجنبي: ص ١١٨

مملكة البحرين	دولة قطر	المملكة العربية السعودية	دولة الكويت
---------------	----------	--------------------------	-------------

٤. مجموعة من العادات والتقاليد والقيم في مجتمع من المجتمعات: ص ٦٥

الحضارة	الثقافة	التعليم	التاريخ
---------	---------	---------	---------

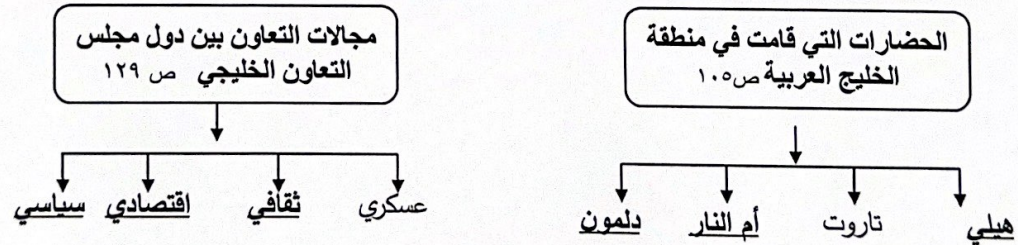
٥. من أهم مظاهر الحضارة الإسلامية: ص ١٢٩

صناعة	فن	عمران	كل ما سبق
-------	----	-------	-----------

٦. التحديات التي تواجه دول الخليج العربية ليس من بينها: ص ١٣٢

الأمن الغذائي	التعليم	التلوث البيئي	ندرة المياه الجوفية
---------------	---------	---------------	---------------------

ب. أكمل المخطط السهمي التالي بكلمات مناسبة في كلاً مما يلي: (درجة لكل نقطة)



السؤال الثاني موضوعي ويتكون من (أ- ب)

أ. صحح ما تحته خط في العبارات التالية بكتابة الإجابة الصحيحة بين القوسين فيما يلي: (درجة لكل نقطة)

١. ألغيت اتفاقية الحماية مع بريطانيا في عهد الشيخ صباح السالم الصباح (عبدالله السالم الصباح) ص ٦٣

٢. أعلن عن قيام مجلس التعاون لدول الخليج العربية في مدينة الكويت. (أبو ظبي) ص ٧٠

٣. اكتشف النفط في جنوب دولة الكويت بكميات ضخمة في حقل بحرة. (برقان) ص ٨٧

٤. تحويل المواد الخام إلى مواد يمكن الاستفادة منها يعرف بتكرير النفط (الصناعة) ص ٩٥

٥. عدد السكان في الكيلو متر المربع لقياس التعداد السكاني (الكثافة السكانية) ص ١١٤

٦. درع واق للأحياء ضد خطر الأشعة فوق بنفسجية الضارة هي طبقة الأكسجين. (الأوزون) ص ١٣٥

ب. اختر من المجموعة (أ) ما يناسبها من المجموعة (ب) وذلك بوضع الرقم فيما يلي : (درجة لكل نقطة)

(أ)	الرقم	(ب)
١ حالة الجو في مكان ما خلال فترات زمنية طويلة .	ص ٢٥	٥ شبه الجزيرة العربية
٢ أشهر الحرف التي مارسها أبناء دول الخليج العربية قديماً .	ص ٣١	٣ شروق الشمس
٣ بحر الخليج العربي قديماً .	ص ٤٧	٤ البرتغال
٤ أول دولة أوروبية استعمارية وصلت الخليج العربي .	ص ٦٠	٦ وحدة الأصل
٥ ملتقى الهجرات الخارجية القادمة من آسيا وأفريقيا .	ص ١٠٧	٢ الغوص على اللؤلؤ
٦ إحدى الروابط تربط بين أبناء دول الخليج العربية .	ص ١١٧	١ المناخ

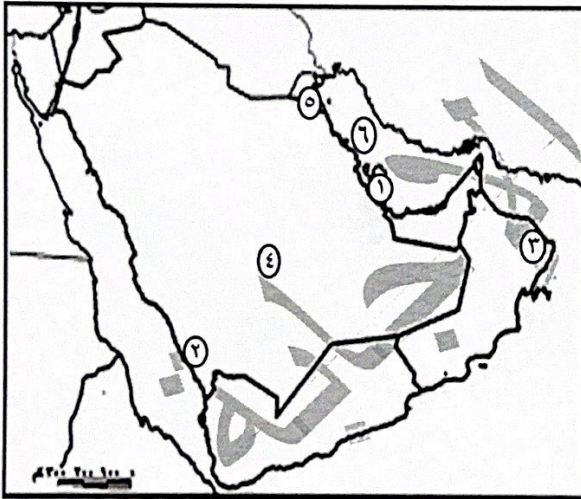


السؤال الثالث: موضوعي ويتكون من (أ-ب)

أ. أكمل العبارات التالية بما يناسبها مما درست: (درجة لكل نقطة)

١. موسم الغوص على اللؤلؤ يبدأ في شهر يوليو. ص ٣٢
٢. هاجر آل الصباح من قلب شبه الجزيرة العربية إلى الكويت. ص ٥٧
٣. للمملكة العربية السعودية تجربة رائدة في إنتاج محصول يسمى القمح. ص ٩٢
٤. مجموع الدخول التي تحصل عليها الدولة خلال عام تسمى الدخل القومي. ص ٩٥
٥. الزيادة الغير طبيعية تكون بسبب الهجرة. ص ١١٠
٦. أقل دولة خليجية في نسبة المواطنين تسمى الإمارات. ص ١١٢

ب. لاحظ خريطة شبه الجزيرة العربية الصماء ثم أكتب الرقم الدال على العبارات التالية: (درجة لكل نقطة)



١. الجبل الأخضر الزور يمثل الرقم (٣) ص ٢٣
٢. حوض الخليج العربي يمثل الرقم (٦) ص ٢٣
٣. حقل دخان النفطي يمثل الرقم (١) ص ٩١
٤. حقل برقان النفطي يمثل الرقم (٥) ص ٩١
٥. سهل تهامة الزراعي يمثل الرقم (٢) ص ٢٣
٦. أكبر دولة خليجية من حيث عدد السكان يمثلها الرقم (٤) ص ١١٤

السؤال الرابع: مقالي ويتكون من (أ- ب - ج) :

أ. عرف المفاهيم التالية : (درجة لكل نقطة)

١. الاستعمار : هو أن تسيطر دولة قوية على دولة ضعيفة بهدف استغلال مواردها (خيراتها). ص ٦١
٢. السلالة : مجموعة من الناس تشترك فيما بينها في الصفات الجسمانية الرئيسية وتختلف عن غيرها من السلالات في هذه الصفات. ص ١٠٦
٣. النمو السكاني : هو التغير الذي يحدث لعدد السكان نتيجة للزيادة الطبيعية والغير طبيعية. ص ١١١
٤. التلوث: الضرر الذي يصيب عناصر البيئة الأساسية (هواء- ماء-تربة) فتتحول من عناصر مفيدة إلى عناصر ضارة. ص ١٣٣

خطوط الطول	دوائر العرض ص ٢١
خطوط وهمية (غير موجودة على سطح الأرض) تقسم الكرة الأرضية إلى قسمين شرقي وغربي وعددها ٣٦٠ درجة	خطوط وهمية (غير موجودة على سطح الأرض) تقسم الكرة الأرضية إلى قسمين شمالي وجنوبي وعددها ١٨٠ دائرة
الزراعة بدون تربة	الزراعة في بيوت بلاستيكية ص ٩٤
هي الزراعة التي تتم في بيئة مائية أو رملية أو حصى، أو نشارة خشب تضاف لها المحاليل الغذائية	يزرع فيها الخضروات في غير موسمها (أوقاتها) وتقوم بحماية المحاصيل من متقلبات الطقس

ب. فرق بين كل مما يلي: (درجة لكل نقطة)


ج. لاحظ الصور ثم أكتب تعليقاً مناسباً أسفل كل صورة فيما يلي: (درجة لكل نقطة)



تصدير أول شحنة للنفط الخام الكويتي ص ٩٠



الغوص على اللؤلؤ ص ٣٢



السؤال الخامس: مقالي ويتكون من (أ-ب)

مشكلة العلف ص ١٤٥

أ. علل لما يأتي: (يكتفى بنقطتين) (درجة لكل نقطة)

١. كانت حياة السكان في منطقة الخليج العربية قاسية وخشنة. ص ٢٧
* فقر البنية * قلة الموارد * فقر النباتات والحياة الحيوانية

٢. انصراف سكان منطقة الخليج العربية عن حرفة الغوص على اللؤلؤ. ص ٣١
* اكتشاف النفط^١ * ظهور اللؤلؤ الصناعي

٣. إنشاء مجلس التعاون لدول الخليج العربية. ص ٧٤
* تحقيق التعاون لدول الخليج العربية .
* إيجاد نوع من الإتحاد على أسس سليمة ومتينة لمصلحة شعوب المنطقة.

ب. أجب عما يأتي: (يكتفى بنقطتين) (درجة لكل نقطة)

١. أذكر الهيكل التنظيمي لمجلس التعاون لدول الخليج العربية. ص ٧٠
* المجلس الأعلى * المجلس الوزاري * الأمانة العامة

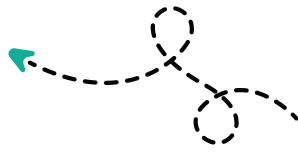
٢. الصناعات القائمة في دول الخليج العربية. ص ٩٧
* البتروكيماوية * الغاز * تكرير النفط * النحاس * الألمنيوم * الحديد

٣. أسباب التلوث المائي (البحري): ص ١٣٦
* مخلفات المصانع * مياه الصرف الصحي غير المعالجة * النفط ومشتقاته^١
* النفايات الخطرة * الأمطار الحمضية * مياه الصرف الصحي^١

انتهت الأسئلة



مدرستي معكم خطوة بخطوة للنجاح والتفوق




مدرستي

الكويتية

حمل التطبيق



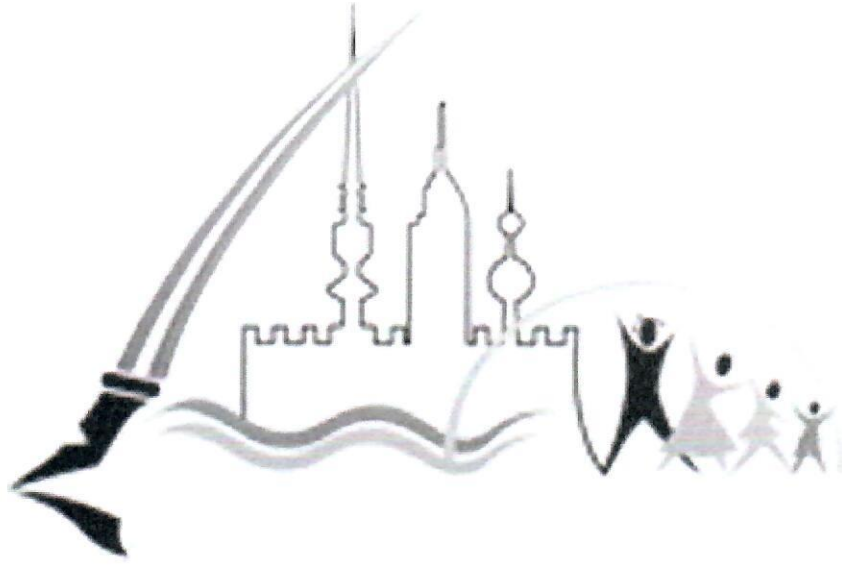
مدرستي



الكويتية



اضغط هنا



منطقة العاصمة التعليمية

الاجابة النموذجية





وزارة التربية

الإدارة العامة لمنطقة العاصمة التعليمية

التوجيه الفني للاجتماعيات

نموذج الإجابة

العام الدراسي ٢٠٢٢ / ٢٠٢٣ م

الزمن : ساعة و خمس و اربعون دقيقة

عدد الصفحات : (٥)

امتحان نهاية الفترة الدراسية الثانية

لمقرر الكويت ودول الخليج العربية

الصف السادس المتوسط

اجب عن جميع الاسئلة التالية

السؤال الأول ويتكون من (أ - ب - ج - د - هـ - و - ي) : (درجة لكل إجابة = ٣٦ درجة)

(أ) أكمل العبارات التالية بما يناسبها :

- ١ - الدولة العربية الخليجية التي ظهرت فيها حضارة أم النار اسمها قطر . ص ١٠٥
- ٢ - الحقل الذي اكتشف فيه كميات ضخمة من النفط في دولة الكويت يسمى برقان . ص ٨٧
- ٣ - المحصول الزراعي الذي كان للمملكة العربية السعودية تجربة رائدة في إنتاجه هو القمح ص ٩٢
- ٤ - الهجرة العربية التي استقرت في مدينة أبوظبي اسمها بنى ياس . ص ١٠٨
- ٥ - العام الذي تم فيه تصدير أول شحنة من النفط الكويتي ١٩٤٦ م . ص ٩٠
- ٦ - مجموعة من الناس تشترك فيما بينها في الصفات الجسمانية الرئيسية كلون الجلد وشكل الأنف وما إليها يطلق عليهم اسم السلالة . ص ١٠٦

(ب) ضع خطأ تحت الخيار الصحيح من بين البدائل التي تلي كل عبارة مما يلي :

١ - الدولة الخليجية الأعلى في نسبة الوافدين اسمها : ص ١١٢

دولة الكويت	سلطنة عمان	الإمارات العربية المتحدة	المملكة العربية السعودية
-------------	------------	--------------------------	--------------------------

٢ - الحاكم الذي تم في عهده تصدير أول شحنة من النفط الكويتي هو الشيخ : ص ٩٠

جابر الأحمد الصباح	سعد العبدالله الصباح	صباح الأحمد الصباح	أحمد الجابر الصباح
--------------------	----------------------	--------------------	--------------------

٣ - عدد الآبار النفطية الكويتية التي أحرقتها النظام العراقي البائد أثناء الغزو على دولة الكويت يبلغ : ص ١٣٩

٧٣٥ بئر	٧٣٦ بئر	٧٣٧ بئر	٧٣٨ بئر
---------	---------	---------	---------

٤ - عملية تحويل المواد الخام إلى مواد يمكن الاستفادة منها تعرف باسم : ص ٩٥

الصناعة	التعدين	التصدير	الإنتاج
---------	---------	---------	---------

٥ - أصغر دول الخليج العربية من حيث المساحة دولة اسمها : ص ١١٤

المملكة العربية السعودية	مملكة البحرين	الإمارات العربية المتحدة	دولة قطر
--------------------------	---------------	--------------------------	----------

(ج) صنف أسماء المناطق الخليجية التالية حسب مكانها الصحيح في الجدول أدناه :

(امسيعيد — العبدلي — شمال سترة — الهفوف — جبل علي — سهل الباطنة) ص ٩٦+٩٢

مناطق زراعية	مناطق صناعية
العبدلي / الهفوف / سهل الباطنة	امسيعيد / شمال سترة / جبل علي



تابع / السؤال الأول :


د) اختر من القائمة التالية الاسم المناسب لصور أنواع التلوث ثم سجله أسفل الصورة: ص ١٣٣
(تلوث هوائي - تلوث تربة - تلوث إشعاعي - تلوث مائي - تلوث ضوضائي)



تلوث هوائي



تلوث تربة



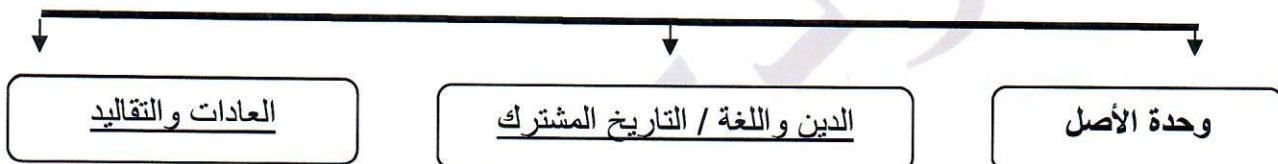
تلوث ضوضائي




تلوث مائي

هـ) أكمل المخططات السهمية التالية :

١- الروابط التي تربط بين دول الخليج العربية . ص ١١٨ - ١٢٠



٢- مجالات التعاون بين دول مجلس التعاون الخليجية . ص ١٢٩ - ١٣٠



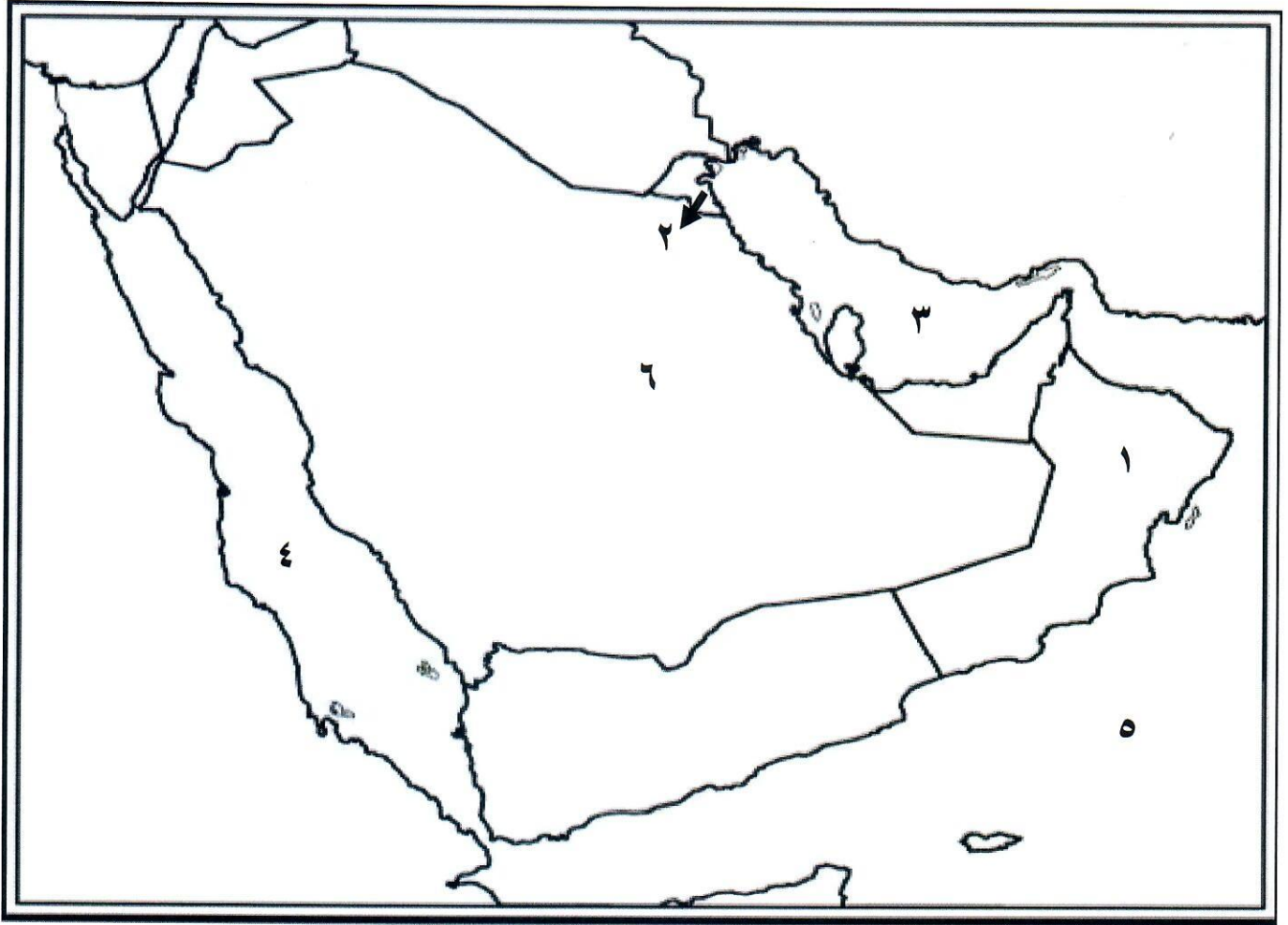
و) اكتب المفهوم أو المصطلح الدال على كل عبارة مما يلي :

المفهوم / المصطلح	العبارات
العنف ص ١٤٤	السلوك العدواني الموجه ضد الغير والذي يتسم بالتخريب والتدمير سواء كان السلوك أقوالاً أو أفعالاً .
التلوث ص ١٣٣	الضرر الذي يصيب عناصر البيئة الأساسية (هواء - ماء - تربة) فتتحول من عناصر مفيدة إلى عناصر ضارة .
طبقة الأوزون ص ١٣٥	درع واق للأحياء ضد خطر الأشعة فوق البنفسجية الضارة .
بيوت بلاستيكية ص ٩٤	يزرع فيها الخضراوات في غير مواسمها وتقوم بحماية المحاصيل من تقلبات الطقس .
النمو السكاني ص ١١١	التغيير الذي يحدث لعدد السكان نتيجة للزيادة الطبيعية وغير الطبيعية .



تابع / السؤال الأول

ي (لاحظ خريطة دول الخليج العربية التي أمامك ثم استعن بالأرقام التي عليها لإكمال العبارات التالية:



- الخليج العربي يمثل على الخريطة الرقم ٣ ص ٩١
- يوجد ميناء الفحل النفطي في دولة خليجية تحمل على الخريطة الرقم ١ ص ٩٧
- بحر العرب يمثل على الخريطة الرقم ٥ ص ٩٢
- دولة خليجية لم تتعرض للاستعمار الأجنبي تحمل على الخريطة الرقم ٦ ص ١٢٠
- توجد منطقة الشعبية الصناعية في دولة خليجية تحمل الرقم ٢ ص ٩٦.



السؤال الثاني ويتكون من (أ - ب - ج) :

أ) عرف ما يلي : (٤ درجات)

- ١- الثقافة : مجموعة من العادات والتقاليد والقيم في مجتمع من المجتمعات . ص ١١٨
- ٢- الدخل القومي : مجموع الدخل التي تحصل عليها الدولة خلال عام . ص ٩٥
- ٣- ترانزيت: إعادة تصدير البضائع المستوردة. ص ٩٩
- ٤- الكثافة السكانية : عدد السكان في الكيلو متر المربع ، وتقاس بقسمة عدد السكان على مساحة الدولة . ص ١١٤

ب) قارن بين كل مما يلي حسب المطلوب في الجدول التالي :- (٤ درجات)

أوجه المقارنة	التلوث البحري (المائي) ص ١٣٦	التلوث الهوائي ص ١٣٤
التعريف	إحداث إفساد لنوعية المياه من خلال إدخال مواد ضارة بها من قبل الإنسان مما يؤدي إلى حدوث خلل في النظام المائي ص ١٣٦	تعرض الغلاف الجوي لمواد تسبب الضرر للإنسان والكائنات الحية الأخرى وتؤدي إلى الإضرار بالبيئة الطبيعية . ص ١٣٤
أسباب التلوث	مخلفات المصانع / مياه الصرف الصحي غير المعالجة / مياه الصرف الزراعي / النفط ومشتقاته / النفايات الخطرة / الأمطار الحمضية . (يكتفى بنقطة) ص ١٣٦	أول أكسيد الكربون / إشعاعات نووية ثاني أكسيد النيتروجين + سيارات وطائرات براكين / عواصف ترابية / الصناعة / حرق النفايات / مبيدات حشرية. (يكتفى بنقطة) ص ١٣٨

ج) علل ما يلي : (٤ درجات) (يكتفى بنقطتين)

- ١- شهدت منطقة الخليج العربي بعد اكتشاف النفط نمواً سكانياً فجائياً . ص ١١٠ - ١١١
 - * ارتفاع دخل الفرد
 - * توفر فرص العمل
 - * توفر الرعاية الصحية
 - * زيادة عدد المواليد .
 - * الأمن والأمان
 - * ارتفاع الأجور
 - * السماح للوافدين باصطحاب عائلاتهم
- ٢- وجود مشكلة العنف عند المتعلمين . ص ١٤٩
 - * أسباب أسرية
 - * أسباب نفسية
 - * أسباب بيئية عامة .



السؤال الثالث : ويتكون من (أ - ب - ج) :-

أ) اكتب فيما يلي : (٤ درجات) (يكتفى بنقطتين)

١ - أنواع الصناعات القائمة على النفط بدول مجلس التعاون الخليجي . ص ٩٧

* البتروكيماويات * الغاز * تكرير النفط / حديد / نحاس / ألومنيوم.

٢- مظاهر التعاون العسكري بين دول مجلس التعاون الخليجي. ص ١٢٩

* المناورات (التدريبات) العسكرية المختلفة

* إنشاء قوة مشتركة تضم جميع دول مجلس التعاون الخليجي (درع الجزيرة)

* قبول أبناء دول مجلس التعاون في الكليات العسكرية .

ب) فرق بين كل مما يلي من حيث (التعريف) : (٤ درجات)

الواردات ص ٩٩	الصادرات ص ٩٩
البضائع والسلع التي تشتريها دولنا من الخارج	السلع والمنتجات التي تبيعها دولنا في الخارج
احتياطي النفط ص ٨٨	إنتاج النفط ص ٨٨
كميات النفط المخزونة في باطن الأرض .	كميات النفط التي يتم استخراجها للاستفادة منها .

ج) اذكر (اثنين) لكل مما يلي : (٤ درجات) (يكتفى بنقطتين)

١- الدول المستوردة للنفط الكويتي . ص ٩٠

- اليابان

* الولايات المتحدة الأمريكية - هولندا

٢- حلول لمشكلة العمالة المنزلية . ص ١٥٠

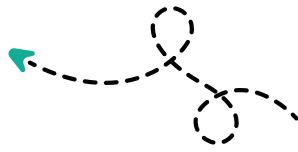
* الاهتمام الجاد بالقرآن الكريم والسنة النبوية * يتحمل كل فرد في الأسرة مسؤوليته والقيام بدوره خير قيام

* جعل مهمة الخادم مقتصرة على ممارسة دوره الأساسي في المساهمة في تحمل أعباء المنزل لا غير

انتهت الأسئلة ،،



مدرستي معكم خطوة بخطوة للنجاح والتفوق




مدرستي

الكويتية

حمل التطبيق



مدرستي



الكويتية



اضغط هنا



الاجابة النموذجية





العام الدراسي: ٢٠٢٢ - ٢٠٢٣ م
الزمن: ساعة ونصف
عدد الأوراق: ٦

امتحان الفترة الدراسية الثانية
لمقرر: الكويت ودول الخليج العربية
للفصل السادس

وزارة التربية
الإدارة العامة لمنطقة الفروانية التعليمية
التوجيه الفني للاجتماعيات

أجب عن جميع الأسئلة التالية:

السؤال الأول: ويتكون من (أ ، ب ، ج ، د ، هـ ، و ، ز) (لكل نقطة درجة)

(أ) ضع خطاً تحت الخيار الصحيح من بين الخيارات التي تلي كل عبارة: $6 \times 1 = 6$ درجات

١ - أهم الدول المستوردة للنفط الكويتي هي الولايات المتحدة الأمريكية وهولندا وأيضاً : ص ٩٠

- الهند - كوريا - اليابان - الصين

٢ - المحصول الزراعي الذي نجحت المملكة العربية السعودية كتجربة رائدة في إنتاجه : ص ٩٢

- القطن - القمح - الأرز - الشعير

٣ - البعثة التي كشفت عن وجود تشابه في الآثار الحضارية لدول الخليج العربية : ص ١٠٥

- الدانمركية - البريطانية - الفرنسية - الألمانية

٤ - الموقع الذي ساهم في ازدهار نمو صناعة النفط وتسويقه في منطقة الخليج العربية : ص ١١٣

- الفلكي - النسبي - المكاني - الجغرافي

٦ - درع واقٍ للأحياء ضد خطر الأشعة فوق البنفسجية الضارة : ص ١٣٥

- الدخان - الضباب - الأوزون - الهواء

٧ - العام الذي تعرضت فيه دولة الكويت للغزو العراقي الغاشم : ص ١٣٩

- ١٩٩٠ - ١٩٩١ م - ١٩٩٢ م - ١٩٩٣ م

(ب) صنف الهجرات في مكانها الصحيح حسب الجدول التالي : $6 \times 1 = 6$ درجات

- القواسم - المعاضيد - الأزد - بني ياس - آل الصباح - آل خليفة ص ١٠٨

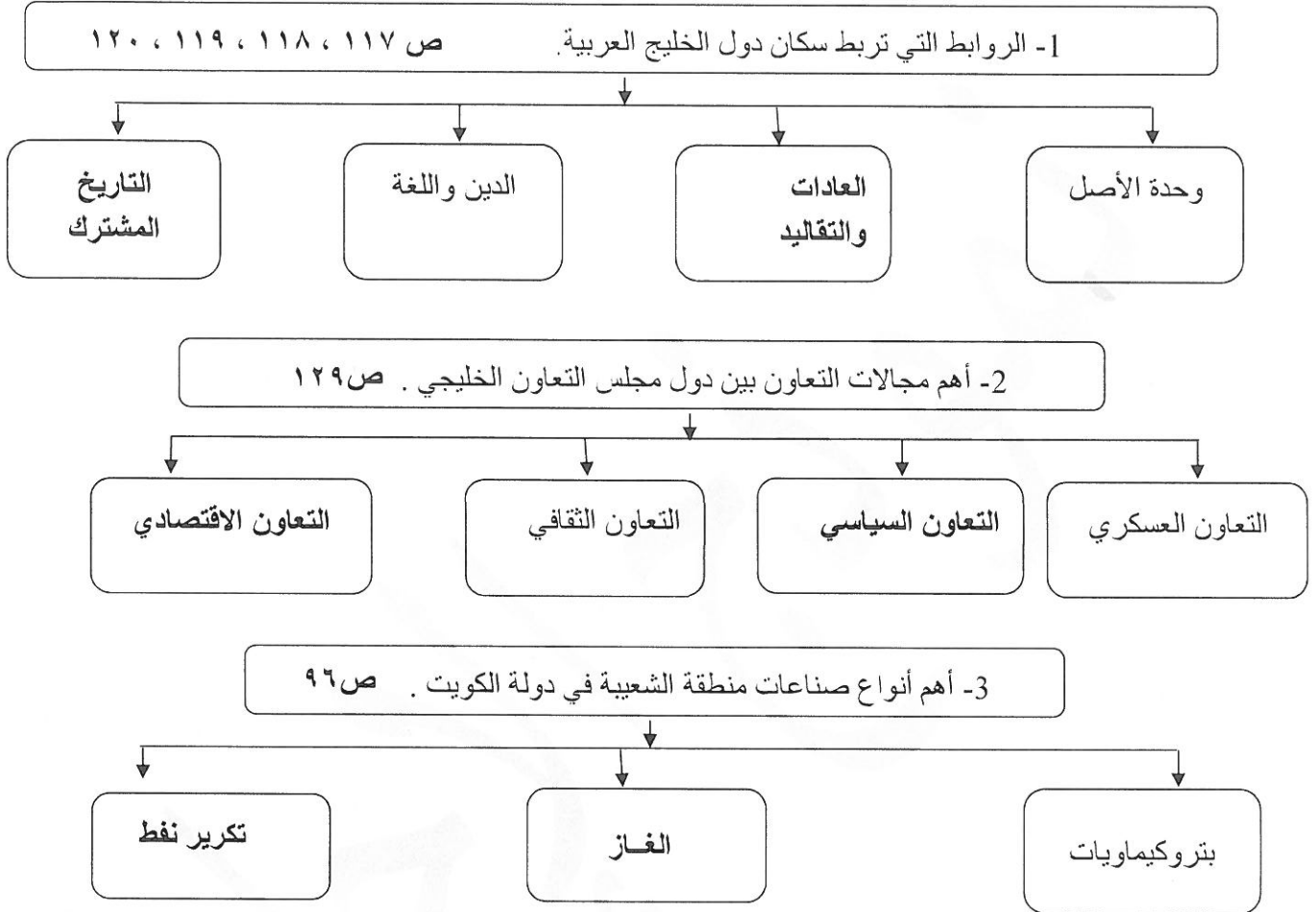
دولة الكويت	البحرين	قطر	أبو ظبي	رأس الخيمة	عُمان
آل الصباح	آل خليفة	المعاضيد	بني ياس	القواسم	الأزد



تابع : السؤال الأول :

٦ × ١ = ٦ درجات

(ج) أكمل المخططات السهمية التالية :



٤ × ١ = ٤ درجات

(د) اكتب المفاهيم أو المصطلحات الدالة على العبارات التالية :

م	المفهوم	العبرة
١	الزراعة بدون تربة	الزراعة التي تتم في بيئة مائية أو رملية أو حصى أو نشارة خشب تضاف إليها المحاليل الغذائية ص ٩٤
2	السلالة	مجموعة من الناس تشترك فيما بينها في الصفات الجسمانية الرئيسية كلون الجلد وشكل الأنف والشعر وطول القامة وما إليها . ص ١٠٦
3	النمو السكاني	التغيير الذي يحدث لعدد السكان نتيجة للزيادة الطبيعية وغير الطبيعية ص ١١١
4	التلوث المائي	إحداثيات إفساد لنوعية المياه من خلال إدخال مواد ضارة بها من قبل الإنسان مما يؤدي إلى حدوث خلل في النظام المائي . ص ١٣٦

السؤال الأول :

(هـ) اكتب عنوان مشترك بين مجموعة العناصر التالية : $٤ = ٤ \times ١$ درجات

- ١ -

عدد السكان	قسمة	مساحة الدولة
------------	------	--------------

 ← (الكثافة السكانية)
- ٢ -

عادات	تقاليد	قيم
-------	--------	-----

 ← (الثقافة)
- ٣ -

الطباخين داخل المنزل	الخدم	السائقين
----------------------	-------	----------

 ← (العمالة المنزلية)
- ٤ -

السوك العدوانى	التخريب	التدمير
----------------	---------	---------

 ← (العنف)

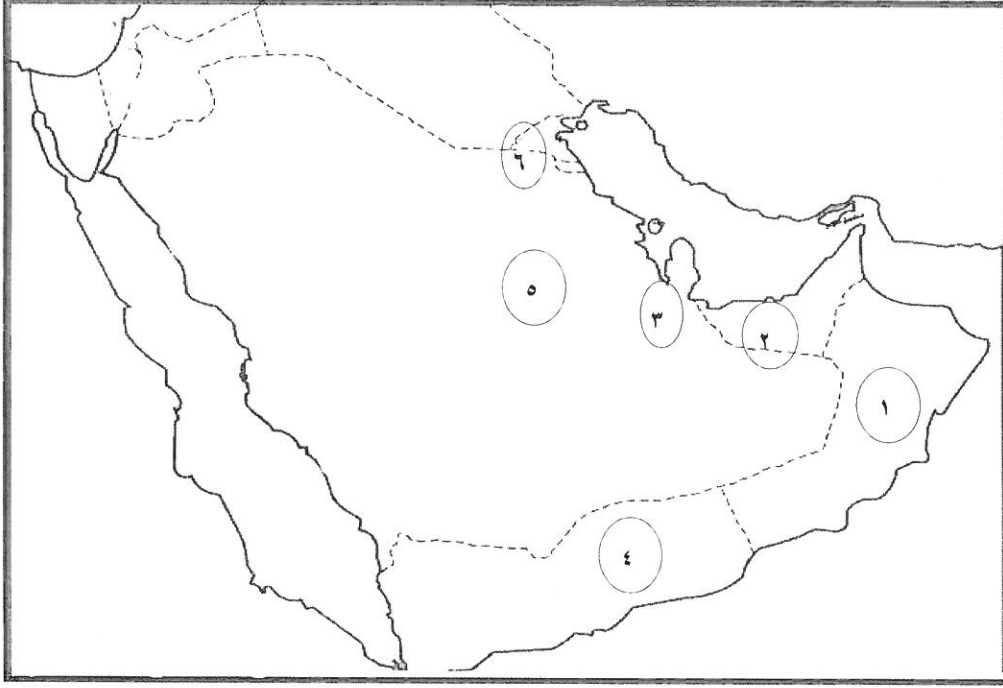
(جـ) اكمل العبارات التالية بما يناسبها فيما درست : $٦ = ٦ \times ١$ درجات

- ١ - العام الذي بدأ فيه التنقيب عن النفط بدولة الكويت ١٩٣٤م ص ٨٧
- ٢ - حاكم دولة الكويت الذي تم في عهده تصدير أول شحنة من النفط الكويتي عام ١٩٤٦م اسمه الشيخ أحمد الجابر الصباح ص ٩٠
- ٣ - السبب الرئيسي في الزيادة غير الطبيعية لسكان دول الخليج العربية الهجرة ص ١١٠
- ٤ - المدينة الخليجية التي تعد مقر مكتب التربية العربي لدول مجلس التعاون الخليجي تسمى الرياض ص ١٣٠
- ٥ - العام الذي تم فيه صدور إعلان الدوحة بشأن قيام السوق الخليجية المشترك ٢٠٠٨م ص ١٣٠
- ٦ - عدد الآبار النفطية الكويتية التي قام النظام العراقي البائد بإشعالها أكثر من ٧٣٧ بئرا ص ١٣٩

تابع : السؤال الأول :

٤ × ١ = ٤ درجات

(ز) لاحظ خريطة شبه الجزيرة العربية ثم نفذ المطلوب:



ص ٩١

٥ - الدولة التي يوجد بها حقل الغوار يمثلها على الخريطة الرقم

ص ٩١

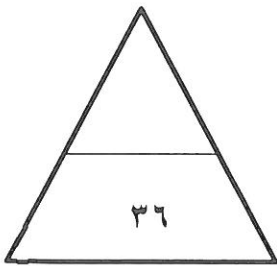
٣ - الدولة التي يوجد بها حقل دخان يمثلها على الخريطة الرقم

ص ٩٢

١ - الدولة التي يوجد بها سهل الباطنة يمثلها على الخريطة الرقم

ص ١٣٩

٦ - الدولة التي يوجد بها حقل برقان يمثلها على الخريطة الرقم



السؤال الثاني : ويتكون من (أ - ب - ج) :

$2 \times 1 = 2$ درجات

(أ) عرف المفاهيم التالية :

- ١- الصناعة: تحويل المواد الخام إلى مواد يمكن الاستفادة منها. ص ٩٥
- ٢- الترانزيت: إعادة تصدير البضائع المستوردة. ص ٩٩

(ب) اقرأ الفقرة التالية ثم أجب عما يليها من أسئلة: ص ١٣٣ و ١٣٤ و ١٣٩ $6 \times 1 = 6$ درجات

تعرضت دولة الكويت للغزو العراقي الغاشم مما أسفر عن أضرار في البيئة الكويتية حيث تسبب بإحداث تلوثاً بيئياً (تلوث هوائي، تلوث أرضي) بالإضافة إلى الآثار الخطرة على صحة الإنسان والكائنات الحية.

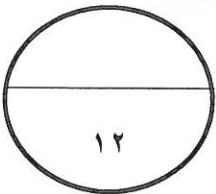
- ١- اقترح عنواناً مناسباً للفقرة السابقة. (ما يراه المصحح مناسب)
- ٢- عدد أنواع التلوث الناجمة من الغزو العراقي الغاشم على دولة الكويت. (الاكتفاء بنقطتين)
- تلوث هوائي
- تلوث أرضي
- ٣- اذكر الآثار الخطرة من التلوث البيئي الذي أحدثه الغزو العراقي الغاشم على دولة الكويت.
- آثار خطيرة على صحة الإنسان والكائنات الحية.
- ٤- اذكر النتائج المترتبة من تلوث التربة. (الاكتفاء بنقطتين)
١- ضعف قدرتها على الإنتاج الزراعي
٢- تلوث الإنتاج الزراعي مما يؤثر على صحة الإنسان

$2 \times 2 = 4$ درجات

(ج) اكتب فيما يلي مما درست :

- ١ - مظاهر التعاون الثقافي بين دول مجلس التعاون الخليجي
- توحيد المناهج التعليمية وتطويرها.
- إنشاء مكتب التربية العربي ومقره الرياض.
- اجتماع وزراء التربية والتعليم لدول الخليج العربية كل عامين لوضع السياسات التربوية.
- ٢ - الحلول المقترحة لعلاج مشكلة العنف.
- الاهتمام الجاد بالقرآن الكريم والسنة النبوية الشريفة.
- الاهتمام بالقراءة والمطالعة بدلا من أصدقاء السوء
- القدوة الحسنة من كل المحيطين بالشباب (المتعلمين)
- اتباع أساليب الحوار والتفاهم في علاج المشكلات والخلافات.
- (وما يراه المصحح مناسب)

(الاكتفاء بنقطتين) ص ١٥٠



السؤال الثالث: ويتكون من (أ - ب - ج) :

(أ) علل لما يلي : $2 = 1 \times 2$ درجات (نقطة واحدة لكل سؤال)

- ١ - استخدام البيوت البلاستيكية في الزراعة بمنطقة الخليج العربية. ص ٩٤
- لزراعة الخضراوات في غير مواسم أوقاتها - تقوم بحماية المحاصيل من تقلبات الطقس.
- ٢ - استخدام كلمة خليجيين للدلالة على سكان منطقة الخليج العربية بدلاً من إطلاق لفظ الدولة. ص ١١٧
- بسبب التشابه الثقافي بين سكان منطقة الخليج العربية.

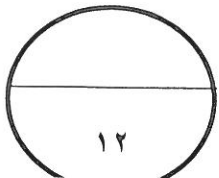
(ب) اكتب فيما يلي مما درست : $3 \times 2 = 6$ درجات

- ١ - أسباب نمو السكان نمواً مضطرباً فجائياً لمنطقة الخليج العربية بعد اكتشاف النفط. ص ١١٠ (الاكتفاء بنقطتين)
- ارتفاع دخل الفرد - توفر فرص العمل
- توفر الرعاية الصحية - الهجرات الداخلية والخارجية - (ما يراه المصحح مناسباً)
- ٢ - مظاهر التعاون العسكري بين دول مجلس التعاون الخليجي. ص ١٢٩ (الاكتفاء بنقطتين)
- المناورات والتدريبات العسكرية المختلفة
- إنشاء قوة مشتركة تضم جميع دول مجلس التعاون الخليجي (درع الجزيرة)
- قبول أبناء دول مجلس التعاون في الكليات العسكرية.
- المشاركة الفعلية في حرب تحرير دولة الكويت من النظام العراقي البائد.
- ٣ - أسباب التلوث البحري (المائي) . ص ١٣٦ (الاكتفاء بنقطتين)
- أ- مخلفات المصانع ج - مياه الصرف الزراعي هـ - النفايات الخطرة
- ب- النفط ومشتقاته د - مياه الصرف الصحي غير المعالجة و- الأمطار الحمضية

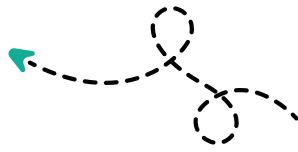
(ج) فرق بين كل من : $4 \times 1 = 4$ درجات

إنتاج النفط	احتياطي النفط
كميات النفط التي يتم استخراجها للاستفادة منها	كميات النفط المخزونة في باطن الأرض ص ٨٨
الصادرات	الواردات
السلع والمنتجات التي تبيعها دولنا في الخارج	البضائع والسلع التي تشتريها دولنا من الخارج ص ٩٩

(انتهت الأسئلة)



مدرستي معكم خطوة بخطوة للنجاح والتفوق




مدرستي

الكويتية

حمل التطبيق



مدرستي



الكويتية



اضغط هنا

منطقة حولي التعليمية

اختبارات نهاية الفترة الدراسية الثانية
العام الدراسي ٢٠٢٢/٢٠٢٣

نموذج الإجابة

السادس	الصف
الإجتماعيات	المادة



وزارة التربية
الإدارة العامة لمنطقة حولي التعليمية مقرر / الكويت ودول الخليج العربية
التوجيه الفني للاجتماعيات الصف السادس المتوسط
العام الدراسي : ٢٠٢٢ / ٢٠٢٣ م
الزمن : ساعة و ٤ دقائق
عدد الصفحات : ٥

اجب عن جميع الأسئلة التالية

السؤال الأول (موضوعي) : ويتكون من (أ - ب - ج - د - ه - و) :

(أ) ضع علامة (√) أمام العبارة الصحيحة وعلامة (×) أمام العبارة الخاطئة : (٦ درجات)

م	العبارة	العلامة
١	الدخل القومي هو مجموع الدخول التي تحصل عليها الدولة خلال عام . ص ٩٥	(√)
٢	إعاده تصدير البضائع المستوردة تسمى صناعة . ص ٩٩	(×)
٣	وحدة الأصل من الروابط التي تربط بين أبناء دول الخليج العربية . ص ١١٧	(√)
٤	أبناء الخليج العربي تجمعهم لغة القرآن الكريم وهي اللغة العربية . ص ١١٩	(√)
٥	الأمطار الحمضية ومخلفات المصانع من أسباب التلوث الضوضائي . ص ١٣٦	(×)
٦	العنف مرض اجتماعي وهو عادة موروث . ص ١٤٦	(×)

(ب) صنف مايلي حسب مايناسبها في الجدول التالي : (٦ درجات)

١- الهجرات العربية : ص ١٠٨

[المعاضيد - القواسم - آل خليفة]

منطقة الاستقرار	البحرين	قطر	رأس الخيمة
الهجرة	آل خليفة	المعاضيد	القواسم

٢- النمو السكاني في دول الخليج العربية : ص ١١٢ + ١١٤

[مملكة البحرين - المملكة العربية السعودية - الإمارات]

أكثر دولة خليجية في عدد السكان	أقل دولة خليجية في نسبة الوافدين	أكثر دولة خليجية في الكثافة السكانية
المملكة العربية السعودية	الإمارات	مملكة البحرين



تابع/ السؤال الأول :

(ج) ظلل الخيار الصحيح من بين الخيارات التي تلى كل عبارة مما يلي : (٦ درجات)

١- كميات النفط المخزونة في باطن الأرض : ص ٨٨

إنتاج النفط	تصدير النفط	<u>احتياطي النفط</u>	استيراد النفط
-------------	-------------	----------------------	---------------

٢- الدولة الخليجية التي اشتهرت في صناعة النحاس : ص ٩٦

<u>سلطنة عُمان</u>	الإمارات العربية المتحدة	قطر	المملكة العربية السعودية
--------------------	--------------------------	-----	--------------------------



٣- الصورة المقابلة تمثل قلعة في مملكة البحرين تسمى : ص ١٢٠

<u>قلعة البرتغال</u>	قلعة لشبونة
قلعة الأندلس	قلعة ملقا

٤- مقر مكتب التربية العربي يقع في مدينة : ص ١٣٠

الدوحة	المنامة	مسقط	<u>الرياض</u>
--------	---------	------	---------------

٥ - يرجع سبب ضعف قدرة التربة على الإنتاج الزراعي إلى التلوث : ص ١٣٤

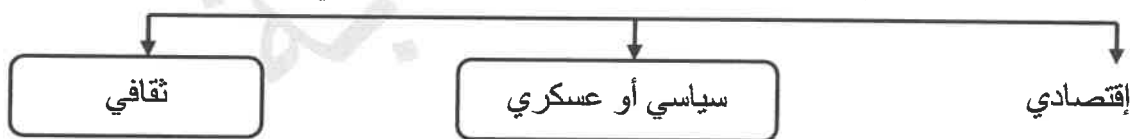
<u>الأرضي</u>	الضوضائي	الهوائي	المائي
---------------	----------	---------	--------

٦- من أهم أسباب التلوث البحري : ص ١٣٦

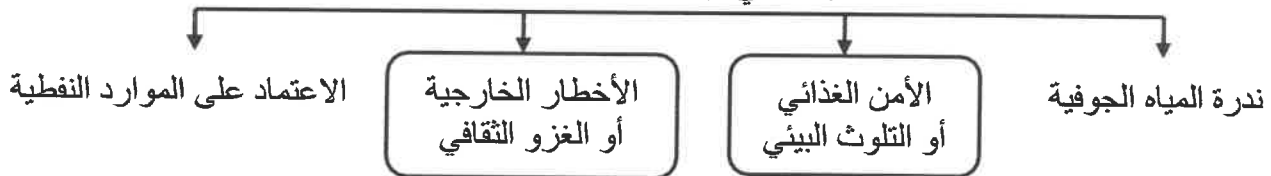
الأصوات	السيارات	الطائرات	<u>النفائات الخطرة</u>
---------	----------	----------	------------------------

(د) أكمل المخططات السهمية التالية : (٦ درجات)

١- مجالات التعاون بين دول مجلس التعاون الخليجي : ص ١٢٩



٢- التحديات التي تواجه دول مجلس التعاون : ص ١٣٢

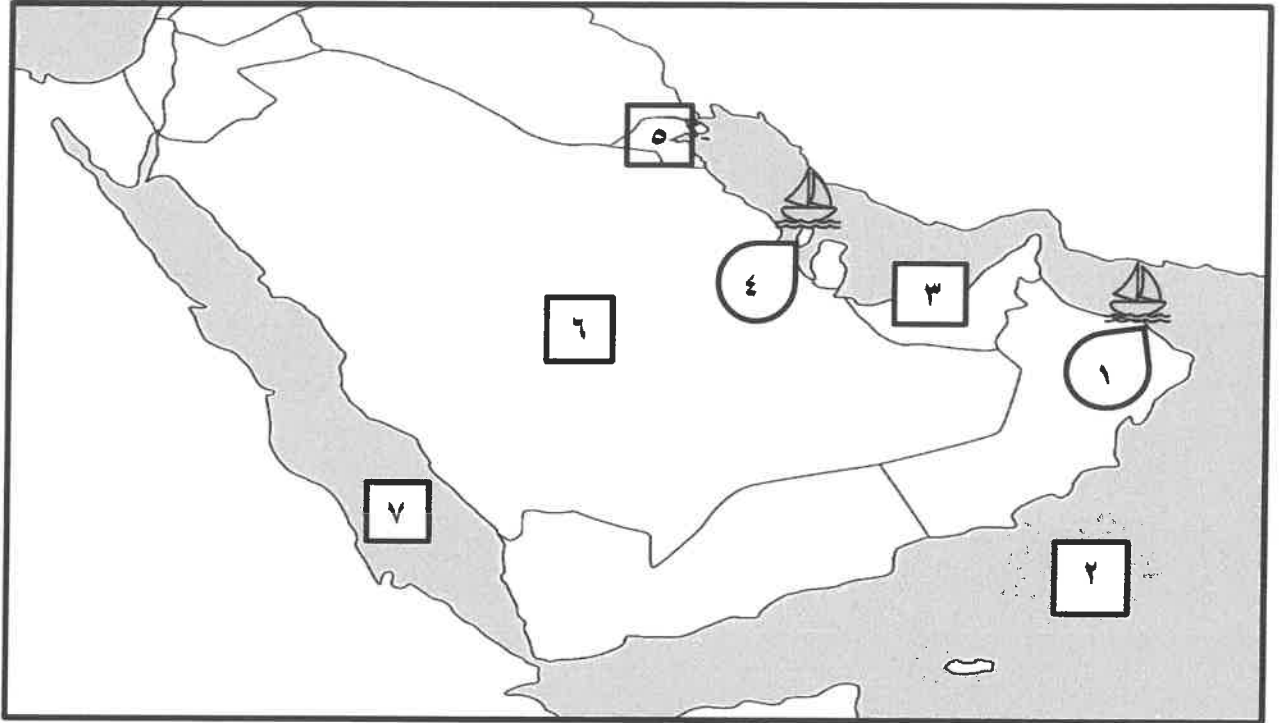


٣- وظائف العمالة المنزلية : ص ١٤٢



تابع السؤال الأول:

(هـ) أمامك خريطة دول الخليج العربية الصماء أكتب الأرقام الدالة على العبارات التي تليها: (٦ درجات)



- ١- ميناء الفحل يمثل على الخريطة الرقم (١) ص ٩١
- ٢- البحر الأحمر يمثل على الخريطة الرقم (٧) ص ٩٢
- ٣- دولة خليجية يوجد بها منطقة العبدلي الزراعية يمثلها على الخريطة الرقم (٥) ص ٩٢
- ٤- منطقة جبل علي الصناعية يمثلها على الخريطة الرقم (٣) ص ٩٦
- ٥- ميناء سترة يمثل على الخريطة الرقم (٤) ص ٩٦
- ٦- أعلى دولة خليجية في نسبة المواطنين عام ٢٠٠٦ م يمثلها على الخريطة الرقم (٦) ص ١١٢

(و) أكمل العبارات التالية بما يناسبها مما درست : (٦ درجات)

- ١- أول حقل نفطي اكتشف في دولة الكويت عام ١٩٣٤ م اسمه بحرة ص ٨٧
- ٢- نجحت المملكة العربية السعودية في إنتاج محصول زراعي اسمه القمح ص ٩٢
- ٣- حاكم دولة الكويت الموضح بالصورة اسمه الشيخ أحمد الجابر رحمه الله ص ٩٠
- ٤- مشكلة تعرّض الغلاف الجوي لمواد تسبب الضرر للإنسان والكائنات الحية الأخرى وتؤدي إلى الإضرار بالبيئة الطبيعية تسمى التلوث الهوائي ص ١٣٤
- ٥- طبقة الغلاف الجوي التي تحمي من الأشعة فوق البنفسجية تسمى الأوزون ص ١٣٥
- ٦- يبلغ عدد الآبار النفطية الكويتية التي أحرقتها النظام العراقي البائد أكثر من ٧٣٧ بئراً ص ١٣٩



السؤال الثاني (مقالي) : يتكون من (أ - ب - ج) :

(أ) لاحظ الصورة المقابلة ثم أجب عن الأسئلة التي تليها : (٤ درجات)



١- سجل عنواناً مناسباً للصورة المقابلة : ص ١٤٤ + ص ١٤٥

مشكلة العنف ... (وكل ما يراه المصحح مناسباً)

٢- اذكر أشكال العنف . (يكتفى بنقطة)

- اللفظي - التدمير التخريب أقوالاً (سب - شتم - صراخ) أفعالاً (ضرب - الاعتداء)

٣- اقترح حلولاً لمشكلة العنف . ص ١٥٠ (يكتفى بنقطتين)

- الاهتمام الجاد بالقرآن الكريم والسنة النبوية الشريفة - الاهتمام بالقراءة والمطالعة بدلاً من أصدقاء السوء .

- القدوة الحسنة من كل المحيطين بالشباب (المتعلمين) واتباع أساليب الحوار والتفاهم في علاج المشكلات والخلافات.

(ب) عدد ما يلي : (٤ درجات)

١- أنواع الصناعات في دول الخليج العربية . ص ٩٧ (يكتفى بنقطتين)

- بتروكيماويات - الغاز - تكرير النفط - حديد - نحاس - ألومنيوم

٢- مظاهر التعاون الاقتصادي بين دول مجلس التعاون الخليجي . ص ١٣٠ (يكتفى بنقطتين)

- صدور إعلان الدوحة بشأن قيام السوق الخليجية المشتركة في يناير ٢٠٠٨ م .

- زيادة التبادل التجاري .

(ج) عرف المفاهيم والمصطلحات التالية : (٤ درجات)

م	المفهوم	التعريف
١	إنتاج النفط	كميات النفط التي يتم استخراجها للإستفادة منها . ص ٨٨
٢	النمو السكاني	التغير الذي يحدث لعدد السكان نتيجة للزيادة الطبيعية وغير الطبيعية . ص ١١١
٣	الثقافة	مجموعة من العادات والتقاليد والقيم في مجتمع من المجتمعات . ص ١١٨
٤	التلوث	الضرر الذي يصيب عناصر البيئة الأساسية (هواء - ماء - تربة) فتتحول من عناصر مفيدة إلى عناصر ضارة . ص ١٣٣

السؤال الثالث (مقالى) : يتكون من (أ - ب - ج) :

(أ) اقرأ الفقرة التالية ثم أجب عما يليها من أسئلة : (٤ درجات) ص ١٠٥

ترجع الأصول السكانية في منطقة الخليج العربية إلى سلالة جنس البحر المتوسط وشرق أفريقيا وهم السكان الذين ورد ذكر حضاراتهم وأثارها المتشابهة في كل من (دلمون البحرين – هيلي الإمارات – أم النار قطر – ودبا عُمان – وتاروت في السعودية) والتي كشفت عنها البعثة الدانمركية .

١- عرف ما تحته خط . ص ١٠٦

سلالة : مجموعة من الناس تشترك فيما بينها في الصفات الجسمانية الرئيسة كلون الجلد وشكل الأنف وشكل الشعر وطول القامة وما إليها وتختلف عن غيرها من السلالات في هذه الصفات .

2- عدد أهم الحضارات التي ظهرت في منطقة الخليج العربية . (يكتفى بثلاث نقاط)

- دلمون البحرين / هيلي الإمارات / أم النار قطر / ودبا عُمان / تاروت في السعودية

(ب) فرق بين كل مما يلي : (٤ درجة)

الزراعة بدون تربة ص ٩٤	الزراعة ببيوت بلاستيكية ص ٩٤
الزراعة التي تتم في بيئة مائية أو رملية أو حصى أو نشارة خشب تضاف إليها المحاليل الغذائية .	يزرع فيها الخضراوات في غير مواسمها أو أوقاتها وتقوم بحماية المحاصيل من تقلبات الطقس .
الصادرات ص ٩٩	الواردات ص ٩٩
السلع والمنتجات التي تبيعها دولنا في الخارج .	البضائع والسلع التي تشتريها دولنا من الخارج .

(ج) علل لما يأتي : (٤ درجات)

١ - قيام دول الخليج العربية بإقامة العديد من الموانئ النفطية . ص ٩٠

- تزايد الإنتاج النفطي لدول مجلس التعاون من الحقول البرية والبحرية .
- تزايد الطلب العالمي عليه كمصدر أساسي للطاقة .

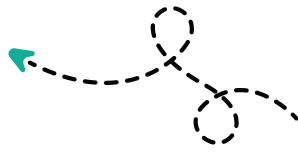
٢ - للعدوان العراقي على دولة الكويت تأثيراً مدمراً على البيئة الكويتية البرية والبحرية والهوائية . ص ١٣٩ (يكتفى بنقطتين)

- ضخ النفط متعمداً في مياه البحر . – تلوث التربة وتدمير الحياة الفطرية . – الدخان وتلوث الهواء .
- تساقط الرذاذ النفطي على التربة محدثاً تلوثاً أرضياً حيث تحول لون الرمال من اللون الأصفر إلى اللون الأسود .
- الآثار الخطرة على صحة الإنسان والكائنات الحية .

انتهت الإجابة



مدرستي معكم خطوة بخطوة للنجاح والتفوق




مدرستي

الكويتية

حمل التطبيق



مدرستي



الكويتية



اضغط هنا

وزارة التربية
الإدارة العامة لمنطقة مبارك الكبير التعليمية

نموذج إجابة اختبار الفترة الدراسية الثانية 2023/2022

السادس	الصف
الاجتماعيات	المادة





وزارة التربية

نموذج إجابة امتحان نهاية الفترة الدراسية الثانية

العام الدراسي: ٢٠٢٢ - ٢٠٢٣ م

الإدارة العامة لمنطقة مبارك الكبير التعليمية

لمقرر الكويت ودول الخليج العربية

الزمن : ساعة و ٤٥ دقيقة

التوجيه الفني للاجتماعيات

للفصف السادس

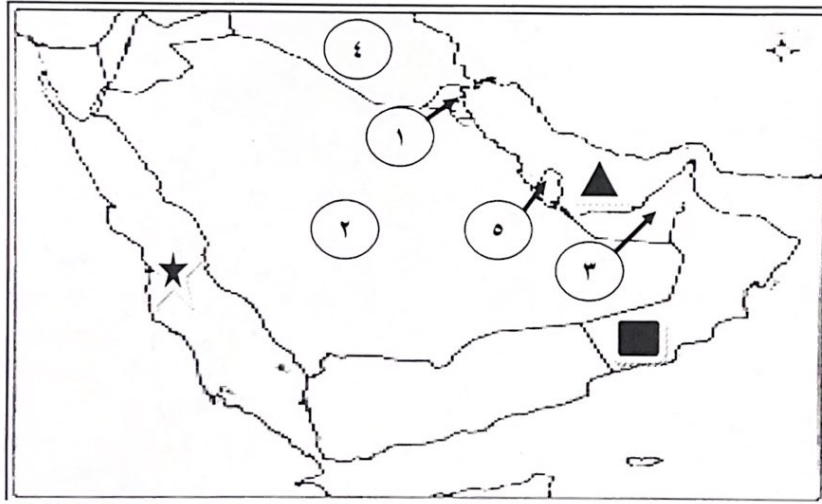
عدد الأوراق : (٥)

السؤال الأول (موضوعي) يتكون من (أ - ب) : لكل نقطة درجة

(أ) **صنف المناطق التالية بمكانها الصحيح في الجدول الذي يليها :**
(سهل تهامة - الشعبية - العبدلي - سهل الباطنة - الفحل - الجبيل)

مناطق زراعية	مناطق صناعية
سهل تهامة - العبدلي - سهل الباطنة ص ٩٢-٩٣	الشعبية - الفحل - الجبيل ص ٩٦ - ٩٧

(ب) **لاحظ خريطة شبه الجزيرة العربية الصماء ثم اكتب مدلولات الأرقام و الرموز التالية :**



- حضارة هيلي يمثلها على الخريطة الرقم (٣) ص ١٠٥

- الدولة الخليجية الأكبر من حيث عدد السكان يمثلها على الخريطة الرقم (٢) ص ١١٤

- منطقة الوفرة الزراعية يمثلها على الخريطة الرقم (١) ص ٩٢

- حقل دخان يمثلها على الخريطة الرقم (٥) ص ٩١

- منطقة صلالة الزراعية يمثلها على الخريطة الرمز (■) ص ٩٢

- الخليج العربي يمثلها على الخريطة الرمز (▲) ص ٩٢



تابع نموذج إجابة امتحان الفترة الدراسية الثانية - الكويت ودول الخليج العربية - الصف السادس المتوسط للعام الدراسي ٢٠٢٢ / ٢٠٢٣ م

السؤال الثاني (موضوعي) يتكون من (أ - ب) :

(أ) ظلل الخيار الصحيح من بين البدائل التي تلي كل عبارة مما يلي: لكل نقطة درجة

١- المحصول الذي نجحت المملكة العربية السعودية في زراعته : ص ٩٢

القطن	القمح	الذرة	الأرز
-------	-------	-------	-------

٢- المدينة التي تم فيها الإعلان عن قيام السوق الخليجية المشتركة: ص ١٣٠

أبو ظبي	الرياض	المنامة	الدوحة
---------	--------	---------	--------

٣- كميات النفط المخزونة في باطن الأرض: ص ٨٨

إنتاج النفط	تكرير النفط	احتياطي النفط	تصدير النفط
-------------	-------------	---------------	-------------

٤- العام الذي تعرضت فيه دولة الكويت للغزو العراقي الغاشم : ص ١٣٩

١٩٩٠ م	١٩٩١ م	١٩٩٢ م	١٩٩٣ م
--------	--------	--------	--------

٥- الدولة التي تقع فيها منطقة الإحساء: ص ٩٢

الكويت	قطر	الإمارات	السعودية
--------	-----	----------	----------

٦- مصدر طبيعي لتلوث الهواء: ص ١٣٤

حرق النفايات	البراكين	المبيدات الحشرية	الصناعة
--------------	----------	------------------	---------

(ب) أكمل العبارات التالية بما يناسبها :

١- القوة العسكرية المشتركة التي تضم جميع دول مجلس التعاون الخليجي تسمى درع الجزيرة . ص ١٢٩

٢- تشتهر منطقة صحار الصناعية بصناعة معدن يسمى النحاس . ص ٩٦

٣- بدأ التنقيب عن النفط في دولة الكويت عام ١٩٣٤ م . ص ٨٧

٤- شهدت دول منطقة الخليج العربية تغيرات كبيرة وسريعة بعد ظهور النفط . ص ١٤١

٥ - تم تصدير أول شحنة من النفط الكويتي في عهد الشيخ احمد الجابر الصباح ص ٩٠

٦- يزرع فيها الخضروات في غير مواسمها وتقوم بحماية المحاصيل من تقلبات الطقس تسمى بيوت بلاستيكية ص ٩٤



السؤال الثالث (موضوعي) يتكون من (أ - ب - ج) : لكل نقطة درجة

(أ) اكتب المفاهيم أو المصطلحات الدالة على العبارات التالية :

- ١- (طبقة الأوزون) درع واق للأحياء ضد خطر الأشعة فوق البنفسجية الضارة . ص ١٣٥
- ٢- (ترانزيت) إعادة تصدير البضائع المستوردة . ص ٩٩
- ٣- (تلوث) الضرر الذي يصيب عناصر البيئة الأساسية فتتحول من عناصر مفيدة الى عناصر ضارة . ص ١٣٣
- ٤- (ثقافة) مجموعة من العادات والتقاليد والقيم في مجتمع من المجتمعات . ص ١١٨

(ب) اختر من المجموعة (أ) ما يناسبها من المجموعة (ب) بوضع الرقم الصحيح في المكان المناسب :

الرقم	المجموعة (أ)	الرقم الصحيح	المجموعة (ب)
١	تعاون اقتصادي ص ١٣٠	١	زيادة التبادل التجاري
٢	تعاون عسكري ص ١٣٠	٣	توحيد المناهج التعليمية و تطويرها
٣	تعاون ثقافي ص ١٣٠	دورة كأس الخليج لكرة القدم
		٢	قبول أبناء دول مجلس التعاون في الكليات العسكرية

(ج) صحح ما تحته خط بكتابة الإجابة الصحيحة ما بين الأقواس :

- ١- تحويل المواد الخام إلى مواد يمكن الاستفادة منها يسمى الدخل القومي (الصناعة) ص ٩٥
- ٢- بدأ التنقيب عن النفط في دولة الكويت في حقل يسمى برقان (بحره) ص ٨٧
- ٣- دخول مواد غريبة في التربة مما يلحق الضرر في خواصها ومكوناتها يسمى التلوث الهوائي (الأرضي / التربة) ص ١٣٤
- ٤- يجتمع وزراء التربية والتعليم لدول الخليج العربية لوضع السياسات التربوية كل عام (عامين) ص ١٣٠
- ٥- الديسيل وحدة قياس شدة التلوث الأرضي . (الضوضائي) ص ١٣٤



تابع نموذج إجابة امتحان الفترة الدراسية الثانية - الكويت ودول الخليج العربية - الصف السادس المتوسط للعام الدراسي ٢٠٢٢ / ٢٠٢٣ م

السؤال الرابع (مقالى) يتكون من (أ - ب - ج) :

(أ) علل لما يلي: ٤ درجات

١- التلوث المائي . ص ١٣٦

- مخلفات المصانع - النفط ومشتقاته - مياه الصرف غير المعالجة

- مياه الصرف الزراعي - النفايات الخطرة - الأمطار الحمضية

٢- ظهور الحاجة لإقامة العديد من الموانئ النفطية في دول الخليج العربية . ص ٩٠

- تزايد الإنتاج النفطي من الحقول البرية والبحرية.

- تزايد الطلب العالمي عليه كمصدر أساسي للطاقة.

(ب) فرق بين كل مما يلي من حيث التعريف : ٤ درجات

الواردات ص ٩٩	الصادرات ص ٩٩
البضائع والسلع التي تشتريها دولنا من الخارج	السلع والمنتجات التي تبيعها دولنا في الخارج
النمو السكاني ص ١١١	الكثافة السكانية ص ١١٤
التغيير الذي يحدث لعدد السكان نتيجة للزيادة الطبيعية وغير الطبيعية	عدد السكان في الكيلو متر المربع وتقاس بقسمة عدد السكان على مساحة الدولة

(ج) اكتب نقطتين في ما يلي : ٤ درجات

١- أسباب مشكلة العنف عند المتعلمين . ص ١٤٩

- أسباب أسرية

- أسباب نفسية - أسباب بيئية عامة

٢- الروابط المشتركة بين أبناء دول الخليج العربية . ص ١١٧-١٢٠

- وحدة الأصل - العادات والتقاليد

- الدين واللغة - التاريخ المشترك



السؤال الخامس (مقالي) يتكون من (أ - ب) :

(أ) عرف المفاهيم أو المصطلحات التالية: ٣ درجات

- ١- عمالة منزلية : مجموعة من الأفراد الذين يشاركون الأسرة في دور أو أكثر داخل المنزل أو خارجه من المربيات والطباخين والسائقين والخدم . ص ١٤٢
- ٢- دخل قومي : مجموع الدخول التي تحصل عليها الدولة خلال عام . ص ٩٥
- ٣- زراعة بدون تربة : الزراعة التي تتم في بيئة مائية أو رملية أو حصي أو نشارة خشب تضاف اليها المحاليل الغذائية . ص ٩٤

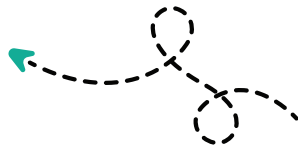
(ب) عدد لكل مما يلي :

- ١- أهم الدول المستوردة للنفط الكويتي . ص ٩٠ (يكتفى بنقطتين) ٢ درجة
- الولايات المتحدة الأمريكية - هولندا - اليابان
- ٢- مظاهر التعاون السياسي لدول مجلس التعاون الخليجي . ص ١٢٩ (يكتفى بنقطتين) ٢ درجة
- إدانة احتلال الجزر الإماراتية الثلاث.
- توحيد الموقف السياسي الخليجي تجاه عدوان النظام العراقي البائد علي دولة الكويت.
- مناصرة القضايا العادلة مثل قضية الشعب الفلسطيني وحقه في تقرير مصيره.
- ٣- الصناعات القائمة على النفط في دول الخليج العربية . ص ٩٦ (يكتفى بنقطتين) ٢ درجة
- تكرير النفط - الغاز - البتروكيماويات - النحاس - حديد - المنيوم
- ٤- اسباب النمو السكاني المضطرد في منطقة الخليج العربية. ص ١١٠-١١١ (يكتفى بـ ٣ نقاط) ٣ درجات
- الأمن و الأمان - ارتفاع الاجور - السماح للوافدين باصطحاب عائلاتهم
- توفر فرص العمل - توفر الرعاية الصحية - زيادة عدد المواليد

انتهت الأسئلة



مدرستي معكم خطوة بخطوة للنجاح والتفوق




مدرستي

الكويتية

حمل التطبيق



مدرستي



الكويتية



اضغط هنا

(أجب عن جميع الأسئلة)
السؤال الأول : (موضوعي) يتكون من (أ - ب) (درجة لكل نقطة)
(أ) أكمل العبارات التالية بما يناسبها مما درست :

- 1- الحقل الذي اكتشف فيه كميات ضخمة من النفط في دولة الكويت يسمى برقان ص87
- 2- الحاكم الذي تم في عهده تصدير اول شحنة نفط كويتي الشيخ أحمد الجابر ص90
- 3- العملية التي فيها تحويل المواد الخام الى مواد يمكن الاستفادة منها تسمى الصناعة ص95
- 4- الزيادة التي تنتج عن عدد (المواليد - عدد الوفيات) تسمى الزيادة الطبيعية ص110
- 5- الضرر الذي يصيب عناصر البيئة الأساسية فتتحول من عناصر مفيدة الى عناصر ضارة يسمى التلوث ص133
- 6- العام الذي قام فيه النظام العراقي البائد بغزو دولة الكويت 1990م ص139

(ب) ضع خطأ تحت الخيار الصحيح من بين الخيارات التي تلي كل عبارة :

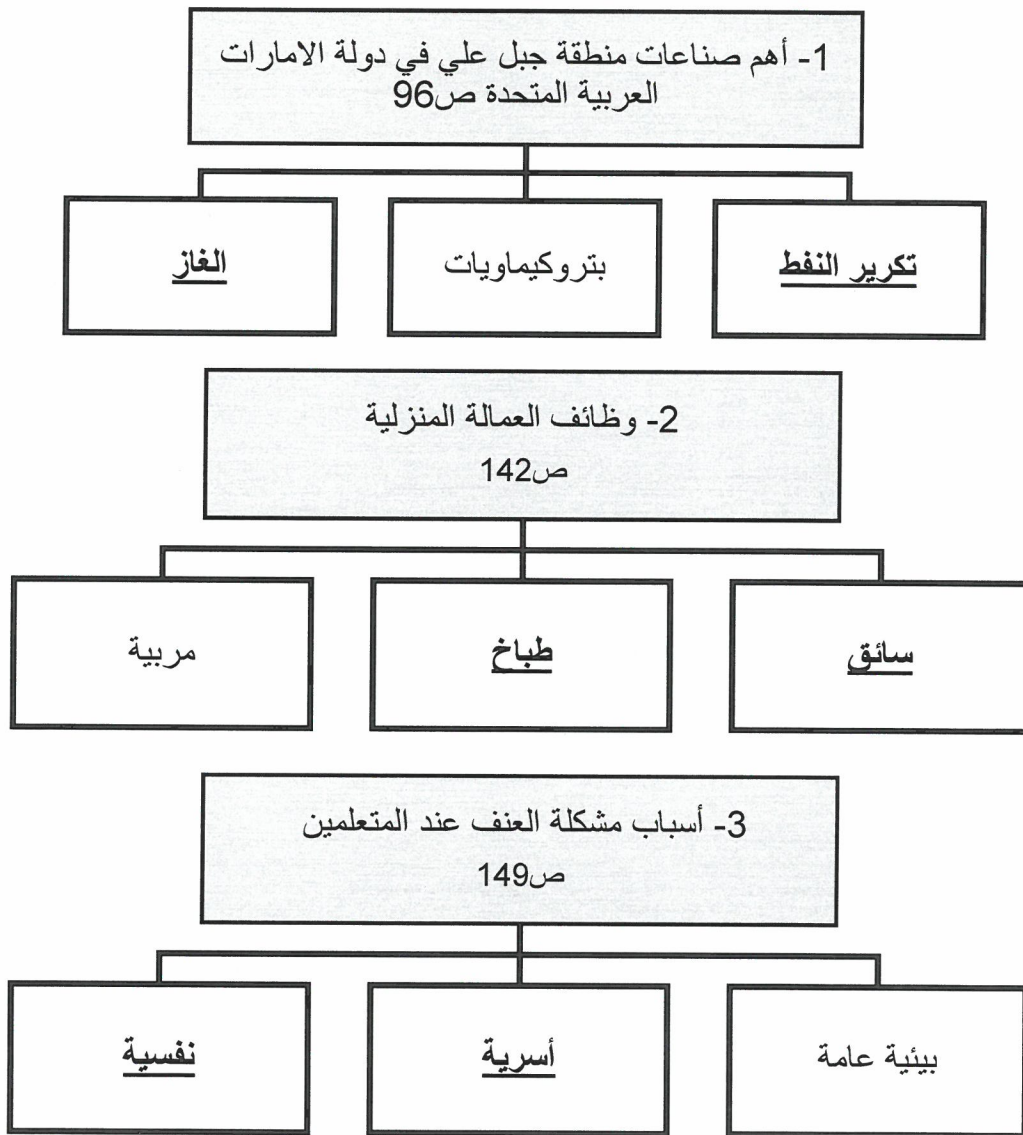
- 1- مجموعة من العادات و التقاليد و القيم في مجتمع من المجتمعات : ص118
أ- حضارة ب- ثقافة ج- تراث د- تاريخ
- 2- يعتبر ادانة احتلال الجزر الإماراتية الثلاث من مظاهر التعاون الخليجي في مجال : ص129
أ- عسكري ب- سياسي ج- اقتصادي د- ثقافي
- 3- أعلن عن قيام السوق الخليجية المشترك في مدينة : ص130
أ- الرياض ب- أبوظبي ج- المنامة د- الدوحة
- 4- حرق النفايات يعتبر من مصادر التلوث : ص134
أ- الهوائي ب- الارضي ج- الضوضائي د- المائي
- 5- تعتبر طبقة الاوزون درع واق للأحياء ضد خطر الاشعة : ص135
أ- فوق الحمراء ب- فوق البنفسجية ج- تحت البنفسجية د- تحت الحمراء
- 6- عدد الابار التي احرقها العدوان العراقي أثناء الغزو على دولة الكويت: ص139
أ- 535 بئراً ب- 636 بئراً ج- 737 بئراً د- 838 بئراً

السؤال الثاني : (موضوعي) يتكون من (أ - ب) (درجة لكل نقطة)
(أ) صنف كل مما يلي حسب موقعه الصحيح في الجدول التالي :

(الجبيل - الشعبية - العبدلي - سهل تهامة - امسيعد - سهل الباطنة)

مناطق زراعية في دول الخليج العربي ص92	مناطق صناعية في دول الخليج العربي ص96
العبدلي سهل الباطنة سهل تهامة	الجبيل الشعبية امسيعد

(ب) أكمل المخططات السهمية التالية :

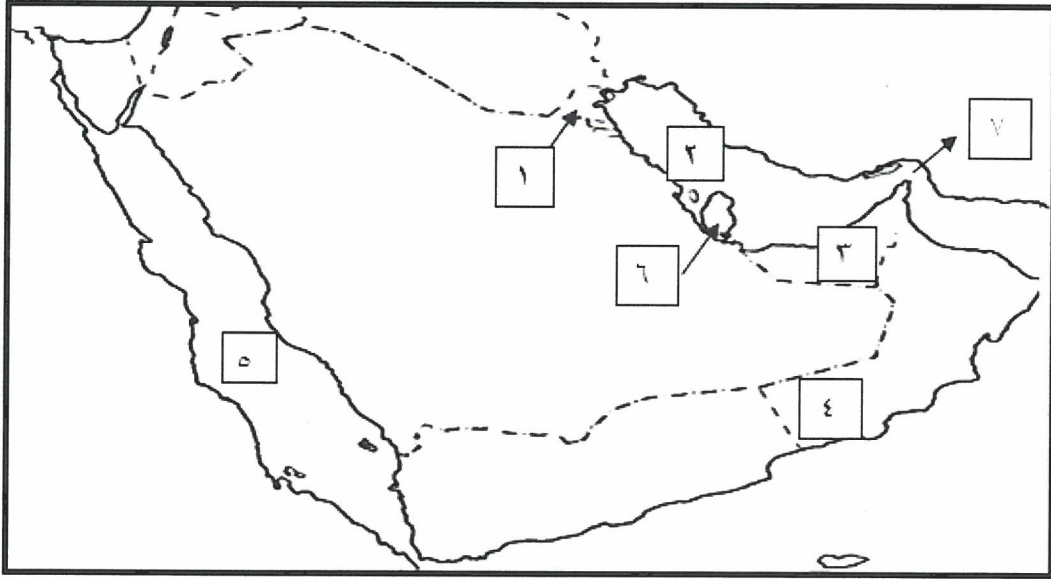


السؤال الثالث : (موضوعي) يتكون من (أ - ب) (درجة لكل نقطة)

(أ) صحح ما تحته خط في العبارات التالية وذلك بكتابة التصويب في المكان المناسب :

التصحيح	العبرة
بحره ص87	1- أول حقل نفطي في دولة الكويت <u>الرتقة</u>
بدون تربة ص94	2- زراعة تتم في بيئة مائية او رملية او حصى او نشارة خشب <u>البيوت البلاستيكية</u>
الدخل القومي ص95	3- مجموع الدخول التي تحصل عليها الدولة خلال عام <u>دخل الفرد</u>
الكثافة السكانية ص114	4- عدد السكان في الكيلومتر المربع <u>النمو السكاني</u>
النفط ص141	5- شهدت منطقة الخليج العربية تغيرات كبيرة وسريعة بعد ظهور <u>اللؤلؤ</u>
العنف ص150	6- الاهتمام بالقراءة و المطالعة بدلاً من أصدقاء السوء من حلول مشكلة <u>العمالة المنزلية</u>

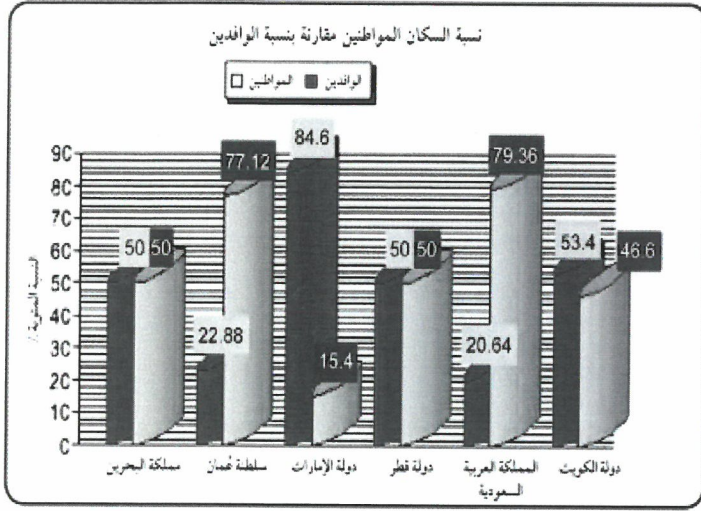
(ب) لاحظ خريطة شبه الجزيرة العربية الصماء ، ثم أجب عن الأسئلة التي تليها



- الخليج العربي يمثلته على الخريطة الرقم 2 ص91
- الدولة التي تقع بها منطقة الوفرة يمثلها على الخريطة الرقم 1 ص91
- منطقة صلالة يمثلته على الخريطة الرقم 4 ص92
- البحر الأحمر يمثلته على الخريطة الرقم 5 ص92
- الدولة التي يوجد بها حقل نفط دخان يمثلها على الخريطة الرقم 6 ص91
- مضيق هرمز يمثلته على الخريطة الرقم 7 ص91

السؤال الرابع : (مقال) يتكون من (أ - ب - ج) (درجة لكل نقطة)

(أ) لاحظ الرسم البياني ثم أجب عما يلي : ص 112



1- أعلى دولة خليجية في نسبة المواطنين : المملكة العربية السعودية

2- أقل دولة خليجية في نسبة المواطنين : دولة الامارات

3- دولة خليجية يتساوى فيها عدد المواطنين مع عدد الوافدين :

- مملكة البحرين

- دولة قطر

(ب) أقرأ الفقرة التالية ثم أجب عما يليها من أسئلة :

" تبذل الحكومات الخليجية افضل الجهود للتغلب على الصعوبات التي تواجه الأراضي الزراعية و منها توفير الأراضي الصالحة للزراعة، تقديم البذور الجيدة، توفير المياه، و للملكة العربية السعودية تجربة رائدة في انتاج محصول القمح "

1- اذكر المحصول الذي نجحت في انتاجه المملكة العربية السعودية : القمح ص92

2- استخرج من القطعة جهود الحكومات الخليجية لتطوير الزراعة :

- توفير الأراضي الصالحة للزراعة.

- توفير المياه .

- تقديم البذور الجيدة.

(ج) علل لما يلي :- (يكتفى بنقطتين)

1- زيادة أعداد الوافدين في دول الخليج العربي ص111

- الامن و الأمان - ارتفاع الأجور - توفير فرص العمل - توفير الرعاية الصحية - زيادة عدد المواليد - السماح للوافدين باصطحاب عائلاتهم

2- حدوث التلوث البحري (المائي) ص136

- مخلفات المصانع - مياه الصرف الصحي غير المعالجة - الامطار الحمضية

- مياه الصرف الزراعي - النفط و مشتقاته - النفايات الخطرة

السؤال الخامس : (مقالى) يتكون من (أ - ب - ج) (درجة لكل نقطة)

(أ) عدد اثنين لكل مما يلى :

1- الأسباب التي أدت الى نمو سكان منطقة الخليج العربي بعد اكتشاف النفط سريعاً ص110 (يكتفى بنقطتين)

- ارتفاع دخل الفرد - توفر الرعاية الصحية - توفر فرص العمل

2- الروابط المشتركة بين أبناء دول الخليج العربي ص117-118-119-120 (يكتفى بنقطتين)

- وحدة الأصل / العادات و التقاليد

- الدين و اللغة / التاريخ المشترك

(ب) فرق بين كل مما يلى من حيث التعريف :

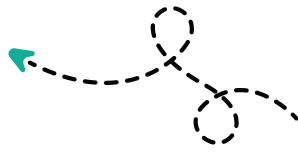
احتياطي النفط ص88	انتاج النفط ص88
- كميات النفط المخزونة في باطن الأرض	- كميات النفط التي يتم استخراجها للاستفادة منها
الواردات ص99	الصادرات ص99
- البضائع و السلع التي تشتريها دولنا من الخارج	- السلع و المنتجات التي تبيعها دولنا في الخارج

(ج) قارن بين كل من مما يلى حسب المطلوب منك فى الجدول التالى :-

		المطلوب
التعاون العسكري ص131	التعاون الثقافي ص131	نوع التعاون الذي تمثله الصورة
<ul style="list-style-type: none"> - المناورات العسكرية المختلفة. - انشاء قوة مشتركة تضم جميع دول مجلس التعاون الخليجي (درع الجزيرة) - قبول أبناء دول مجلس التعاون في الكليات العسكرية. - المشاركة الفعلية في حرب تحرير دولة الكويت من النظام العراقي البائد. ص129-130 	<ul style="list-style-type: none"> - توحيد المناهج التعليمية و تطويرها . - انشاء مكتب التربية العربي و مقره الرياض . - اجتماع وزراء التربية و التعليم لدول الخليج العربية كل عامين لوضع السياسات التربوية. ص130 	مظاهر هذا التعاون (يكتفى بنقطة واحدة)

تمت الاجابه.

مدرستي معكم خطوة بخطوة للنجاح والتفوق




مدرستي

الكويتية

حمل التطبيق



مدرستي



الكويتية



اضغط هنا



وزارة التربية
الإدارة العامة لمنطقة الجواء التعليمية
التوجيه الفني للاجتماعيات
امتحان الفترة الدراسية الثانية
لمقرر الكويت ودول الخليج العربية
للفصل السادس المتوسط
العام الدراسي ٢٠٢١ / ٢٠٢٢ م
الزمن: ساعة و ٤٥ دقيقة
عدد الأوراق: (٥)

أجب عن جميع الأسئلة

السؤال الأول : (موضوعي) ويتكون من (١ - ب - ج - د - هـ - و) :

١- ضع خطاً تحت الخيار الصحيح من بين الخيارات التي تلي كل عبارة : (٦ درجات - لكل نقطة درجة)

١- الدولة العربية الخليجية التي لها تجربة رائدة في إنتاج محصول القمح : ص ٩٢
أ- الكويت ب- البحرين ج- الإمارات د- السعودية

٢- الحقل النفطي الذي يقع في مملكة البحرين هو : ص ٩١
أ- مريان ب- دخان ج- ناطح د- عوالي

٣- الدولة الخليجية الأعلى في نسبة الوافدين : ص ١١٢
أ- الإمارات ب- البحرين ج- السعودية د- الكويت

٤- عدد الأبار النفطية الكويتية التي فجرها وأحرقها النظام العراقي البائد : ص ١٣٩
أ- ٤٣٤ ب- ٥٣٥ ج- ٦٣٦ د- ٧٣٧

٥- أول حقل نفط تم اكتشافه في دولة الكويت : ص ٨٧
أ- برقان ب- بحر ج- الروضتين د- الوفرة

٦- العام الذي صدر فيه إعلان الدوحة بشأن قيام السوق الخليجية المشتركة : ص ١٣٠
أ- ٢٠٠٦ م ب- ٢٠٠٧ م ج- ٢٠٠٨ م د- ٢٠٠٩ م

ب ظلل الحرف (أ) إذا كانت العبارة صحيحة والحرف (ب) إذا كانت العبارة خاطئة لكل مما يلي :

(٦ درجات - لكل نقطة درجة)

الرقم	العبارة	الإجابات
١	شملت التغيرات في المجتمعات الخليجية بعد ظهور النفط الجوانب الاجتماعية فقط . ص ١٤١	أ ب
٢	بدأ التنقيب عن النفط بدولة الكويت عام ١٩٣٤ م . ص ٨٧	أ ب
٣	عدد السكان في دول الخليج العربية في تزايد مستمر بسبب الزيادة الطبيعية والغير طبيعية. ص ١١٠	أ ب
٤	أصغر دول الخليج العربية من حيث المساحة مملكة البحرين . ص ١١٤	أ ب
٥	حقل الغوار يوجد في سلطنة عمان . ص ٩١	أ ب
٦	دولة الكويت تحتل المركز الأول بإنتاج النفط بين دول الخليج العربي حسب إحصاء ٢٠٠٨ م ص ٨٨	أ ب



تابع / السؤال الأول (موضوعي) :

جـ - أكمل العبارات التالية بما يناسبها فيما درست : (٦ درجات - لكل نقطة درجة)

- ١- المدينة التي يقع فيها مكتب التربية العربي تسمى الرياض ص ١٣٠
- ٢- الدولة الخليجية الأقل في عدد السكان تسمى مملكة البحرين ص ١١٤
- ٣- العام الذي قام فيه النظام العراقي البائد بغزو دولة الكويت ١٩٩٠ م ص ١٣٩
- ٤- الشيخ الذي تم تصدير أول شحنة من النفط الكويتي في عهده أسمه أحمد الجابر ص ٩٠
- ٥- زيادة التبادل التجاري بين دول الخليج العربية مظهر من مظاهر التعاون يسمى الاقتصادي ص ١٣٠
- ٦- العام الذي أنشأ فيه مجلس التعاون الخليجي قوات درع الجزيرة ١٩٨٤ م ص ١٢٩

د - أكتب المفاهيم أو المصطلحات الدالة على العبارات التالية : (٦ درجات - لكل نقطة درجة)

- ١- (زراعة بدون تربة) الزراعة التي تتم في بيئة مائية أو رملية أو حصى أو نشارة خشب تضاف إليها المحاليل الغذائية . ص ٩٤
- ٢- (طبقة الأوزون) درع واقٍ للأحياء ضد خطر الأشعة فوق البنفسجية الضارة . ص ١٣٥
- ٣- (ترانزيت) إعادة تصدير البضائع المستوردة . ص ٩٩
- ٤- (التلوث) الضرر الذي يصيب عناصر البيئة الأساسية (هواء - ماء - تربة) فتتحول من عناصر مفيدة إلى عناصر ضارة . ص ١٣٣
- ٥- (الدخل القومي) مجموع الدخول التي تحصل عليها الدولة خلال عام . ص ٩٥
- ٦- (الكثافة السكانية) عدد السكان في الكيلو متر المربع ، وتقاس بقسمة عدد السكان على مساحة الدولة . ص ١١٤

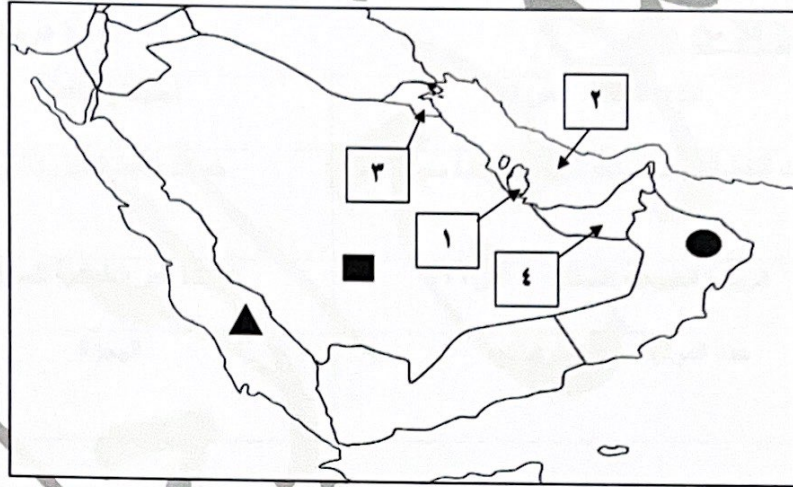
تابع / السؤال الأول (موضوعي) :

هـ - صنف المناطق الصناعية حسب مايناسبها في الجدول التالي : (٦ درجات - لكل نقطة درجة)

ينبع - شمال سترة - الشعبية - جبل علي - صحار - امسيعيد ص ٩٦

الدولة	الكويت	عمان	قطر	البحرين	الإمارات	السعودية
المنطقة الصناعية	الشعبية	صحار	امسيعيد	شمال سترة	جبل علي	ينبع

و - لاحظ خريطة دول الخليج العربية الصماء ثم نفذ المطلوب مما يليها : (٦ درجات - لكل نقطة درجة)

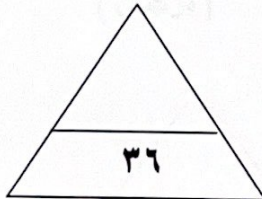


١- اكتب الرقم الدال على العبارات التالية :

- الخليج العربي يمثل على الخريطة الرقم ٢ ص ٩٢
- الدولة الخليجية التي يوجد بها حقل دخان النفط يمثلها على الخريطة الرقم ١ ص ٩١
- توجد منطقة الوفرة الزراعية في دولة خليجية يمثلها على الخريطة الرقم ٣ ص ٩٢

٢- حدد كل مما يلي على الخريطة باستخدام الرموز التالية :

- الدولة التي يقع فيها ميناء الفحل باستخدام الرمز ● ص ٩٧
- البحر الأحمر باستخدام الرمز ▲ ص ٩٢
- الدولة الخليجية الأعلى في عدد السكان باستخدام الرمز ■ ص ١١٤



السؤال الثاني : (مقال) يتكون من (أ - ب - ج) :

أ – علل مايلي :

١- شهدت منطقة الخليج العربية بعد اكتشاف النفط نموا سكانيا مضطرباً (فجائيا) ص ١١٠ (يكتفى بنقطتين)

- ارتفاع دخل الفرد .
- توفر الرعاية الصحية .
- توفر فرص العمل .

٢- حدوث التلوث البحري (المائي) ص ١٣٦ (يكتفى بنقطتين)

- مخلفات المصانع
- النفط ومشتقاته
- مياه الصرف الصحي غير المعالجة (درجتان)
- النفايات الخطرة
- مياه الصرف الزراعي
- الأمطار الحمضية

ب- فرق بين كلا من : (٤ درجات لكل نقطة درجة)

احتياطي النفط ص ٨٨	انتاج النفط ص ٨٨
كميات النفط المخزونة في باطن الأرض	كميات النفط التي يتم استخراجها للاستفادة منها
الزيادة الطبيعية للسكان ص ١١٠	الزيادة الطبيعية للسكان ص ١١٠
الهجرة	عدد المواليد – عدد الوفيات

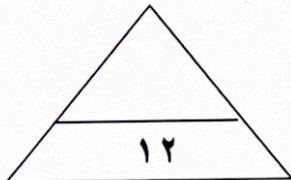
ج- ماالنتائج المترتبة على كل ممايلي :

١- تلوث التربة . ص ١٣٤

- ضعف قدرتها على الإنتاج الزراعي .
- تلوث الإنتاج الزراعي مما يؤثر على صحة الإنسان .

٢- حرق آبار النفط الكويتي . ص ١٣٩

- سبب كميات كبيرة من الدخان محدثا تلوثا هوائيا .
- تساقط الرذاذ النفطي على التربة محدثا تلوثا أرضيا .
- أثار خطيرة على صحة الإنسان والكائنات الحية .



السؤال الثالث : (مقال) يتكون من (أ - ب - ج) :

أ - أقرأ الفقرة التالية ثم أجب عما يليها من أسئلة : ص ١١٧ - ١١٨

يتشابه سكان دول الخليج العربية تشابهاً كبيراً بل أن كثيراً من الناس الذين يزورون المنطقة لأول مرة لا يستطيعون أن يميزوا بينهم، ففي دول الخليج العربية مجموعة متشابهة من السكان ينتمون إلى أصول عربية واحدة ويدينون بالإسلام وتجمعهم عادات وتقاليد متشابهة وتاريخ مشترك.

١- اقترح عنواناً مناسباً للفقرة . (ما يراه المصحح مناسباً) (درجة)

٢- ما المقصود بالثقافة : مجموعة من العادات والتقاليد والقيم في مجتمع من المجتمعات ص ١١٨ (درجة)

٣- أستخرج من الفقرة السابقة الروابط التي تربط بين أبناء دول الخليج العربية . (يكتفى بنقطتين) (درجتان)

- وحدة الأصل - الدين واللغة - العادات والتقاليد - التاريخ المشترك

ب - عرف مايلي :- (٤ درجات لكل تعريف درجة)

١- العنف : السلوك العدواني الموجه ضد الغير ، والذي يتسم بالتخريب والتدمير ،

سواء كان ذلك السلوك أقوالاً أو أفعالاً . ص ١٤٤

٢- الصادرات : السلع والمنتجات التي تبيعها دولنا في الخارج . ص ٩٩

٣- التلوث الضوضائي : أصوات غير متجانسة تتجاوز شدتها المعدل الطبيعي المسموح به للأذن . ص ١٣٤

٤- الصناعة : تحويل المواد الخام إلى مواد يمكن الاستفادة منها . ص ٩٥

ج - أكتب اثنين فيما يلي :-

١- مظاهر التعاون العسكري بين دول مجلس التعاون الخليجية ص ١٢٩ + ١٣٠ (يكتفى بنقطتين) (درجتان)

- المناورات (التدريبات) العسكرية المختلفة .
- إنشاء قوة مشتركة تضم جميع دول مجلس التعاون الخليجي (درع الجزيرة) .
- قبول أبناء دول مجلس التعاون في الكليات العسكرية .
- المشاركة الفعلية في حرب تحرير دولة الكويت من النظام العراقي البائد .

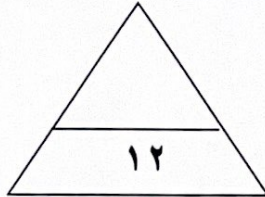
٢- أهم الدول المستوردة للنفط الكويتي . ص ٩٠ (يكتفى بنقطتين) (درجتان)

- الولايات المتحدة الأمريكية

- هولندا

- اليابان

انتهت الأسئلة ،،،





أجب عن جميع الأسئلة:

السؤال الأول ويتكون من (أ - ب - ج - د - هـ - و) :

(أ) أكمل العبارات التالية بما يناسبها فيما درست:- 6 درجات

- 1- النبات الذي يرتبط وجوده بموسم سقوط الأمطار يسمى حولي. ص 26
- 2- رئيس البحرية في سفينة الغوص قديما يسمى المجدمي. ص 32
- 3- الدولة الخليجية التي قامت فيها حضارة دلمون تسمى البحرين. ص 48
- 4 - المدينة الخليجية التي أعلن فيها قيام مجلس التعاون الخليجي عام 1981 م تسمى أبوظبي. ص 70
- 5- أول حقن نفط كويتي يسمى بحرة. ص 87
- 6 - الدولة الخليجية التي لها تجربة رائدة في إنتاج محصول القمح تسمى المملكة العربية السعودية. ص 92

(ب) ضع خطا تحت الخيار الصحيح من بين الخيارات التي تلي كل عبارة:- 6 درجات

1- تقع منطقة الخليج العربي في الجهة الجنوبية الغربية من قارة : ص 19

أ- آسيا ب- أفريقيا ج- أوروبا د- أمريكا الشمالية

2 - أول دولة أوروبية إستعمارية وصلت للخليج العربي : ص 60

أ - ألمانيا ب - إنجلترا ج - البرتغال د - فرنسا

3- استقلت دولة الكويت في عام : ص 65

أ- 1950 م ب- 1951 م ج- 1960 م د- 1961 م

4 - عدد السنين في القرن الواحد : ص 45

أ - 10 أعوام ب - 50 عاما ج - 100 عام د - 200 عام

5- حاكم الكويت الذي تم تصدير أول شحنة نفط في عهده : ص 90

أ- سالم المبارك ب- أحمد الجابر ج- عبدالله السالم د- صباح السالم

6 - تتركز صناعة النحاس في دولة عمان في مدينة : ص 96

أ - صحار ب - مسقط ج - جبل علي د - الفحل



تابع / السؤال الأول :-

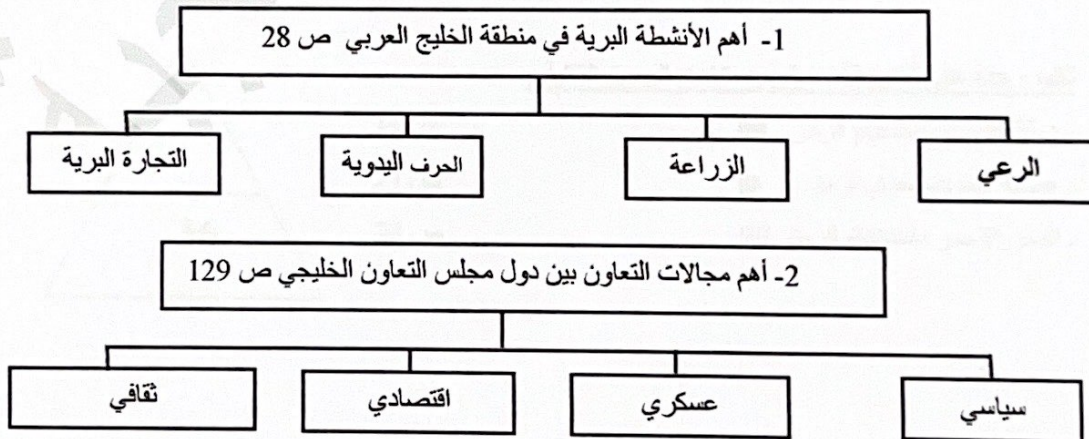
(ج) صوب ما تحته خط في العبارات التالية : 6 درجات

م	العبارة	التصويب
1-	عرف الخليج العربي قديماً باسم البحر <u>الأقصى</u> . ص 47	البحر الأدنى (شروق الشمس)
2-	صانع السفينة قديماً يسمى <u>الضيف</u> . ص 33	القلاف
3-	البلد الخليجي الوحيد الذي لم يتعرض للإستعمار هو <u>قطر</u> . ص 65	السعودية
4-	بدأ التنقيب عن النفط في الكويت في عام <u>1944</u> م . ص 87	1934 م
5-	تتركز صناعة الغاز في المملكة العربية السعودية في مدينة <u>الجبيل</u> ص 96	ينبع
6-	تقاس الكثافة السكانية بقسمة عدد السكان على <u>دخل الدولة</u> . ص 114	مساحة الدولة

(د) اكتب المفاهيم أو المصطلحات الدالة على العبارات التالية :- 6 درجات

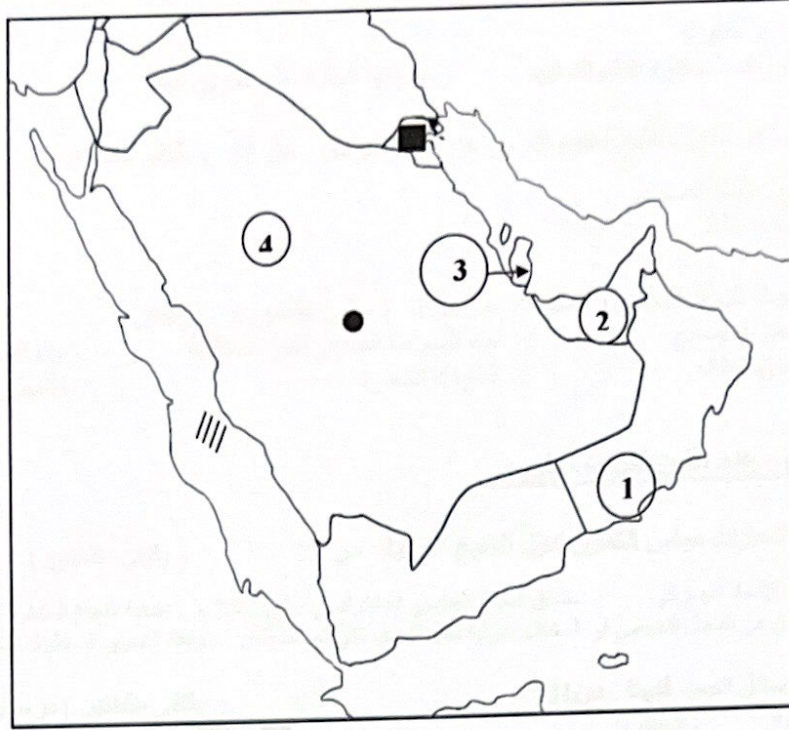
م	المفهوم	العبارة
1-	المناخ ص 25	حالة الجو في مكان ما خلال فترات زمنية طويلة .
2-	الواحة ص 29	منطقة تقع في الصحراء فيها مياه عذبة صالحة للزراعة .
3-	احتياطي النفط ص 88	كميات النفط المخزونة في باطن الأرض .
4-	ترانزيت ص 99	إعادة تصدير البضائع المستوردة .
5-	الثقافة ص 118	مجموعة من العادات والتقاليد والقيم في مجتمع من المجتمعات .
6-	الأوزون ص 135	درع واق للأحياء ضد خطر الأشعة فوق البنفسجية الضارة

(هـ) اكمل المخططات السهمية التالية : 6 درجات



تابع / السؤال الأول :-

(9) لاحظ خريطة شبه الجزيرة العربية الصماء ثم نفذ المطلوب : 6 درجات

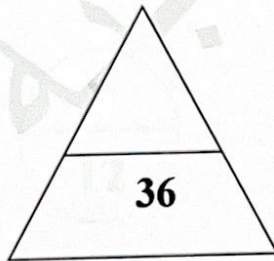


أولاً : اكتب مدلولات الأرقام التالية :

- منطقة امسيبيد يمثلها على الخريطة الرقم (3) ص 91
- منطقة صلالة الزراعية يمثلها على الخريطة الرقم (1) ص 92
- دولة الإمارات العربية المتحدة يمثلها على الخريطة الرقم (2) ص 91

ثانياً : حدد على الخريطة ما يلي باستخدام الرموز التالية :

- دولة الكويت باستخدام الرمز
- هضبة نجد باستخدام الرمز
- //// البحر الأحمر باستخدام الرمز



ص 34
ص 23
ص 23

السؤال الثاني : ويتكون من (أ - ب) :

(أ) علل لما يلي :-

- 1- النباتات المعمرة تتحمل الجفاف . ص 26 (يكتفى بنقطتين) درجتان
* جذورها الطويلة
* قلة أوراقها ، وكثرة الأشواك فيها / - قدرتها العالية على تخزين المياه
- 2- إنصرف سكان منطقة الخليج العربي عن حرفة الغوص . ص 31 (يكتفى بنقطتين) درجتان
* ظهور اللؤلؤ الصناعي
* اكتشاف النفط
- 3- حدوث التلوث البحري (المائي) . ص 136 (يكتفى بنقطتين) درجتان
* مخلفات المصانع
* النفط ومشتقاته
/ - مياه الصرف الصحي غير المعالجة / - مياه الصرف الزراعي
/ - النفايات الخطرة / - الأمطار الحمضية

(ب) : عدد اثنين لكل مما يلي :-

- 1 - إنجازات مجلس التعاون لدول الخليج العربية . ص 77 (يكتفى بنقطتين) درجتان
* إقامة الاتحاد الجمركي / - انطلاق السوق الخليجي المشترك في يناير 2008 م / - اتفاقية الدفاع المشتركة وتعزيز قوة درع الجزيرة
* التنسيق في المجال السياسي في المحافل الدولية لكل القضايا التي تهم المجلس / - وثيقة التطوير الشامل للتعليم
- 2- وسائل الصيد قديما . ص 31
* الميذار / - الحظرة
* القرقور
- 3- أهم الدول المستوردة للنفط من الكويت . ص 90 (يكتفى بنقطتين) درجتان
* الولايات المتحدة الأمريكية
* هولندا / - اليابان

السؤال الثالث : يتكون من (أ - ب - ج) :

(أ) فرق بين كل مما يلي: درجتان

الواردات ص 99	الصادرات
البضائع والسلع التي تشتريها دولنا من الخارج	السلع والمنتجات التي تبيعها دولنا في الخارج

(ب) أجب عن الأسئلة التالية

1 - إذكر أهداف مجلس التعاون لدول الخليج العربية . ص 76 (يكتفى بنقطتين) درجتان


- * تحقيق التعاون بين الدول الأعضاء في جميع المجالات
- * تحقيق الترابط والصلات بين دول مجلس التعاون /- العمل على تقدم دول مجلس التعاون في المجال العلمي

2 - اقترح حلولاً لمشكلة العنف . ص 150 (يكتفى بنقطتين) درجتان

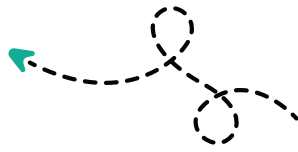
- * الاهتمام الجاد بالقرآن الكريم والسنة النبوية الشريفة /- الاهتمام بالقراءة والمطالعة بدلا من أصدقاء السوء
- * القوة الحسنة من كل المحيطين بالشباب (المتعلمين) واتباع أساليب الحوار في علاج المشكلات والخلافات

(ج) قارن بين كل من :

وجه المقارنة	خطوط الطول درجتان	دوائر العرض ص 21 درجتان
التعريف	خطوط وهمية أي غير موجودة على سطح الأرض ترسم على الكرة الأرضية . وتقسم الكرة الأرضية الى قسمين شرقي وغربي	خطوط وهمية أي غير موجودة على سطح الأرض ترسم على الكرة الأرضية . وتقسم الكرة الأرضية الى قسمين شمالي وجنوبي
العدد	360 خطا درجة	180 دائرة درجة



مدرستي معكم خطوة بخطوة للنجاح والتفوق



مدرستي

الكويتية

حمل التطبيق



مدرستي



الكويتية



اضغط هنا

السؤال الأول : موضوعي ويتكون من (ا- ب)

(أ) اختر الإجابة الصحيحة من بين البدائل التي تلي كل عبارة وضع تحتها خط :- (١ × ٦ = ٦ درجات)

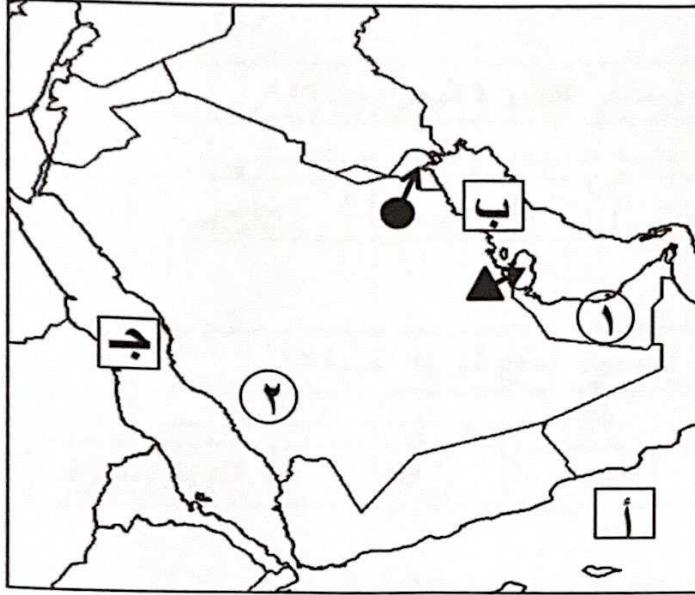
- ١- عدد الابار النفطية التي أحرقتها وفجرها النظام العراقي البائد : ص١٣٩
{ ٥٣٧ - ٦٣٧ - ٧٣٧ - ٨٣٧ }
- ٢- مجموعة من العادات والتقاليد والقيم في مجتمع من المجتمعات : ص١١٨
{ التاريخ - الدين - اللغة - الثقافة }
- ٣- الدولة الخليجية الرائدة في انتاج محصول القمح : ص٩٢
{ البحرين - السعودية - الكويت - قطر }
- ٤- العام الذي تعرضت فيه دولة الكويت للغزو العراقي الغاشم : ص١٣٩
{ ١٩٩٠م - ١٩٩٢ م - ١٩٩٤ م - ١٩٩٦ م }
- ٥- الحقل الذي اكتشف فيه كميات ضخمة من النفط في دولة الكويت : ص٨٧
{ الخفجي - برقان - الزور - الوفرة }
- ٦- المدينة الخليجية التي تم فيها الاعلان عن قيام السوق الخليجية المشتركة : ص١٣٠
{ المنامة - الرياض - الدوحة - مسقط }

(ب) أكمل العبارات التالية بما يناسبها :- (١ × ٦ = ٦ درجات)

- ١- تم تصدير أول شحنة من النفط الكويتي في عام ١٩٤٦م ص٩٠
- ٢- القوة المشتركة التي تضم جميع دول مجلس التعاون الخليجي تسمى درع الجزيرة ص١٢٩
- ٣- أول حقل نفطي في دولة الكويت يسمى بحره ص٨٧
- ٤- نوع من التلوث يحدث نتيجة دخول مواد غريبة في التربة مما يلحق الضرر في خواصها ومكوناتها يسمى التلوث الارضي (التربة) ص١٣٤
- ٥- أصبحت منطقة الخليج العربي منطقة جذب سكاني بعد اكتشاف النفط ص١١٣
- ٦- اطلاق الملوثات الهوائية تؤثر على طبقة للغلاف الجوي تسمى الأوزون ص١٣٥

السؤال الثاني : موضوعي ويتكون من (أ- ب)

(أ) أمامك خريطة شبة الجزيرة العربية الصماء أرسم وأكتب المدلولات التالية :- (١ × ٦ = ٦ درجات)



- ١- منطقة العبدلي الزراعية تقع في الدولة التي يمثلها على الخريطة الرمز ص ٩٢
- ٢- البحر الأحمر يمثل على الخريطة الحرف ص ٩٢
- ٣- الامارات العربية المتحدة يمثلها على الخريطة الرقم ١ ص ٩٢
- ٤- الخليج العربي يمثل على الخريطة الحرف ص ٩٢
- ٥- سهل تهامة يمثل على الخريطة الرقم ٢ ص ٩٢
- ٦- حقل دخان يقع في الدولة التي يمثلها على الخريطة الرمز ص ٩١

(ب) صنف الغاوين المناسبة حسب الصور التالية مستعيناً فيما بين القوسين :- (١ × ٦ = ٦ درجات)

- | |
|---|
| <p>التلوث الهوائي - زراعة بدون تربة - عملية التنقيب عن النفط</p> |
| <p>تصدير أول شحنة للنفط الخام الكويتي - الزراعة في بيوت بلاستيكية - التلوث الضوضائي</p> |



(عملية التنقيب عن النفط) ص ٨٧



(الزراعة في بيوت بلاستيكية) ص ٩٤




(التلوث الهوائي) ص ١٣٣



(التلوث الضوضائي) ص ١٣٣



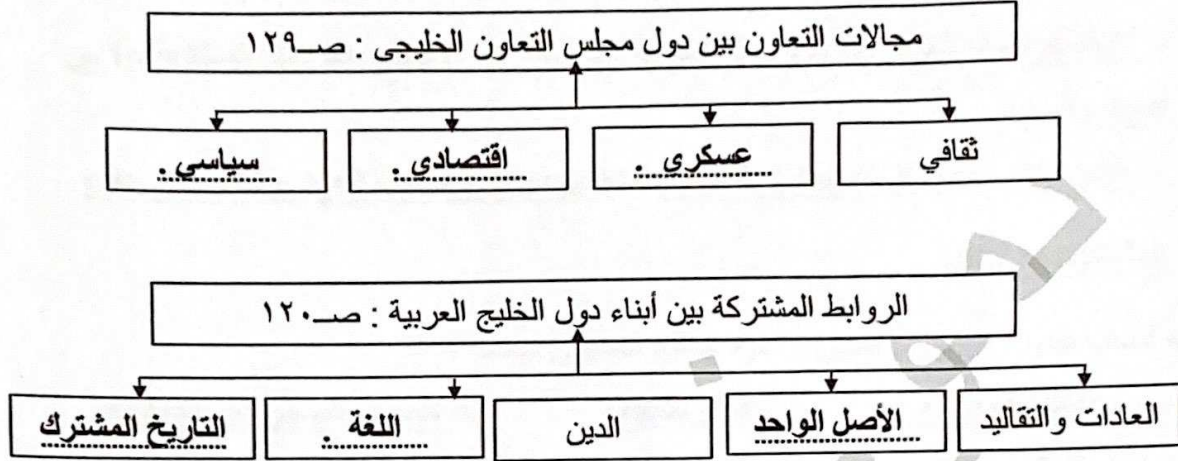
(تصدير أول شحنة للنفط الخام الكويتي) ص ٩٠



(الزراعة بدون تربة) ص ٩٤

السؤال الثالث : موضوعي ويتكون من (أ - ب)

(أ) أكمل المخططات السهمية التالية بما يناسبها :- (١ × ٦ = ٦ درجات)



(ب) اختر للمجموعة (أ) ما يناسبها من المجموعة (ب) بوضع الرقم المناسب :-
(١ × ٦ = ٦ درجات)

(أ)	الرقم المناسب	(ب)
١- النمو السكاني .	٢	تحويل المواد الخام الى مواد يمكن الاستفادة منها تسمي . ص ٩٥
٢- الصناعة .	٦	السلوك العدواني الموجه ضد الغير ، والذي يتسم بالتخريب والتدمير ، سواء كان ذلك السلوك أقوالاً أو أفعالاً . ص ١٤٤
٣- الزيادة الطبيعية.	١	التغير الذي يحدث لعدد السكان نتيجة للزيادة الطبيعية وغير الطبيعية ص ١١١
٤- العمالة المنزلية	٥	إعادة تصدير البضائع المستوردة . ص ٩٩
٥- الترانزيت .	٤	مجموعة من الأفراد الذين يشاركون الأسرة في دور أو أكثر داخل المنزل أو خارجه من المربيّات والطباخين والسائقين والخدم. ص ١٤٢
٦- العنف .	٣	(عدد المواليد - عدد الوفيات) . ص ١١٠

السؤال الرابع : مقالى ويتكون من (أ- ب - ج)

(أ) اكتب فيما يلى :- ($2 \times 3 = 6$ درجات)

١- حلوأ لعلاج مشكلة العنف : ص١٥٠

- الاهتمام الجاد بالقرآن الكريم والسنة النبوية الشريفة - الاهتمام بالقراءة والمطالعة بدلاً من
أصدقاء السوء

- القدوة الحسنة من كل المحيطين بالشباب (المتعلمين) واتباع أساليب الحوار والتفاهم في علاج
المشكلات والخلافات .

٢- أسباب التلوث البحري (المائي) لمياه الخليج العربي : صفحة ١٣٦

- مخلفات المصانع - النفط ومشتقاته - مياه الصرف الصحي غير المعالجة
- مياه الصرف الزراعي - النفايات الخطرة - الامطار الحمضية

٣- عناصر البيئة الأساسية : صفحة ١٣٣

- هواء - ماء - تربة .

(ب) علل لما يلى :- ($2 \times 2 = 4$ درجات)

١- حاجة دول الخليج العربي الى اقامة العديد من الموانئ النفطية: صفحة ٩٠

- تزايد الانتاج النفطي لدول مجلس التعاون من الحقول البرية والبحرية .

- تزايد الطلب العالمي على النفط كمصدر أساسي للطاقة .

٢- شهدت منطقة الخليج العربي بعد اكتشاف النفط نمو سكانياً فجائياً : صفحة ١١٠

- ارتفاع دخل الفرد

- توفر الرعاية الصحية - توفر فرص العمل

(ج) عرف المفاهيم التالية :- ($1 \times 2 = 2$ درجات)

الدخل القومي	مجموع الدخول التي تحصل عليها الدولة خلال عام تسمى . ص٩٥
التلوث	الضرر الذي يصيب عناصر البيئة الاساسية (هواء- ماء- تربة) فتتحول من عناصر مفيدة الى عناصر ضارة . ص١٣٣



السؤال الخامس : مقالى ويتكون من (أ - ب - ج)

(أ) فرق بين كل مما يلى :- (١ × ٤ = ٤ درجات)

احتياط النفط ص ٨٨	انتاج النفط ص ٨٨
كميات النفط المخزونة في باطن الارض	كميات النفط التي يتم استخراجها للاستفادة منها
الواردات ص ٩٩	الصادرات ص ٩٩
البضائع والسلع التي تشتريها دولنا من الخارج	السلع والمنتجات التي تبيعها دولنا في الخارج

(ب) عدد اثنين لكل من :- (٢ × ٤ = ٨ درجات)

- ١- الأضرار الناتجة من تلوث التربة . ص ١٣٤
- ضعف قدرتها على الانتاج الزراعي .
- تلوث الانتاج الزراعي مما يؤثر على صحة الانسان .
- ٢- مظاهر التعاون الثقافي بين دول مجلس التعاون الخليجي . ص ١٣٠
- توحيد المناهج التعليمية وتطويرها - انشاء مكتب التربية العربي ومقرة الرياض
- اجتماع وزراء التربية والتعليم لدول الخليج العربية كل عامين لوضع السياسات التربوية .
- ٣- أهم الدول المستوردة للنفط الكويتي . ص ٩٠
- الولايات المتحدة الامريكية
- هولندا - اليابان
- ٤- الآثار المترتبة على حرق الابار النفطية لدولة الكويت . ص ١٣٩
- سبب كميات كبيرة من الدخان محدثاً تلوثاً هوائياً هائلاً .
- تساقط الرذاذ النفطي على التربة محدثاً تلوثاً أرضياً حيث تحول لونه من اللون الأصفر إلى اللون الأسود
- الآثار الخطرة على صحة الانسان والكائنات الحية .

((انتهت الأسئلة))



السؤال الأول : موضوعي ويتكون من (أ - ب)

(أ) اختر الإجابة الصحيحة من بين البدائل التي تلي كل عبارة وضع تحتها خط :- (١ × ٦ = ٦ درجات)

١- الشيخ الذي أطلق اسمه على القمة السابعة والعشرين لمجلس التعاون لدول الخليج العربية : ص٤٧
{ صباح الأحمد الصباح - عبدالله السالم الصباح - جابر الأحمد الصباح - سعد عبدالله الصباح }

٢- الدولة الخليجية التي قامت على أرضها حضارة دلمون : ص٤٨
{ سلطنة عمان - قطر - الكويت - البحرين }

٣- يطلق على تاجر اللؤلؤ قديماً : ص٣٢
{ الغواص - الطواش - النوخذة - النهام }

٤- المحصول التي نجحت المملكة العربية السعودية في انتاجه ولها تجربة رائدة فيه : ص٩٢
{ القمح - التفاح - الغنم - الموز }

٥- أول حقل نفطي في دولة الكويت : ص٨٧
{ برقان - بحره - الروضتين - الخفجي }

٦- العاصمة الخليجية التي أعلن فيها قيام السوق الخليجية المشتركة : ص١٣٠
{ الرياض - أبوظبي - الدوحة - مسقط }

(ب) أكمل العبارات التالية بما يناسبها :- (١ × ٦ = ٦ درجات)

١- الزيادة المستمرة في عدد السكان بسبب الهجرة تسمى الزيادة الغير طبيعية ص١١٠

٢- تعرضت دولة الكويت للغزو العراقي الغاشم في عام ١٩٩٠م ص١٣٩

٣- بداية موسم الغوص يسمى الدشة ص٣٢

٤- إعادة تصدير البضائع المستوردة يسمى الترانزيت ص٩٩

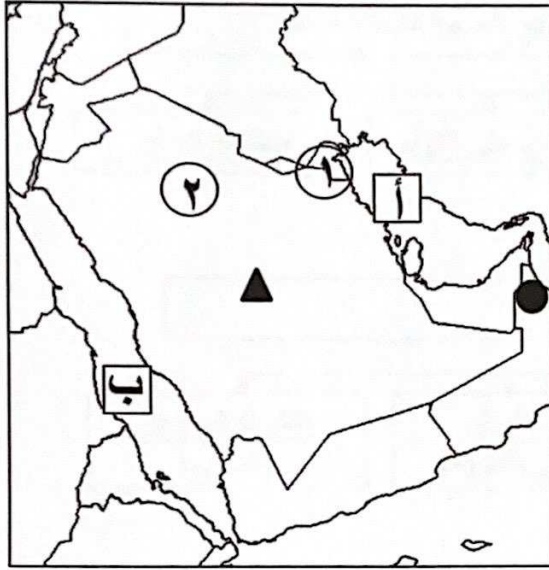
٥- أعلن قيام مجلس التعاون الخليجي في مدينة تسمى أبوظبي ص٧٠

٦- تقع منطقة الخليج العربية بالنسبة لقارة آسيا في الجهة الجنوبية الغربية ص١٩



السؤال الثاني : موضوعي ويتكون من (أ- ب)

(أ) أمامك خريطة شبه الجزيرة العربية الصماء أرسم وأكتب المدلولات التالية :- (١ × ٥ = ٥ درجات)



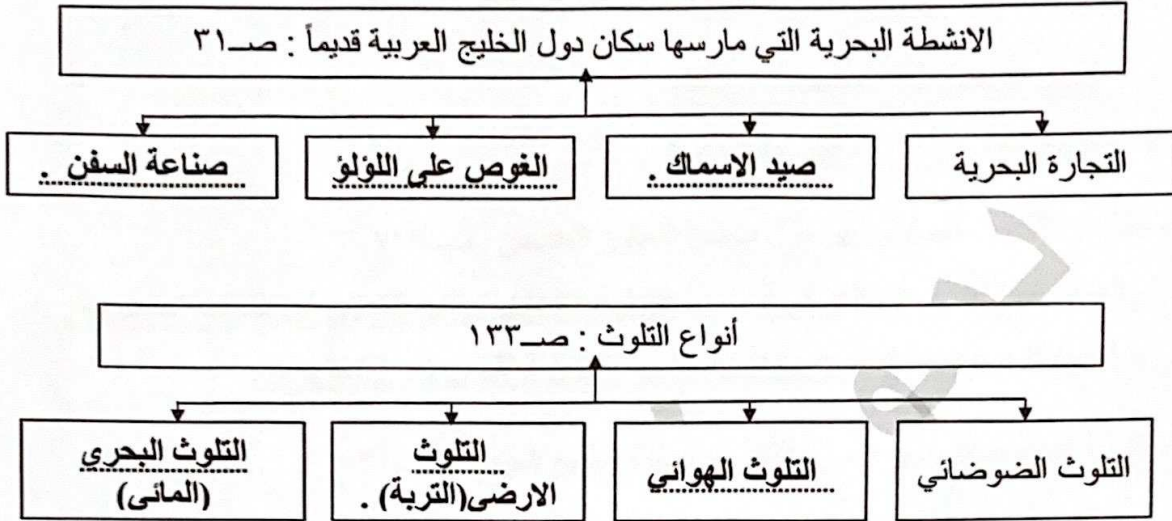
- ١- هضبة نجد يمثلها على الخريطة الرمز ص ٢٣
- ٢- الخليج العربي يمثل على الخريطة الحرف ص ٢٣
- ٣- حقل برقان يقع في الدولة التي يمثلها على الخريطة الرقم ص ٩١
- ٤- صحراء النفود يمثلها على الخريطة الرقم ٢ ص ٢٣
- ٥- الجبل الاخضر يمثل على الخريطة الرمز ص ٢٣

(ب) ظلل الحرف (أ) اذا كانت العبارة صحيحة وظلل الحرف (ب) اذا كانت العبارة خاطئة فيما يلي :- (١ × ٧ = ٧ درجات)

م	العبارة	أ	ب
١	أهم الدول المستوردة للنفط الكويتي هي الولايات المتحدة الأمريكية . ص ٩٠		
٢	أصبحت منطقة الخليج العربي منطقة جذب سكاني بعد اكتشاف النفط . ص ١١٣		
٣	عدد الآبار النفطية التي أحرقها النظام العراقي البائد ٧٤٥ بئراً . ص ١٣٩		
٤	عرف الخليج العربي قديماً باسم البحر الأدنى . ص ٤٧		
٥	أول دولة استعمارية أوروبية دخلت منطقة الخليج العربي هي البرتغال . ص ٦٠		
٦	تم تصدير أول شحنة من النفط الكويتي في عهد الشيخ عبدالله السالم الصباح . ص ٩٠		
٧	الرياح الجنوبية الشرقية التي تهب على منطقة الخليج العربي تسمى الكوس . ص ٢٥		

السؤال الثالث : موضوعي ويتكون من (أ - ب)

(أ) أكمل المخططات السهمية التالية بما يناسبها :- (١ × ٦ = ٦ درجات)



(ب) اختر للمجموعة (أ) ما يناسبها من المجموعة (ب) بوضع الرقم المناسب :- (١ × ٦ = ٦ درجات)

(أ)	الرقم المناسب	(ب)
١- النمو السكاني.	٢	السلوك العدواني الموجه ضد الغير ، والذي يتسم بالتخريب والتدمير ، سواء كان ذلك السلوك أقوالاً أو أفعالاً . ص ١٤٤
٢- العنف .	٦	نزاع مائي لبحر العرب يمتد من خليج عمان جنوباً حتى شط العرب شمالاً . ص ١٩
٣- خطوط الطول .	١	التغيير الذي يحدث لعدد السكان نتيجة للزيادة الطبيعية وغير الطبيعية ص ١١١
٤- التلوث .	٥	هو أن تسيطر دولة قوية على دولة ضعيفة بهدف استغلال موقعها ومواردها (خيراتها) . ص ٦١
٥- الاستعمار .	٤	الضرر الذي يصيب عناصر البيئة الأساسية (هواء- ماء- تربة) فتتحول من عناصر مفيدة الى عناصر ضارة . ص ١٣٣
٦- الخليج العربي	٣	عبارة عن خطوط وهمية أي غير موجودة على سطح الأرض ترسم على الكرة الأرضية ، وتقسم الكرة الأرضية الى قسمين شرقي وغربي . ص ٢١

السؤال الرابع : مقالي ويتكون من (أ- ب)

(أ) أكتب فيما يلي :- (٢ × ٣ = ٦ درجات)

١- الروابط المشتركة بين أبناء دول الخليج العربية : ص ١٢٠

- الأصل الواحد . - العادات والتقاليد .

- الدين واللغة . - التاريخ المشترك .

٢- مظاهر التعاون العسكري بين دول مجلس التعاون الخليجي . ص ١٢٩

- المناورات (التدريبات) العسكرية - قبول أبناء دول مجلس التعاون في الكليات العسكرية .

- انشاء قوه مشتركة تضم جميع دول مجلس التعاون الخليجي (درع الجزيرة) .

٣- الدول التي وصلت إليها التجارة البحرية لمنطقة الخليج العربي . ص ٣٤

- الهند .

- اليمن . - سواحل شرق أفريقيا .

(ب) علل لما يلي :- (٢ × ٣ = ٦ درجات)

١- سفينة البغلة أفضل أنواع السفن المستعملة في رحلة السفر : صفحة ٣٤

- متانتها وقدرتها على نقل الحمولة الكبيرة .

- قلة تعرضها للأخطار البحرية .

٢- أهمية موقع منطقة الخليج العربي : صفحة ١٩

- تقع في وسط العالم .

- تتحكم بأهم طرق التجارة العالمية .

٣- شهدت منطقة الخليج العربي بعد اكتشاف النفط نمو سكانياً فجائياً : صفحة ١١٠

- ارتفاع دخل الفرد .

- توفر الرعاية الصحية . - توفر فرص العمل .



السؤال الخامس : مقالى ويتكون من (أ - ب - ج)

(أ) فرق بين كل مما يلى :- (١ × ٤ = ٤ درجات)

الموقع النسبي صـ ٢٠	الموقع الفلكي صـ ٢٠
الموقع بالنسبة للماء واليابس	الموقع بالنسبة لخطوط الطول ودوائر العرض
الواردات صـ ٩٩	الصادرات صـ ٩٩
البضائع والسلع التى تشتريها دولنا من الخارج	السلع والمنتجات التى تبيعها دولنا فى الخارج

(ب) اذكر اثنين لكل من :- (٢ × ٣ = ٦ درجات)

١- أسباب التلوث البحري (المائي) لمياه الخليج العربي : صفحة ١٣٦

- مخلفات المصانع .
- النفط ومشتقاته .
- مياه الصرف الصحي غير المعالجة .
- مياه الصرف الزراعي .
- النفايات الخطرة .
- الامطار الحمضية .

٢- الحيوانات المستأنسة فى منطقة الخليج العربي . صـ ٢٦

- الأبل .
- الأغنام .
- الماعز .

٣- أشكال سطح الأرض . صـ ٢٣

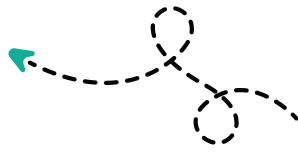
- الجبال .
- الهضاب .
- السهول .

(ج) عرف المفاهيم التالية :- (١ × ٢ = ٢ درجات)

الصناعة	تحويل المواد الخام الى مواد يمكن الاستفادة منها صـ ٩٥
المناخ	حالة الجو فى مكان ما خلال فترات زمنية طويلة صـ ٢٥

((انتهت الأسئلة))

مدرستي معكم خطوة بخطوة للنجاح والتفوق




مدرستي

الكويتية

حمل التطبيق



مدرستي



الكويتية



اضغط هنا



منطقة العاصمة التعليمية

الاجابة النموذجية



نموذج الإجابة

السؤال الأول : (موضوعي) ويتكون من (أ – ب) :

(أ) ضع خطأً تحت الخيار الصحيح من بين الخيارات التي تلي كل عبارة :- (درجة لكل إجابة = 6)

- 1- بدأ التنقيب عن النفط في دولة الكويت في عام : ص 87
أ- 1933 م ب- 1934 م ج- 1935 م د- 1936 م
 - 2- كانت للمملكة العربية السعودية تجربة رائدة في إنتاج محصول : ص 92
أ- الشعير ب- الذرة ج- القمح د- الأرز
 - 3- الأصول السكانية بدول الخليج العربية معظمها من شبه الجزيرة العربية خرجت إلى الساحل الغربي لـ : ص 117
أ- البحر الأحمر ب- خليج عمان ج- الخليج العربي د- البحر الأبيض المتوسط
 - 4- مجموعة من العادات والتقاليد والقيم في مجتمع من المجتمعات تسمى : ص 118
أ- الثقافة ب- الحضارة ج- الأخلاق د- اللغة
 - 5- أعلى دولة خليجية في نسبة الوافدين وفقاً لإحصاء عام 2006 م هي : ص 112
أ- دولة الكويت ب- دولة الإمارات ج- مملكة البحرين د- سلطنة عمان
 - 6- وقع الغزو العراقي الغاشم على دولة الكويت في عام : ص 139
أ- 1990 م ب- 1991 م ج- 1992 م د- 1993 م
- (ب) أكمل العبارات التالية بما يناسبها فيما درست :- (درجة لكل إجابة = 6)
- 1- تم اكتشاف كميات ضخمة من النفط في دولة الكويت في حقل يسمى برقان ص 87
 - 2- أعلن عن قيام السوق الخليجية المشتركة عام 2008 م في مدينة اسمها الدوحة ص 130
 - 3- كميات النفط المخزونة في باطن الأرض تسمى احتياطي النفط ص 88
 - 4- أقل دولة خليجية في عدد السكان اسمها مملكة البحرين ص 114
 - 5- القوة العسكرية المشتركة التي تضم جميع دول مجلس التعاون الخليجي تسمى درع الجزيرة ص 129
 - 6- عدد الآبار النفطية التي أحرقها النظام العراقي أثناء احتلاله لدولة الكويت بلغ حوالي 737 بئر ص 139

نموذج الإجابة

(1)



السؤال الثاني : (موضوعي) ويتكون من (أ – ب) :

(أ) صنف المناطق الزراعية التالية حسب مكانها الصحيح في الجدول التالي : (درجة لكل إجابة = 6)

(سهل الباطنة – ليوا – الإحساء – صلالة – العين – سهل تهامة) ص 92

الإمارات	عمان	السعودية
* ليوا	* سهل الباطنة	* الإحساء
* العين	* صلالة	* سهل تهامة

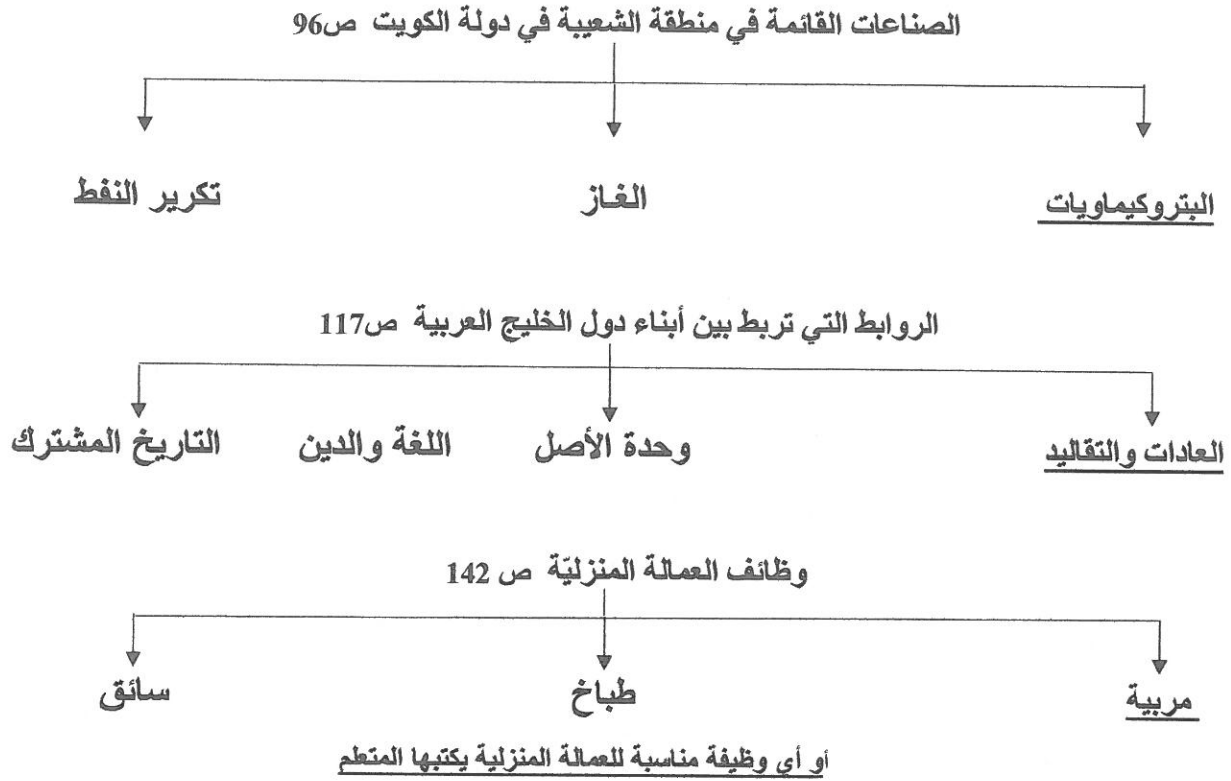
(ب) اختر للمجموعة (أ) ما يناسبها من المجموعة (ب) بكتابة الرقم المناسب في مكانه الصحيح

في الجدول التالي :- (درجة لكل إجابة = 6)

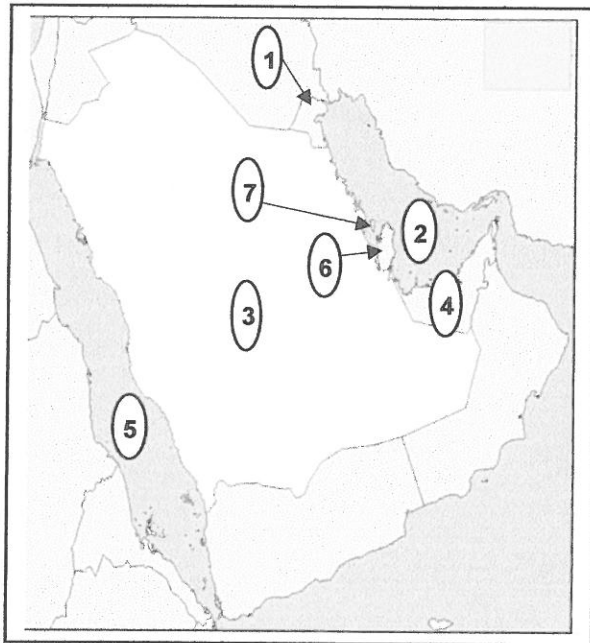
التسلسل	المجموعة (أ)	الرقم المناسب	المجموعة (ب)
	المصطلح أو المفهوم		التعريف
1	طبقة الأوزون	3	دخول مواد غريبة في التربة مما يلحق الضرر في خواصها ومكوناته. ص 134
2	النمو السكاني	6	إعادة تصدير البضائع المستوردة . ص 99
3	التلوث الأرضي	4	مجموع الدخول التي تحصل عليها الدولة خلال عام . ص 95
4	الدخل القومي	5	عدد السكان في الكيلو متر المربع . ص 114
5	الكثافة السكانية	2	التغير الذي يحدث لعدد السكان نتيجة للزيادة الطبيعية وغير الطبيعية. ص 111
6	الترانزيت	1	درع واقٍ للأحياء ضد خطر الأشعة فوق البنفسجية الضارة . ص 135

السؤال الثالث : (موضوعي) ويتكون من (أ – ب) :

(أ) أكمل المخططات السهمية التالية بما يناسبها فيما درست :- (درجة لكل إجابة = 6)



(ب) لاحظ الخريطة الصماء لدول الخليج العربية ثم استعن بالأرقام عليها لإكمال العبارات التالية: (درجة لكل إجابة = 6)



1- الدولة التي يوجد بها حقل الغوار النفطي

يشير لها على الخريطة الرقم (3) ص 91

2- منطقة العبدلي الزراعية يشير لها على الخريطة

الرقم (1) ص 92

3- الدولة التي تقع بها منطقة جبل علي الصناعية يشير

لها على الخريطة الرقم (4) ص 96

4- الخليج العربي يشير له على الخريطة الرقم (2) ص 91

5- الدولة التي يقع فيها ميناء امسيعد يشير لها على

الخريطة الرقم (6) ص 91

6- أكثر دولة خليجية في الكثافة السكانية يشير لها

على الخريطة الرقم (7) ص 114

السؤال الرابع : (مقال) ويتكون من (أ – ب – ج) :

(أ) علل لما يأتي (أذكر السبب) :

- 1- ظهرت الحاجة إلى إقامة العديد من الموانئ النفطية في دول الخليج العربية . (درجة لكل نقطة = 2) ص 90
 - * نتيجة لتزايد الإنتاج النفطي لدول مجلس التعاون من الحقول البرية والبحرية.
 - * تزايد الطلب العالمي على النفط كمصدر أساسي للطاقة.
- 2- شهدت منطقة الخليج العربية بعد اكتشاف النفط نموًا سكانيًا مضطربًا (فجائيًا) . (درجة لكل نقطة = 2) ص 110
 - * ارتفاع دخل الفرد
 - * توفر الرعاية الصحية
 - * ارتفاع الأجور
 - * توفر فرص العمل
 - * الأمن والأمان
 - * زيادة عدد المواليد
- 3- انتعاش الموانئ التجارية في دول الخليج العربية . (درجة واحدة) ص 99
 - * بسبب دورها البارز في تجارة الترانزيت

(ب) عرف المفاهيم التالية : (درجة لكل تعريف = 3)

- 1- الصناعة : تحويل المواد الخام إلى مواد يمكن الاستفادة منها . ص 95
- 2- التلوث : الضرر الذي يصيب عناصر البيئة الأساسية (هواء – ماء – تربة) فنتحول من عناصر مفيدة إلى عناصر ضارة . ص 133
- 3- إنتاج النفط : كميات النفط التي يتم استخراجها للاستفادة منها . ص 88

(ج) ما الفرق بين كلاً من :- (درجة لكل إجابة = 4)

البيوت البلاستيكية ص 94	الزراعة بدون تربة
* يزرع فيها الخضراوات في غير مواسمها (أوقاتها) وتقوم بحماية المحاصيل من تقلبات الطقس .	* هي الزراعة التي تتم في بيئة مائية أو رملية أو حصى أو نشارة الخشب تضاف إليها المحاليل الغذائية .

الواردات ص 99	الصادرات
* البضائع والسلع التي تشتريها دولنا من الخارج .	* السلع والمنتجات التي تبيعها دولنا في الخارج .



السؤال الخامس : (مقال) ويتكون من (أ – ب – ج) :

(أ) إقرأ الفقرة التالية ثم أجب عن الأسئلة التي تليها :

" يرى العلماء أن العنف مرض اجتماعي أكثر منه جريمة ، فهو عادة يتعلمها الإنسان ، وتزيد كلما مارس الإنسان مزيداً من العنف ، فهو سلوك عدواني موجه ضد الغير ويتسم بالتخريب والتدمير ، ويرى العلماء أن الإنسان بطبعه ليس عدوانياً إنما يتفجر العنف بداخله كلما تعرض للإحباط ، ويكتسب الإنسان هذا السلوك من أسرته أو المجتمع الذي يعيش فيه ". ص 146

- 1- ضع عنواناً مناسباً للفقرة : (أي عنوان يراه المصحح مناسب) (درجة واحدة فقط)
 - 2- عرّف ما تحته خط : سلوك عدواني موجه ضد الغير ويتسم بالتخريب والتدمير . (درجة واحدة فقط)
 - 3- من أين يكتسب الإنسان السلوك العدواني ؟ (درجة لكل إجابة = 2)
- أ- أسرته ب- المجتمع

(ب) أجب عن الأسئلة التالية :

- 1- ما أهم مجالات التعاون بين دول مجلس التعاون الخليجي ؟ (درجة لكل إجابة = 2) ص 129
- أ- سياسي ب- عسكري ج- اقتصادي د- ثقافي
- 2- عدد مصادر تلوث الهواء غير الطبيعية . (درجة لكل إجابة = 2) ص 134
- أ- سيارات وطائرات ب- الصناعة ج- حرق النفايات د- مبيدات حشرية

(ج) أكتب فيما يلي مما درست :

- 1- ما هي الحلول المناسبة لعلاج مشكلة العمالة المنزلية ؟ (درجة لكل إجابة = 2) ص 150
- أ- الاهتمام الجاد بالقرآن الكريم والسنة النبوية الشريفة ب- يتحمل كل فرد في الأسرة مسؤوليته والقيام بدوره
- ج- جعل مهمة الخادم مقتصرة على ممارسة دوره الأساسي في تحمل أعباء المنزل لا غير .
- * (أو أي إجابة يكتبها الطالب ويراها المصحح مناسبة للإجابة على السؤال)

- 2- ما أسباب التلوث البحري ؟ (درجة لكل إجابة = 2) ص 136
- أ- مخلفات المصانع ب- مياه الصرف الصحي غير المعالجة ج- مياه الصرف الزراعي
- د- النفط ومشتقاته هـ- النفايات الخطرة و- الأمطار الحمضية

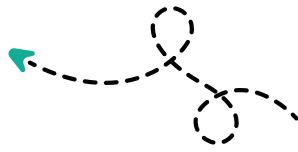
انتهت الأسئلة

مع تمنياتنا لكم بالتوفيق والنجاح

(5)

نموذج الإجابة

مدرستي معكم خطوة بخطوة للنجاح والتفوق




مدرستي

الكويتية

حمل التطبيق



مدرستي



الكويتية



اضغط هنا

دولة الكويت - وزارة التربية

نموذج اجابة

مركز الفروانية التعليمية
الادارة العامة لمنطقة الفروانية التعليمية





أجب عن جميع الأسئلة التالية :

السؤال الأول : ويتكون من (أ - ب - ج - د - هـ - و) :- (درجة لكل إجابة)

(أ) ضع علامة (√) أمام العبارة الصحيحة و علامة (×) أمام العبارة الخاطئة فيما يلي :-

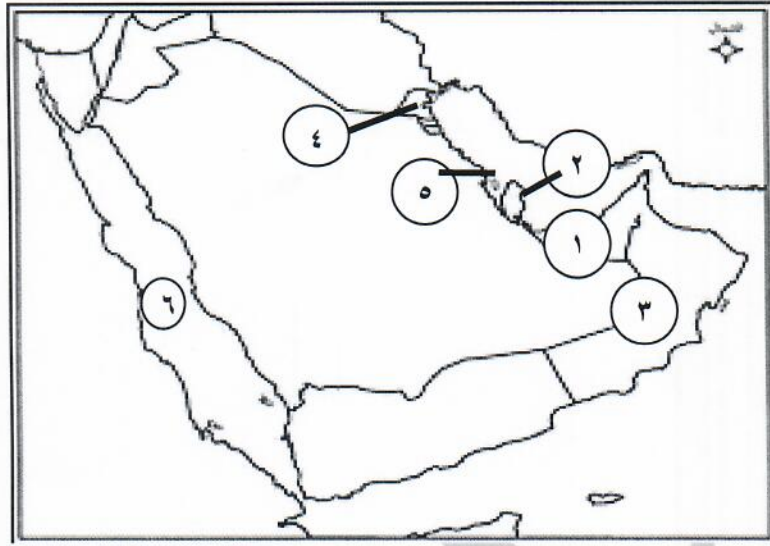
- ١- صدرت أول شحنة من النفط الكويتي عام ١٩٤٦م. (×) ص ٩٠
- ٢- يوجد حقل الغوار النفطي في المملكة العربية السعودية. (√) ص ٩١
- ٣- الزيادة الغير طبيعية تكون بسبب الهجرة. (√) ص ١١٠
- ٤- يجتمع وزراء التربية و التعليم لدول الخليج العربي كل عام. (×) ص ١٣٠
- ٥- أكبر دولة عربية خليجية من حيث المساحة عمان. (×) ص ١١٤
- ٦- أعلن قيام السوق الخليجية المشترك في مدينة الدوحة. (√) ص ١٣٠

(ب) اختر البديل المناسب من بين البدائل التي تلي كل عبارة وضع تحته خط :-

- ١- أهم الدول المستوردة للنفط الكويتي :
(الهند - اليابان - بولندا - بلجيكا) ص ٩٠
- ٢- المحصول الزراعي التي نجحت المملكة العربية السعودية كتجربة رائدة في انتاجه:
(القطن - الأرز - القمح - التمر) ص ٩٢
- ٣- توجد منطقة صحار الصناعية في دولة :
(عمان - السعودية - البحرين - الامارات) ص ٩٦
- ٤- أصغر دولة خليجية من حيث المساحة هي:
(عمان - الكويت - البحرين - قطر) ص ١١٤
- ٥- الدولة الخليجية التي توجد فيها مقر قوات درع الجزيرة :
(الكويت - قطر - عمان - السعودية) ص ١٢٩
- ٦- العام الذي قام فيه النظام العراقي البائد بغزو دولة الكويت هو :
(١٩٩٠م - ١٩٩١م - ١٩٩٢م - ١٩٩٣م)



(ج) لاحظ الخريطة التي أمامك ثم أجب عن الأسئلة التالية :-



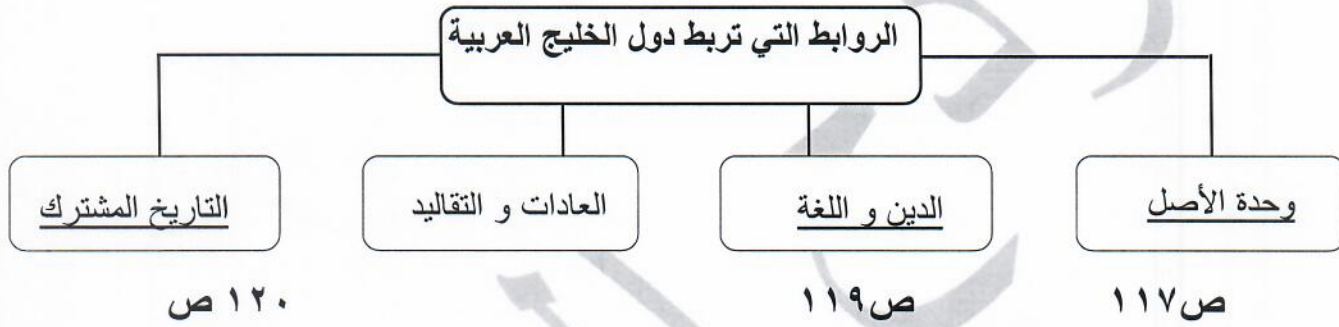
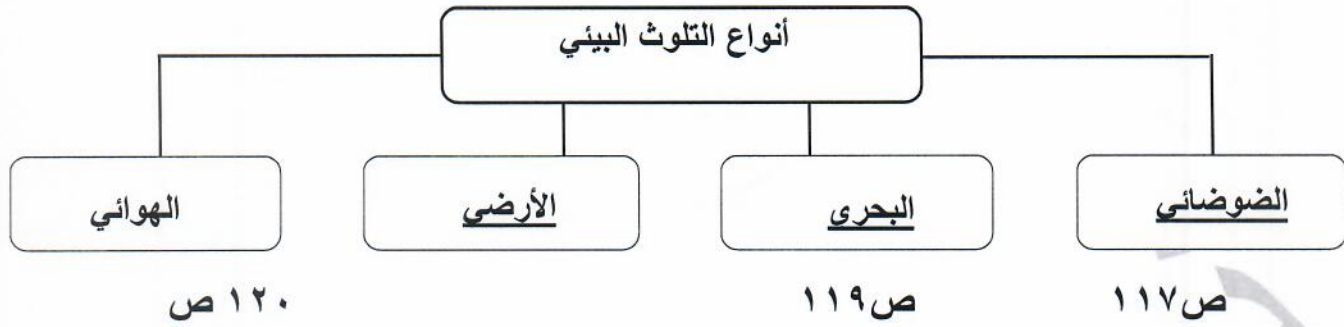
- البحر الأحمر على الخريطة يمثل على الخريطة الرقم (٦) .. ص ٩٢
- الدولة التي يوجد بها ميناء الأحمدى يمثلها على الخريطة الرقم (٤) ص ٩١
- الدولة التي يوجد بها حقل دخان يمثلها على الخريطة الرقم (٢) ... ص ٩١
- منطقة ليوا الزراعية يمثلها على الخريطة الرقم (١) ... ص ٩٢
- سهل الباطنة يمثلها على الخريطة الرقم (٣) .. ص ٩٢
- منطقة شمال ستره الصناعية يمثلها على الخريطة الرقم (٥) ص ٩٧

(د) اكتب المفاهيم أو المصطلحات الدالة على العبارات التالية :

- ١- (الصناعة) تحويل المادة الخام الى مواد يمكن الاستفادة منها. ص ٩٥
- ٢- (الدخل القومي) هو مجموع الدخل التي تحصل عليها الدولة خلال عام. ص ٩٥
- ٣- (النمو السكاني) هو التغير الذي يحدث لعدد السكان نتيجة للزيادة الطبيعية و الغير طبيعية. ص ١١١
- ٤- (الثقافة) مجموعة من العادات و التقاليد و القيم في مجتمع من المجتمعات. ص ١١٨
- ٥- (التلوث) هو الضرر الذي يصيب عناصر البيئة الأساسية الثلاث (الماء - الهواء - التربة). ص ١٣٣
- ٦- (العنف) هو ذلك السلوك العدوانى الموجه ضد الغير و الذي يتسم بالتخريب و التدمير سواء كان ذلك السلوك أقوالاً أو أفعالاً. ص ١٤٤

(هـ) أكمل المخططات السهمية الآتية :-

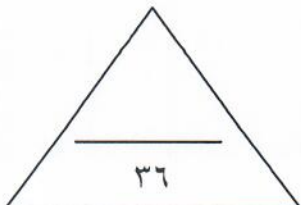
(ص ١٣٣)



(و) صنّف مظاهر التعاون بين دول مجلس التعاون الخليجي الآتية حسب المطلوب في الجدول التالي :-

- ((المناورات العسكرية - قيام سوق خليجية - توحيد المنهج - زيادة التبادل التجاري - انشاء قوة عسكرية - انشاء مكتب التربية العربية - اجتماع وزراء التربية و التعليم))

التعاون العسكري ص ١٢٩	التعاون الاقتصادي ص ١٣٠	التعاون الثقافي ص ١٣٠
المناورات العسكرية انشاء قوة عسكرية	قيام سوق خليجية زيادة التبادل التجاري	اجتماع وزراء التربية و التعليم توحيد المناهج انشاء مكتب التربية العربية



السؤال الثاني : ويتكون من (أ - ب) :-

(أ) فرّق بين كل من :-

الواردات (درجة) ص ٩٩	الصادرات (درجة) ص ٩٩
<u>البضائع و السلع التي تشتريها دولنا من الخارج</u>	<u>السلع و المنتجات التي تبيعها دولنا في الخارج</u>
احتياطي النفط (درجة) ص ٨٨	انتاج النفط (درجة) ص ٨٨
<u>كميات النفط المخزونة في باطن الأرض</u>	<u>كميات النفط التي يتم استخراجها للاستفادة منها</u>

(ب) علل لما يأتي :-

١- انتعاش الموانئ التجارية في دول الخليج العربية . (درجتان - يكتفى بإجابتين) ص ٩٩

* ارتباط دول الخليج العربي بعلاقات تجارية مع دول العالم .

* بسبب الصادرات و الواردات .

٢- تعرض مياه الخليج العربي للتلوث البحري . (درجتان - يكتفى بإجابتين) ص ١٣٦

* النفط و مشتقاته .
* مخلفات المصانع .
* النفايات الخطرة .
* مياه الصرف الصحي .
* الأمطار الحمضية .

٣- شهدت منطقة الخليج العربي بعد اكتشاف النفط نموا سكانيا فجائيا . (درجتان - يكتفى بإجابتين) ص ١١١

* ارتفاع دخل الفرد .

* توفر فرص العمل

* توفر الرعاية الصحية .

٤- عدد السكان في دولة الكويت و دول الخليج العربي في تزايد مستمر . (درجتان - يكتفى بإجابتين) ص ١١٠

* الزيادة الطبيعية (عدد المواليد - عدد الوفيات) .
* الزيادة الغير طبيعية (الهجرة) .

السؤال الثالث :- ويتكون من (أ - ب - ج) :-

(أ) عرف ما يلي :

- ١- الترانزيت : إعادة تصدير البضائع المستوردة . (درجة) ص ٩٩
- ٢- الزراعة البلاستيكية : يزرع فيها الخضروات في غير مواسمها (أوقاتها) و تقوم بحماية المحاصيل من تقلبات الطقس . (درجة) ص ٩٤
- ٣- طبقة الأوزون : هي درع واق للأحياء ضد خطر الأشعة فوق البنفسجية . (درجة) ص ١٣٥

(ب) اكتب فيما يلي :-

- ١- أنواع الصناعات القائمة على النفط بدول مجلس التعاون الخليجي (درجتان - يكتفى بإجابتين) ص ٩٥
* تكرير النفط .
* البتروكيماويات .
* الغاز .

- ٣- أنواع وظائف العمالة المنزلية . (درجتان - يكتفى بإجابتين) ص ١٤٢

* سائق .
* خادم .
* طباخ .
* مربية .

- ٢- الحلول المناسبة لمشكلة العنف . (درجتان - يكتفى بإجابتين) ص ١٥٠

* الاهتمام الجاد بالقرآن الكريم و السنة النبوية الشريفة .
* الاهتمام بالقراءة بدلا من أصدقاء السوء .
* القدوة الحسنة .



(ج) اقرأ الفقرة التالية ثم أجب عما يليها من أسئلة و مما درست :

قام خالد برحلة مدرسية الى بيت الكويت للأعمال الوطنية ، و تجول في متحف (كي لا ننسى) الذي يحكي قصة الغزو العراقي الغاشم لدولة الكويت ، و رأى من صور تتحدث عن دمار البيئة الكويتية الناتجة عن حرق الآبار النفطية.

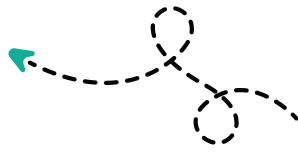
١- (علل) دمار البيئة الكويتية (درجة) ص ١٣٩
*حرق الآبار النفطية .

٢- عدد مظاهر التلوث الناتجة عن الغزو العراقي لدولة الكويت (درجتان - يكتفى بإجابتين) ص ١٣٩

*تلوث التربة. *تدمير الحياة الفطرية. *التلوث الهوائي. *التلوث الأرضي.
*الآثار الخطرة على صحة الانسان والكائنات الحية.

انتهت الأسئلة ونرجو لك التوفيق

مدرستي معكم خطوة بخطوة للنجاح والتفوق




مدرستي

الكويتية

حمل التطبيق



مدرستي



الكويتية



اضغط هنا



اختبار نهاية الفترة الدراسية الثانية

العام الدراسي 2022/2021م

الصف السادس

نموذج إجابة اختبار مادة

الاجتماعيات

الاثنين – 30 / 5 / 2022





وزارة التربية

الإدارة العامة لمنطقة حولي التعليمية
التوجيه الفني للاجتماعيات

امتحان نهاية الفترة الدراسية الثانية

لمقرر (الكويت ودول الخليج العربية)

" للصف السادس "

نموذج الإجابة

العام الدراسي (٢٠٢١ / ٢٠٢٢ م)

الزمن: ساعة و٤٥ دقيقة

عدد الأوراق: (٦)

أجب عن جميع الأسئلة التالية:

السؤال الأول / الموضوعي ويتكون من (أ - ب - ج - د - هـ - و - ز):

(أ) ظلل (أ) إذا كانت العبارة صحيحة أو (ب) إذا كانت العبارة خاطئة : (لكل سؤال درجة = ٧ درجات)

الرقم	العبارة	أ	ب
١	الدولة الخليجية الأولى من حيث عدد السكان هي قطر. (ص ١١٤)		
٢	بدأ التنقيب عن النفط في دولة الكويت عام ١٩٣٤م بالحقول الشمالية في حقل بحره . (ص ٨٧)		
٣	شملت التغيرات في المجتمعات الخليجية الجوانب الاجتماعية فقط. (ص ١٤١)		
٤	الدخل القومي هو مجموع الدخول التي تحصل عليها الدولة خلال عام. (ص ٩٥)		
٥	تعتبر السلوكيات الخاطئة من الآثار السلبية للعمالة المنزلية . (ص ١٤٢)		
٦	عدد السكان في دول الخليج العربية في تزايد مستمر بسبب الزيادة الطبيعية فقط . (ص ١١٠)		
٧	تتشابه دول الخليج العربية بطريقة الاحتفال بالأعياد والأعراس والمناسبات الوطنية والزي الرسمي . (ص ١١٨)		

(ب) صنف مصادر التلوث الهوائي حسب مكانها المناسب بالجدول التالي : (لكل نقطة درجة = ٥ درجات)

السيارات والطائرات / براكين / الصناعة / عواصف ترابية / حرق النفايات

مصادر طبيعية	مصادر غير طبيعية (ص ١٣٤)
<ul style="list-style-type: none"> - براكين - عواصف ترابية 	<ul style="list-style-type: none"> - السيارات والطائرات - الصناعة - حرق النفايات



(ج) ضع خطأ تحت الخيار الصحيح من بين الخيارات التي تلي كل عبارة : (لكل سؤال درجة = ٥ درجات)

١- قوات درع الجزيرة شكل من أشكال التعاون بين دول الخليج العربية في المجال : (ص ١٢٩)

السياسي	الاقتصادي	العسكري	الثقافي
---------	-----------	---------	---------

٢- الحاكم الذي تم في عهده تصدير أول شحنة من النفط الكويتي عام ١٩٤٦ م المغفور له الشيخ: (ص ٩٠)

أحمد الجابر الصباح	عبدالله السالم الصباح	صباح السالم الصباح	جابر الأحمد الصباح
--------------------	-----------------------	--------------------	--------------------

٣- التغيير الذي يحدث لعدد السكان نتيجة الزيادة الطبيعية وغير الطبيعية: (ص ١١١)

الهجرة	النمو السكاني	الكثافة السكانية	السلالة
--------	---------------	------------------	---------

٤- يرجع سبب ضعف قدرة التربة على الإنتاج الزراعي إلى التلوث: (ص ١٣٤)

المائي	الهوائي	الضوضائي	الأرضي
--------	---------	----------	--------

٥- الحقل الذي تم فيه اكتشاف كميات ضخمة من النفط في دولة الكويت: (ص ٨٧)

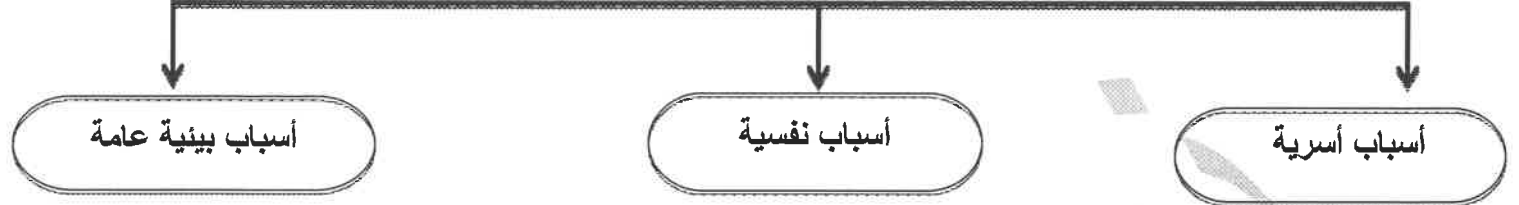
برقان	بحره	أم قدير	الروضتين
-------	------	---------	----------

(د) صوب ما تحته خط في العبارات التالية : (٦ درجات لكل نقطة درجة)

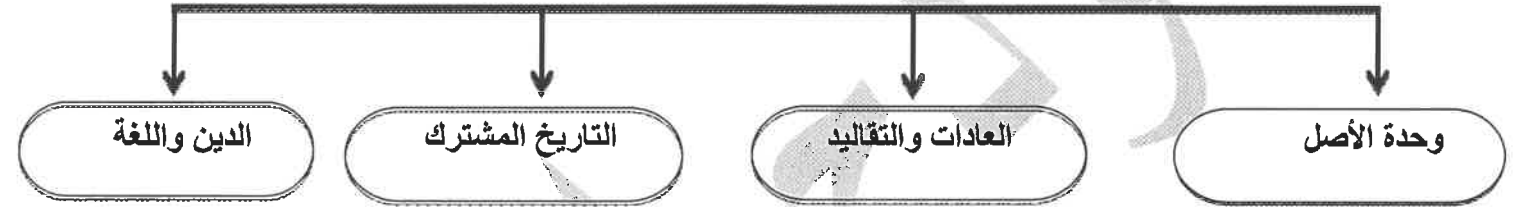
م	العبارة	التصويب
١	زراعة تتم في بيئة مائية أو رملية أو حصى أو نشارة خشب تضاف إليها المحاليل الغذائية تسمى <u>بيوت بلاستيكية</u> .	الزراعة بدون تربة (ص ٩٤)
٢	إعادة تصدير البضائع المستوردة تسمى <u>الواردات</u> .	ترانزيت (ص ٩٩)
٣	يقع مقر مكتب التربية العربي في مدينة <u>مسقط</u> .	الرياض (ص ١٣٠)
٤	أكثر الدول الخليجية في إنتاج النفط <u>قطر</u> .	المملكة العربية السعودية (ص ٨٨)
٥	تتركز الصناعات النفطية في دولة الكويت بمنطقة <u>الأحمدي</u> .	الشعبية (ص ٩٦)
٦	مخلفات المصانع ومياه الصرف الصحي من أسباب التلوث <u>الضوضائي</u> .	البحري (المائي) (ص ١٣٦)

(هـ) أكمل المخططات السهمية التالية بما يناسبها فيما درست : (لكل نقطة درجة واحدة = ٥ درجات)

١- أسباب إنتشار مشكلة العنف بين المتعلمين : (ص ١٤٩)



٢- الروابط المشتركة بين دول الخليج العربية : (ص ١١٧-١١٨-١١٩-١٢٠)

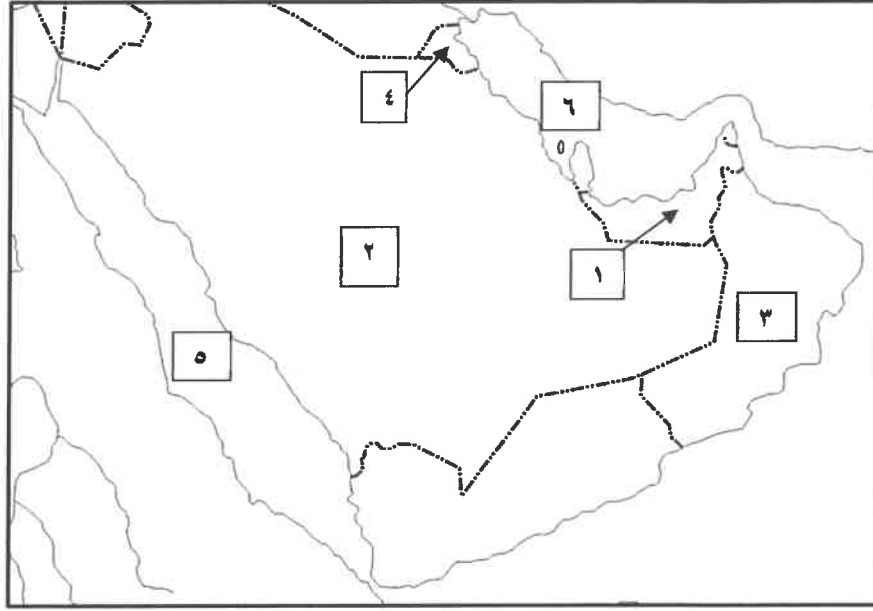


(و) ضع عنواناً مناسباً للصور مستعيناً بالكلمات التالية : (لكل نقطة درجة = ٤ درجات) (ص ١٣١)

التعاون الثقافي	التعاون الاقتصادي	التعاون العسكري	التعاون السياسي
-----------------	-------------------	-----------------	-----------------

التعاون الثقافي	التعاون السياسي	التعاون الاقتصادي	التعاون العسكري
	 علم فلسطين	 إعلان الدوحة السوق الخليجية المشتركة	

(ز) أمامك خريطة شبه الجزيرة العربية الصماء أكتب الرقم الدال على العبارات التي تليها:
(لكل سؤال درجة = ٤ درجات)



- الدولة التي يقع فيها سهل الباطنة يمثلها على الخريطة الرقم (٣) (ص ٩٢)
- حقل مربان النفطي يقع في دولة يمثلها على الخريطة الرقم (١) (ص ٩٢)
- منطقة الشعيب الصناعية تقع في دولة يمثلها على الخريطة الرقم (٤) (ص ٩٢)
- البحر الأحمر يمثلها على الخريطة الرقم (٥) (ص ٩٢)

السؤال الثاني : ويتكون من (أ - ب - ج) :

(أ) علل لما يأتي : (لكل سؤال درجتين = ٤ درجات)

١ - شهدت منطقة الخليج العربية بعد اكتشاف النفط نمواً سكانياً مضطرباً (فجائياً) (ص ١١٠ + ١١١)

- ارتفاع دخل الفرد / الأمن والأمان / السماح للوافدين باصطحاب عائلاتهم

- توفر الرعاية الصحية / توفر فرص العمل / ارتفاع الأجور / زيادة عدد المواليد

٢ - ظهرت الحاجة إلى إقامة العديد من الموانئ النفطية في دول الخليج العربية . (ص ٩٠)

- تزايد الإنتاج النفطي لدول الخليج العربية / تزايد الطلب العالمي عليه كمصدر أساسي للطاقة .

(ب) فرق بين كل مما يلي : (٤ درجات لكل نقطة درجة)

إنتاج النفط (ص ٨٨)	احتياطي النفط (ص ٨٨)
كميات النفط التي يتم استخراجها للاستفادة منها	كميات النفط المخزونة في باطن الأرض
الصادرات (٩٩)	الواردات (٩٩)
السلع والمنتجات التي تبيعها دولنا في الخارج.	البضائع والسلع التي تشتريها دولنا من الخارج.

(ج) اقرأ الفقرة التالية ثم أجب عن الأسئلة التي تليها : (٤ درجات) ص (١٣٩)

قام النظام العراقي البائد بغزو دولة الكويت في الثاني من أغسطس ولم يقتصر عدوانه على البلاد عسكرياً بل امتد تأثيره على البيئة البرية والبحرية والهوائية واحراق الآبار النفطية وضخ النفط بالبحر وتكوين البحيرات النفطية لتدمير الحياة الفطرية كما أدى إشعال الآبار إلى تلوث الهواء .

١ - استخرج من الفقرة السابقة ما يلي:

* مظاهر التلوث الناجمة عن الغزو العراقي الغاشم على دولة الكويت .

- ضخ النفط في البحر (تلوث مياه البحر) / (تلوث التربة - الأرضي)

- تكوين البحيرات النفطية (تدمير الحياة الفطرية) (تلوث البيئة البرية) (التلوث الهوائي)

٢ - في أي عام قام النظام العراقي بغزو دولة الكويت؟

- ١٩٩٠ م

٣ - كم بلغ عدد الآبار النفطية التي قام النظام العراقي بإحراقها في دولة الكويت ؟

- ٧٣٧ بئراً

السؤال الثالث: ويتكون من (أ - ب - ج) :

(أ) عرف المفاهيم التالية: (٣ درجات لكل تعريف درجة)

المفهوم	التعريف
الصناعة	تحويل المواد الخام إلى مواد يمكن الاستفادة منها . (ص٩٥)
التلوث	هو الضرر الذي يصيب عناصر البيئة الأساسية (هواء- ماء- تربة) فتنحول من عناصر مفيدة إلى عناصر ضارة . (ص١٣٣)
طبقة الأوزون	درع واقٍ للأحياء ضد خطر الأشعة فوق البنفسجية الضارة. (ص١٣٥)

(ب) أجب عن الأسئلة التالية :

١- عدد الصناعات القائمة على النفط بدول الخليج العربية . (ص٩٦) (٣ درجات)

- بتروكيماويات

- تكرير النفط - الغاز

٢- اقترح حلولاً لعلاج مشكلة العنف (ص١٥٠) (درجتين)

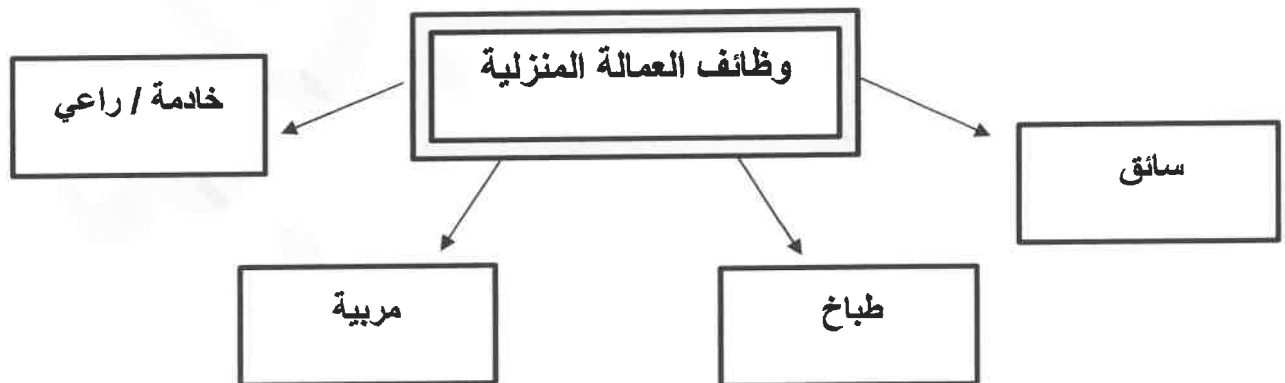
-الاهتمام الجاد بالقرآن الكريم والسنة النبوية الشريفة .

-الاهتمام بالقراءة والمطالعة بدلاً من أصدقاء السوء .

-القنوة الحسن من كل المحيطين بالشباب واتباع أساليب الحوار والتفاهم في علاج المشكلات والخلافات .

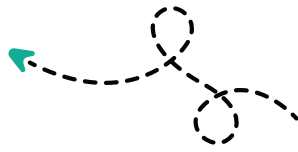
(ج) أذكر وظائف العمالة المنزلية . (ص١٤٢) (ملاحظة/ حسب ما يراه المصحح) (٤ درجات لكل

نقطة درجة)



انتهت الأسئلة مع تمنياتنا بالتوفيق

مدرستي معكم خطوة بخطوة للنجاح والتفوق



مدرستي

الكويتية

حمل التطبيق



مدرستي



الكويتية



اضغط هنا



وزارة التربية

الإدارة العامة لمنطقة مبارك الكبير التعليمية



نموذج إجابة

الإدارة العامة لمنطقة مبارك الكبير التعليمية



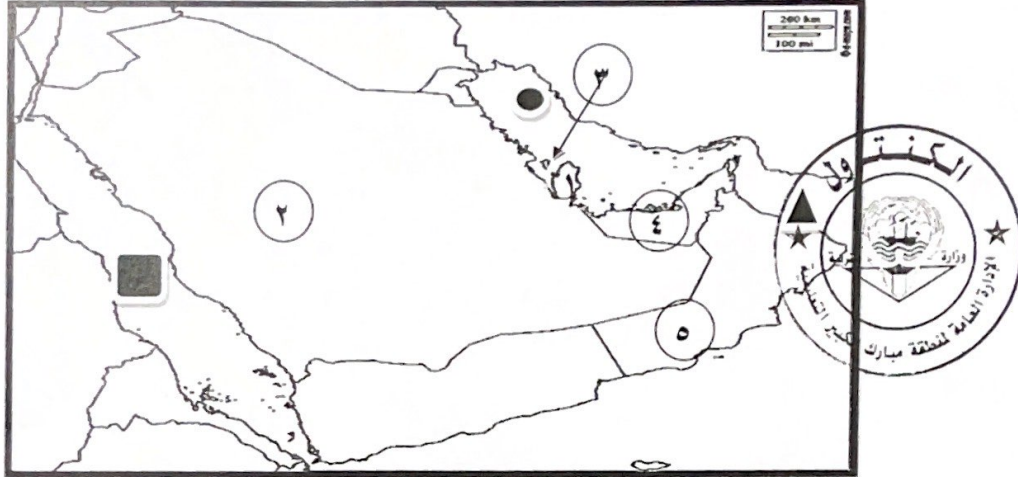


العام الدراسي: ٢٠٢١/٢٠٢٢ م
الزمن : ساعة و ٤٥ دقيقة
عدد الأوراق : ٥

وزارة التربية
الإدارة العامة لمنطقة مبارك الكبير التعليمية
التوجيه الفني للاجتماعيات

نموذج إجابة نهاية الفترة الثانية للصف السادس لمادة الاجتماعيات
(الكويت ودول الخليج العربية)

السؤال الأول موضوعي يتكون من (أ - ب - ج) :
(أ) لاحظ خريطة شبه الجزيرة العربية ثم أجب عن ما يليها من أسئلة :



- أقل الدول الخليجية في نسبة المواطنين تحمل على الخريطة الرقم (٤) ص ١١٢
- مقر مكتب التربية العربي يقع في دولة خليجية تحمل على الخريطة الرقم (٢) . ص ١٣٠
- ميناء الفحل يمثل على الخريطة الرمز (▲) ص ٩٧
- قلعة البرتغال توجد في دولة خليجية تحمل على الخريطة الرقم (٣) . ص ١٢٠
- مسطح مائي تطل عليه جميع دول الخليج العربية يمثل على الخريطة الرمز (●) ص ٩١

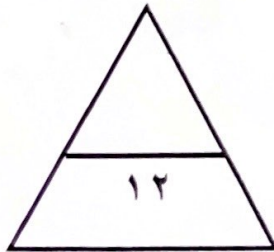
(ب) اكتب المفاهيم أو المصطلحات الدالة على العبارات التالية:

- ١- (طبقة الأوزن) : درع واق للأحياء من خطر الأشعة فوق البنفسجية الضارة . ص ١٣٥
- ٢- (زراعة بدون تربة) : زراعة تتم في بيئة مائية أو رملية أو حصى أو نشارة خشب وتضاف إليها محاليل غذائية . ص ٩٤
- ٣- (تلوث) : ضرر يصيب عناصر البيئة الأساسية فتتحول من عناصر مفيدة إلى عناصر ضارة . ص ١٣٣
- ٤- (إنتاج النفط) : كميات النفط التي يتم استخراجها للاستفادة منها . ص ٨٨

(ج) صنف المصطلحات التالية الى مكانها المناسب في الجدول الذي يليها :

تلوث مائي - تلوث هوائي - تلوث بحري

تلوث هوائي	تلوث ضوضائي	تلوث بحري
حرق النفايات ص ١٣٤	أعمال نجارة ص ١٣٨	مخلفات المصانع ص ١٣٦



السؤال الثاني (موضوعي) يتكون من (أ - ب) :

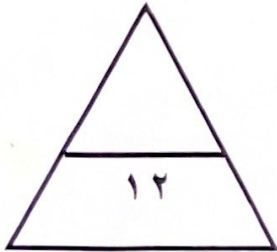
(أ) ضع خطأ تحت الخيار الصحيح من بين الخيارات التي تلي كل عبارة :

- ١- توحيد المناهج التعليمية وتطويرها بين دول مجلس التعاون الخليجي من مظاهر التعاون : ص ١٣٠
أ- العسكري ب- السياسي ج- الاقتصادي د- الثقافي
- ٢- الدولة الخليجية التي لم تتعرض للاستعمار الأجنبي : ص ١٢٠
أ- قطر ب- السعودية ج- الامارات د- الكويت
- ٣- أول حقل نفطي تم اكتشافه في الكويت : ص ٨٧
أ- برقان ب- الوفرة ج- بحرة د- الروضتين
- ٤- تحويل المواد الخام الى مواد يمكن الاستفادة منها : ص ٩٥
أ- صناعة ب- تعدين ج- تصدير د- انتاج
- ٥- إحداث فساد لنوعية المياه من خلال إدخال مواد ضارة بها من الإنسان يسمى تلوث : ص ٣٦
أ- أرضي ب- مائي (بحري) ج- هوائي د- ضوضائي
- ٦- أهم الدول المستوردة للنفط الكويتي : ص ٩٠
أ- هولندا ب- بريطانيا ج- إيطاليا د- روسيا
- ٧- هيئة الشباب والرياضة تمثل أحد مساعي جهود دول الخليج العربية لحل المشكلات : ص ١٥٠
أ- الاقتصادية ب- الثقافية ج- السياسية د- الاجتماعية



(ب) اختر للمجموعة (أ) ما يرتبط بها من المجموعة (ب) بوضع الرقم المناسب :

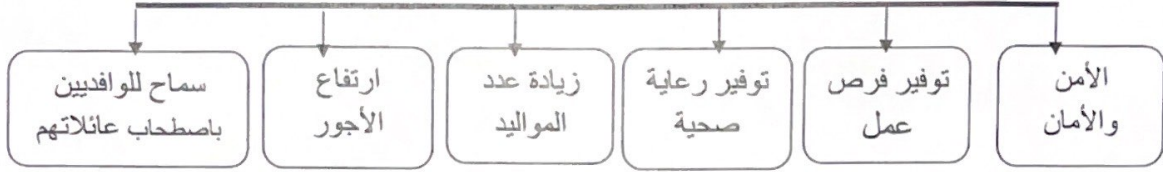
م	المجموعة أ	الرقم المناسب	المجموعة ب
١	دولة خليجية عربية يوجد بها حقل الغوار . ص ١٢٩	-	الامارات
٢	أصغر الدول الخليجية العربية من حيث عدد السكان ص ١١٤	٤	الكويت
٣	سهل الباطنة منطقة زراعية توجد في دولة خليجية . ص ٩٣	٢	البحرين
٤	دولة خليجية تم حرق آبار النفط فيها أثر عدوان عراقي غاشم . ص ١٣٩	٥	قطر
٥	منطقة امسيعد الصناعية توجد في دولة خليجية . ص ٩٦	١	السعودية
		٣	عمان




السؤال الثالث (موضوعي) يتكون من (أ - ب - ج) :

(أ) اكتب عنواناً مناسباً للمخططات السهمية التالية :


١- عوامل النمو السكاني ص ١١١



٢- مناطق زراعية ص ٩٣



٣- مصادر تلوث الهواء ص ١٣٤



(ب) صوب ما تحته خط في العبارات التالية :

الرقم	العبارة	التصويب
١	المبيدات الحشرية من مصادر تلوث الهواء <u>الطبيعية</u> . ص ١٣٤	غير الطبيعية
٢	تعرضت الكويت إلى الغزو العراقي الغاشم في سنة <u>١٩٩١م</u> ص ١٣٩	١٩٩٠م
٣	العمالة المنزلية تمثل أحد مشكلات دول الخليج العربية <u>البيئية</u> . ص ١٤٢	الاجتماعية
٤	قبول أبناء مجلس التعاون في الكليات العسكرية من مظاهر التعاون <u>الثقافي</u> . ص ١٢٩	العسكري
٥	اجتماع وزراء التربية والتعليم لدول الخليج العربية كل <u>عام</u> . ص ١٣٠	عامين

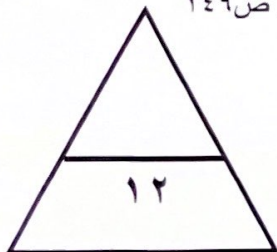
(ج) أكمل العبارات التالية بما يناسبها من كلمات :

١- المملكة العربية السعودية لها تجربة رائدة في انتاج محصول القمح . ص ٩٢

٢- أحد أسباب مظاهر العنف الناجمة عن التربية الخاطئة للطفل والاحساس بالنقص تسمى أسرية . ص ١٤٩

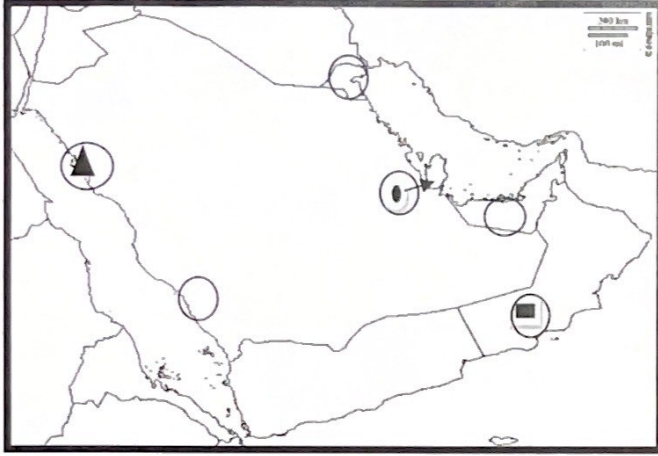
٣- جبل علي من أهم المناطق الصناعية في دولة خليجية تسمى الامارات . ص ٩٦

٤- كميات من النفط المخزونة في باطن الأرض احتياطي النفط ص ٨٨



السؤال الرابع (مقالي) يتكون من (أ - ب - ج) :

(أ) عين المطلوب على خريطة شبه الجزيرة العربية الصماء باستخدام الرموز التالية : ٣ درجات



١- مدينة ينبع الصناعية بوضع الرمز ▲ ص ٩٧

٢- مدينة صلالة بوضع الرمز ■ ص ٩٢

٣- دولة اعلن فيها قيام السوق الخليجية المشتركة
بوضع الرمز ● ص ١٣٠

(ب) علل لما يأتي : (٦ درجات)

١ - ثقب طبقة الأوزون. ص ١٣٥

- بسبب التلوث الهوائي

٢- تحول رمال دولة الكويت من اللون الأصفر الى اللون الأسود. ص ١٣٩

- بسبب تساقط الرذاذ النفطي على التربة محدثا تلوثا أرضيا

٣- زيادة عدد السكان في منطقة الخليج العربي. ص ١١٠

- الزيادة الطبيعية

- الزيادة غير الطبيعية

٤- قيام دول الخليج العربية بإقامة العديد من الموانئ النفطية. ص ٩٠

- تزايد الطلب على النفط كمصدر للطاقة

- تزايد الإنتاج النفطي لدول الخليج العربية .

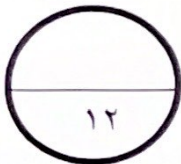


(ج) عرف ما يلي : (٣ درجات)

١- ترانزيت : إعادة تصدير البضائع المستوردة . ص ٩٩

٢- دخل قومي : هو مجموع الدخل التي تحصل عليها الدولة خلال عام. ص ٩٥

٣- عنف : السلوك العدواني الموجه ضد الغير و الذي يتسم بالتخريب و التدمير سواء كان السلوك اقوال او افعال . ص ١٤٤



السؤال الخامس (مقالتي) يتكون من (أ - ب - ج):

(أ) فرق بين كل مما يلي : (٤ درجات)

صادرات ص ٩٩	واردات ص ٩٩
السلع والمنتجات التي تبيعها الدول في الخارج	البضائع و السلع التي تشتريها الدول من الخارج
تلوث ضوضائي ص ١٣٤	تلوث أرضي (تربة) ص ١٣٤
أصوات غير متجانسة تجتاز شدتها المعدل الطبيعي المسموح به للأذن	دخول مواد غريبة في التربة مما يلحق الضرر في خواصها ومكوناتها

(ب) أصدر حكماً على مدى صحة أو خطأ العبارة التالية مع التعليل : درجتان

(إحراق الآبار النفطية الكويتية مصدر للتلوث بأنواعه الثلاث) ص ١٣٩
الحكم : عبارة صحيحة
التعليل (أذكر أنواع التلوث) : تلوث مياه – تلوث تربة – تلوث جوي

(ج) اكتب فيما يلي مما درست : (٦ درجات)

١- شهدت منطقة الخليج العربية بعد اكتشاف النفط نموا سكانيا فجائيا . ص ١١٠

● ارتفاع دخل الفرد

● توفر الرعاية الصحية ● توفر فرص العمل

٢- مجالات التعاون السياسي بين دول مجلس التعاون الخليجي. ص ١٢٩

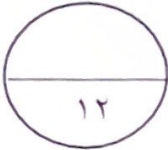
● ادانة احتلال الجزر الإماراتية الثلاث.

● توحيد الموقف السياسي تجاه القضايا (قضية فلسطين).

٣- النتائج المترتبة على تلوث التربة . ص ١٣٤

● ضعف قدرتها على الإنتاج الزراعي.

● تلوث الإنتاج الزراعي مما يؤثر على صحة الإنسان.



انتهت الأسئلة

