







أوراق عمل للقصير الثالث للصف الأول الابتدائي
العلوم

وزارة التربية
الإدارة العامة للتعليم الخاص
مدرسة التميز النموذجية



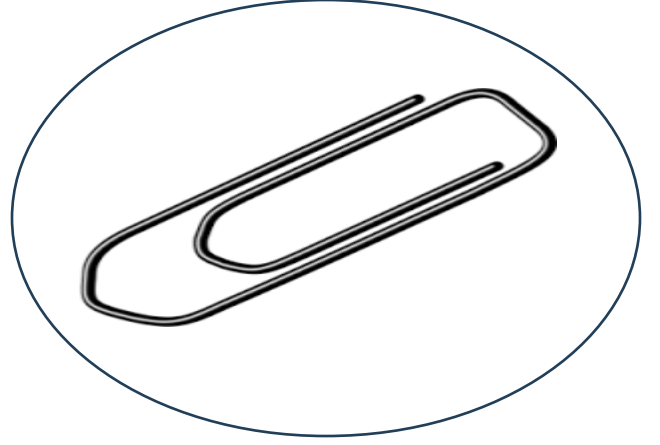

◆ ضع دائرة حول الأشياء التي يجذبها المغناطيس :-



◆ ضع علامة (✓) أمام العبارة الصحيحة أو علامة (X) أمام العبارة غير الصحيحة:ـ

- 1- المغناطيس يجذب كل الأشياء ()
- 2- تستخدم الآلات البسيطة لتسهيل العمل ()
- 3- المغناطيس يجذب الخشب ()
- 4- يجذب المغناطيس الأشياء المصنوعة من الحديد ()
- 5- يجب علينا احترام إشارة المرور ()
- 6- تستخدم البوصلة في تحديد الاتجاهات ()

♦ ضع دائرة حول الأشياء التي يجذبها المغناطيس :-



◆ ضع علامة (√) أمام العبارة الصحيحة أو علامة (X) أمام العبارة غير الصحيحة:ـ

- 1- المغناطيس يجذب كل الأشياء (X)
- 2- تستخدم الآلات البسيطة لتسهيل العمل (√)
- 3- المغناطيس يجذب الخشب (X)
- 4- يجذب المغناطيس الأشياء المصنوعة من الحديد (√)
- 5- يجب علينا احترام إشارة المرور (√)
- 6- تستخدم البوصلة في تحديد الاتجاهات (√)