



كراسة تحدي المعلومات (3)

مطلوبة

مادة الدراسات الاجتماعية
منتصف الفصل الدراسي الثاني

2025 – 2026 م



الاسم /



سادس /

إعلان مسابقة تحدي المعلومات 3

يعلن قسم الدراسات الاجتماعية عن تقديم مسابقة تحدي المعلومات 3
لطالبات الصف (الثالث - الرابع - الخامس - السادس)
من خلال الحضور الصفّي والاختبار الورقي
المادة العلمية من الكتاب المدرسي وكراسة تحدي المعلومات 3



صف الطالبة



أثناء الحصص



مارس
الاحد 8
+
الاثنين 9

إعلان النتائج يوم الأربعاء 11 - 3 - 2026 م





جغرافيا - الوحدة الأولى
الموارد والأنشطة الاقتصادية
من صفحة 11-39



السؤال الأول:

اختر الإجابة الصحيحة بوضع علامة في المربع المقابل :-

"تحويل المواد الخام إلى سلع وخدمات أكثر فائدة للإنسان" يشير المفهوم السابق إلى مصطلح:

- السياحة
التجارة
الزراعة
الصناعة

- 1
أ
ب
ج

أي العوامل الطبيعية الآتية تساعد على قيام الزراعة؟

- الأسواق
رأس المال
وسائل النقل
التربة الخصبة

- 2
أ
ب
ج

تعد من العوامل البشرية التي تساعد على قيام الزراعة:

- النقل
التربة
المناخ
موارد المياه

- 3

ب
ج
د



تُعد من أكثر دول العالم إنتاجاً للأغنام عام 2017:

4

أ الهند

أ

ب الصين

✗

ج البرازيل

ج

د الأرجنتين

د

أي من الآتي يُعد من العوامل الطبيعية لقيام الصناعة؟

5

أ رأس المال

أ

ب مصادر الطاقة

✗

ج الأيدي العاملة

ج

د وسائل النقل

د

ينتشر الرعي التجاري في المناطق:

6

أ الحارة

أ

ب الجبلية

ب

ج السافانا

✗

د الصحراوية

د

من أمثلة الصناعات التحويلية:

7

أ الغاز

أ

ب الفحم

ب

ج المنسوجات

✗

د البترول

د

أي دول العالم الآتية أعلى إنتاجاً للأسماك؟

8

الهند

أ

فيتنام

ب

الصين

✗

سيرلانكا

د

أي من الآتي يُعد من الحبوب الغذائية؟

9

القطن

أ

الشاي

ب

الأرز

✗

بنجر السكر

د

تتم معالجة المشكلات الزراعية من خلال:

10

توفير الأسواق

أ

منع الصيد الجائر

ب

الحد من التلوث البحري


ج

وضع قيود لمحاربة التصحر

✗

السؤال الثاني:

بم تفسر لجوء معظم دول العالم إلى التوسع في تربية الدواجن؟



1. تعويض النقص في اللحوم الحمراء.
2. تأمين ما يحتاجه المستهلك من البيض.

السؤال الثالث:

أجب عن الآتي:

أ- اذكر أمثلة على كل من:-

المحاصيل الصناعية:	الحبوب الغذائية:
	
1. البُن	1. القمح
2. الشاي	2. الشعير
3. القطن	3. الذرة الشامية
4. قصب السكر	4. الأرز



ب- عدد أنواع الرعي في العالم.

- 1- الرعي البدائي.
- 2- الرعي التجاري.

ج- اذكر أنواع الصناعات.

1. الصناعات الاستخراجية
2. الصناعات التحويلية

هـ- اذكر مقترحات لمعالجة المشكلات الزراعية.

- 1- استصلاح أراضي جديدة .
- 2- وضع قيود لمحاربة التصحر.
- 3- استخدام أساليب حديثة.

د- ما عوامل قيام الصناعة؟



و- أعط أمثلة على الصناعات التحويلية.

- 1- المنسوجات
- 2- المعدات والألات
- 3- البتروكيماويات

السؤال السادس:

وضح أهمية كلاً من:-

أهمية الصناعة 	أهمية الثروة السمكية 	أهمية الزراعة 
<ol style="list-style-type: none"> 1. زيادة الدخل. 2. توفر فرص عمل. 3. سد احتياجات الإنسان. 	<ol style="list-style-type: none"> 1. مصدر للغذاء. 2. تستخدم كدقيق للأبقار. 3. تعوض النقص في اللحوم الحمراء. 4. تساعد على قيام الصناعات 5. تستخدم في صناعة زيوت الأسماك. 6. تستخدم كسماد للأراضي. 	<ol style="list-style-type: none"> 1. مصدر للغذاء. 2. مصدر دخل. 3. توفر فرص عمل.



تاريخ - الوحدة الثانية
الدولة الأموية في الأندلس
من صفحة 44-57



السؤال الأول:

اختر الإجابة الصحيحة بوضع علامة في المربع المقابل :-

القائد الأموي للجيش في معركة بلاط الشهداء:

1

طارق بن زياد

أ

موسى بن نصير

ب

عبدالرحمن الغافقي

المستنصر بن عبدالرحمن

د

عدد دويلات ملوك الطوائف:

2

10

أ

20

30

ج

40

د

تعد آخر معاقل المسلمين في الأندلس مملكة:

3

سرقسطة

أ

طليطلة

ب

غرناطة

إشبيلية

د

4 بنى الأمير عبدالرحمن الداخل المسجد الجامع في مدينة:

قرطبة



إشبيلية



غرناطة



الزهراء



5 بُنيت مكتبة قرطبة في عهد الأمير:

الحكم المستنصر



المنصور بن عامر



عبدالرحمن الناصر



المستنصر بن عبدالرحمن



مكتبة قرطبة الأموية

6 أي من الآتي تُعد من مظاهر الانقسام بين المسلمين في الأندلس؟

انتشار الظلم



ظهور العباسيين



النزاع على ولاية العهد



إيثار العرب على غيرهم



7 تم فتح الأندلس في عصر:

العباسيين



الأمويين



العثمانيين



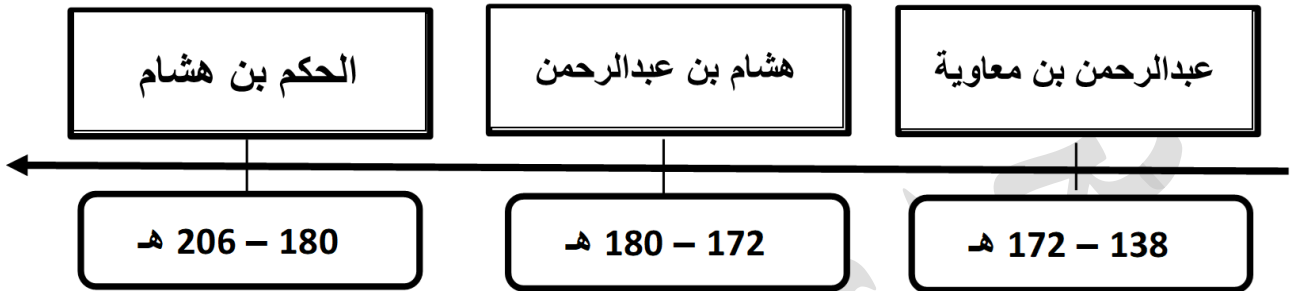
الراشدين



السؤال الثاني:

1- رتب حكام عصر الإمارة الأموية على الخط الزمني.

(هشام بن عبدالرحمن - عبدالرحمن بن معاوية - الحكم بن هشام)




2- رتب حكام عصر الخلافة الأموية على الخط الزمني.

(الحكم المستنصر - عبدالرحمن الناصر - المنصور بن عامر)

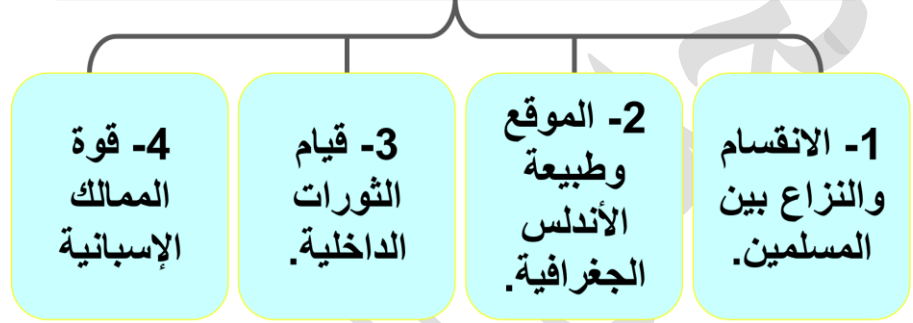


السؤال الثالث:



- 1- بم تفسر:
أ- قيام الثورات في الأندلس؟
1- بسبب انتشار الظلم.
2- انتشار الفساد والترف بين الحكام

وضح عوامل ضعف وسقوط الدولة الأموية في الأندلس؟



السؤال الرابع:

أجب على الأسئلة التالية:

1- وضح الإجراءات التي قامت بها الممالك الإسبانية لإنهاء الوجود الإسلامي في الأندلس.

- 1- تفريق كلمة المسلمين.
2- الاستعانة بالجيوش الأوروبية.
3- إشغال المسلمين بحروب.

2- اذكر دويلات ملوك الطوائف.

- 1- بنو عباد بإشبيلية.
2- بنو ذي النون بطليطلة.

3- عدد أعمال كلاً من:-

أعمال الخليفة عبدالرحمن بن محمد (الناصر):	أعمال الأمير عبدالرحمن بن معاوية (الداخل):
1. وحد الدولة. 2. اهتم بالجيش والشرطة. 3. بنى <u>مكتبة قرطبة</u> .	1. وحد الأندلس. 2. أسس جيشاً. 3. بنى <u>مسجد قرطبة</u> . 4. اهتم بالحياة الاقتصادية.



ملاحظة هامة:

الأسئلة الإثرائية لا تغني عن الكتاب المدرسي يرجى مذاكرة تدريبات الكتاب

وفقن الله يا فخر المرخية 😊 ..

اللهم لا سهل إلا ما جعلته سهلاً، فإنك إن شئت تجعل الصعب سهلاً..