

مدرسة التميز النموذجية
(ابتدائي - متوسط - ثانوي)

بنك الأسئلة

اجتماعيات

الصف السابع



2024 / 2023

الفصل الدراسي الثاني



الفصل الدراسي الثاني ٢٠٢٤ م

للفيف السابع

بنك أسئلة مادة الاجتماعيات
الوحدة الثالثة والرابعة



إشراف قسم الاجتماعيات



السؤال الأول : أكمل العبارات التالية بما يناسبها مما درست :

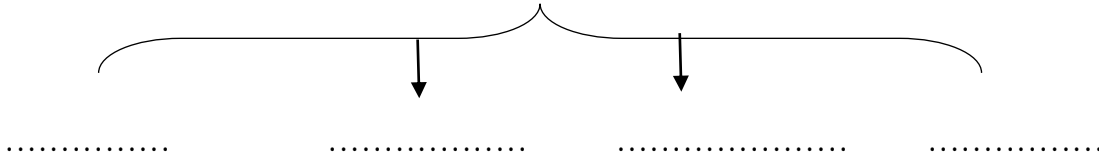
- ١- أكبر دول الوطن العربي سكاناً هي
- ٢- أصغر دول الوطن العربي سكاناً هي
- ٣- العام الميلادي الذي أُجري فيه أول تعداد للسكان في الكويت هو
- ٤- يبلغ معدل النمو السكاني السنوي في الوطن العربي حوالي
- ٥- الهجرة من القرى إلى المدن تسمى
- ٦- أولى الدول العربية في إنتاج الشعير تسمى
- ٧- أولى الدول العربية في إنتاج التمور تسمى
- ٨- أولى الدول العربية في إنتاج البن تسمى
- ٩- نسبة المساحة المزروعة في الوطن العربي من المساحة القابلة للزراعة تبلغ
- ١٠- قوى محركة للآلات وعنصر مهم للتقدم والتطور الاقتصادي تسمى
- ١١- أولى الدول العربية إنتاجاً للنفط تسمى
- ١٢- أولى الدول العربية إنتاجاً للغاز الطبيعي تسمى
- ١٣- أولى الدول العربية إنتاجاً للحديد تسمى
- ١٤- أولى الدول العربية إنتاجاً لكل من الفوسفات والنحاس والرصاص والمنجنيز تسمى

السؤال الثاني: صنف المحاصيل الزراعية التالية حسب الجدول :

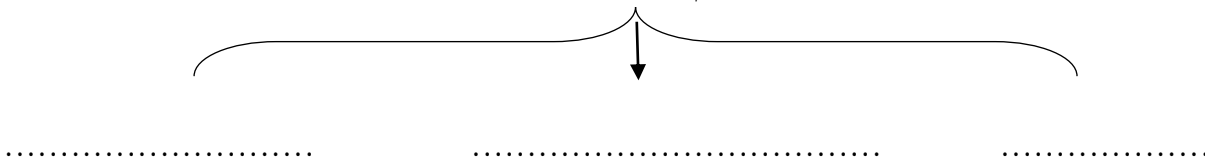
العنب -	القمح -	البن -	الموز
مصر	اليمن	الصومال	سوريا
.....

السؤال الثالث : أكمل المخططات السهمية :

المقومات الطبيعية للإنتاج الزراعي



أهم المحاصيل الزراعية



المقومات البشرية للصناعة





السؤال الرابع : أختَر الإجابة الصحيحة من بين الأقواس :

- ١- أصغر الدول العربية سكاناً هي
(البحرين - جزر القمر - قطر - عمان)
- ٢- أولى الدول العربية في إنتاج التمور هي
(الكويت - الإمارات - السعودية - قطر)
- ٣- نسبة المساحة المزروعة من مساحة الأراضي القابلة للزراعة يبلغ%
(٢٦ - ٣٦ - ٤٦ - ٥٦)
- ٤- أولى الدول إنتاجاً للأغنام تسمى
(المغرب - السودان - تونس - الجزائر)
- ٥- أولى الدول العربية في احتياطي النفط هي
(الكويت - البحرين - السعودية - الإمارات)

السؤال الخامس : فرق بين :

منظمة الأوبك	منظمة الأوبك	وجه المقارنة
.....	عام التأسيس
.....	المقر

السؤال السادس : عرف ما يلي

١. الطاقة :
٢. الغلات النقدية :
٣. النفط :
٤. الموارد الطبيعية :
٥. الكثافة السكانية :
٦. النمو السكاني :

السؤال السابع : علل ما يأتي

- ١- تمتع النفط العربي بمكانة مهمة على المستوى العالمي
.....
- ٢- تمثل الأغنام العربية مكاناً مهماً في الثروة الرعوية
.....
- ٣ - ارتفاع الكثافة السكانية في المناطق السهلية .
.....



٤- تركز زراعة الحمضيات والمواالح في حوض البحر المتوسط

.....

٥- عدم استغلال الأراضي الصالحة للزراعة في الوطن العربي

أ-.....

ب-.....

ج-.....

٦- يطلق على الغاز الطبيعي اسم الطاقة النظيفة

أ-.....

ب-.....

٧- امتلاك الصومال ٦,٦٪ من ثروة الوطن العربي من الإبل

.....

٨- تركز زراعة القطن في مصر

.....

٩- تحتل مصر المركز الأول في إنتاج الأسمك.

.....

السؤال الثامن : فرق بين كل مما يأتي حسب ما هو موضح بالجدول

الزيادة الطبيعية	الزيادة غير الطبيعية
.....

الموارد الطبيعية	الموارد البشرية
.....
.....

الصادرات	الواردات
.....
.....



السؤال التاسع : أكتب فيما يلي مما درست :-

١ - أهمية النفط والغاز الطبيعي في اقتصاد الدول العربية

- أ-
- ب-

٢ - المقومات البشرية للإنتاج الزراعي في الوطن العربي

- أ-
- ب-
- ج-

٣ - العقبات التي تواجه الإنتاج الزراعي

- أ-
- ب-
- ج-

٤ - أنواع الأسماك في الخليج العربي

-

٥ - أنواع الصناعة في الوطن العربي:

-
-
-
-
-
-
-

٦ - أهداف الصناعة البتروكيمياوية

-
-
-



السؤال العاشر : أكمل العبارات التالية بما يناسبها مما درست

١. الصناعات التي تهدف إلى تنقية الخامات المعدنية وتحويلها إلى صفائح صالحة لتنفيذ صناعات معدنية مختلفة تسمى الصناعات
٢. الصناعات التي تقوم علي تحويل المواد الأولية إلى سلع استهلاكية صالحة للاستعمال تسمى صناعات
٣. الصناعات التي تقوم علي تركيب وتجميع المواد المصنعة تسمى صناعات
٤. الصناعات التي تستخدم مواد أولية محلية وتعتمد علي الجهود البشري تسمى الصناعات
٥. الصناعات التي تعتمد على النفط والغاز الطبيعي تسمى الصناعات
٦. نسبة الصادرات بين الدول العربية تبلغ
٧. نسبة الواردات بين الدول العربية تبلغ
٨. الأسواق التي تحتل المكانة الأولى بالنسبة لتجارة الصادرات العربية هي الأسواق
٩. عدد الأنهار الدائمة الجريان في الوطن العربي تبلغ حوالي : نهرًا
١٠. أولى دول الوطن العربي في إنتاج مياه البحر المحلاة هي
١١. العام الميلادي الذي عقد فيه مؤتمر قمة الأرض في البرازيل هو
١٢. الدولة التي توجد بها محمية العرين تسمى
١٣. الدولة التي توجد بها محمية المها تسمى
١٤. الدولة التي يوجد بها محمية صباح الأحمد تسمى
١٥. العام الميلادي الذي تأسست فيه جامعة الدول العربية هو
١٦. انضمت الكويت إلى جامعة الدول العربية عام
١٧. الدولة التي عقد بها أكبر مؤتمر قمة إقتصادية عربية منذ نشأة الجامعة العربية حتي الآن تسمى
١٨. العام الميلادي الذي أعلن فيه عن قيام مجلس التعاون الخليجي هو
١٩. الطبقة التي تحمي الأرض من الإشعاعات فوق البنفسجية الضارة تسمى

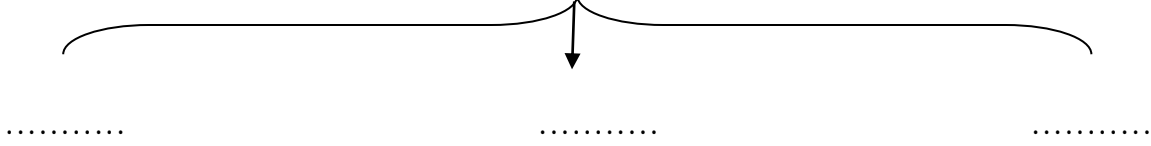


السؤال الحادي عشر : صنف الأنهار التالية حسب الدولة التي يوجد بها كل نهر
دجلة والفرات - العاصي - مجردة - الشليف - أم الربيع

الدولة	لبنان	المغرب	تونس	العراق	الجزائر

السؤال الثاني عشر : أكمل المخططات السهمية

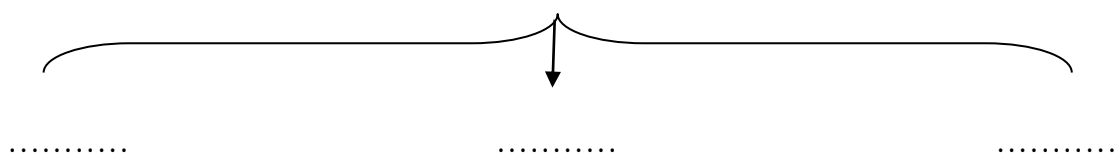
١- أنواع طرق النقل



٢- أسباب التصحر



٣- أنواع التنمية في الوطن العربي



السؤال الثالث عشر : أختَر الإجابة الصحيحة من بين البدائل التي تلي كل عبارة فيما يلي :-

١. العام الميلادي الذي تأسس فيه الصندوق الكويتي للتنمية الاقتصادية هو

(١٩٦١ - ١٩٦٢ - ١٩٦٣ - ١٩٦٤)

٢. المدينة العربية التي أعلن فيها رسمياً عن قيام جامعة الدول العربية هي

(الكويت - الرياض - الرباط - القاهرة)

٣. العام الميلادي الذي تأسس فيه صندوق أبو ظبي للإئماء الاقتصادي العربي هو

(١٩٧٠ - ١٩٧١ - ١٩٧٢ - ١٩٧٣)

٤. المدينة العربية التي أعلن فيها عن قيام مجلس التعاون الخليجي تسمى

(الرياض - الدوحة - أبو ظبي - الكويت)

٥. العام الذي تأسس فيه الصندوق السعودي للتنمية هو

(١٩٧١ - ١٩٧٢ - ١٩٧٣ - ١٩٧٤)



السؤال الرابع عشر : عرف ما يلي

١. الصناعات الاستخراجية :
٢. التبادل التجاري :
٣. التجارة البينية :
٤. التصحر :
٥. التلوث :
٦. التنمية :
٧. التنمية المستدامة :
٨. التضامن العربي :

السؤال الخامس عشر : علل لما يأتي

١. إنشاء الصندوق الكويتي للتنمية الاقتصادية العربية

-
٢. ضرورة نقل البضائع بوسائل حديثة ومتطورة
-
٣. الطرق البرية أكثر انتشاراً من السكك الحديدية
-
٤. قلة حجم النقل النهري بالنسبة لباقي وسائل النقل في الوطن العربي
-
٥. قلة التبادل التجاري بين دول الوطن العربي
-

السؤال السادس عشر : فرق بين كل مما يأتي حسب ما هو موضح بالجدول

طرق النقل البرية	طرق النقل المائية
الصناعات التحويلية	الصناعات الاستخراجية



الصناعات الحرفية	الصناعات التجميعية

السؤال السابع عشر : أكتب فيما يلي

١- طرق ووسائل علاج مشكلة التصحر

أ- ب -

٢- أسباب مشكلة التصحر أ-

ب-

٣- أسباب تدهور وفرة المياه في الوطن العربي أ-

ب-

٤- طرق المحافظة على الثروة المائية

أ- ب -

٥ - أهم التحديات التي تواجه مستقبل الوطن العربي

أ-

ب -

٦- أهداف التنمية البشرية

أ- ب -

٧- أهداف التنمية الاقتصادية

أ-

ب-

٨- مشكلات التنمية البشرية

أ-

ب-

٩- أهداف التنمية المستدامة

أ-

ب-

١٠- أهم المنظمات العربية التي اتخذت من الكويت مقراً لها

أ - ب - ج -



الإجابة

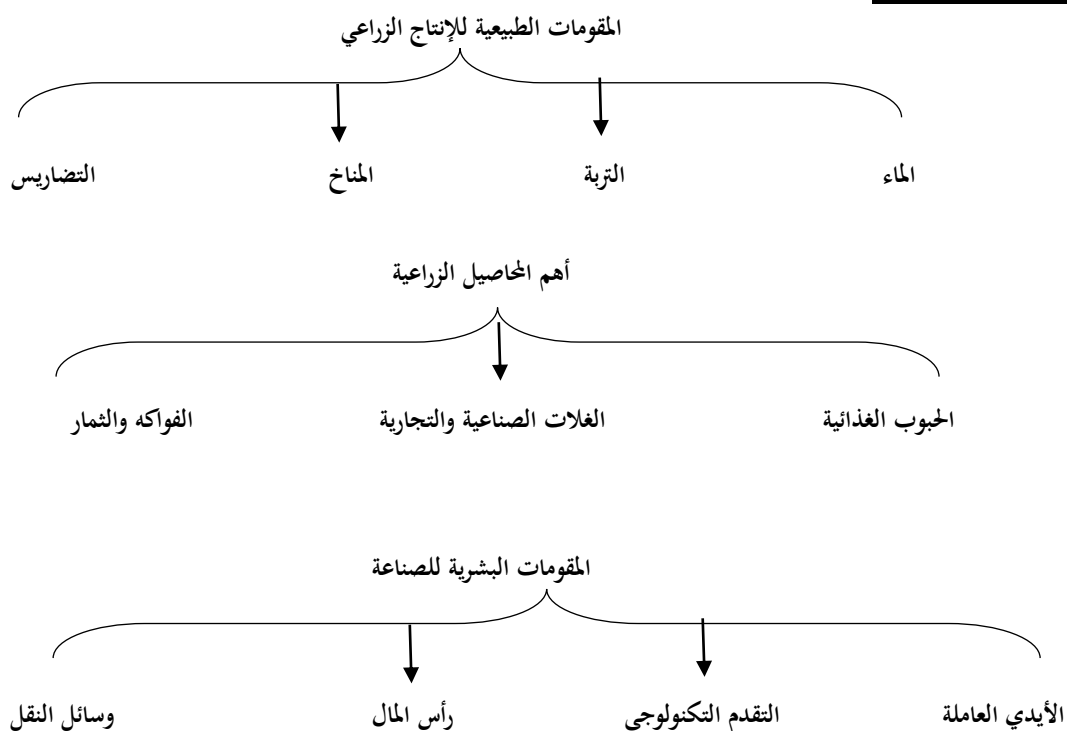
إجابة السؤال الأول

- ١ - مصر
- ٢ - جزر القمر
- ٣ - ١٩٥٧
- ٤ - ٢,٢٠ %
- ٥ - هجرة داخلية
- ٦ - المغرب
- ٧ - السعودية
- ٨ - اليمن
- ٩ - ٥٦ %
- ١٠ - الطاقة
- ١١ - السعودية
- ١٢ - قطر
- ١٣ - موريتانيا
- ١٤ - المغرب

إجابة السؤال الثاني:

العنب	-	القمح	-	البن	-	الموز
مصر		اليمن		الصومال		سوريا
القمح		البن		الموز		العنب

إجابة السؤال الثالث :





إجابة السؤال الرابع :

- ١- جزر القمر
- ٢- السعودية
- ٣- ٥٦
- ٤- السودان
- ٥- السعودية

إجابة السؤال الخامس :

منظمة الأوبك	منظمة الأوبك	وجه المقارنة
١٩٦٨	١٩٦٠م	عام التأسيس
الكويت	فينا	المقر

إجابة السؤال السادس

١. قوى محركة للآلات وعنصر مهم للتقدم والتطور الاقتصادي .
٢. هي الغلات التي تزرع بغرض الحصول على النقد .
٣. بقايا عضوية لنباتات وحيوانات ترسبت وتحولت بالضغط والحرارة إلى صورتها الحالية .
٤. هي الثروات التي منحها الله لإقليم ما دون أن يكون للإنسان دخل في وجودها .
٥. عدد السكان الكلي / المساحة المطلقة
٦. تزايد عدد السكان من عام لآخر

إجابة السؤال السابع

- ١ - لضخامة الإنتاج - الموقع المهم لحقول النفط - انخفاض تكلفة إنتاج البرميل الواحد - ارتفاع نسبة الاحتياطي .
- ٢ - الأكثر انتشارا - تتحمل الجفاف والانتقال - أهمية منتجاتها للسكان - مصدر للثروة القومية .
- ٣ - لسهولة التنقل والاستقرار .
- ٤ - بسبب توفر عناصر المناخ والتربة ووفرة المياه .
- ٥ - أ- قلة موارد المياه ب- قلة الأيدي العاملة ج- ارتفاع نسبة الملوحة في التربة د - الاعتماد على الأساليب التقليدية في الزراعة هـ - اعتماد بعض الأراضي الزراعية على الأمطار
- ٦ - أ- لا ينتج عن احتراقه ملوثات ب- يخلو من الكبريت والرصاص
- ٧ - بسبب فقر البيئة الطبيعية وملائمة المناخ لتربية الإبل .
- ٨ - بسبب توفر المياه والتربة الخصبة والمناخ المعتدل
- ٩ - لأنها تطل على مسطحين مائين البحر الأحمر والبحر المتوسط



إجابة السؤال الثامن :

الزيادة الطبيعية	الزيادة غير الطبيعية
الفرق بين المواليد و الوفيات	تكون بسبب الهجرة

الموارد الطبيعية	الموارد البشرية
هي الثروات التي منحها الله لإقليم ما دون أن يكون للإنسان دخل في وجودها	هي الموارد التي تتعلق بالسكان من حيث العدد والكثافة والتوزيع

الصادرات	الواردات
هي تلك البضائع والسلع التي تبيعها دولنا في الخارج	هي تلك البضائع والسلع التي تشتريها دولنا من الخارج

إجابة السؤال التاسع :-

- ١- أ- مصدر للثروة القومية ب- مصدر للطاقة
- ٢- أ- جهد الإنسان ب- التقدم التكنولوجي ج- رأس المال والأسواق
- ٣- أ طرق الزراعة البدائية ب- جفاف التربة ج- جني المحاصيل بطرق تقليدية
- ٤ - - الماهور - الزبيدي - الميد - النقرور - الروبيان
- ٥ - • الصناعات الاستخراجية • الصناعات التعدينية • الصناعات الغذائية • الصناعات التحويلية
- الصناعات التجميعية • الصناعات الحرفية • الصناعات البتروكيماوية
- ٦ - • تنوع مصادر الدخل • توفير المواد الأولية للصناعات التحويلية • تطوير الصناعة

إجابة السؤال العاشر

١. التعدينية.

٢. صناعات تحويلية..

٣. التجميعية

٤. الحرفية

٥. البتروكيماوية...

٦. ٨٪

٧. ٧,٤٪

٨. الأوروبية

٩. ٥٠ نغراً



١٠. الكويت

١١. ١٩٩٢

١٢. البحرين

١٣. عُمان

١٤. الكويت

١٥. ١٩٤٥م

١٦. ١٩٦١

١٧. الكويت

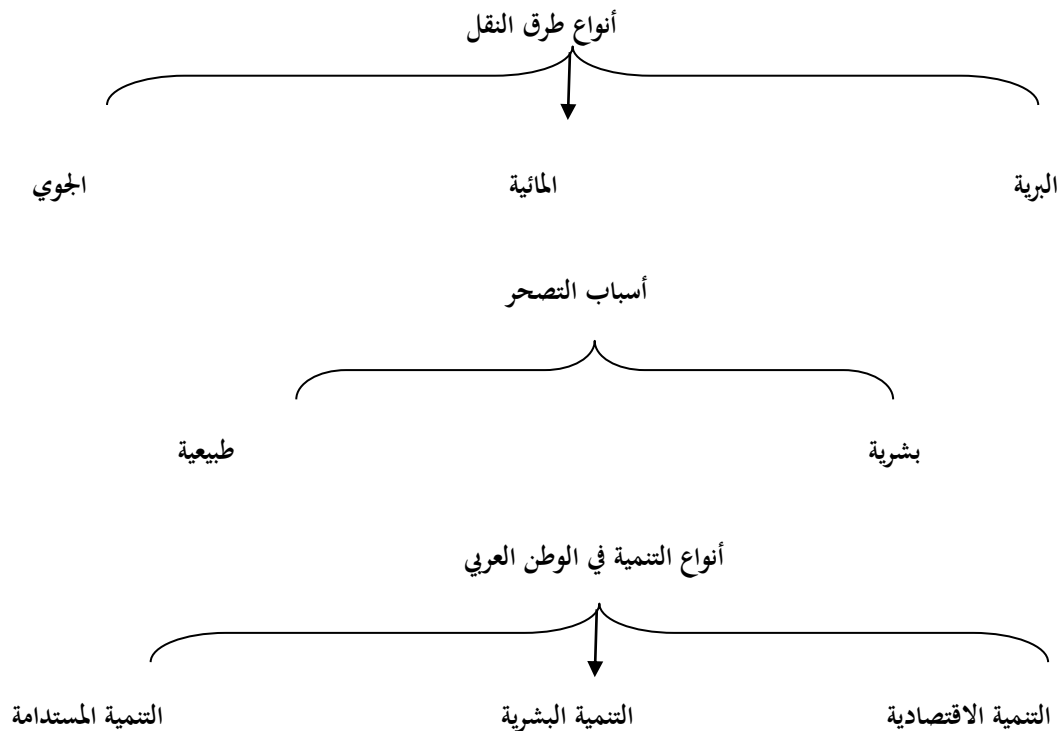
١٨. ١٩٨١

١٩. الأوزون

إجابة السؤال الحادي عشر :

الدولة	لبنان	المغرب	تونس	العراق	الجزائر
النهر	العاصي	أم الربيع	مجرده	دجلة والفرات	الشليف

إجابة السؤال الثاني عشر :





إجابة السؤال الثالث عشر :

(١) ١٩٦١

(٢) القاهرة

(٣) ١٩٧١

(٤) أبو ظبي

(٥) ١٩٧٤

إجابة السؤال الرابع عشر :

١. استخراج مصادر الطاقة والخامات المعدنية من باطن الأرض

٢. عملية الاستيراد والتصدير بين الدول العربية

٣. التبادل التجاري بين الدول العربية

٤. زحف الرمال الصحراوية على الأراضي الجافة وشبه الجافة

٥. الضرر الذي يلحق بالتربة والهواء والماء

٦. التطور والتطوير وتتطلب التخطيط والمشاركة من الجميع

٧. برامج تحسين نوعية الحياة

٨. هو العمل على توثيق الصلات بين الدول والشعوب العربية

السؤال الخامس عشر: علل لما يأتي

١. لمساندة الجهود الإنمائية في الدول العربية

٢. لضمان الصلاحية وللحاجة المستمرة واليومية لبعض المواد

٣. لقللة تكلفة إنشاء الطرق البرية وسهولتها عن السكك الحديدية

٤. لقللة الأضرار الكبيرة في الوطن العربي

٥. لتشابه السلع المنتجة بينها



إجابة السؤال السادس عشر:

طرق النقل البرية	طرق النقل المائية
تتمثل في الطرق البرية للسيارات والشاحنات والسكك الحديدية للقطارات	تتمثل في النقل النهري والبحري

الصناعات التحويلية	الصناعات الاستخراجية
تحويل المواد الأولية معدنية ونباتية إلى سلع استهلاكية	استخراج مصادر الطاقة والمعادن من باطن الأرض

الصناعات التجميعية	الصناعات الحرفية
عملية تركيب وجمع المواد المصنعة لنحصل على سلع متنوعة	تستخدم مواد أولية وتعتمد على المجهود البشري

إجابة السؤال السابع عشر :

١. أ- تشجير المناطق المعرضة للتصحّر ب- عمل مصدات للرياح
٢. أ- بشرية ب- طبيعية
٣. أ- النمو السريع للسكان ب- الطرق التقليدية في استغلال المياه
٤. أ- ترشيد استهلاك المياه ب- إقامة البحيرات والسدود لجمع مياه الأمطار
٥. أ- النمو السكاني ب- ازدياد معدلات الجريمة
٦. أ- الاهتمام بالطفل العربي ب- توفير فرص العمل
٧. أ - استخدام العلم في زيادة الإنتاج ب - تحقيق التكامل بين الدول العربية
٨. أ- مشكلة الأمية ب- نقص مشاركة المرأة
٩. أ- تأمين مستوى معيشي لائق للمواطنين ب- حماية الأمن المائي ج- إيجاد فرص عمل
١٠. أ - الأوابك ب- المنظمة العربية للتنمية الزراعية ج - المنظمة العربية للتربية والعلوم والثقافة (ألسكو)



مدرسة التميز النموذجية
(ابتدائي - متوسط - ثانوي)
الجهاز الفني التربوي

منصات التميز التعليمية

لزيارة منصة التميز التعليمية في اليوتيوب امسح الباركود التالي :



لزيارة منصة التميز التعليمية في تليجرام امسح الباركود الخاص بقناة كل فصل مما يلي :



الصف الرابع



الصف الثالث



الصف الثاني



الصف الأول



الصف التاسع



الصف الثامن



الصف السابع



الصف السادس



الصف الخامس



الصف الثاني عشر
أدبي



الصف الثاني عشر
علمي



الصف الحادي عشر
علمي



الصف الحادي عشر
أدبي



الصف العاشر



لزيارة صفحتنا في تويتر

لزيارة صفحتنا في الإنستقرام

عنواننا : خيطان - ق ٤ - ش ١٠٠