



تدريبات علاجية (الاجتماعيات)

للمصف الرابع الابتدائي

منتصف الفصل الدراسي الثاني

2025 – 2026 م

هنا باركود الإجابة





1- صل بين القائمة (أ) وما يناسبها من القائمة (ب) في الجمل الآتية :-

الرقم	(أ)	(ب)
أ-	تقع مزرعة الابقار في دولة قطر بمنطقة.	■ أم قرن
ب-	توجد مزرعة الدواجن في دولة قطر بمدينة.	■ الركية
ج-	يقع مصنع الأسمدة في دولة قطر بمدينة.	■ مسعيد
		■ دخان

2- اذكر أهم صادرات دولة قطر.

أ-

ب-

3- بم تفسر: تركز الزراعة في منطقة الروضات.

أ-

ب-



ما النتائج المترتبة على إنهاء معاهدة الحماية.

1.

2.

2- وضح أهمية الأنشطة الاقتصادية في دولة قطر.

1 2

3 4

3- عدد صفات الشيخ علي بن عبدالله ال ثاني

1 2 3

4 5 6

7

- عدد اعمال الشيخ علي بن عبدالله ال ثاني.

1

2

3



ما إنجازات الشيخ خليفة بن حمد ال ثاني .

..... -1

..... -2

..... -3

..... -4

اذكر أمثلة على الموارد الغير متجددة.

..... -1

..... -2

..... -3

عدد أنواع السياحة في دولة قطر

..... -1

..... -2

..... -3



-اختر الإجابة الصحيحة بوضع علامة × في المربع المقابل:-

"الاستهلاك المفرط للموارد الطبيعية" يشير التعريف السابق الى مفهوم:

الموارد الطبيعية .

الموارد المتجددة.

النشاط الاقتصادي.

استنزاف الموارد الطبيعية .

أ

أ

ب

ج

د

أنشأ الشيخ علي بن عبدالله آل ثاني مستشفى:

الخور.

الوكرة.

الرميلة.

الريان القديم.

ج

أ

ب

ج

د

تشتهر مدينة أم باب بصناعة :

الاسمنت

تكرير النفط

الحديد والصلب

إسالة الغاز الطبيعي

أ

أ

ب

ج

د



أي من الآتي يعد محاصيل الزراعة المكشوفة؟

أ

ففل.

أ

خيار.

ب

طماطم.

ج

الاعلاف.

د

"عملية تبادل المنتجات الاقتصادية عن طريق البيع والشراء" يشير التعريف
السابق الى مفهوم:
الصناعة.

ب

السياحة.

أ

التجارة.

ب

الزراعة.

ج

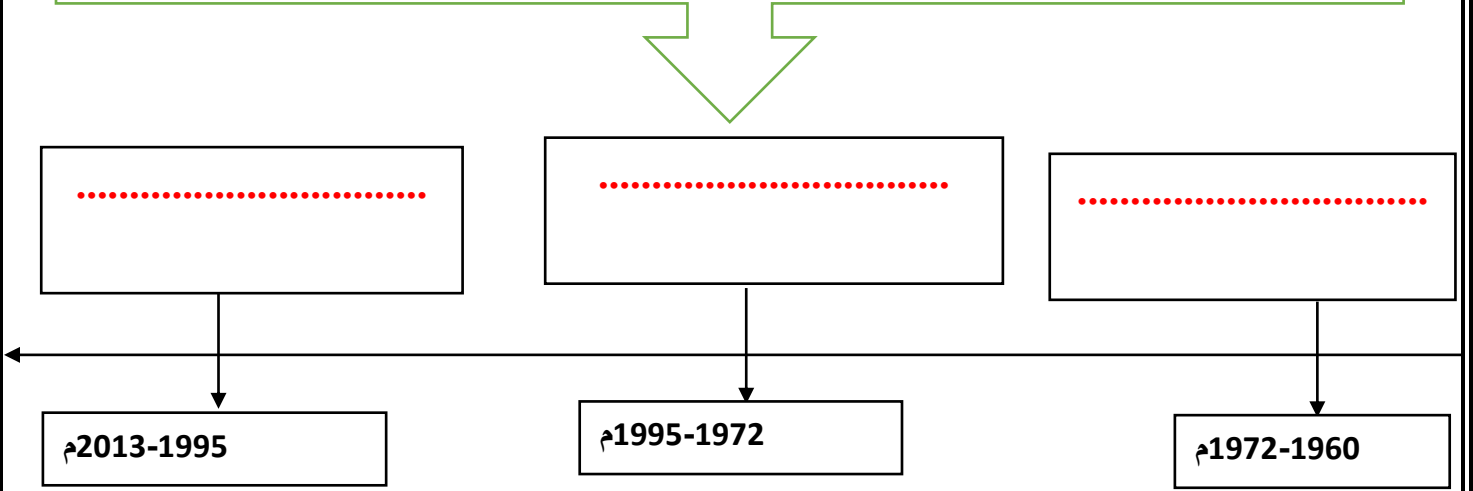
د

س	أي مما يلي يعد من أمثله الموارد غير المتجددة؟
<input type="checkbox"/>	البتروول .
<input type="checkbox"/>	المياه .
<input type="checkbox"/>	الرياح .
<input type="checkbox"/>	الطاقة الشمسية .



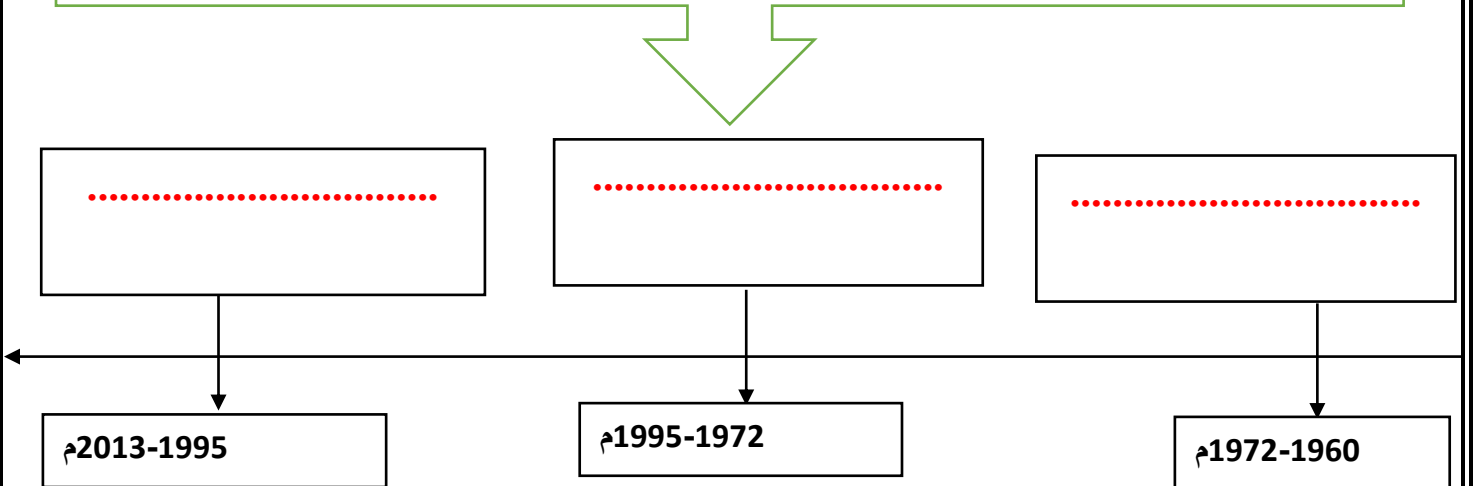
رتب على الخط الزمني حكام دولة قطر بحسب فترات الحكم تسلسل زمني صحيح.

(الشيخ احمد بن علي آل ثاني -الشيخ علي بن عبدالله آل ثاني - الشيخ خليفة بن حمد ال ثاني)



رتب على الخط الزمني حكام دولة قطر بحسب فترات الحكم تسلسل زمني صحيح.

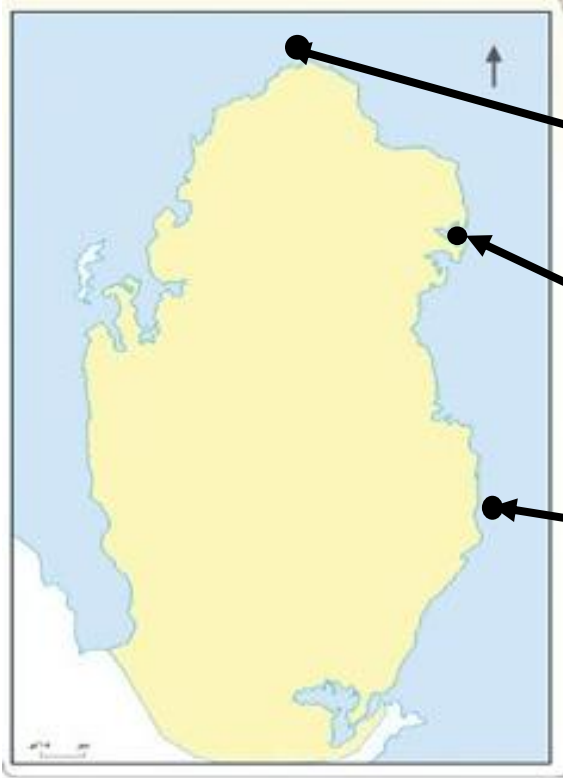
(الشيخ خليفة بن حمد آل ثاني - الشيخ أحمد بن علي ال ثاني - الشيخ حمد بن خليفة ال ثاني)





1- حدد على خريطة دولة قطر أمامك موانئ الصيد بكتابة الأسماء المشار إليها
بالأسهم في المربعات المخصصة لذلك.

(الوكرة - الرويس - الذخيرة)





ضع علامة (✓) أو علامة (x) أمام الجمل الآتية :-

- أ- أنشأ الشيخ علي بن عبدالله آل ثاني مستشفى الرميثة. () .
- ب- ولد الشيخ أحمد بن علي آل ثاني في الدوحة. () .
- ج- تم تصدير أول شحنة بترول من ميناء دخان. () .
- د- انشئت اول مدرسة نظامية في عهد الشيخ أحمد بن علي آل ثاني. () .
- هـ- يعد من الإنجازات السياسية للشيخ خليفة بن حمد انشاء جامعة قطر. () .
- و- تولى الشيخ خليفة بن حمد آل ثاني الحكم عام 1972م. () .

2- صنف إنجازات الشيخ خليفة بن حمد آل ثاني كما في الجدول التالي:

(انشاء مؤسسة قطر للبترول – إنشاء جامعة قطر – تأسيس مستشفى حمد)

الصحية	الاقتصادية	التعليمية
.....